

きょうざい  
教材おきば の

これだけ、あんしん安心

さんすう  
算数ドリル

1 - 0 2

Light

小学1年生

もくじ

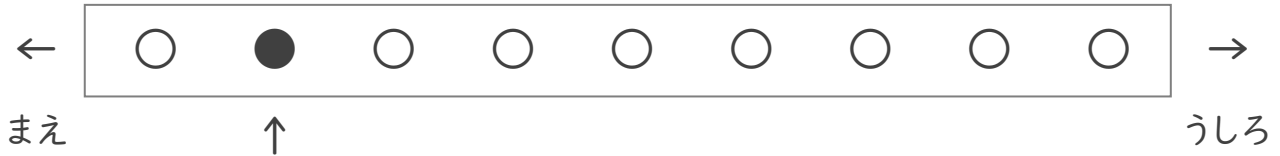
①	なんばんめ	1 ページ
②	いくつといくつ	1 ページ
③	10 までのたしざんとひきざん	1 ページ
④	かぞえてみよう どちらがおおい	1 ページ
⑤	かぞえよう 10 より おおきいかず	1 ページ
⑥	なんじ なんじはん	1 ページ
⑦	ながさをくらべる	1 ページ
⑧	3 つのかずのけいさん(1)	1 ページ
⑨	3 つのかずのけいさん(2)	1 ページ
⑩	たしざん(2)	1 ページ
⑪	たしざんを つかって あんごうを とこう	2 ページ
⑫	てんを つないで	1 ページ
⑬	いくつでしょう	1 ページ
	合計	14 ページ

# なんばんめ

ねん くみ  
なまえ

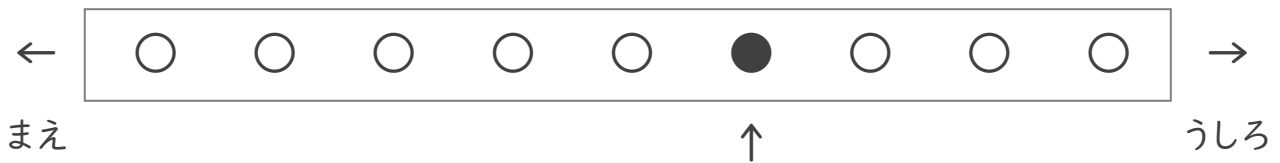
/ 4

① くろいまる(●)はうしろから なんばんめですか。



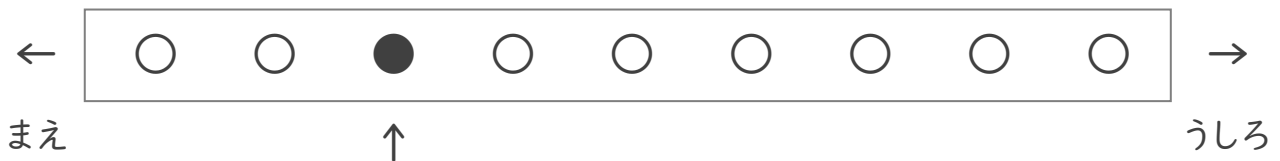
ばんめ

② くろいまる(●)はまえから なんばんめですか。



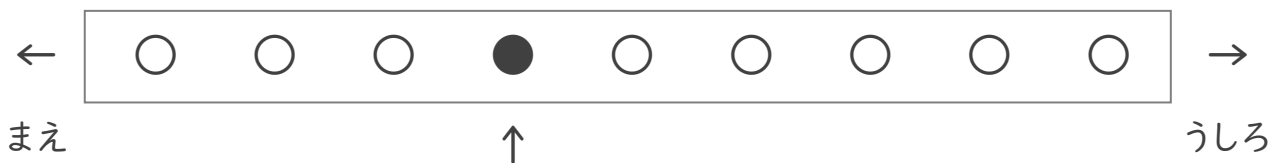
ばんめ

③ くろいまる(●)はまえから なんばんめですか。



ばんめ

④ くろいまる(●)はうしろから なんばんめですか。



ばんめ

# いくつといくつ

ねん くみ  
なまえ

/14

■  にはいるかずをかきましょう。

① 9 は 2 と

⑧ 10 は 9 と

② 8 は 2 と

⑨ 5 は 4 と

③ 8 は 3 と

⑩ 6 は 4 と

④ 2 は 1 と

⑪ 6 は 5 と

⑤ 10 は 3 と

⑫ 10 は 1 と

⑥ 9 は 6 と

⑬ 6 は 2 と

⑦ 5 は 2 と

⑭ 7 は 4 と

■ つぎの たしざん や ひきざん をしましょう。

$① \quad 1 + 4 = \square$

$② \quad 4 - 2 = \square$

$③ \quad 3 + 7 = \square$

$④ \quad 9 - 3 = \square$

$⑤ \quad 6 - 4 = \square$

$⑥ \quad 1 + 5 = \square$

$⑦ \quad 8 - 7 = \square$

$⑧ \quad 3 + 4 = \square$

$⑨ \quad 6 + 3 = \square$

$⑩ \quad 4 - 1 = \square$

$⑪ \quad 3 + 5 = \square$

$⑫ \quad 8 - 4 = \square$

$⑬ \quad 5 + 4 = \square$

$⑭ \quad 10 - 6 = \square$

# かずしらべ

ねん くみ  
なまえ

/ 9

■ かずをかぞえましょう。

①

	★		☆	☆
★			★	
★	★	☆		
		★		
☆		☆	☆	★

★ のかず

☆ のかず

おおいほうにまるをつけましょう。

( ★ ) ( ☆ )

②

■	■		□	□
■	■	□		□
□			■	□
		■	□	■
□		■		□

■ のかず

□ のかず

おおいほうにまるをつけましょう。

( ■ ) ( □ )

③

◇	◆	◆	◆	
		◇	◆	◆
	◆	◇	◆	◇
◇	◇	◆		◆
◇	◇	◇	◇	

◆ のかず

◇ のかず

おおいほうにまるをつけましょう。

( ◆ ) ( ◇ )


# かぞえよう

ねん くみ  
なまえ

/ 3


まる(●)のかずをかぞえましょう。

①




12

②



18

③



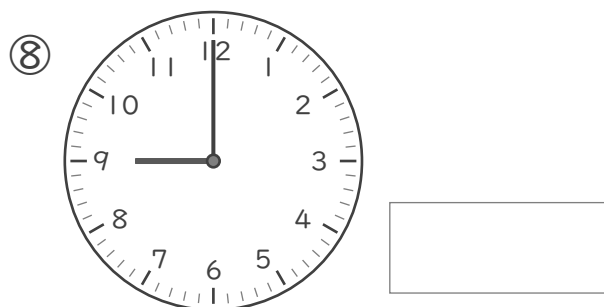

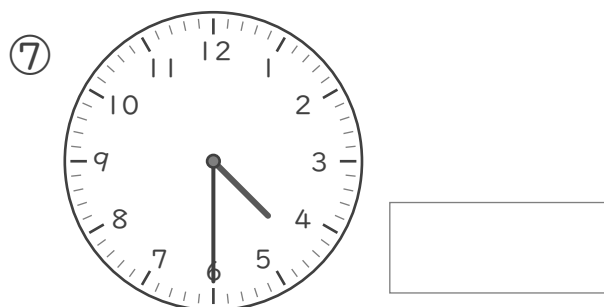





20

# なんじ なんじはん

ねん ぐみ  
なまえ

/ 8

■ とけいを よみましょう。



# おおきさくらべ

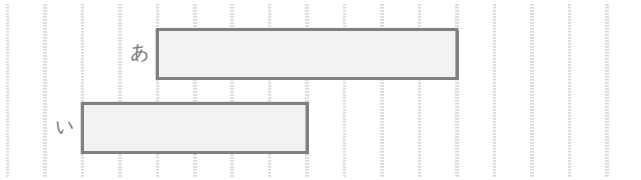
ねん くみ

なまえ

/ 7

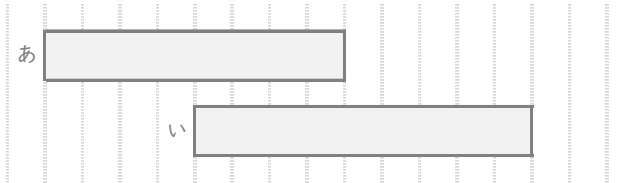
■ あといのりぼんはどちらがながいですか。

①



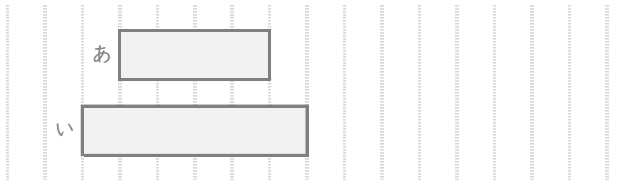
ながいほう

②



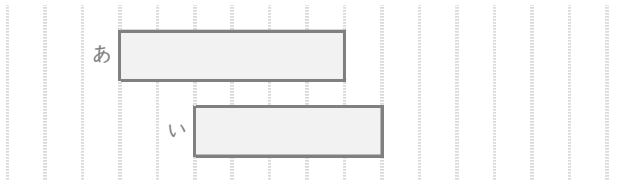
ながいほう

③



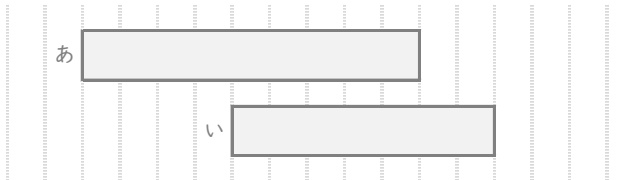
ながいほう

④



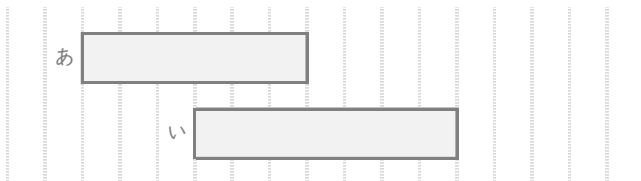
ながいほう

⑤



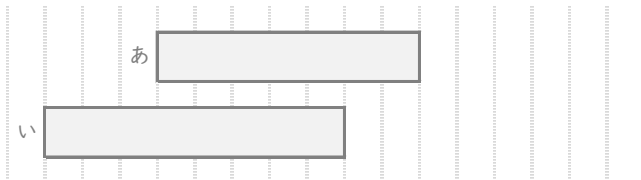
ながいほう

⑥



ながいほう

⑦



ながいほう



# 3つのかずの けいさん(1)

ねん くみ  
なまえ

/10

■ つぎのけいさんをしましょう。

①  $9 - 4 - 4 =$

②  $5 - 1 - 1 =$

③  $3 - 1 - 1 =$

④  $14 - 4 - 2 =$

⑤  $10 - 1 - 7 =$

⑥  $5 - 3 - 1 =$

⑦  $12 - 2 - 1 =$

⑧  $16 - 6 - 5 =$

⑨  $9 - 3 - 2 =$

⑩  $10 - 4 - 2 =$

# 3つのかずの けいさん(2)

ねん くみ  
なまえ

/10

■ つぎのけいさんをしましょう。

①  $7 - 3 + 6 =$

②  $9 - 6 + 4 =$

③  $13 - 3 + 7 =$

④  $19 - 9 + 9 =$

⑤  $15 - 5 + 5 =$

⑥  $9 - 2 + 2 =$

⑦  $6 - 4 + 1 =$

⑧  $10 - 7 + 3 =$

⑨  $10 - 6 + 3 =$

⑩  $9 - 7 + 8 =$

# たしざん

ねん くみ  
なまえ

/14

■ つぎのたしざんをしましょう。

$① \quad 3 + 9 = \square$

$② \quad 6 + 6 = \square$

$③ \quad 4 + 7 = \square$

$④ \quad 5 + 9 = \square$

$⑤ \quad 4 + 9 = \square$

$⑥ \quad 9 + 8 = \square$

$⑦ \quad 4 + 8 = \square$

$⑧ \quad 7 + 8 = \square$

$⑨ \quad 8 + 3 = \square$

$⑩ \quad 9 + 7 = \square$

$⑪ \quad 6 + 7 = \square$

$⑫ \quad 8 + 8 = \square$

$⑬ \quad 7 + 7 = \square$

$⑭ \quad 9 + 9 = \square$

# たしざんをつかって

ねん くみ  
なまえ

/ 6

■ たしざんをつかって あんごうを ときましょう。

①

$8+6$	$9+8$	$4+8$	$3+8$	$10+8$	$10+9$	$9+4$	$10+10$

11.ち      12.だ      13.そ      14.さ      15.ふ  
16.ぺ      17.か      18.た      19.い      20.う

②

$6+6$	$10+10$	$9+7$	$8+10$	$7+6$	$9+10$	$8+9$	$7+4$

11.ん      12.な      13.ふ      14.え      15.た  
16.に      17.さ      18.わ      19.じ      20.か

③

$8+9$	$7+8$	$9+9$	$10+9$	$9+4$	$8+3$	$9+7$	$8+6$

11.し      12.ひ      13.け      14.お      15.い  
16.ご      17.か      18.だ      19.ん      20.こ

# たしざんをつかって

ねん くみ  
なまえ

/ 6

■ たしざんをつかって あんごうを ときましょう。

①

$9+10$	$8+9$	$8+10$	$9+5$

$8+3$	$8+8$	$7+6$	$9+3$

11. や      12. も      13. い      14. <      15. ひ  
16. き      17. い      18. い      19. た      20. い

②

$7+8$	$9+3$	$8+9$	$10+10$

$3+8$	$4+9$	$5+9$	$7+9$

11. せ      12. <      13. ん      14. せ      15. ふ  
16. い      17. ろ      18. お      19. た      20. う

③

$10+10$	$6+6$	$9+8$	$9+7$

$6+8$	$10+9$	$5+8$	$3+8$

11. か      12. ぎ      13. い      14. か      15. は  
16. す      17. り      18. た      19. て      20. い

# かたちづくり


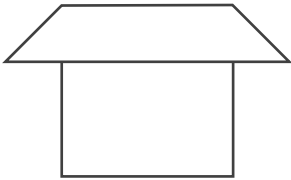
ねん くみ

なまえ


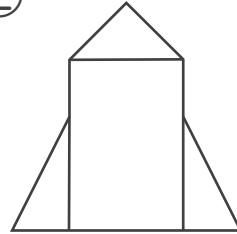
/ 4

■ てんを せんで つないで おてほんの かたちを つくりましょう。


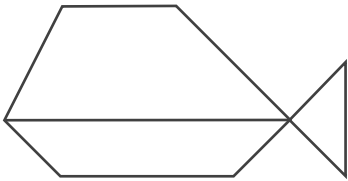
①




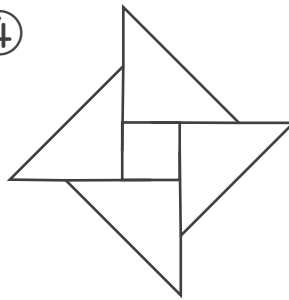
②



③



④



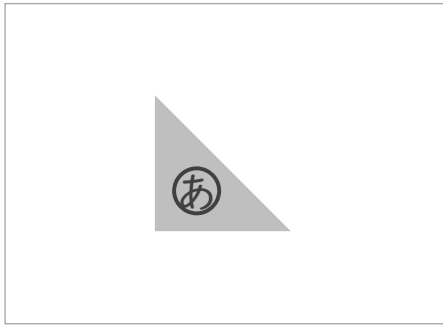
# かたちづくり

ねん くみ

なまえ

/ 5


■ つぎの かたちをつくるには、**あ**の かたちが いくつ いらいますか。



①



②




③



④



⑤

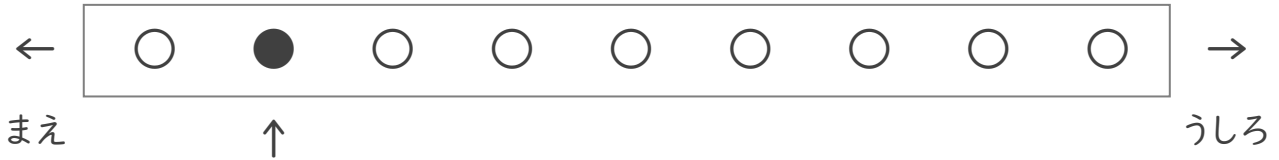


# なんばんめ

ねん くみ  
なまえ

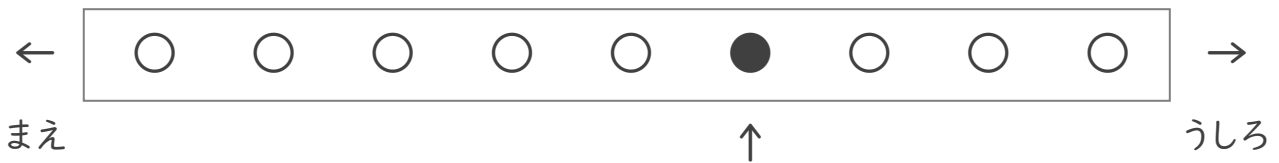
/ 4

① くろいまる(●)はうしろから なんばんめですか。



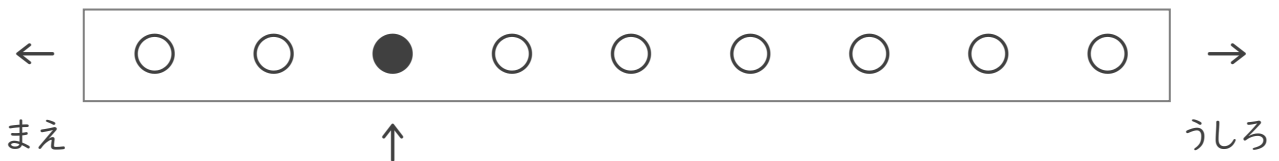
8 ばんめ

② くろいまる(●)はまえから なんばんめですか。



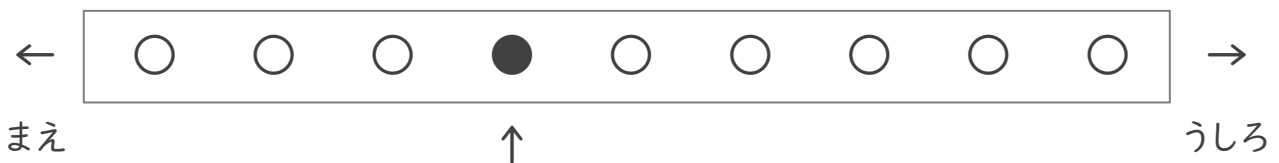
6 ばんめ

③ くろいまる(●)はまえから なんばんめですか。



3 ばんめ

④ くろいまる(●)はうしろから なんばんめですか。



6 ばんめ



# いくつといくつ

ねん くみ  
なまえ

/14

■  にはいるかずをかきましょう。

① 9 は 2 と 7

⑧ 10 は 9 と 1

② 8 は 2 と 6

⑨ 5 は 4 と 1

③ 8 は 3 と 5

⑩ 6 は 4 と 2

④ 2 は 1 と 1

⑪ 6 は 5 と 1

⑤ 10 は 3 と 7

⑫ 10 は 1 と 9

⑥ 9 は 6 と 3

⑬ 6 は 2 と 4

⑦ 5 は 2 と 3

⑭ 7 は 4 と 3

■ つぎの たしざん や ひきざん をしましょう。

$① \quad 1 + 4 = 5$

$② \quad 4 - 2 = 2$

$③ \quad 3 + 7 = 10$

$④ \quad 9 - 3 = 6$

$⑤ \quad 6 - 4 = 2$

$⑥ \quad 1 + 5 = 6$

$⑦ \quad 8 - 7 = 1$

$⑧ \quad 3 + 4 = 7$

$⑨ \quad 6 + 3 = 9$

$⑩ \quad 4 - 1 = 3$

$⑪ \quad 3 + 5 = 8$

$⑫ \quad 8 - 4 = 4$

$⑬ \quad 5 + 4 = 9$

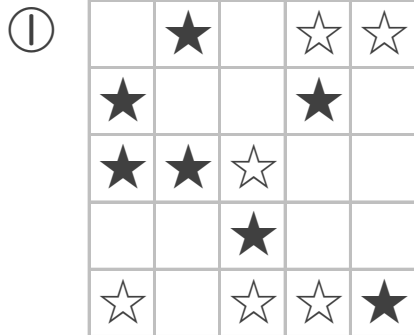
$⑭ \quad 10 - 6 = 4$

# かずしらべ

ねん くみ  
なまえ

/ 9

■ かずをかぞえましょう。



★ のかず

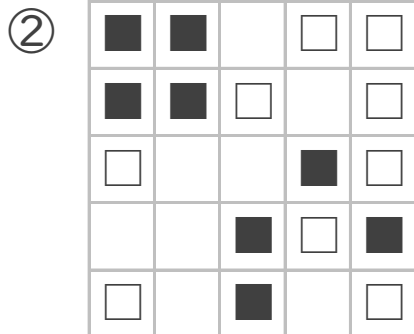
7 こ

☆ のかず

6 こ

おおいほうにまるをつけましょう。

(  ) (  )



■ のかず

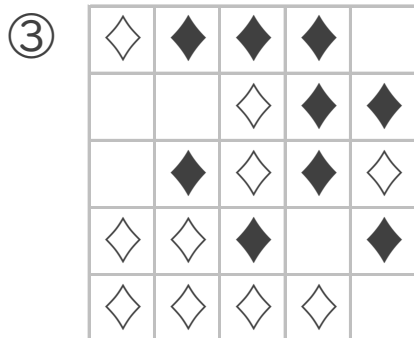
8 こ

□ のかず

9 こ

おおいほうにまるをつけましょう。

(  ) (  )



◆ のかず

9 こ

◇ のかず

10 こ

おおいほうにまるをつけましょう。

(  ) (  )



# かぞえよう

ねん くみ  
なまえ


/ 3

まる(●)のかずをかぞえましょう。



①



②



③

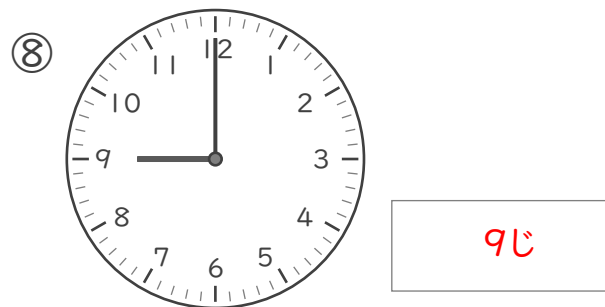



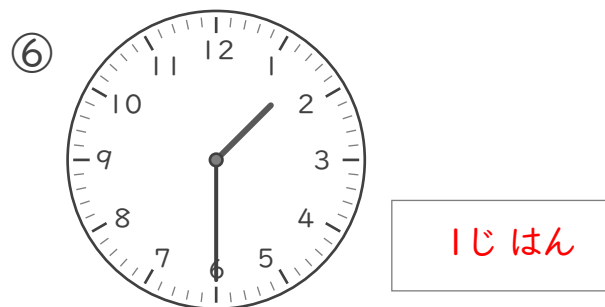

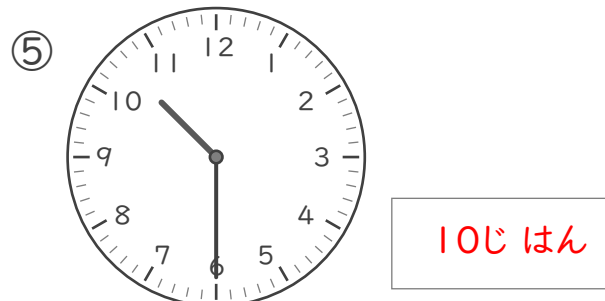



# なんじ なんじはん

ねん ぐみ  
なまえ

/ 8

■ とけいを よみましょう。



# おおきさくらべ

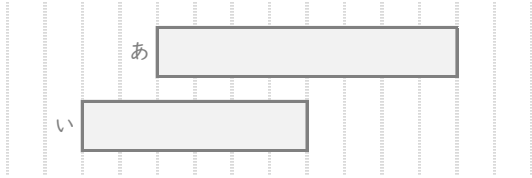
ねん くみ

なまえ

/ 7

■ あといのりぼんはどちらがながいですか。

①



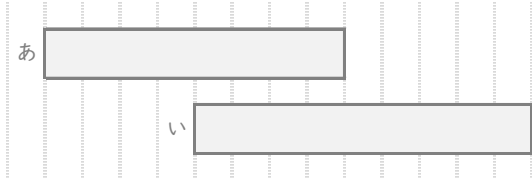
← 8 めもり

← 6 めもり

ながいほう

あ

②



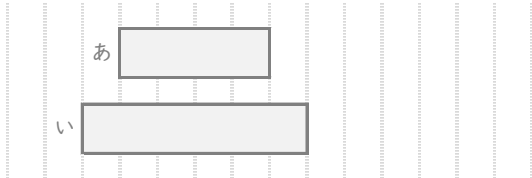
← 8 めもり

← 9 めもり

ながいほう

い

③



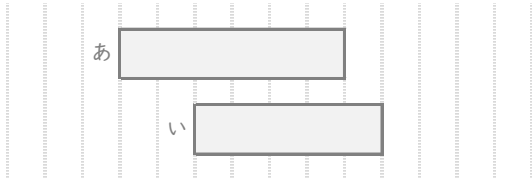
← 4 めもり

← 6 めもり

ながいほう

い

④



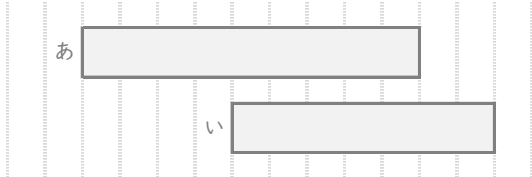
← 6 めもり

← 5 めもり

ながいほう

あ

⑤



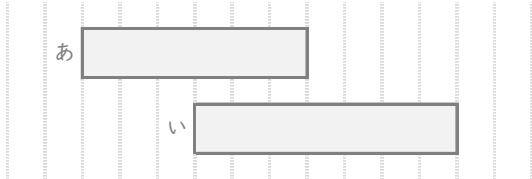
← 9 めもり

← 7 めもり

ながいほう

あ

⑥



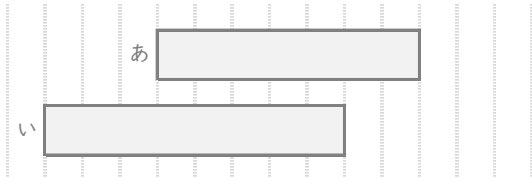
← 6 めもり

← 7 めもり

ながいほう

い

⑦



← 7 めもり

← 8 めもり

ながいほう

い

# 3つのかずの けいさん(1)

ねん くみ  
なまえ

/10

■ つぎのけいさんをしましょう。

$① \quad 9 - 4 - 4 =$

1

$② \quad 5 - 1 - 1 =$

3

$③ \quad 3 - 1 - 1 =$

1

$④ \quad 14 - 4 - 2 =$

8

$⑤ \quad 10 - 1 - 7 =$

2

$⑥ \quad 5 - 3 - 1 =$

1

$⑦ \quad 12 - 2 - 1 =$

9

$⑧ \quad 16 - 6 - 5 =$

5

$⑨ \quad 9 - 3 - 2 =$

4

$⑩ \quad 10 - 4 - 2 =$

4

# 3つのかずの けいさん(2)

ねん くみ  
なまえ

/10

■ つぎのけいさんをしましょう。

$① \quad 7 - 3 + 6 =$

10

$② \quad 9 - 6 + 4 =$

7

$③ \quad 13 - 3 + 7 =$

17

$④ \quad 19 - 9 + 9 =$

19

$⑤ \quad 15 - 5 + 5 =$

15

$⑥ \quad 9 - 2 + 2 =$

9

$⑦ \quad 6 - 4 + 1 =$

3

$⑧ \quad 10 - 7 + 3 =$

6

$⑨ \quad 10 - 6 + 3 =$

7

$⑩ \quad 9 - 7 + 8 =$

10



# たしざん

ねん くみ  
なまえ

/14

■ つぎのたしざんをしましょう。

$① \quad 3 + 9 = 12$

$② \quad 6 + 6 = 12$

$③ \quad 4 + 7 = 11$

$④ \quad 5 + 9 = 14$

$⑤ \quad 4 + 9 = 13$

$⑥ \quad 9 + 8 = 17$

$⑦ \quad 4 + 8 = 12$

$⑧ \quad 7 + 8 = 15$

$⑨ \quad 8 + 3 = 11$

$⑩ \quad 9 + 7 = 16$

$⑪ \quad 6 + 7 = 13$

$⑫ \quad 8 + 8 = 16$

$⑬ \quad 7 + 7 = 14$

$⑭ \quad 9 + 9 = 18$

# たしざんをつかって

ねん くみ  
なまえ

/ 6

■ たしざんをつかって あんごうを ときましょう。

①

$8+6$	$9+8$	$4+8$	$3+8$
さ	か	だ	ち

$10+8$	$10+9$	$9+4$	$10+10$
た	い	そ	う

11. ち      12. だ      13. そ      14. さ      15. ふ  
16. ペ      17. か      18. た      19. い      20. う

②

$6+6$	$10+10$	$9+7$	$8+10$
な	か	に	わ

$7+6$	$9+10$	$8+9$	$7+4$
ふ	じ	さ	ん

11. ん      12. な      13. ふ      14. え      15. た  
16. に      17. さ      18. わ      19. じ      20. か

③

$8+9$	$7+8$	$9+9$	$10+9$
か	い	だ	ん

$9+4$	$8+3$	$9+7$	$8+6$
け	し	ご	む

11. し      12. ひ      13. け      14. む      15. い  
16. ご      17. か      18. だ      19. ん      20. こ

# たしざんをつかって

ねん くみ  
なまえ

/ 6

■ たしざんをつかって あんごうを ときましょう。

①

$9+10$	$8+9$	$8+10$	$9+5$	$8+3$	$8+8$	$7+6$	$9+3$
た	い	い	く	や	き	い	も

11. や    12. も    13. い    14. く    15. ひ  
16. き    17. い    18. い    19. た    20. い

②

$7+8$	$9+3$	$8+9$	$10+10$	$3+8$	$4+9$	$5+9$	$7+9$
ふ	く	ろ	う	せ	ん	せ	い

11. せ    12. く    13. ん    14. せ    15. ふ  
16. い    17. ろ    18. お    19. た    20. う

③

$10+10$	$6+6$	$9+8$	$9+7$	$6+8$	$10+9$	$5+8$	$3+8$
い	ぎ	り	す	か	て	い	か

11. か    12. ぎ    13. い    14. か    15. は  
16. す    17. り    18. た    19. て    20. い

# かたちづくり

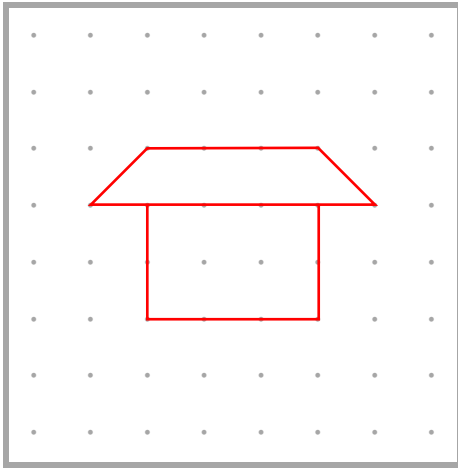
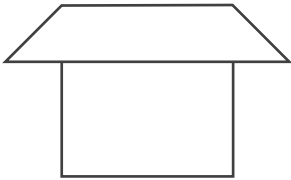
ねん くみ

なまえ

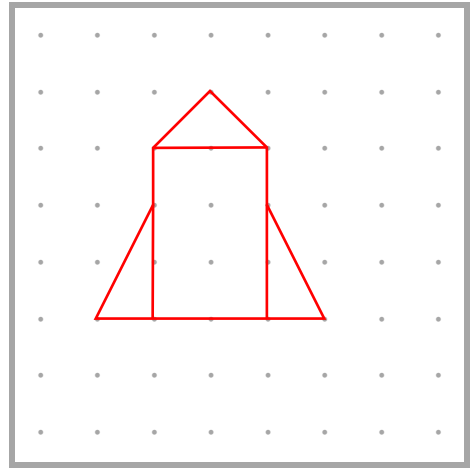
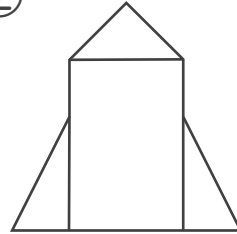
/ 4

■ てんを せんで つないで おてほんの かたちを つくりましょう。

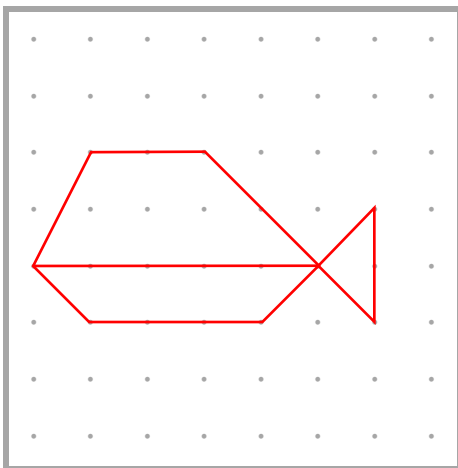
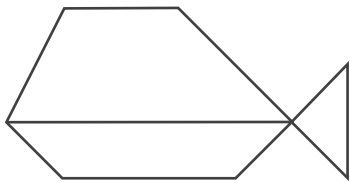
①



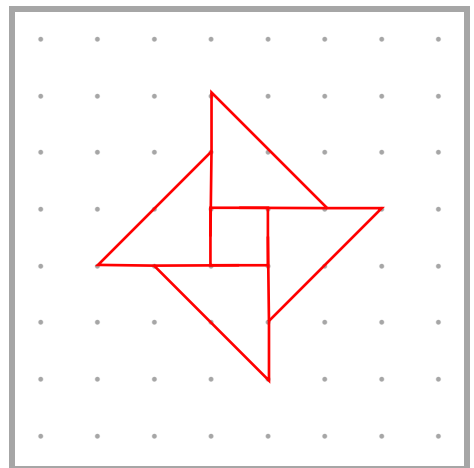
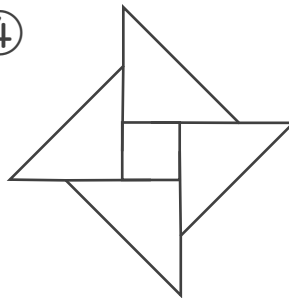
②



③



④




# かたちづくり

ねん くみ

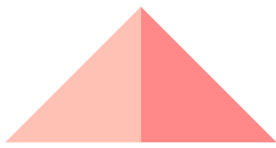
なまえ

/ 5

■ つぎの かたちをつくるには、**あ**のかたちがいくつ いらしますか。



①




2 つ

②




2 つ

③




3 つ

④



3 つ

⑤



4 つ