

きょうざい
教材おきば の

これだけ、あんしん安心

さんすう
算数ドリル

1 - 15

小学1年生

もくじ

①	かずの ならびかた かん字で	2 ページ
②	かぞえてみよう どちらがおおい	2 ページ
③	なんじ なんじはん	3 ページ
④	さくらんぼ けいさん	2 ページ
⑤	「+」や「-」をあてはめて	2 ページ
⑥	ひきざんのしきをたてて(2) 文章問題	2 ページ
⑦	魔方陣(まほうじん)	3 ページ
⑧	大きいほうの かず	2 ページ
⑨	かずの ならびかた 100 までのかず	2 ページ
⑩	ふえから へりかた かんがえて 100 までのかず	2 ページ
⑪	大きいかず 小さいかず	3 ページ
⑫	かずさがし 大きいかず・小さいかず	3 ページ
	合計	28 ページ

■ にはいる かずを かん字で かきましょう。

① あ - 八 - い - 六 - 五

あ

い

② 四 - う - 六 - え - 八

う

え

③ 七 - お - 五 - 四 - か

お

か

④ き - 三 - 四 - 五 - く

き

く

■ にはいる かずを かん字で かきましょう。

① 五 - あ - 七 - 八 - い

あ

い

② う - 七 - 六 - 五 - え

う

え

③ お - 五 - か - 三 - 二

お

か

④ き - 四 - 五 - く - 七

き

く

かずしらべ

ねん くみ
なまえ

19

■ かずをかぞえましょう。

①

	★	★	★	
★	★	☆		
★				
★	☆			☆
☆	☆	☆		★

★ のかず

☆ のかず

おおいほうにまるをつけましょう。

(★) (☆)

②

■	□	□	□	■
■	■	□	■	
	□	■	■	□
□	■	□	□	
■	□			

■ のかず

□ のかず

おおいほうにまるをつけましょう。

(■) (□)

③

♥	♡	♡		
♡	♥	♥		♡
♥	♡	♥		♥
♥	♡		♥	
	♡	♡		♥

♥ のかず

♡ のかず

おおいほうにまるをつけましょう。

(♥) (♡)

かずしらべ

ねん くみ
なまえ

19

■ かずをかぞえましょう。

①

☆	☆	☆	★	
	☆	★	☆	★
		☆		★
	★		☆	
☆	☆	★		★

★ のかず

☆ のかず

おおいほうにまるをつけましょう。

(★) (☆)

②

	◆	◇	◇	◇
	◆		◇	◆
◆		◇	◇	◇
◆	◆	◇	◆	◇
◆	◆			◆

◆ のかず

◇ のかず

おおいほうにまるをつけましょう。

(◆) (◇)

③

		△		△
▲			▲	
△		△	▲	△
	△	▲	▲	
		▲		▲

▲ のかず

△ のかず

おおいほうにまるをつけましょう。

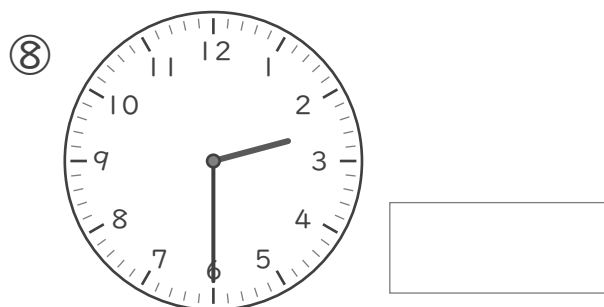

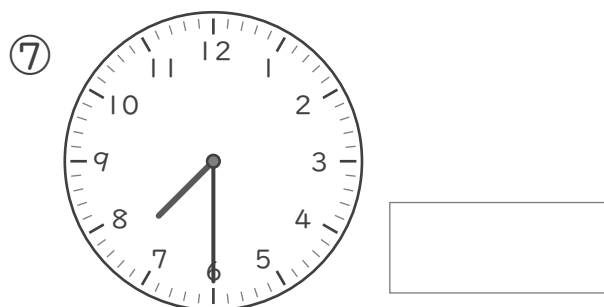





(▲) (△)

なんじ なんじはん

ねん ぐみ
なまえ

/ 8

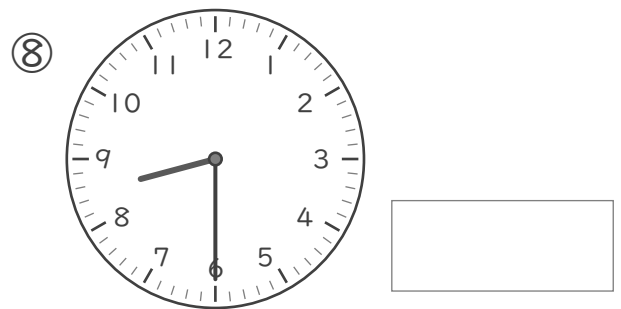







■ とけいを よみましょう。



なんじ なんじはん

ねん くみ
なまえ

■ とけいを よみましょう。



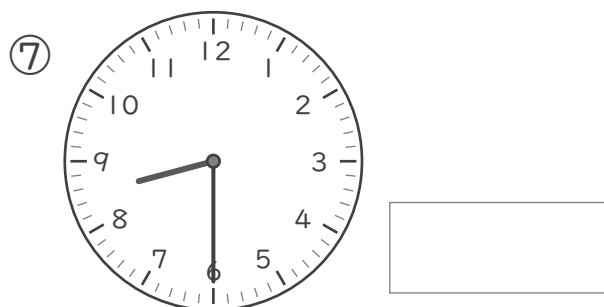



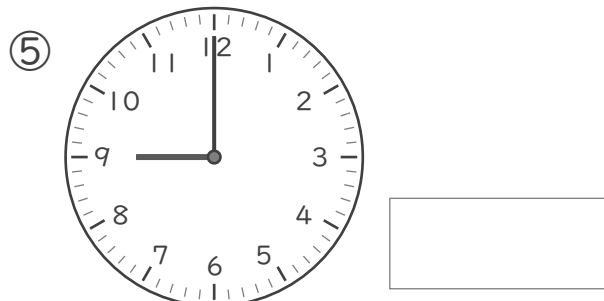



なんじ なんじはん

ねん ぐみ
なまえ

/ 8

■ とけいを よみましょう。



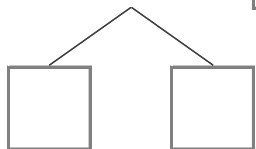
■ うしろのかずをわけて、10をこえるたしざんをしましょう。

① $7 + 8 = \square$

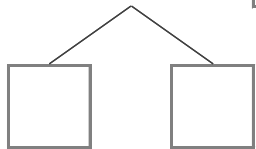
たして10



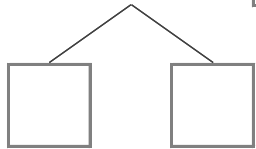
② $6 + 6 = \square$



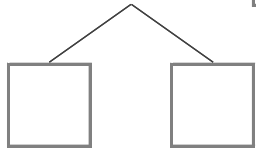
③ $4 + 7 = \square$



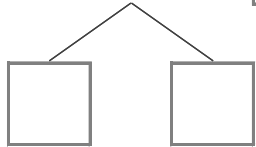
④ $9 + 6 = \square$



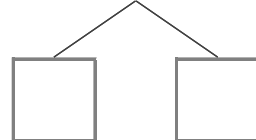
⑤ $9 + 9 = \square$



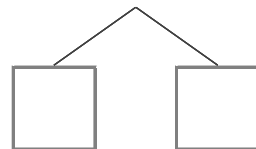
⑥ $8 + 6 = \square$



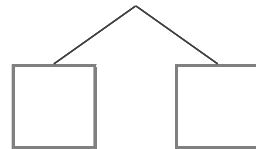
⑦ $9 + 8 = \square$



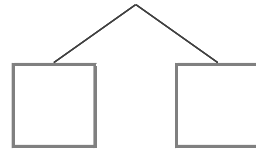
⑧ $9 + 7 = \square$



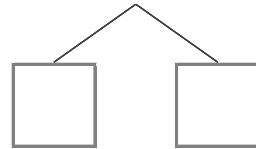
⑨ $5 + 7 = \square$



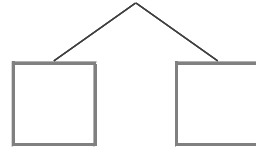
⑩ $5 + 6 = \square$



⑪ $3 + 8 = \square$



⑫ $9 + 4 = \square$



■ うしろのかずをわけて、10をこえるたしざんをしましょう。

① $8 + 8 = \square$
 たして10 $\begin{array}{c} \swarrow \quad \searrow \\ \square \quad \square \\ \text{2} \quad \text{6} \end{array}$

② $6 + 5 = \square$
 $\begin{array}{c} \swarrow \quad \searrow \\ \square \quad \square \end{array}$

③ $9 + 4 = \square$
 $\begin{array}{c} \swarrow \quad \searrow \\ \square \quad \square \end{array}$

④ $8 + 3 = \square$
 $\begin{array}{c} \swarrow \quad \searrow \\ \square \quad \square \end{array}$

⑤ $3 + 9 = \square$
 $\begin{array}{c} \swarrow \quad \searrow \\ \square \quad \square \end{array}$

⑥ $9 + 7 = \square$
 $\begin{array}{c} \swarrow \quad \searrow \\ \square \quad \square \end{array}$

⑦ $9 + 9 = \square$
 $\begin{array}{c} \swarrow \quad \searrow \\ \square \quad \square \end{array}$

⑧ $4 + 7 = \square$
 $\begin{array}{c} \swarrow \quad \searrow \\ \square \quad \square \end{array}$

⑨ $7 + 5 = \square$
 $\begin{array}{c} \swarrow \quad \searrow \\ \square \quad \square \end{array}$

⑩ $9 + 8 = \square$
 $\begin{array}{c} \swarrow \quad \searrow \\ \square \quad \square \end{array}$

⑪ $6 + 7 = \square$
 $\begin{array}{c} \swarrow \quad \searrow \\ \square \quad \square \end{array}$

⑫ $7 + 8 = \square$
 $\begin{array}{c} \swarrow \quad \searrow \\ \square \quad \square \end{array}$

「+」や「-」をあてはめて

ねん くみ
なまえ

/ 8

■ にあてはまる「+」や「-」をこたえましょう。

- ① 5 ^{「+」か「-」をこたえる} 3 ^{「+」か「-」をこたえる} 1 = 1
- ② 9 5 4 = 8
- ③ 3 2 5 = 10
- ④ 7 7 2 = 12
- ⑤ 4 5 4 = 13
- ⑥ 5 1 2 = 2
- ⑦ 9 4 8 = 13
- ⑧ 9 4 2 = 11

「+」や「-」をあてはめて

ねん くみ
なまえ

/ 8

■ にあてはまる「+」や「-」をこたえましょう。

- ① 6 ^{「+」か「-」をこたえる} | ^{「+」か「-」をこたえる} 3 = 2
- ② 8 2 9 = 15
- ③ 8 | 9 = 16
- ④ 6 | 7 = 0
- ⑤ 7 | 2 = 4
- ⑥ 7 3 9 = 1
- ⑦ 2 7 5 = 14
- ⑧ 2 8 3 = 13

ひきざん(2)

ねん くみ
なまえ

17

- ① みかんを 18こもっています。

ともだちに 5こあげると、なんこのこりですか。

(しき)

- ② あめが 16こあります。

8こたべると、のこりは なんこですか。

(しき)

- ③ 11まいの かあどがあります。

6まいが おもてを むいています。なんまいが うらむきですか。

(しき)

- ④ バスに 13にんの ひとが のっています。

6にん おりると、のこりは なんにんですか。

(しき)

- ⑤ はがきが 12まいあります。

5まいつかうと、のこりは なんまいですか。

(しき)

- ⑥ 18わの とりが きにとまっています。

9わが とんでいくと、のこりは なんわですか。

(しき)

- ⑦ 16とうの かばが います。

めすは 4とうです。おすは なんてうですか。

(しき)

ひきざん(2)

ねん くみ
なまえ

17

- ① ふうせんが 12 こ あります。

8 こ われると、のこりは なんこ ですか。

(しき)

- ② 11 まい の かあどが あります。

3 まいが おもてを むいて います。なんまいが うらむき ですか。

(しき)

- ③ らむねを 16 こ もって います。

ともだちに 9 こ あげると、なんこ のこりますか。

(しき)

- ④ 15 とう の らいおんが います。

おすは 6 とう です。めすは なんとう ですか。

(しき)

- ⑤ くりが 15 こ あります。

7 こ たべると、のこりは なんこ ですか。

(しき)

- ⑥ 16 ペえじ の えほんが あります。

3 ペえじ よむと、のこりは なんペえじ ですか。

(しき)

- ⑦ いろがみが 14 まい あります。

9 まい つかうと、のこりは なんまい ですか。

(しき)

まほうじん

ねん くみ
なまえ

/ 4

■ まほうじん を つくりましょう。

まほうじんの
ルール

- ・ 1から9までの かず を すべて 1かずつ つかう。
- ・ たて、よこ、ななめ にならんだかずを たすと、すべて 15 になる。

①

		8
		1
2		

②

		2
	5	
	1	

③

		6
3		
4		

④

		4
		9
	7	

まほうじん

ねん くみ

なまえ

/ 4

■ まほうじん を つくりましょう。

まほうじんの
ルール

- ・ 1から9までの かず を すべて 1かいつつ つかう。
- ・ たて、よこ、ななめ にならんだかずを たすと、すべて 15 になる。

①

3		
8		6

②

		6
4	9	

③

8		
	7	2

④

4		
	5	1

まほうじん

ねん くみ
なまえ

/ 4

■ まほうじん を つくりましょう。

まほうじんの
ルール

- ・ 1から9までの かず を すべて 1かずつ つかう。
- ・ たて、よこ、ななめ にならんだかずを たすと、すべて 15 になる。

①

3		
	9	2

②

	9	
8		6

③

8	3	
1		

④

4		
9	5	

大きいほうの かず

ねん くみ
なまえ

/18

■ 大きいほうの かず を こたえましょう。

① と

② と

③ と

④ と

⑤ と

⑥ と

⑦ と

⑧ と

⑨ と

⑩ と

⑪ と

⑫ と

⑬ と

⑭ と

⑮ と

⑯ と

⑰ と

⑱ と

大きいほうの かず

ねん くみ
なまえ

/18

■ 大きいほうの かず を こたえましょう。

① と

② と

③ と

④ と

⑤ と

⑥ と

⑦ と

⑧ と

⑨ と

⑩ と

⑪ と

⑫ と

⑬ と

⑭ と

⑮ と

⑯ と

⑰ と

⑱ と

■ にはいる かずをかきましょう。

① 86 - あ - 88 - い - 90 - 91 - う

あ い う

② 25 - え - 23 - お - 21 - か - 19

え お か

③ き - 71 - く - 69 - 68 - 67 - け

き く け

④ 26 - 27 - こ - 29 - さ - 31 - し

こ さ し

⑤ す - 36 - せ - 34 - 33 - そ - 31

す せ そ

■ にはいる かずをかきましょう。

① 40 - 41 - あ - 43 - い - 45 - う

あ い う

② 97 - え - 95 - お - 93 - 92 - か

え お か

③ き - 50 - く - 52 - け - 54 - 55

き く け

④ こ - 84 - さ - 82 - 81 - 80 - し

こ さ し

⑤ 67 - す - 69 - せ - 71 - そ - 73

す せ そ

■ にはいる かずをかきましょう。

① あ - 63 - い - 71 - う - 79 - 83

あ い う

② 88 - え - 68 - お - 48 - 38 - か

え お か

③ き - 83 - く - 89 - 92 - 95 - け

き く け

④ こ - 40 - さ - 36 - 34 - し - 30

こ さ し

⑤ 48 - 43 - す - 33 - せ - 23 - そ

す せ そ

■ にはいる かずをかきましょう。

① あ - 33 - い - 39 - う - 45 - 48

あ い う

② 35 - え - 31 - お - 27 - 25 - か

え お か

③ き - 40 - く - 60 - 70 - 80 - け

き く け

④ 26 - 22 - こ - 14 - さ - 6 - し

こ さ し

⑤ す - 27 - せ - 37 - 42 - そ - 52

す せ そ

大きいかず

ねん くみ
なまえ

/ 5

① 50 より大きいかずを1つ みつけましょう。

44 31 45 40 43 42 47 36 51 30

50 より大きいかず

② 70 より大きいかずを1つ みつけましょう。

67 50 69 60 66 54 63 78 61 58

70 より大きいかず

③ 40 より大きいかずを1つ みつけましょう。

26 30 35 47 21 20 29 34 37 32

40 より大きいかず

④ 30 より小さいかずを1つ みつけましょう。

38 40 27 36 47 41 32 35 39 50

30 より小さいかず

⑤ 60 より小さいかずを1つ みつけましょう。

74 61 80 66 62 67 69 75 70 52

60 より小さいかず

大きいかず

ねん くみ
なまえ

/ 5

① 30 より大きいかずを1つ みつけましょう。

20 38 16 28 23 25 24 17 29 10

30 より大きいかず

② 70 より大きいかずを1つ みつけましょう。

76 66 58 52 57 63 69 65 50 60

70 より大きいかず

③ 50 より小さいかずを1つ みつけましょう。

56 59 53 68 65 60 54 62 70 49

50 より小さいかず

④ 80 より小さいかずを1つ みつけましょう。

84 85 90 81 71 87 96 83 98 100

80 より小さいかず

⑤ 40 より大きいかずを1つ みつけましょう。

32 43 31 38 30 26 33 20 34 25

40 より大きいかず

大きいかず

ねん くみ
なまえ

/ 5

① 60 より小さいかずを1つ みつけましょう。

66 69 80 56 70 62 73 68 77 65

60 より小さいかず

② 40 より小さいかずを1つ みつけましょう。

37 49 45 54 50 52 60 57 48 41

40 より小さいかず

③ 80 より小さいかずを1つ みつけましょう。

95 76 86 100 97 82 90 88 81 93

80 より小さいかず

④ 70 より大きいかずを1つ みつけましょう。

79 52 67 64 69 50 60 53 66 68

70 より大きいかず

⑤ 30 より大きいかずを1つ みつけましょう。

28 24 10 21 20 19 35 22 27 13

30 より大きいかず

大きいかず

ねん くみ
なまえ

/ 4

■ べつべつのかずがかかれたたまが 20こ あります。

34	57	52	63	35
55	33	50	43	28
26	48	42	47	60
21	49	56	39	45

① 1ばん 小さい かずは なんですか。

② 2ばんめに 小さい かずは なんですか。

③ 1ばん 大きい かずは なんですか。

④ 2ばんめに 大きい かずは なんですか。

大きいかず

ねん くみ
なまえ

/ 4

■ べつべつの かずが かかれた たまが 20こ あります。

79	40	55	80	60
71	95	44	84	77
66	65	51	76	68
93	43	88	83	36

① 1ばん 小さい かずは なんですか。

② 2ばんめに 小さい かずは なんですか。

③ 1ばん 大きい かずは なんですか。

④ 2ばんめに 大きい かずは なんですか。

大きいかず

ねん くみ
なまえ

/ 4

■ べつべつの かずが かかれた たまが 20こ あります。

37	86	51	92	71
38	67	88	77	59
90	47	74	89	30
48	28	73	34	85

① 1ばん 小さい かずは なんですか。

② 2ばんめに 小さい かずは なんですか。

③ 1ばん 大きい かずは なんですか。

④ 2ばんめに 大きい かずは なんですか。

かずの ならびかた

ねん くみ
なまえ

■ にはいる かずを かん字で かきましょう。

① あ - 八 - い - 六 - 五

あ 九 い 七

② 四 - う - 六 - え - 八

う 五 え 七

③ 七 - お - 五 - 四 - か

お 六 か 三

④ き - 三 - 四 - 五 - く

き 二 く 六

■ にはいる かずを かん字で かきましょう。

① 五 - あ - 七 - 八 - い

あ 六 い 九

② う - 七 - 六 - 五 - え

う 八 え 四

③ お - 五 - か - 三 - 二

お 六 か 四

④ き - 四 - 五 - く - 七

き 三 く 六

かずしらべ

ねん くみ
なまえ

/ 9

■ かずをかぞえましょう。

①



★ のかず

8

こ

☆ のかず


6

こ

おおいほうにまるをつけましょう。

() ()

②



■ のかず

9

こ

□ のかず


10

こ

おおいほうにまるをつけましょう。

() ()

③



♥ のかず

9

こ

♡ のかず

8

こ

おおいほうにまるをつけましょう。

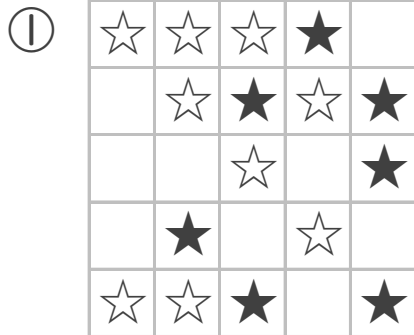
() ()

かずしらべ

ねん くみ
なまえ

/ 9

■ かずをかぞえましょう。



★ のかず

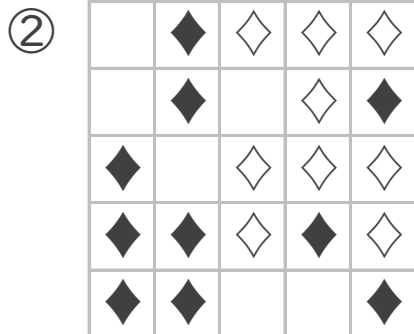
7 こ

☆ のかず

9 こ

おおいほうにまるをつけましょう。

() ()



◆ のかず

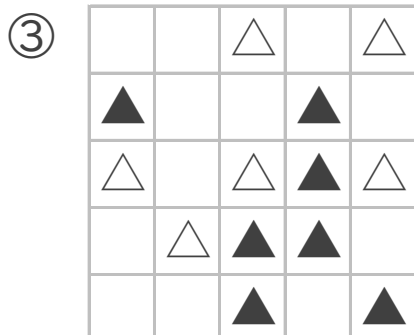
10 こ

◇ のかず

9 こ

おおいほうにまるをつけましょう。

() ()



▲ のかず

7 こ

△ のかず

6 こ

おおいほうにまるをつけましょう。


() ()

なんじ なんじはん


ねん くみ
なまえ

/ 8


■ とけいを よみましょう。




1じ




8じ




3じ




5じはん




9じ



7じはん



4じはん




2じはん

なんじ なんじはん


ねん くみ
なまえ

/ 8


■ とけいを よみましょう。




2じはん




3じ




1じはん




7じ




6じはん



5じ



11じ




8じはん

なんじ なんじはん


ねん くみ
なまえ

/ 8


■ とけいを よみましょう。




10じ




9じ




6じはん




11じ




7じはん



8じはん



1じはん



5じ

■ うしろのかずをわけて、10をこえるたしざんをしましょう。

① $7 + 8 = 15$
 たして10 $\begin{array}{c} \diagup \quad \diagdown \\ \boxed{3} \quad \boxed{5} \end{array}$

② $6 + 6 = 12$
 $\begin{array}{c} \diagup \quad \diagdown \\ \boxed{4} \quad \boxed{2} \end{array}$

③ $4 + 7 = 11$
 $\begin{array}{c} \diagup \quad \diagdown \\ \boxed{6} \quad \boxed{1} \end{array}$

④ $9 + 6 = 15$
 $\begin{array}{c} \diagup \quad \diagdown \\ \boxed{1} \quad \boxed{5} \end{array}$

⑤ $9 + 9 = 18$
 $\begin{array}{c} \diagup \quad \diagdown \\ \boxed{1} \quad \boxed{8} \end{array}$

⑥ $8 + 6 = 14$
 $\begin{array}{c} \diagup \quad \diagdown \\ \boxed{2} \quad \boxed{4} \end{array}$

⑦ $9 + 8 = 17$
 $\begin{array}{c} \diagup \quad \diagdown \\ \boxed{1} \quad \boxed{7} \end{array}$

⑧ $9 + 7 = 16$
 $\begin{array}{c} \diagup \quad \diagdown \\ \boxed{1} \quad \boxed{6} \end{array}$

⑨ $5 + 7 = 12$
 $\begin{array}{c} \diagup \quad \diagdown \\ \boxed{5} \quad \boxed{2} \end{array}$

⑩ $5 + 6 = 11$
 $\begin{array}{c} \diagup \quad \diagdown \\ \boxed{5} \quad \boxed{1} \end{array}$

⑪ $3 + 8 = 11$
 $\begin{array}{c} \diagup \quad \diagdown \\ \boxed{7} \quad \boxed{1} \end{array}$

⑫ $9 + 4 = 13$
 $\begin{array}{c} \diagup \quad \diagdown \\ \boxed{1} \quad \boxed{3} \end{array}$

■ うしろのかずをわけて、10をこえるたしざんをしましょう。

① $8 + 8 = 16$
 たして10 $\begin{array}{c} \diagdown \quad \diagup \\ \boxed{2} \quad \boxed{6} \end{array}$

② $6 + 5 = 11$
 $\begin{array}{c} \diagdown \quad \diagup \\ \boxed{4} \quad \boxed{1} \end{array}$

③ $9 + 4 = 13$
 $\begin{array}{c} \diagdown \quad \diagup \\ \boxed{1} \quad \boxed{3} \end{array}$

④ $8 + 3 = 11$
 $\begin{array}{c} \diagdown \quad \diagup \\ \boxed{2} \quad \boxed{1} \end{array}$

⑤ $3 + 9 = 12$
 $\begin{array}{c} \diagdown \quad \diagup \\ \boxed{7} \quad \boxed{2} \end{array}$

⑥ $9 + 7 = 16$
 $\begin{array}{c} \diagdown \quad \diagup \\ \boxed{1} \quad \boxed{6} \end{array}$

⑦ $9 + 9 = 18$
 $\begin{array}{c} \diagdown \quad \diagup \\ \boxed{1} \quad \boxed{8} \end{array}$

⑧ $4 + 7 = 11$
 $\begin{array}{c} \diagdown \quad \diagup \\ \boxed{6} \quad \boxed{1} \end{array}$

⑨ $7 + 5 = 12$
 $\begin{array}{c} \diagdown \quad \diagup \\ \boxed{3} \quad \boxed{2} \end{array}$

⑩ $9 + 8 = 17$
 $\begin{array}{c} \diagdown \quad \diagup \\ \boxed{1} \quad \boxed{7} \end{array}$

⑪ $6 + 7 = 13$
 $\begin{array}{c} \diagdown \quad \diagup \\ \boxed{4} \quad \boxed{3} \end{array}$

⑫ $7 + 8 = 15$
 $\begin{array}{c} \diagdown \quad \diagup \\ \boxed{3} \quad \boxed{5} \end{array}$

「+」や「-」をあてはめて

ねん くみ
なまえ

/ 8

■ にあてはまる「+」や「-」をこたえましょう。

- ① 5 3 1 = 1
- ② 9 5 4 = 8
- ③ 3 2 5 = 10
- ④ 7 7 2 = 12
- ⑤ 4 5 4 = 13
- ⑥ 5 1 2 = 2
- ⑦ 9 4 8 = 13
- ⑧ 9 4 2 = 11

「+」や「-」をあてはめて

ねん くみ
なまえ

/ 8

■ にあてはまる「+」や「-」をこたえましょう。

- ① 6 1 3 = 2
- ② 8 2 9 = 15
- ③ 8 1 9 = 16
- ④ 6 1 7 = 0
- ⑤ 7 1 2 = 4
- ⑥ 7 3 9 = 1
- ⑦ 2 7 5 = 14
- ⑧ 2 8 3 = 13

ひきざん(2)

ねん くみ
なまえ

17

- ① みかんを 18こもっています。

ともだちに 5こ あげると、なんこのこりですか。

(しき) $18 - 5 = 13$

13こ

- ② あめが 16こあります。

8こ たべると、のこりは なんこ ですか。

(しき) $16 - 8 = 8$

8こ

- ③ 11まいの かあどが あります。

6まいが おもてを むいています。なんまいが うらむき ですか。

(しき) $11 - 6 = 5$

5まい

- ④ バスに 13にんの ひとが のっています。

6にん おりると、のこりは なんにん ですか。

(しき) $13 - 6 = 7$

7にん

- ⑤ はがきが 12まい あります。

5まい つかうと、のこりは なんまい ですか。

(しき) $12 - 5 = 7$

7まい

- ⑥ 18わの とりが きにとまっています。

9わが とんでいくと、のこりは なんわ ですか。

(しき) $18 - 9 = 9$

9わ

- ⑦ 16とうの かばが います。

めすは 4 とうです。おすは なんとう ですか。

(しき) $16 - 4 = 12$

12とう

ひきざん(2)

ねん くみ
なまえ

17

- ① ふうせんが 12 こ あります。

8 こ われると、のこりは なんこ ですか。

(しき) $12 - 8 = 4$

4 こ

- ② 11 まい の かあどが あります。

3 まいが おもてを むいて います。なんまいが うらむき ですか。

(しき) $11 - 3 = 8$

8 まい

- ③ らむねを 16 こ もって います。

ともだちに 9 こ あげると、なんこ のこりますか。

(しき) $16 - 9 = 7$

7 こ

- ④ 15 とう の らいおんが います。

おすは 6 とう です。めすは なんとう ですか。

(しき) $15 - 6 = 9$

9 とう

- ⑤ くりが 15 こ あります。

7 こ たべると、のこりは なんこ ですか。

(しき) $15 - 7 = 8$

8 こ

- ⑥ 16 ペえじ の えほんが あります。

3 ペえじ よむと、のこりは なんペえじ ですか。

(しき) $16 - 3 = 13$

13 ペえじ

- ⑦ いろがみが 14 まい あります。

9 まい つかうと、のこりは なんまい ですか。

(しき) $14 - 9 = 5$

5 まい

まほうじん

ねん くみ

なまえ

/ 4

■ まほうじん を つくりましょう。

まほうじんの
ルール

- ・ 1から9までの かず を すべて 1かいつつつかう。
- ・ たて、よこ、ななめ にならんだかずを たすと、すべて 15 になる。

①

4	3	8
9	5	1
2	7	6

②

4	9	2
3	5	7
8	1	6

③

8	1	6
3	5	7
4	9	2

④

8	3	4
1	5	9
6	7	2

まほうじん

ねん くみ

なまえ

/ 4

■ まほうじん を つくりましょう。

まほうじんの
ルール

- ・ 1から9までの かず を すべて 1かいつつ つかう。
- ・ たて、よこ、ななめ にならんだ かず を たすと、すべて 15 になる。

①

4	9	2
3	5	7
8	1	6

②

8	1	6
3	5	7
4	9	2

③

8	3	4
1	5	9
6	7	2

④

4	3	8
9	5	1
2	7	6

まほうじん

ねん くみ

なまえ

/ 4

■ まほうじん を つくりましょう。

まほうじんの
ルール

- ・ 1から9までの かず を すべて 1かいつつつかう。
- ・ たて、よこ、ななめ にならんだかずを たすと、すべて 15 になる。

①

8	1	6
3	5	7
4	9	2

②

4	9	2
3	5	7
8	1	6

③

8	3	4
1	5	9
6	7	2

④

4	3	8
9	5	1
2	7	6

大きいほうの かず

ねん くみ
なまえ

/18

■ 大きいほうの かず を こたえましょう。

- | | | | | | | | | | |
|---|----|---|----|----|---|----|---|----|----|
| ① | 27 | と | 17 | 27 | ⑩ | 46 | と | 43 | 46 |
| ② | 98 | と | 88 | 98 | ⑪ | 88 | と | 92 | 92 |
| ③ | 23 | と | 16 | 23 | ⑫ | 73 | と | 83 | 83 |
| ④ | 14 | と | 12 | 14 | ⑬ | 55 | と | 67 | 67 |
| ⑤ | 71 | と | 83 | 83 | ⑭ | 25 | と | 35 | 35 |
| ⑥ | 42 | と | 34 | 42 | ⑮ | 31 | と | 41 | 41 |
| ⑦ | 22 | と | 29 | 29 | ⑯ | 74 | と | 76 | 76 |
| ⑧ | 67 | と | 61 | 67 | ⑰ | 52 | と | 42 | 52 |
| ⑨ | 54 | と | 59 | 59 | ⑱ | 56 | と | 47 | 56 |

大きいほうの かず

ねん くみ
なまえ

/18

■ 大きいほうの かず を こたえましょう。

- | | | | | | | | | | |
|---|----|---|----|----|---|----|---|----|----|
| ① | 95 | と | 85 | 95 | ⑩ | 68 | と | 78 | 78 |
| ② | 84 | と | 89 | 89 | ⑪ | 61 | と | 72 | 72 |
| ③ | 59 | と | 68 | 68 | ⑫ | 61 | と | 51 | 61 |
| ④ | 43 | と | 33 | 43 | ⑬ | 44 | と | 54 | 54 |
| ⑤ | 22 | と | 12 | 22 | ⑭ | 59 | と | 47 | 59 |
| ⑥ | 47 | と | 48 | 48 | ⑮ | 62 | と | 65 | 65 |
| ⑦ | 81 | と | 79 | 81 | ⑯ | 35 | と | 26 | 35 |
| ⑧ | 21 | と | 28 | 28 | ⑰ | 19 | と | 15 | 19 |
| ⑨ | 37 | と | 43 | 43 | ⑱ | 59 | と | 53 | 59 |

■ にはいる かずをかきましょう。

① 86 - あ - 88 - い - 90 - 91 - う

あ 87 い 89 う 92

② 25 - え - 23 - お - 21 - か - 19

え 24 お 22 か 20

③ き - 71 - く - 69 - 68 - 67 - け

き 72 く 70 け 66

④ 26 - 27 - こ - 29 - さ - 31 - し

こ 28 さ 30 し 32

⑤ す - 36 - せ - 34 - 33 - そ - 31

す 37 せ 35 そ 32

■ にはいる かずをかきましょう。

① 40 - 41 - あ - 43 - い - 45 - う

あ 42 い 44 う 46

② 97 - え - 95 - お - 93 - 92 - か

え 96 お 94 か 91

③ き - 50 - く - 52 - け - 54 - 55

き 49 く 51 け 53

④ こ - 84 - さ - 82 - 81 - 80 - し

こ 85 さ 83 し 79

⑤ 67 - す - 69 - せ - 71 - そ - 73

す 68 せ 70 そ 72

■ にはいる かずをかきましょう。

① あ - 63 - い - 71 - う - 79 - 83

4ずつふえている

あ

59

い

67

う

75

② 88 - え - 68 - お - 48 - 38 - か

10ずつへっている

え

78

お

58

か

28

③ き - 83 - く - 89 - 92 - 95 - け

3ずつふえている

き

80

く

86

け

98

④ こ - 40 - さ - 36 - 34 - し - 30

2ずつへっている

こ

42

さ

38

し

32

⑤ 48 - 43 - す - 33 - せ - 23 - そ

5ずつへっている

す

38

せ

28

そ

18

■ にはいる かずを かきましょう。

① あ - 33 - い - 39 - う - 45 - 48

3ずつ ふえている

あ

30

い

36

う

42

② 35 - え - 31 - お - 27 - 25 - か

2ずつ へっている

え

33

お

29

か

23

③ き - 40 - く - 60 - 70 - 80 - け

10ずつ ふえている

き

30

く

50

け

90

④ 26 - 22 - こ - 14 - さ - 6 - し

4ずつ へっている

こ

18

さ

10

し

2

⑤ す - 27 - せ - 37 - 42 - そ - 52

5ずつ ふえている

す

22

せ

32

そ

47

大きいかず

ねん くみ
なまえ

/ 5

① 50 より大きいかずを1つ みつけましょう。

44 31 45 40 43 42 47 36 51 30

50 より大きいかず

51

② 70 より大きいかずを1つ みつけましょう。

67 50 69 60 66 54 63 78 61 58

70 より大きいかず

78

③ 40 より大きいかずを1つ みつけましょう。

26 30 35 47 21 20 29 34 37 32

40 より大きいかず

47

④ 30 より小さいかずを1つ みつけましょう。

38 40 27 36 47 41 32 35 39 50

30 より小さいかず

27

⑤ 60 より小さいかずを1つ みつけましょう。

74 61 80 66 62 67 69 75 70 52

60 より小さいかず

52

大きいかず

ねん くみ
なまえ

/ 5

① 30 より大きいかずを1つ みつけましょう。

20 38 16 28 23 25 24 17 29 10

30 より大きいかず

38

② 70 より大きいかずを1つ みつけましょう。

76 66 58 52 57 63 69 65 50 60

70 より大きいかず

76

③ 50 より小さいかずを1つ みつけましょう。

56 59 53 68 65 60 54 62 70 49

50 より小さいかず

49

④ 80 より小さいかずを1つ みつけましょう。

84 85 90 81 71 87 96 83 98 100

80 より小さいかず

71

⑤ 40 より大きいかずを1つ みつけましょう。

32 43 31 38 30 26 33 20 34 25

40 より大きいかず

43

大きいかず

ねん くみ
なまえ

/ 5

① 60 より小さいかずを1つ みつけましょう。

66 69 80 **56** 70 62 73 68 77 65

60 より小さいかず

56

② 40 より小さいかずを1つ みつけましょう。

37 49 45 54 50 52 60 57 48 41

40 より小さいかず

37

③ 80 より小さいかずを1つ みつけましょう。

95 **76** 86 100 97 82 90 88 81 93

80 より小さいかず

76

④ 70 より大きいかずを1つ みつけましょう。

79 52 67 64 69 50 60 53 66 68

70 より大きいかず

79

⑤ 30 より大きいかずを1つ みつけましょう。

28 24 10 21 20 19 **35** 22 27 13

30 より大きいかず

35

大きいかず

ねん くみ
なまえ

/ 4

■ べつべつの かずが かかれた たまが 20こ あります。

34	57	52	63	35
55	33	50	43	28
26	48	42	47	60
21	49	56	39	45

① 1ばん 小さい かずは なんですか。

21

② 2ばんめに 小さい かずは なんですか。

26

③ 1ばん 大きい かずは なんですか。

63

④ 2ばんめに 大きい かずは なんですか。

60

大きいかず

ねん くみ
なまえ

/ 4

■ べつべつのかずがかかれたたまが 20こ あります。

79	40	55	80	60
71	95	44	84	77
66	65	51	76	68
93	43	88	83	36

① 1ばん 小さい かずは なんですか。

36

② 2ばんめに 小さい かずは なんですか。

40

③ 1ばん 大きい かずは なんですか。

95

④ 2ばんめに 大きい かずは なんですか。

93

大きいかず

ねん くみ
なまえ

/ 4

■ べつべつの かずが かかれた たまが 20こ あります。

37	86	51	92	71
38	67	88	77	59
90	47	74	89	30
48	28	73	34	85

① 1ばん 小さい かずは なんですか。

28

② 2ばんめに 小さい かずは なんですか。

30

③ 1ばん 大きい かずは なんですか。

92

④ 2ばんめに 大きい かずは なんですか。

90