

きょうざい  
教材おきば の

これだけ、あんしん安心

さんすう  
算数ドリル

1 - 16

小学1年生

もくじ

① ひきざんのしくみ 式をもとめる(1)	2 ページ
② ひきざんのしくみ 式をもとめる(2)	2 ページ
③ ながさを くらべる	2 ページ
④ なんじ なんじはん	2 ページ
⑤ たしざん 20 もんプリント	2 ページ
⑥ ひきざん 20 もんプリント	2 ページ
⑦ まほうじん(魔方陣)	2 ページ
⑧ 大きいほうの かず	2 ページ
⑨ 大きいかずと かずのせん(数直線)	2 ページ
⑩ ふえから へりかた かんがえて 100 までのかず	2 ページ
⑪ 大きいかず 小さいかず	3 ページ
⑫ かずさがし 大きいかず・小さいかず	2 ページ
⑬ なんじなんぶん 5 ふんきざみ	3 ページ
合計	28 ページ

# ひきざんのしくみ

ねん くみ

なまえ

/14

■ つぎの  にあてはまる かずを こたえましょう。

①  - 1 = 2

②  - 6 = 4

③  - 3 = 3

④  - 7 = 2

⑤  - 2 = 5

⑥  - 3 = 2

⑦  - 8 = 2

⑧  - 4 = 4

⑨  - 1 = 3

⑩  - 6 = 1

⑪  - 6 = 2

⑫  - 3 = 6

⑬  - 3 = 7

⑭  - 4 = 1

# ひきざんのしくみ

ねん くみ

なまえ

/14

■ つぎの

にあてはまる かずを こたえましょう。

①  - 4 = 4

②  - 7 = 3

③  - 5 = 5

④  - 7 = 2

⑤  - 3 = 6

⑥  - 2 = 2

⑦  - 3 = 5

⑧  - 6 = 4

⑨  - 1 = 5

⑩  - 5 = 4

⑪  - 3 = 4

⑫  - 2 = 3

⑬  - 8 = 1

⑭  - 3 = 3

# ひきざんのしくみ

ねん くみ

なまえ

/14

■ つぎの

にあてはまるかずをこたえましょう。

①  $10 - \square = 1$

⑧  $6 - \square = 1$

②  $8 - \square = 1$

⑨  $9 - \square = 8$

③  $5 - \square = 4$

⑩  $5 - \square = 2$

④  $4 - \square = 2$

⑪  $9 - \square = 2$

⑤  $9 - \square = 5$

⑫  $10 - \square = 6$

⑥  $3 - \square = 2$

⑬  $6 - \square = 4$

⑦  $10 - \square = 8$

⑭  $8 - \square = 2$

# ひきざんのしくみ

ねん くみ

なまえ

/14

■ つぎの  にあてはまるかずをこたえましょう。

①  $7 - \square = 3$

⑧  $7 - \square = 2$

②  $6 - \square = 2$

⑨  $5 - \square = 3$

③  $3 - \square = 1$

⑩  $10 - \square = 9$

④  $4 - \square = 2$

⑪  $9 - \square = 2$

⑤  $5 - \square = 4$

⑫  $9 - \square = 8$

⑥  $10 - \square = 8$

⑬  $10 - \square = 5$

⑦  $8 - \square = 7$

⑭  $8 - \square = 4$

# おおきさくらべ

ねん くみ

なまえ

/ 7

■ あといのりぼんはどちらがながいですか。

①

あ



い



ながいほう

②

あ



い



ながいほう

③

あ



い



ながいほう

④

あ



い



ながいほう

⑤

あ



い



ながいほう

⑥

あ



い



ながいほう

⑦

あ



い



ながいほう

# おおきさくらべ

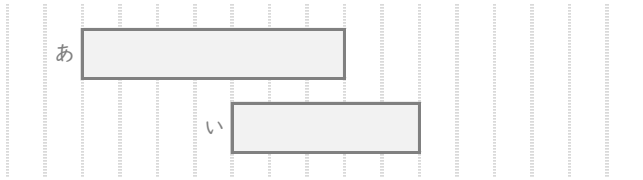
ねん くみ

なまえ

/ 7

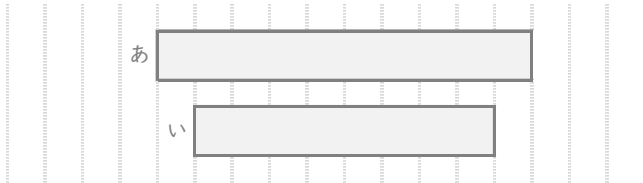
■ あとこのりぼんはどちらがながいですか。

①



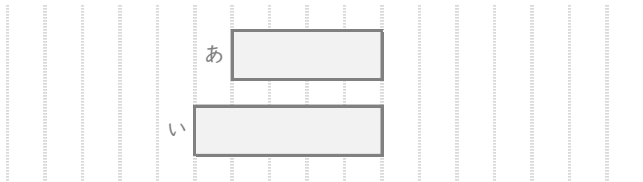
ながいほう

②



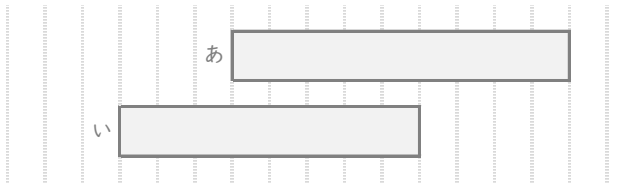
ながいほう

③



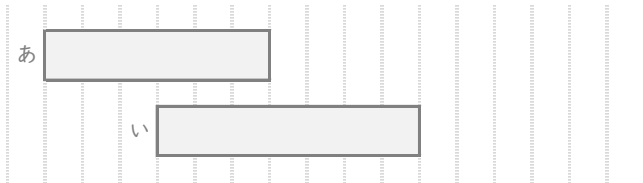
ながいほう

④



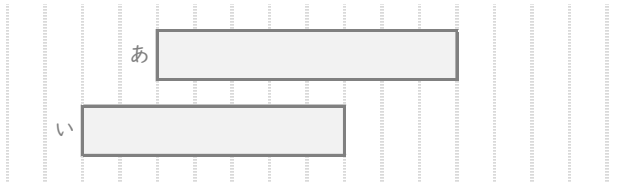
ながいほう

⑤



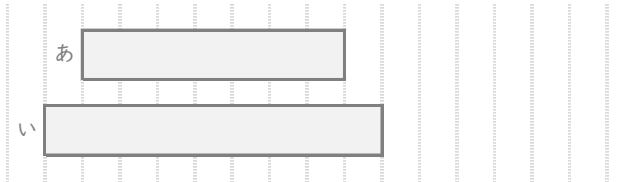
ながいほう

⑥



ながいほう

⑦





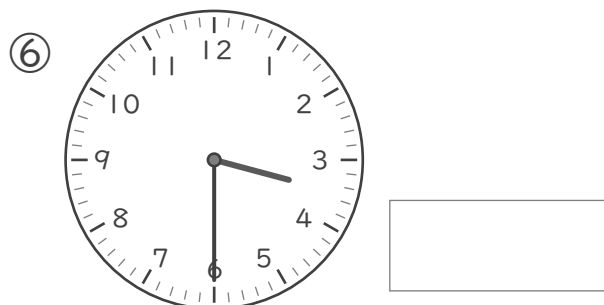


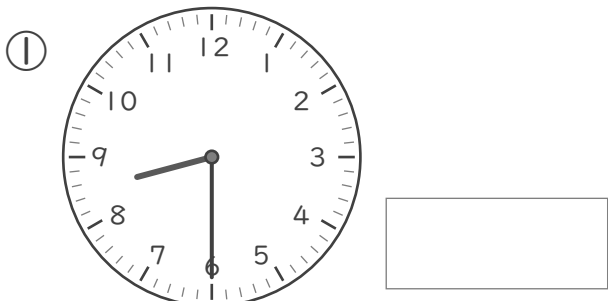


ながいほう

なんじ なんじはん

ねん ぐみ  
なまえ

■ とけいを よみましょう。




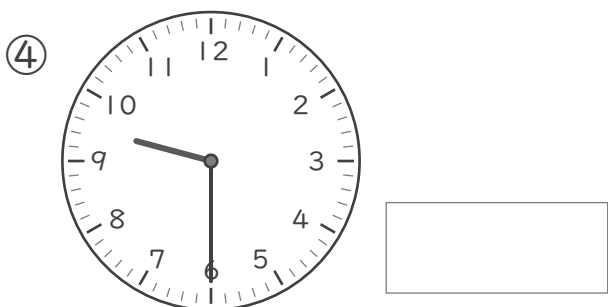








# なんじ なんじはん

ねん ぐみ  
なまえ

/ 8

■ とけいを よみましょう。



# たしざん

ねん くみ  
なまえ

/20

■ たしざんをしましょう。

$① \quad 4 + 4 = \square$

$② \quad 2 + 9 = \square$

$③ \quad 1 + 0 = \square$

$④ \quad 2 + 6 = \square$

$⑤ \quad 6 + 6 = \square$

$⑥ \quad 7 + 2 = \square$

$⑦ \quad 9 + 4 = \square$

$⑧ \quad 7 + 6 = \square$

$⑨ \quad 10 + 2 = \square$

$⑩ \quad 9 + 5 = \square$

$⑪ \quad 7 + 5 = \square$

$⑫ \quad 1 + 8 = \square$

$⑬ \quad 7 + 7 = \square$

$⑭ \quad 3 + 4 = \square$

$⑮ \quad 9 + 10 = \square$

$⑯ \quad 0 + 5 = \square$

$⑰ \quad 3 + 9 = \square$

$⑱ \quad 5 + 8 = \square$

$⑲ \quad 2 + 1 = \square$

$⑳ \quad 7 + 8 = \square$

# たしざん

ねん くみ  
なまえ

/20

■ たしざんをしましょう。

$① \quad 4 + 7 = \square$

$② \quad 8 + 7 = \square$

$③ \quad 7 + 7 = \square$

$④ \quad 6 + 6 = \square$

$⑤ \quad 2 + 6 = \square$

$⑥ \quad 2 + 2 = \square$

$⑦ \quad 9 + 9 = \square$

$⑧ \quad 3 + 8 = \square$

$⑨ \quad 6 + 10 = \square$

$⑩ \quad 5 + 9 = \square$

$⑪ \quad 3 + 0 = \square$

$⑫ \quad 4 + 5 = \square$

$⑬ \quad 2 + 7 = \square$

$⑭ \quad 10 + 1 = \square$

$⑮ \quad 0 + 2 = \square$

$⑯ \quad 9 + 6 = \square$

$⑰ \quad 4 + 9 = \square$

$⑱ \quad 7 + 5 = \square$

$⑲ \quad 3 + 3 = \square$

$⑳ \quad 7 + 3 = \square$

# ひきざん

ねん くみ  
なまえ

/20

■ ひきざんをしましょう。

$① \quad 11 - 1 = \square$

$② \quad 11 - 4 = \square$

$③ \quad 13 - 9 = \square$

$④ \quad 11 - 5 = \square$

$⑤ \quad 8 - 4 = \square$

$⑥ \quad 8 - 3 = \square$

$⑦ \quad 13 - 10 = \square$

$⑧ \quad 11 - 9 = \square$

$⑨ \quad 10 - 3 = \square$

$⑩ \quad 8 - 6 = \square$

$⑪ \quad 16 - 7 = \square$

$⑫ \quad 7 - 0 = \square$

$⑬ \quad 12 - 9 = \square$

$⑭ \quad 10 - 5 = \square$

$⑮ \quad 15 - 6 = \square$

$⑯ \quad 14 - 5 = \square$

$⑰ \quad 9 - 4 = \square$

$⑱ \quad 14 - 8 = \square$

$⑲ \quad 5 - 5 = \square$

$⑳ \quad 12 - 7 = \square$

# ひきざん

ねん くみ  
なまえ

/20

■ ひきざんをしましょう。

$① \quad 14 - 7 = \square$

$② \quad 4 - 2 = \square$

$③ \quad 13 - 4 = \square$

$④ \quad 4 - 0 = \square$

$⑤ \quad 10 - 2 = \square$

$⑥ \quad 11 - 4 = \square$

$⑦ \quad 8 - 5 = \square$

$⑧ \quad 13 - 5 = \square$

$⑨ \quad 12 - 8 = \square$

$⑩ \quad 5 - 2 = \square$

$⑪ \quad 12 - 6 = \square$

$⑫ \quad 11 - 9 = \square$

$⑬ \quad 17 - 9 = \square$

$⑭ \quad 10 - 9 = \square$

$⑮ \quad 8 - 4 = \square$

$⑯ \quad 19 - 10 = \square$

$⑰ \quad 16 - 9 = \square$

$⑱ \quad 11 - 3 = \square$

$⑲ \quad 7 - 7 = \square$

$⑳ \quad 15 - 5 = \square$

# まほうじん

ねん くみ  
なまえ

/ 4

■ まほうじん を つくりましょう。

まほうじんの  
ルール

- ・ 1から9までの かず を すべて 1かいつつ つかう。
- ・ たて、よこ、ななめ にならんだかずを たすと、すべて 15 になる。

①

	1	
2		4

②

2		
	5	
6		

③

4		8
9		

④

8		4
6		

# まほうじん

ねん くみ  
なまえ

/ 4

■ まほうじん を つくりましょう。

まほうじんの  
ルール

- ・ 1から9までの かず を すべて 1かいつつ つかう。
- ・ たて、よこ、ななめ にならんだかずを たすと、すべて 15 になる。

①

		6
3	5	

②

	3	
1		
	7	

③

		8
	7	6

④

4		
8		6

# 大きいほうの かず

ねん くみ  
なまえ

/18

■ 大きいほうの かず を こたえましょう。

①  と

②  と

③  と

④  と

⑤  と

⑥  と

⑦  と

⑧  と

⑨  と

⑩  と

⑪  と

⑫  と

⑬  と

⑭  と

⑮  と

⑯  と

⑰  と

⑱  と



# 大きいほうの かず

ねん くみ  
なまえ

/18

■ 大きいほうの かず を こたえましょう。

①  と

②  と

③  と

④  と

⑤  と

⑥  と

⑦  と

⑧  と

⑨  と

⑩  と

⑪  と

⑫  と

⑬  と

⑭  と

⑮  と

⑯  と

⑰  と

⑱  と

# かずのせん

ねん くみ  
なまえ

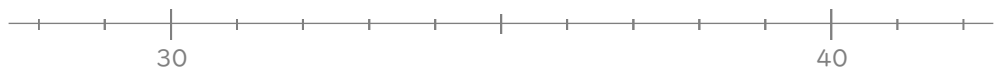
/ 5

■ ①～⑤の かずはどこですか。かずのせんにかきこみましょう。

① 23



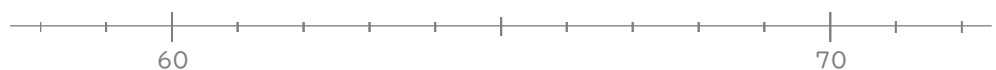
② 34



③ 45



④ 68



⑤ 87



# かずのせん

ねん くみ  
なまえ

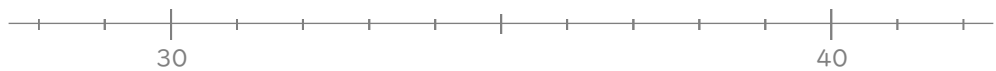
/ 5

■ ①～⑤の かずはどこですか。かずのせんにかきこみましょう。

① 25



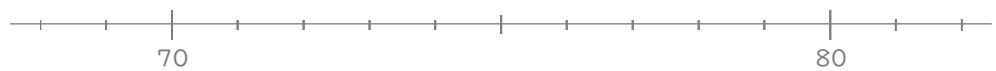
② 36



③ 48



④ 72



⑤ 99



かずの ならびかた

ねん くみ  
なまえ

■  にはいる かずをかきましょう。

① 43 - あ - 47 - い - 51 - 53 - う

あ  い  う

② え - 92 - お - 86 - 83 - 80 - か

え  お  か

③ 2 - 6 - き - 14 - く - 22 - け

き  く  け

④ こ - 84 - さ - 64 - し - 44 - 34

こ  さ  し

⑤ す - 59 - せ - 49 - 44 - そ - 34

す  せ  そ

かずの ならびかた

ねん くみ  
なまえ

/ 15

■  にはいる かずをかきましょう。

① あ - 34 - い - 42 - 46 - う - 54

あ  い  う

② え - 60 - お - 40 - か - 20 - 10

え  お  か

③ き - 44 - く - 54 - 59 - 64 - け

き  く  け

④ 60 - こ - 56 - さ - 52 - 50 - し

こ  さ  し

⑤ 70 - 67 - す - 61 - せ - 55 - そ

す  せ  そ

# 大きいかず

ねん くみ  
なまえ

/ 5

① 30 より大きいかずを1つ みつけましょう。

16 38 20 17 24 21 29 28 13 10

30 より大きいかず

② 60 より小さいかずを1つ みつけましょう。

64 75 80 69 63 71 70 66 58 77

60 より小さいかず

③ 80 より大きいかずを1つ みつけましょう。

61 76 63 62 74 79 60 83 75 70

80 より大きいかず

④ 50 より小さいかずを1つ みつけましょう。

70 58 53 60 67 54 55 61 41 56

50 より小さいかず

⑤ 70 より大きいかずを1つ みつけましょう。

64 67 61 60 58 65 56 53 78 50

70 より大きいかず

# 大きいかず

ねん くみ  
なまえ

/ 5

① 70 より小さいかずを1つ みつけましょう。

77 75 79 68 90 80 78 84 86 71

70 より小さいかず

② 30 より小さいかずを1つ みつけましょう。

34 43 50 36 21 45 32 31 40 37

30 より小さいかず

③ 80 より大きいかずを1つ みつけましょう。

69 64 63 75 78 60 70 88 77 76

80 より大きいかず

④ 50 より大きいかずを1つ みつけましょう。

40 48 42 36 41 35 30 43 51 44

50 より大きいかず

⑤ 40 より小さいかずを1つ みつけましょう。

47 49 60 56 44 50 58 51 42 37

40 より小さいかず

# 大きいかず

ねん くみ  
なまえ

/ 5

① 40 より大きいかずを1つ みつけましょう。

49 27 29 20 33 26 38 30 35 32

40 より大きいかず

② 50 より小さいかずを1つ みつけましょう。

53 58 69 61 65 70 54 48 56 60

50 より小さいかず

③ 60 より大きいかずを1つ みつけましょう。

56 52 40 58 41 50 43 65 47 59

60 より大きいかず

④ 80 より小さいかずを1つ みつけましょう。

81 83 90 82 94 87 72 99 85 100

80 より小さいかず

⑤ 30 より大きいかずを1つ みつけましょう。

24 39 17 10 20 22 26 19 28 15

30 より大きいかず



# 大きいかず

ねん くみ  
なまえ

/ 4

■ べつべつの かずが かかれた たまが 20こ あります。

35	36	43	60	53
39	59	40	45	61
48	58	49	56	62
57	64	41	37	38

① 1ばん 小さい かずは なんですか。

② 2ばんめに 小さい かずは なんですか。

③ 1ばん 大きい かずは なんですか。

④ 2ばんめに 大きい かずは なんですか。

# 大きいかず

ねん くみ  
なまえ

/ 4

■ べつべつの かずが かかれた たまが 20こ あります。

68	65	54	39	24
27	87	42	25	50
21	46	61	94	79
89	37	71	92	84

① 1ばん 小さい かずは なんですか。

② 2ばんめに 小さい かずは なんですか。

③ 1ばん 大きい かずは なんですか。


④ 2ばんめに 大きい かずは なんですか。


# なんじなんぷん


ねん ぐみ  
なまえ


/ 8


■ とけいを よみましょう。


①   じ  
 ぷん


⑤   じ  
 ぷん


②   じ  
 ぷん

⑥   じ  
 ぷん

③   じ  
 ぷん

⑦   じ  
 ぷん


④   じ  
 ぷん


⑧   じ  
 ぷん


なんじなんぷん


ねん ぐみ  
なまえ


■ とけいを よみましょう。


①   じ  
 ぷん


⑤   じ  
 ぷん


②   じ  
 ぷん

⑥   じ  
 ぷん

③   じ  
 ぷん

⑦   じ  
 ぷん

④   じ  
 ぷん


⑧   じ  
 ぷん


# なんじなんぷん


ねん ぐみ  
なまえ


/ 8


■ とけいを よみましょう。


①   じ  
 ぷん


⑤   じ  
 ぷん


②   じ  
 ぷん

⑥   じ  
 ぷん

③   じ  
 ぷん

⑦   じ  
 ぷん

④   じ  
 ぷん

⑧   じ  
 ぷん

# ひきざん

ねん くみ

なまえ

/14

■ つぎの  にあてはまる かずを こたえましょう。

①  - 1 = 2

②  - 6 = 4

③  - 3 = 3

④  - 7 = 2

⑤  - 2 = 5

⑥  - 3 = 2

⑦  - 8 = 2

⑧  - 4 = 4

⑨  - 1 = 3

⑩  - 6 = 1

⑪  - 6 = 2

⑫  - 3 = 6

⑬  - 3 = 7

⑭  - 4 = 1

# ひきざん

ねん くみ

なまえ

/14

■ つぎの  にあてはまるかずをこたえましょう。

①  - 4 = 4

②  - 7 = 3

③  - 5 = 5

④  - 7 = 2

⑤  - 3 = 6

⑥  - 2 = 2

⑦  - 3 = 5

⑧  - 6 = 4

⑨  - 1 = 5

⑩  - 5 = 4

⑪  - 3 = 4

⑫  - 2 = 3

⑬  - 8 = 1

⑭  - 3 = 3

# ひきざんのしくみ

ねん くみ

なまえ

/14

■ つぎの  にあてはまるかずをこたえましょう。

$① \quad 10 - 9 = 1$

$⑧ \quad 6 - 5 = 1$

$② \quad 8 - 7 = 1$

$⑨ \quad 9 - 1 = 8$

$③ \quad 5 - 1 = 4$

$⑩ \quad 5 - 3 = 2$

$④ \quad 4 - 2 = 2$

$⑪ \quad 9 - 7 = 2$

$⑤ \quad 9 - 4 = 5$

$⑫ \quad 10 - 4 = 6$

$⑥ \quad 3 - 1 = 2$

$⑬ \quad 6 - 2 = 4$

$⑦ \quad 10 - 2 = 8$

$⑭ \quad 8 - 6 = 2$



# ひきざんのしくみ

ねん くみ

なまえ

/14

■ つぎの  にあてはまるかずをこたえましょう。

$① \quad 7 - 4 = 3$

$⑧ \quad 7 - 5 = 2$

$② \quad 6 - 4 = 2$

$⑨ \quad 5 - 2 = 3$

$③ \quad 3 - 2 = 1$

$⑩ \quad 10 - 1 = 9$

$④ \quad 4 - 2 = 2$

$⑪ \quad 9 - 7 = 2$

$⑤ \quad 5 - 1 = 4$

$⑫ \quad 9 - 1 = 8$

$⑥ \quad 10 - 2 = 8$

$⑬ \quad 10 - 5 = 5$

$⑦ \quad 8 - 1 = 7$

$⑭ \quad 8 - 4 = 4$

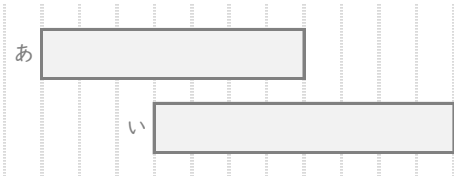
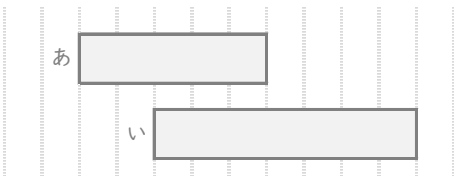
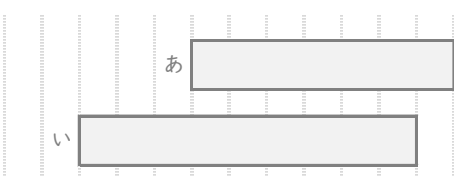
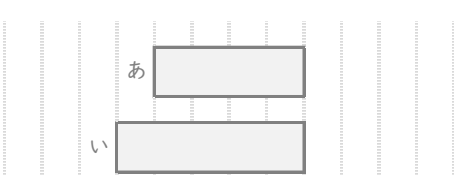
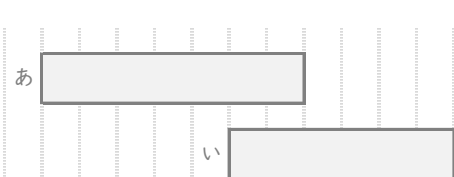
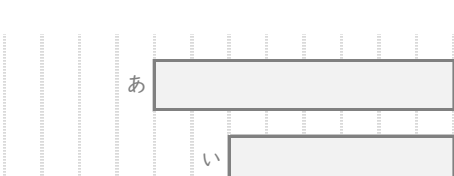
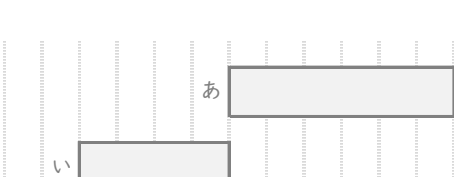
# おおきさくらべ

ねん くみ

なまえ

/ 7

■ あといのりぼんはどちらがながいですか。

①		← 7メモリ ← 8メモリ	ながいほう	<input type="text" value="い"/>
②		← 5メモリ ← 7メモリ	ながいほう	<input type="text" value="い"/>
③		← 7メモリ ← 9メモリ	ながいほう	<input type="text" value="い"/>
④		← 4メモリ ← 5メモリ	ながいほう	<input type="text" value="い"/>
⑤		← 7メモリ ← 6メモリ	ながいほう	<input type="text" value="あ"/>
⑥		← 8メモリ ← 6メモリ	ながいほう	<input type="text" value="あ"/>
⑦		← 6メモリ ← 4メモリ	ながいほう	<input type="text" value="あ"/>

# おおきさくらべ

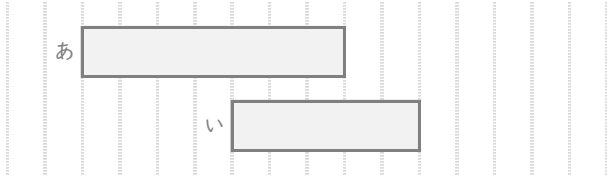
ねん くみ

なまえ

/ 7

■ あとこのりぼんはどちらがながいですか。

①



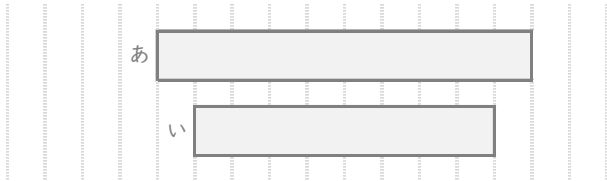
← 7 めもり

← 5 めもり

ながいほう

あ

②



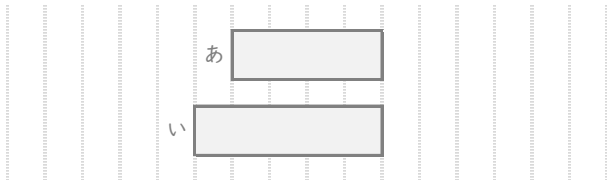
← 10 めもり

← 8 めもり

ながいほう

あ

③



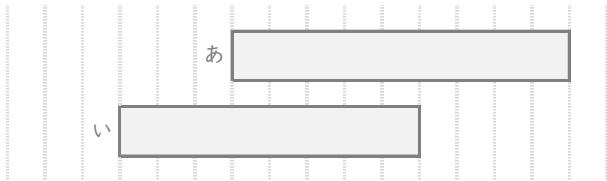
← 4 めもり

← 5 めもり

ながいほう

い

④



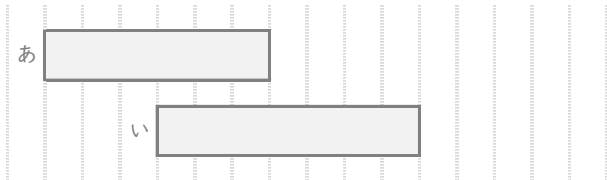
← 9 めもり

← 8 めもり

ながいほう

あ

⑤



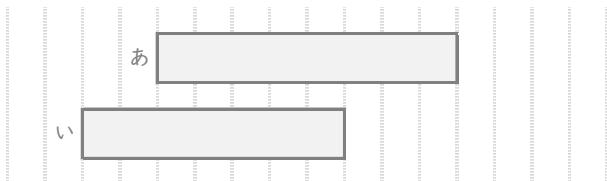
← 6 めもり

← 7 めもり

ながいほう

い

⑥



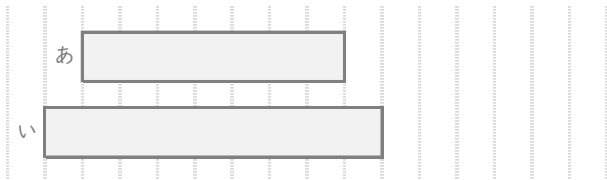
← 8 めもり

← 7 めもり

ながいほう

あ

⑦



← 7 めもり

← 9 めもり

ながいほう


い

# なんじ なんじはん


ねん くみ  
なまえ

/ 8


■ とけいを よみましょう。




8じはん




10じ




9じ




3じはん




11じはん



6じ



7じはん




5じ

# なんじ なんじはん


ねん くみ  
なまえ

/ 8


■ とけいを よみましょう。




8じ




6じはん




2じはん




1じ




11じはん



10じ



9じはん



7じ

# たしざん

ねん くみ  
なまえ

/20

■ たしざんをしましょう。

$① \quad 4 + 4 = 8$

$② \quad 2 + 9 = 11$

$③ \quad 1 + 0 = 1$

$④ \quad 2 + 6 = 8$

$⑤ \quad 6 + 6 = 12$

$⑥ \quad 7 + 2 = 9$

$⑦ \quad 9 + 4 = 13$

$⑧ \quad 7 + 6 = 13$

$⑨ \quad 10 + 2 = 12$

$⑩ \quad 9 + 5 = 14$

$⑪ \quad 7 + 5 = 12$

$⑫ \quad 1 + 8 = 9$

$⑬ \quad 7 + 7 = 14$

$⑭ \quad 3 + 4 = 7$

$⑮ \quad 9 + 10 = 19$

$⑯ \quad 0 + 5 = 5$

$⑰ \quad 3 + 9 = 12$

$⑱ \quad 5 + 8 = 13$

$⑲ \quad 2 + 1 = 3$

$⑳ \quad 7 + 8 = 15$

# たしざん

ねん くみ  
なまえ

/20

■ たしざんをしましょう。

$① \quad 4 + 7 = 11$

$② \quad 8 + 7 = 15$

$③ \quad 7 + 7 = 14$

$④ \quad 6 + 6 = 12$

$⑤ \quad 2 + 6 = 8$

$⑥ \quad 2 + 2 = 4$

$⑦ \quad 9 + 9 = 18$

$⑧ \quad 3 + 8 = 11$

$⑨ \quad 6 + 10 = 16$

$⑩ \quad 5 + 9 = 14$

$⑪ \quad 3 + 0 = 3$

$⑫ \quad 4 + 5 = 9$

$⑬ \quad 2 + 7 = 9$

$⑭ \quad 10 + 1 = 11$

$⑮ \quad 0 + 2 = 2$

$⑯ \quad 9 + 6 = 15$

$⑰ \quad 4 + 9 = 13$

$⑱ \quad 7 + 5 = 12$

$⑲ \quad 3 + 3 = 6$

$⑳ \quad 7 + 3 = 10$

# ひきざん

ねん くみ  
なまえ

/20

■ ひきざんをしましょう。

$① \quad 11 - 1 = 10$

$② \quad 11 - 4 = 7$

$③ \quad 13 - 9 = 4$

$④ \quad 11 - 5 = 6$

$⑤ \quad 8 - 4 = 4$

$⑥ \quad 8 - 3 = 5$

$⑦ \quad 13 - 10 = 3$

$⑧ \quad 11 - 9 = 2$

$⑨ \quad 10 - 3 = 7$

$⑩ \quad 8 - 6 = 2$

$⑪ \quad 16 - 7 = 9$

$⑫ \quad 7 - 0 = 7$

$⑬ \quad 12 - 9 = 3$

$⑭ \quad 10 - 5 = 5$

$⑮ \quad 15 - 6 = 9$

$⑯ \quad 14 - 5 = 9$

$⑰ \quad 9 - 4 = 5$

$⑱ \quad 14 - 8 = 6$

$⑲ \quad 5 - 5 = 0$

$⑳ \quad 12 - 7 = 5$



# ひきざん

ねん くみ  
なまえ

/20

■ ひきざんをしましょう。

$① \quad 14 - 7 = 7$

$② \quad 4 - 2 = 2$

$③ \quad 13 - 4 = 9$

$④ \quad 4 - 0 = 4$

$⑤ \quad 10 - 2 = 8$

$⑥ \quad 11 - 4 = 7$

$⑦ \quad 8 - 5 = 3$

$⑧ \quad 13 - 5 = 8$

$⑨ \quad 12 - 8 = 4$

$⑩ \quad 5 - 2 = 3$

$⑪ \quad 12 - 6 = 6$

$⑫ \quad 11 - 9 = 2$

$⑬ \quad 17 - 9 = 8$

$⑭ \quad 10 - 9 = 1$

$⑮ \quad 8 - 4 = 4$

$⑯ \quad 19 - 10 = 9$

$⑰ \quad 16 - 9 = 7$

$⑱ \quad 11 - 3 = 8$

$⑲ \quad 7 - 7 = 0$

$⑳ \quad 15 - 5 = 10$

# まほうじん

ねん くみ

なまえ

/ 4

■ まほうじん を つくりましょう。

まほうじんの  
ルール

- ・ 1から9までの かず を すべて 1かいつつつかう。
- ・ たて、よこ、ななめ にならんだかずを たすと、すべて 15 になる。

①

6	1	8
7	5	3
2	9	4

②

2	9	4
7	5	3
6	1	8

③

4	3	8
9	5	1
2	7	6

④

8	3	4
1	5	9
6	7	2

# まほうじん

ねん くみ

なまえ

/ 4

■ まほうじん を つくりましょう。

まほうじんの  
ルール

- ・ 1から9までの かず を すべて 1かいつつ つかう。
- ・ たて、よこ、ななめ にならんだかずを たすと、すべて 15 になる。

①

8	1	6
3	5	7
4	9	2

②

8	3	4
1	5	9
6	7	2

③

4	3	8
9	5	1
2	7	6

④

4	9	2
3	5	7
8	1	6

# 大きいほうの かず

ねん くみ  
なまえ

/18

■ 大きいほうの かず を こたえましょう。

- |   |    |   |    |    |   |    |   |    |    |
|---|----|---|----|----|---|----|---|----|----|
| ① | 59 | と | 54 | 59 | ⑩ | 88 | と | 84 | 88 |
| ② | 41 | と | 51 | 51 | ⑪ | 78 | と | 68 | 78 |
| ③ | 69 | と | 72 | 72 | ⑫ | 42 | と | 48 | 48 |
| ④ | 75 | と | 78 | 78 | ⑬ | 27 | と | 17 | 27 |
| ⑤ | 24 | と | 15 | 24 | ⑭ | 55 | と | 69 | 69 |
| ⑥ | 63 | と | 53 | 63 | ⑮ | 92 | と | 84 | 92 |
| ⑦ | 27 | と | 29 | 29 | ⑯ | 65 | と | 67 | 67 |
| ⑧ | 35 | と | 25 | 35 | ⑰ | 31 | と | 22 | 31 |
| ⑨ | 76 | と | 86 | 86 | ⑱ | 36 | と | 48 | 48 |

# 大きいほうの かず

ねん くみ  
なまえ

/18

■ 大きいほうの かず を こたえましょう。

- |   |    |   |    |    |   |    |   |    |    |
|---|----|---|----|----|---|----|---|----|----|
| ① | 57 | と | 62 | 62 | ⑩ | 77 | と | 72 | 77 |
| ② | 46 | と | 56 | 56 | ⑪ | 67 | と | 73 | 73 |
| ③ | 52 | と | 55 | 55 | ⑫ | 21 | と | 12 | 21 |
| ④ | 48 | と | 39 | 48 | ⑬ | 41 | と | 31 | 41 |
| ⑤ | 67 | と | 57 | 67 | ⑭ | 35 | と | 25 | 35 |
| ⑥ | 21 | と | 29 | 29 | ⑮ | 16 | と | 12 | 16 |
| ⑦ | 33 | と | 38 | 38 | ⑯ | 55 | と | 41 | 55 |
| ⑧ | 46 | と | 48 | 48 | ⑰ | 74 | と | 64 | 74 |
| ⑨ | 71 | と | 87 | 87 | ⑱ | 78 | と | 88 | 88 |

# かずのせん

ねん くみ  
なまえ

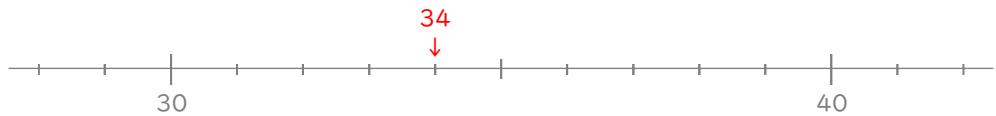
/ 5

■ ①～⑤の かずはどこですか。かずのせんにかきこみましょう。

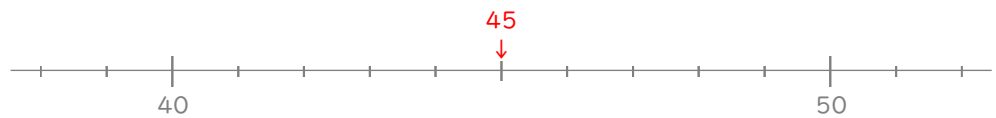
① 23



② 34



③ 45



④ 68



⑤ 87



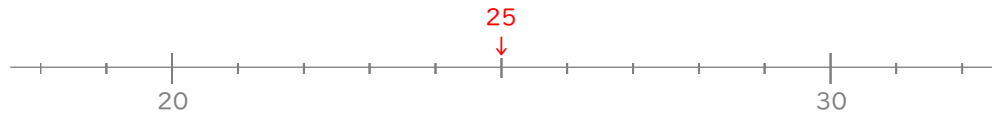
# かずのせん

ねん くみ  
なまえ

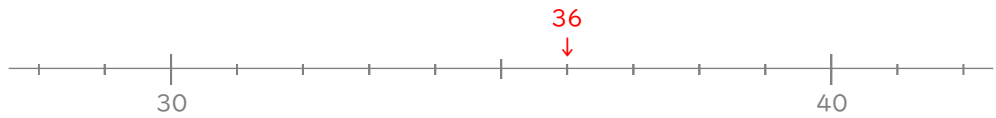
/ 5

■ ①～⑤の かずはどこですか。かずのせんにかきこみましょう。

① 25



② 36



③ 48



④ 72



⑤ 99



# かずの ならびかた

ねん くみ  
なまえ

/ 15

■  にはいる かずをかきましょう。

① 43 - あ - 47 - い - 51 - 53 - う

2ずつふえている

あ

45

い

49

う

55

② え - 92 - お - 86 - 83 - 80 - か

3ずつへっている

え

95

お

89

か

77

③ 2 - 6 - き - 14 - く - 22 - け

4ずつふえている

き

10

く

18

け

26

④ こ - 84 - さ - 64 - し - 44 - 34

10ずつへっている

こ

94

さ

74

し

54

⑤ す - 59 - せ - 49 - 44 - そ - 34

5ずつへっている

す

64

せ

54

そ

39



■  にはいる かずをかきましょう。

① あ - 34 - い - 42 - 46 - う - 54

4ずつふえている

あ

30

い

38

う

50

② え - 60 - お - 40 - か - 20 - 10

10ずつへっている

え

70

お

50

か

30

③ き - 44 - く - 54 - 59 - 64 - け

5ずつふえている

き

39

く

49

け

69

④ 60 - こ - 56 - さ - 52 - 50 - し

2ずつへっている

こ

58

さ

54

し

48

⑤ 70 - 67 - す - 61 - せ - 55 - そ

3ずつへっている

す

64

せ

58

そ

52

# 大きいかず

ねん くみ  
なまえ

/ 5

① 30 より大きいかずを1つ みつけましょう。

16    38    20    17    24    21    29    28    13    10

30 より大きいかず

38

② 60 より小さいかずを1つ みつけましょう。

64    75    80    69    63    71    70    66    58    77

60 より小さいかず

58

③ 80 より大きいかずを1つ みつけましょう。

61    76    63    62    74    79    60    83    75    70

80 より大きいかず

83

④ 50 より小さいかずを1つ みつけましょう。

70    58    53    60    67    54    55    61    41    56

50 より小さいかず

41

⑤ 70 より大きいかずを1つ みつけましょう。

64    67    61    60    58    65    56    53    78    50

70 より大きいかず

78

# 大きいかず

ねん くみ  
なまえ

/ 5

① 70 より小さいかずを1つ みつけましょう。

77 75 79 **68** 90 80 78 84 86 71

70 より小さいかず

**68**

② 30 より小さいかずを1つ みつけましょう。

34 43 50 36 **21** 45 32 31 40 37

30 より小さいかず

**21**

③ 80 より大きいかずを1つ みつけましょう。

69 64 63 75 78 60 70 **88** 77 76

80 より大きいかず

**88**

④ 50 より大きいかずを1つ みつけましょう。

40 48 42 36 41 35 30 43 **51** 44

50 より大きいかず

**51**

⑤ 40 より小さいかずを1つ みつけましょう。

47 49 60 56 44 50 58 51 42 **37**

40 より小さいかず

**37**

# 大きいかず

ねん くみ  
なまえ

/ 5

① 40 より大きいかずを1つ みつけましょう。

49 27 29 20 33 26 38 30 35 32

40 より大きいかず

49

② 50 より小さいかずを1つ みつけましょう。

53 58 69 61 65 70 54 48 56 60

50 より小さいかず

48

③ 60 より大きいかずを1つ みつけましょう。

56 52 40 58 41 50 43 65 47 59

60 より大きいかず

65

④ 80 より小さいかずを1つ みつけましょう。

81 83 90 82 94 87 72 99 85 100

80 より小さいかず

72

⑤ 30 より大きいかずを1つ みつけましょう。

24 39 17 10 20 22 26 19 28 15

30 より大きいかず

39

# 大きいかず

ねん くみ  
なまえ

/ 4

■ べつべつの かずが かかれた たまが 20こ あります。

35	36	43	60	53
39	59	40	45	61
48	58	49	56	62
57	64	41	37	38

① 1ばん 小さい かずは なんですか。

35

② 2ばんめに 小さい かずは なんですか。

36

③ 1ばん 大きい かずは なんですか。

64

④ 2ばんめに 大きい かずは なんですか。

62

# 大きいかず

ねん くみ  
なまえ

/ 4

■ べつべつのかずがかかれたたまが 20こ あります。

68	65	54	39	24
27	87	42	25	50
21	46	61	94	79
89	37	71	92	84

① 1ばん 小さい かずは なんですか。

21

② 2ばんめに 小さい かずは なんですか。

24

③ 1ばん 大きい かずは なんですか。

94

④ 2ばんめに 大きい かずは なんですか。

92

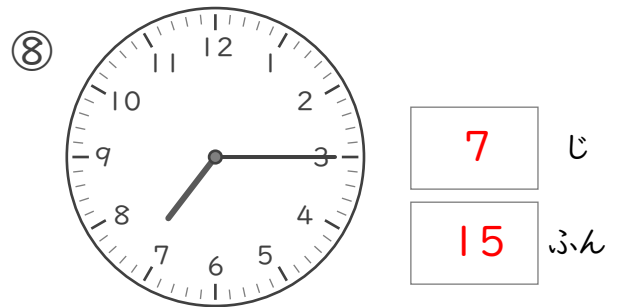
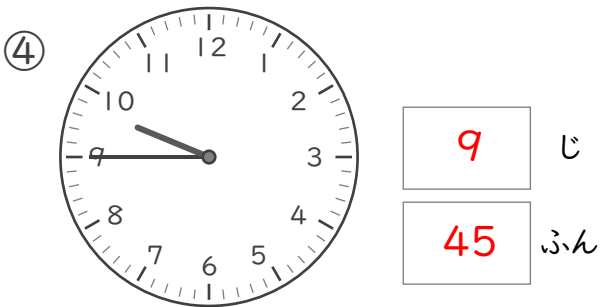
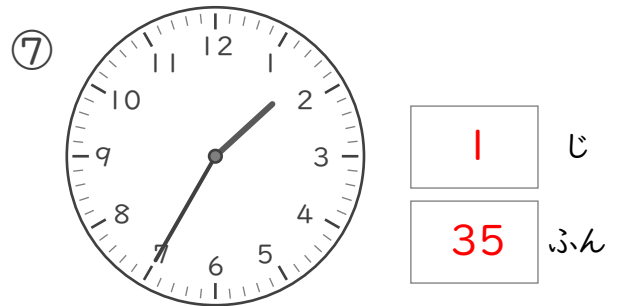
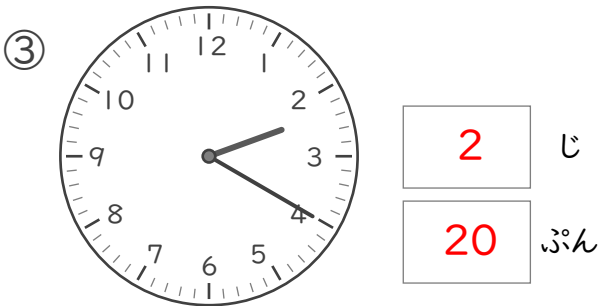
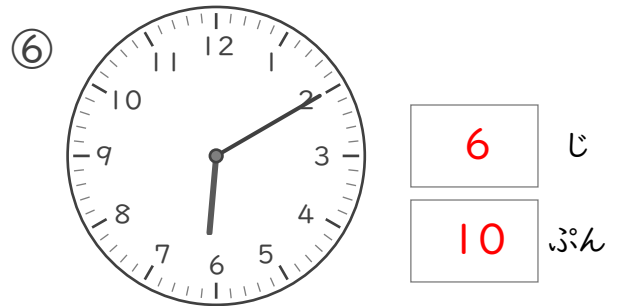
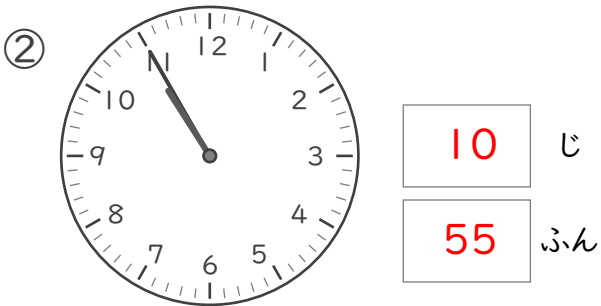
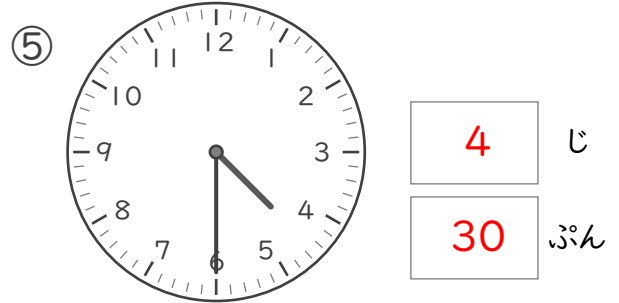
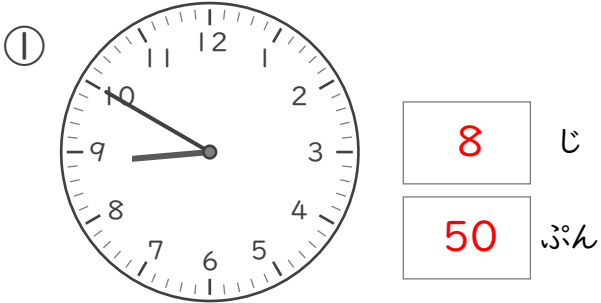
なんじなんぷん

ねん くみ

なまえ

/ 8

■ とけいを よみましょう。

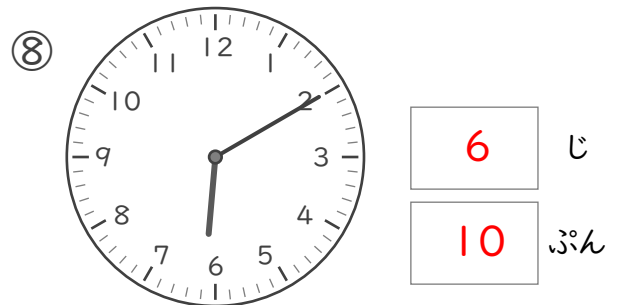
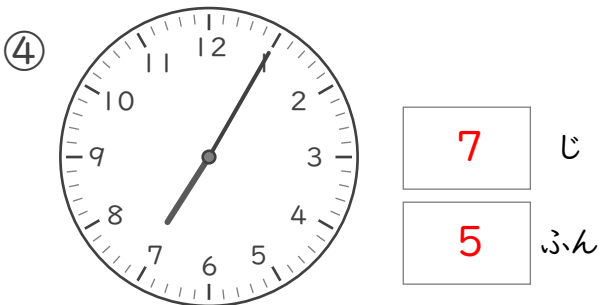
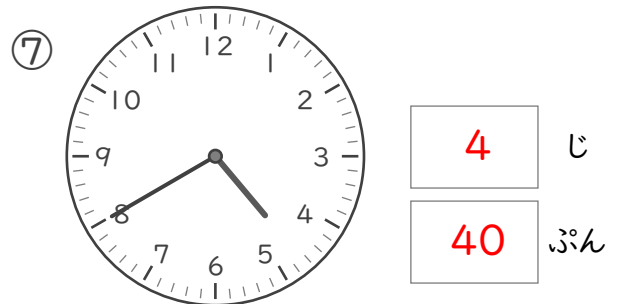
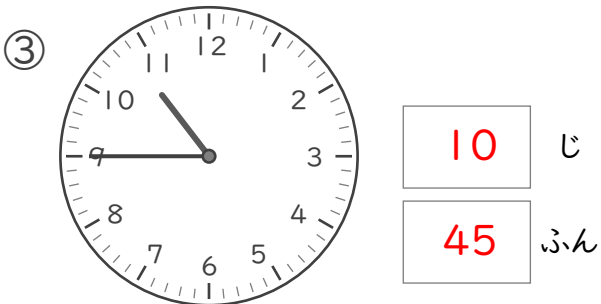
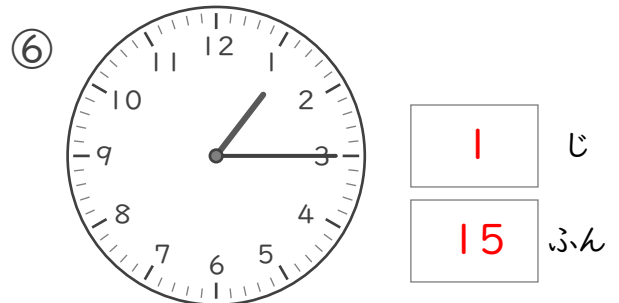
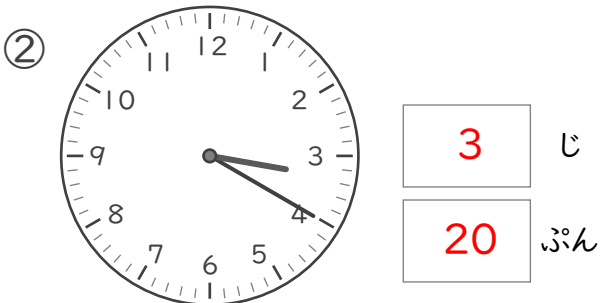
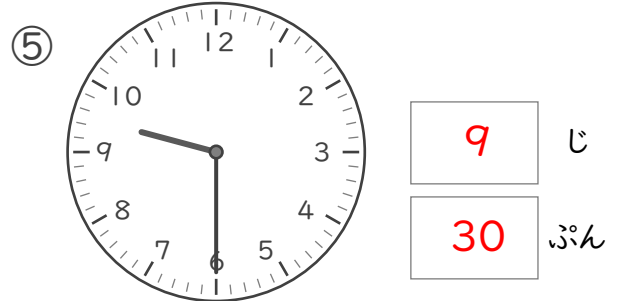
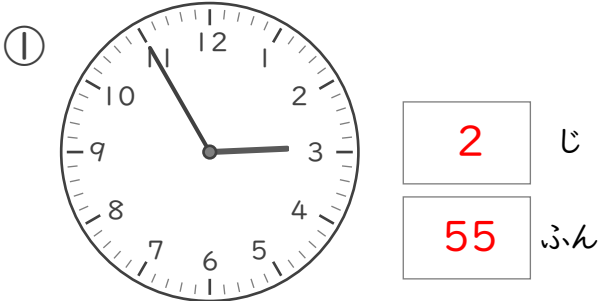


なんじなんぷん

ねん ぐみ  
なまえ

/ 8

■ とけいを よみましょう。





なんじなんぷん

ねん くみ  
なまえ

/ 8

■ とけいを よみましょう。

