

きょうざい
教材おきば の

これだけ、あんしん安心

さんすう
算数ドリル

1 - 17

Light

小学1年生

もくじ




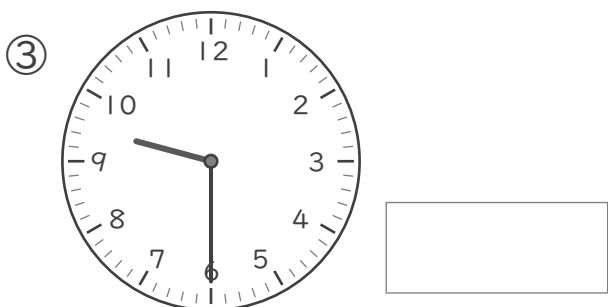

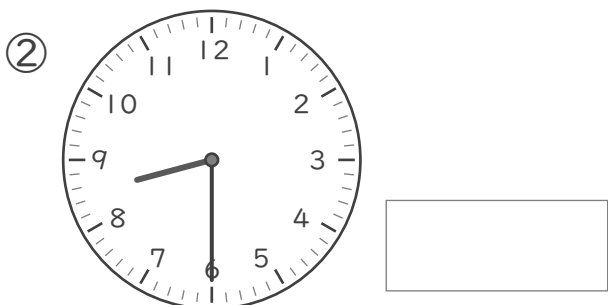


①	なんじ なんじはん	1 ページ
②	まわしてみよう	1 ページ
③	たしざん 20 もんプリント	1 ページ
④	ひきざん 20 もんプリント	1 ページ
⑤	まほうじん(魔方陣)	1 ページ
⑥	100 までの かずの ひょう	1 ページ
⑦	ふえかた へりかた を かんがえて 100 までのかず	1 ページ
⑧	大きいかず 小さいかず	1 ページ
⑨	かずさがし 大きいかず・小さいかず	1 ページ
⑩	なんじなんぷん 5 ふんきざみ	2 ページ
⑪	なんじなんぷん	2 ページ
⑫	なんじなんぷん 長針をかく	1 ページ
	合計	14 ページ

なんじ なんじはん

ねん くみ
なまえ

/ 8

■ とけいを よみましょう。



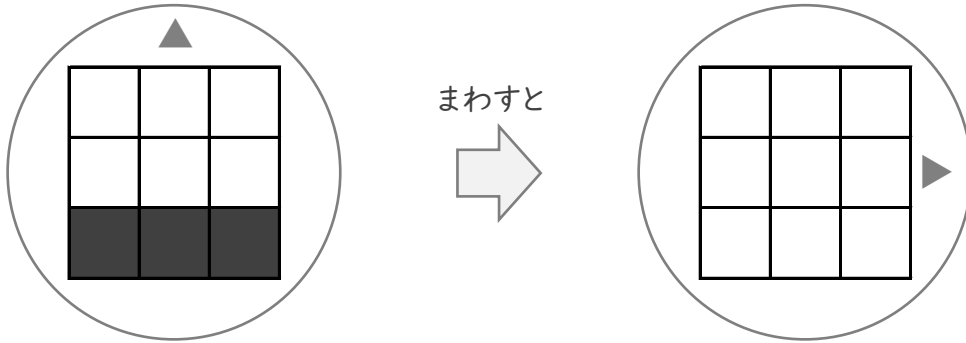
まわしてみよう

ねん くみ
なまえ

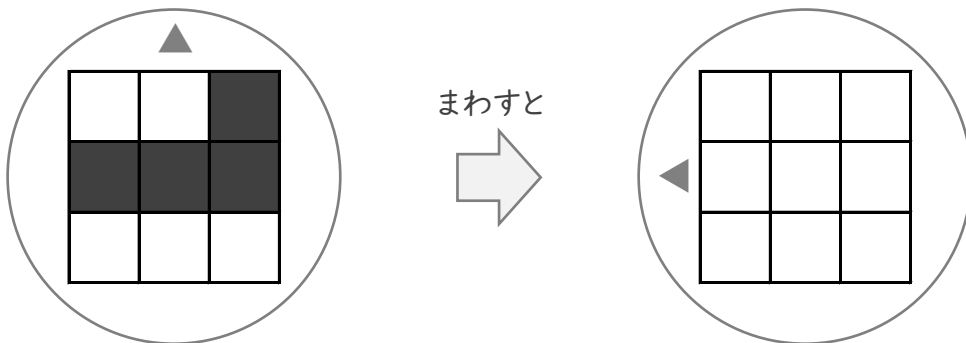
/ 3

■ まわしたかたちになるようにしかくをぬりましょう。

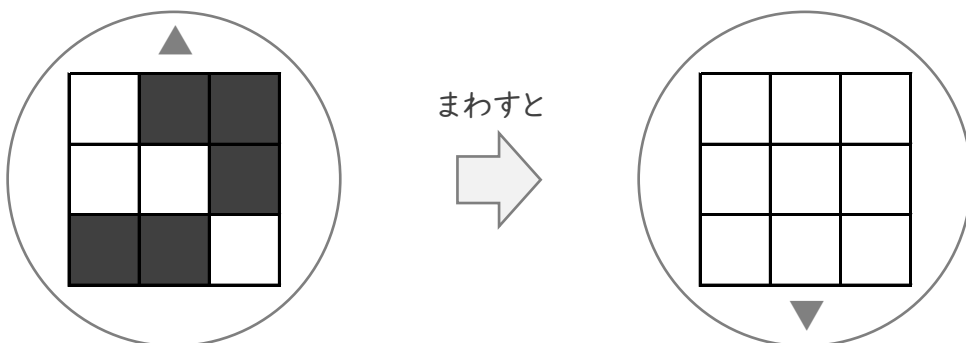
①



②



③



たしざん

ねん くみ
なまえ

/20

■ たしざんをしましょう。

$① \quad 9 + 6 = \square$

$② \quad 3 + 9 = \square$

$③ \quad 6 + 2 = \square$

$④ \quad 9 + 8 = \square$

$⑤ \quad 2 + 8 = \square$

$⑥ \quad 10 + 5 = \square$

$⑦ \quad 8 + 8 = \square$

$⑧ \quad 3 + 3 = \square$

$⑨ \quad 6 + 4 = \square$

$⑩ \quad 7 + 6 = \square$

$⑪ \quad 8 + 4 = \square$

$⑫ \quad 4 + 7 = \square$

$⑬ \quad 4 + 2 = \square$

$⑭ \quad 9 + 9 = \square$

$⑮ \quad 2 + 7 = \square$

$⑯ \quad 2 + 9 = \square$

$⑰ \quad 0 + 8 = \square$

$⑱ \quad 1 + 10 = \square$

$⑲ \quad 2 + 0 = \square$

$⑳ \quad 4 + 9 = \square$

ひきざん

ねん くみ
なまえ

/20

■ ひきざんをしましょう。

$① \quad 9 - 2 = \square$

$② \quad 11 - 2 = \square$

$③ \quad 17 - 9 = \square$

$④ \quad 13 - 7 = \square$

$⑤ \quad 9 - 8 = \square$

$⑥ \quad 12 - 9 = \square$

$⑦ \quad 8 - 2 = \square$

$⑧ \quad 11 - 3 = \square$

$⑨ \quad 7 - 0 = \square$

$⑩ \quad 18 - 9 = \square$

$⑪ \quad 10 - 2 = \square$

$⑫ \quad 2 - 2 = \square$

$⑬ \quad 17 - 7 = \square$

$⑭ \quad 16 - 10 = \square$

$⑮ \quad 12 - 5 = \square$

$⑯ \quad 10 - 6 = \square$

$⑰ \quad 14 - 6 = \square$

$⑱ \quad 12 - 6 = \square$

$⑲ \quad 7 - 5 = \square$

$⑳ \quad 13 - 8 = \square$

まほうじん

ねん くみ
なまえ

/ 4

■ まほうじん を つくりましょう。

まほうじんの
ルール

- ・ 1から9までの かず を すべて 1かいつつつかう。
- ・ たて、よこ、ななめ にならんだかずを たすと、すべて 15 になる。

①

		4
7		
6		

②

7		3
	9	

③

	7	
8		4

④

2		
	5	
4		

100までのかず

ねん くみ
なまえ

/ 30

■ ひょうの あいている ところには いる かずを かきましょう。

		3	4	5	6	7	8		10
11	12			15	16	17	18	19	
21	22		24		26	27	28		30
31		33	34	35		37	38		40
	42	43	44	45		47	48	49	
	52	53		55		57	58	59	60
61		63	64	65	66	67		69	
71	72	73	74	75	76			79	
	82	83	84		86	87		89	90
91	92		94			97	98	99	100

かずの ならびかた

ねん くみ
なまえ

■ にはいる かずをかきましょう。

① あ - 42 - い - 32 - 27 - 22 - う

あ い う

② え - 42 - お - 62 - 72 - か - 92

え お か

③ 22 - 24 - き - 28 - く - 32 - け

き く け

④ こ - 19 - さ - 13 - し - 7 - 4

こ さ し

⑤ 97 - す - 89 - せ - 81 - 77 - そ

す せ そ

大きいかず

ねん くみ
なまえ

/ 5

① 80 より大きいかずを1つ みつけましょう。

76 70 72 71 86 65 69 63 78 60

80 より大きいかず

② 40 より大きいかずを1つ みつけましょう。

20 34 31 23 27 42 30 36 35 32

40 より大きいかず

③ 30 より小さいかずを1つ みつけましょう。

40 36 27 34 41 45 39 48 50 37

30 より小さいかず

④ 50 より小さいかずを1つ みつけましょう。

69 55 51 60 47 58 70 62 66 57

50 より小さいかず

⑤ 70 より小さいかずを1つ みつけましょう。

77 67 74 80 76 71 85 82 78 90

70 より小さいかず

大きいかず

ねん くみ
なまえ

/ 4

■ べつべつの かずが かかれた たまが 20こ あります。

62	69	56	47	54
63	59	42	70	44
61	66	43	55	67
50	64	52	34	37

① 1ばん 小さい かずは なんですか。

② 2ばんめに 小さい かずは なんですか。

③ 1ばん 大きい かずは なんですか。


④ 2ばんめに 大きい かずは なんですか。


なんじなんぷん


ねん ぐみ
なまえ


/ 8


■ とけいを よみましょう。


①  じ
 ぷん


⑤  じ
 ぷん


②  じ
 ぷん

⑥  じ
 ぷん

③  じ
 ぷん

⑦  じ
 ぷん

④  じ
 ぷん

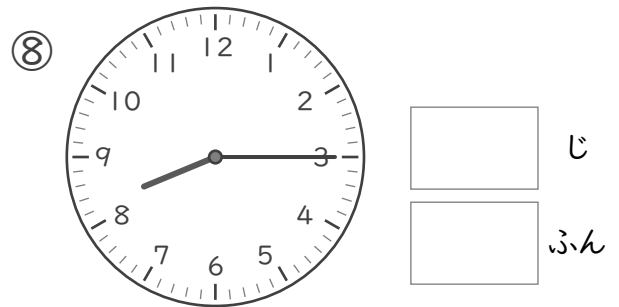
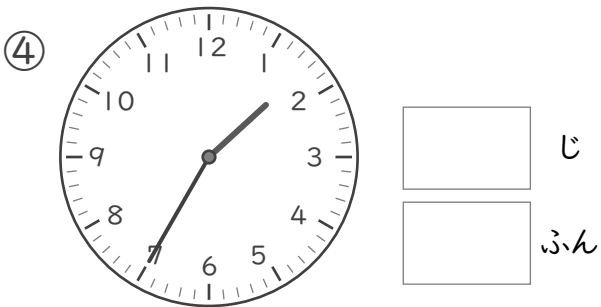
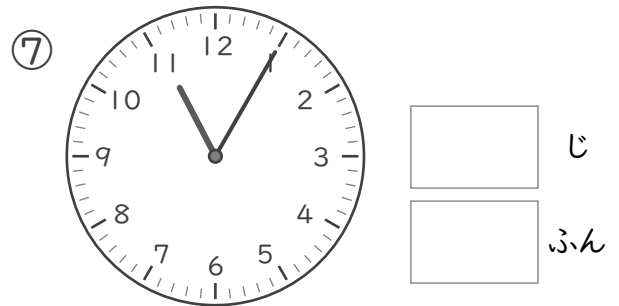
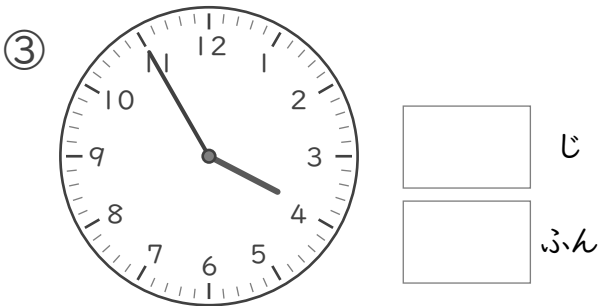
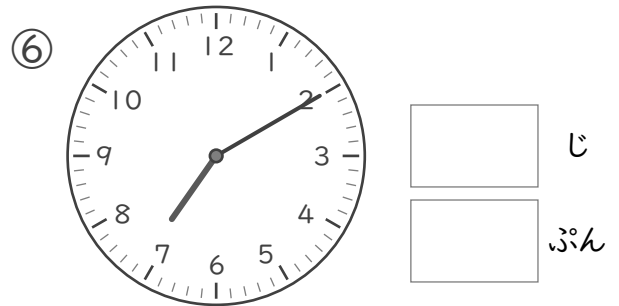

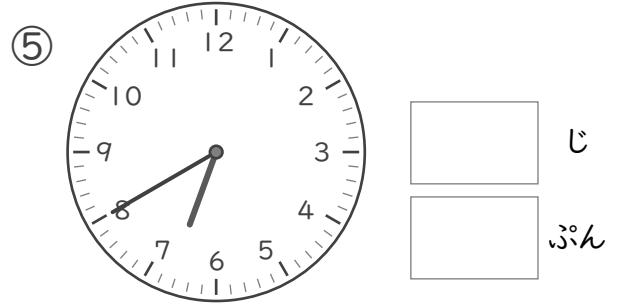
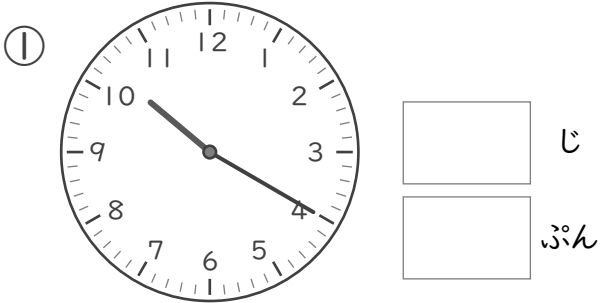
⑧  じ
 ぷん

なんじなんぷん

ねん ぐみ
なまえ

/ 8

■ とけいを よみましょう。

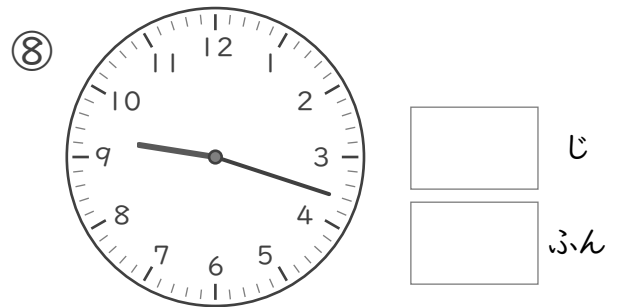

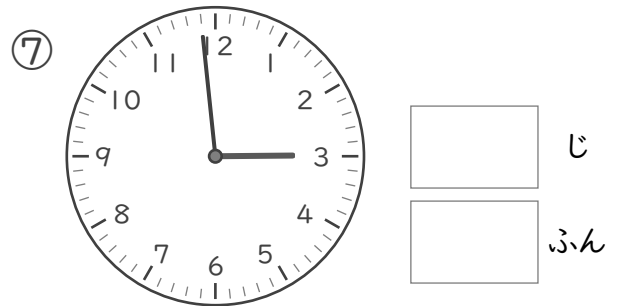
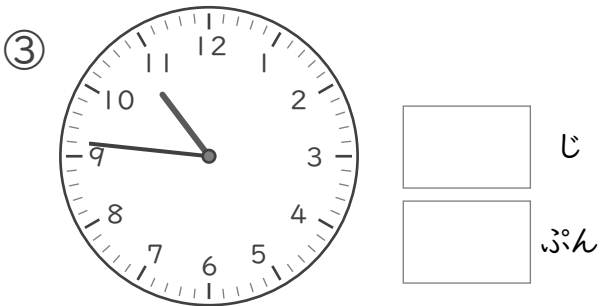
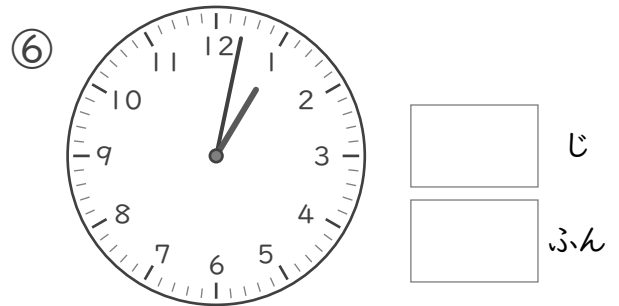
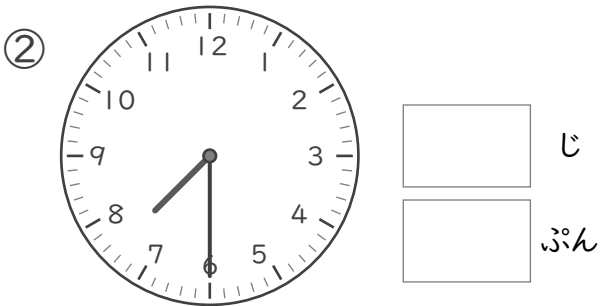
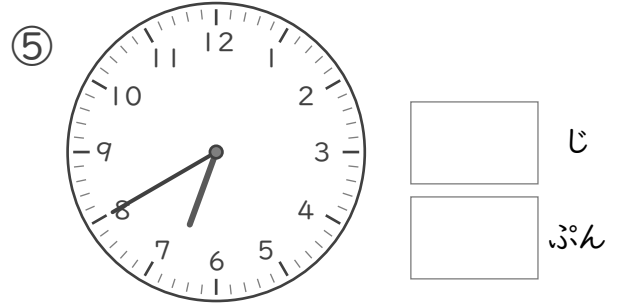
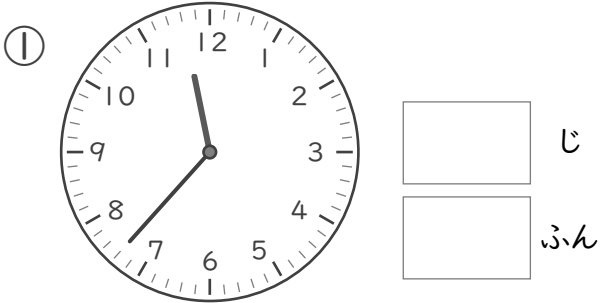


なんじなんぷん

ねん ぐみ
なまえ

/ 8

■ とけいを よみましょう。





なんじなんぷん


ねん くみ
なまえ


/ 8


■ とけいを よみましょう。


①  じ
 ぷん


⑤  じ
 ぷん


②  じ
 ぷん

⑥  じ
 ぷん

③  じ
 ぷん

⑦  じ
 ぷん

④  じ
 ぷん

⑧  じ
 ぷん

なんじなんぶん


ねん くみ

なまえ


/ 8

■ ながいはりをかきましょう。


① 8じ 44ぶん




⑤ 4じ 52ぶん




② 9じ 57ぶん




⑥ 6じ 28ぶん




③ 11じ 34ぶん




⑦ 3じ 11ぶん



④ 2じ 19ぶん



⑧ 1じ 1ぶん




なんじ なんじはん


ねん くみ
なまえ

/ 8


■ とけいを よみましょう。




10じ




11じ




8じはん




4じ




9じはん



5じはん



6じはん



7じ

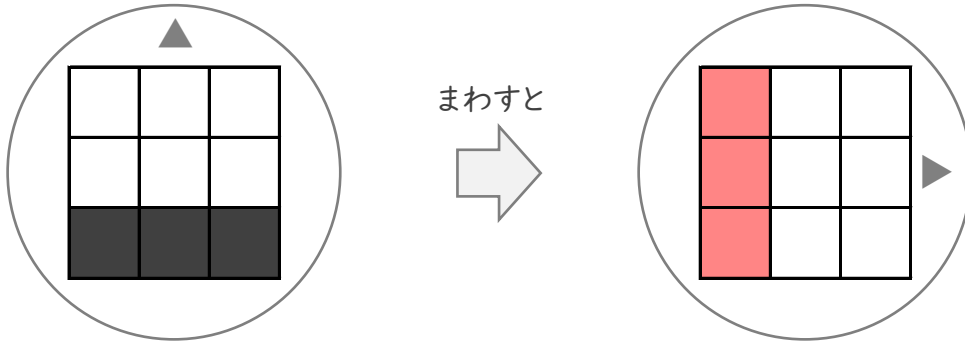
まわしてみよう

ねん くみ
なまえ

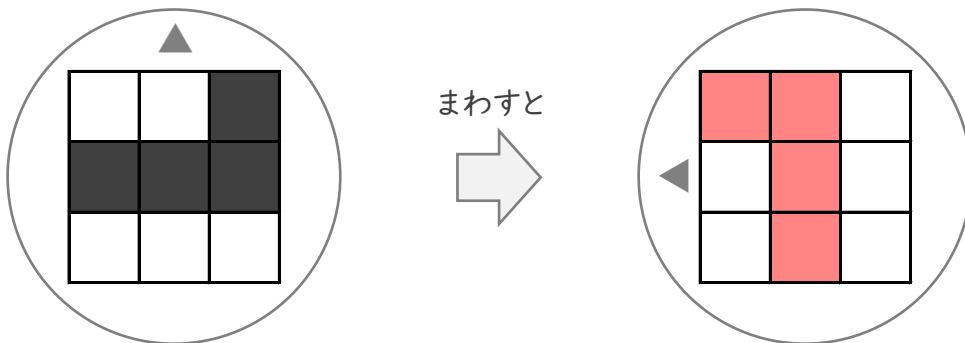
/ 3

■ まわしたかたちになるようにしかくをぬりましょう。

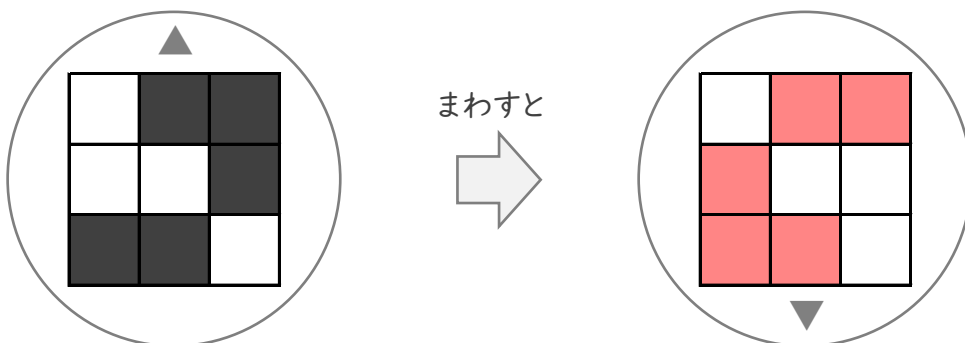
①



②



③



たしざん

ねん くみ
なまえ

/20

■ たしざんをしましょう。

$① \quad 9 + 6 = 15$

$② \quad 3 + 9 = 12$

$③ \quad 6 + 2 = 8$

$④ \quad 9 + 8 = 17$

$⑤ \quad 2 + 8 = 10$

$⑥ \quad 10 + 5 = 15$

$⑦ \quad 8 + 8 = 16$

$⑧ \quad 3 + 3 = 6$

$⑨ \quad 6 + 4 = 10$

$⑩ \quad 7 + 6 = 13$

$⑪ \quad 8 + 4 = 12$

$⑫ \quad 4 + 7 = 11$

$⑬ \quad 4 + 2 = 6$

$⑭ \quad 9 + 9 = 18$

$⑮ \quad 2 + 7 = 9$

$⑯ \quad 2 + 9 = 11$

$⑰ \quad 0 + 8 = 8$

$⑱ \quad 1 + 10 = 11$

$⑲ \quad 2 + 0 = 2$

$⑳ \quad 4 + 9 = 13$

ひきざん

ねん くみ
なまえ

/20

■ ひきざんをしましょう。

$① \quad 9 - 2 = 7$

$② \quad 11 - 2 = 9$

$③ \quad 17 - 9 = 8$

$④ \quad 13 - 7 = 6$

$⑤ \quad 9 - 8 = 1$

$⑥ \quad 12 - 9 = 3$

$⑦ \quad 8 - 2 = 6$

$⑧ \quad 11 - 3 = 8$

$⑨ \quad 7 - 0 = 7$

$⑩ \quad 18 - 9 = 9$

$⑪ \quad 10 - 2 = 8$

$⑫ \quad 2 - 2 = 0$

$⑬ \quad 17 - 7 = 10$

$⑭ \quad 16 - 10 = 6$

$⑮ \quad 12 - 5 = 7$

$⑯ \quad 10 - 6 = 4$

$⑰ \quad 14 - 6 = 8$

$⑱ \quad 12 - 6 = 6$

$⑲ \quad 7 - 5 = 2$

$⑳ \quad 13 - 8 = 5$

まほうじん

ねん くみ

なまえ

/ 4

■ まほうじん を つくりましょう。

まほうじんの
ルール

- ・ 1から9までの かず を すべて 1かいつつ つかう。
- ・ たて、よこ、ななめ にならんだかずを たすと、すべて 15 になる。

①

2	9	4
7	5	3
6	1	8

②

6	1	8
7	5	3
2	9	4

③

6	7	2
1	5	9
8	3	4

④

2	7	6
9	5	1
4	3	8

100までのかず

ねん くみ
なまえ

/ 30

■ ひょうの あいている ところには いる かずを かきましょう。

1	2	3	4	5	6	7	8	9	10
11	12	13	14	15	16	17	18	19	20
21	22	23	24	25	26	27	28	29	30
31	32	33	34	35	36	37	38	39	40
41	42	43	44	45	46	47	48	49	50
51	52	53	54	55	56	57	58	59	60
61	62	63	64	65	66	67	68	69	70
71	72	73	74	75	76	77	78	79	80
81	82	83	84	85	86	87	88	89	90
91	92	93	94	95	96	97	98	99	100

■ にはいる かずをかきましょう。

① あ - 42 - い - 32 - 27 - 22 - う

5ずつ へっている

あ

47

い

37

う

17

② え - 42 - お - 62 - 72 - か - 92

10ずつ ふえている

え

32

お

52

か

82

③ 22 - 24 - き - 28 - く - 32 - け

2ずつ ふえている

き

26

く

30

け

34

④ こ - 19 - さ - 13 - し - 7 - 4

3ずつ へっている

こ

22

さ

16

し

10

⑤ 97 - す - 89 - せ - 81 - 77 - そ

4ずつ へっている

す

93

せ

85

そ

73

大きいかず

ねん くみ
なまえ

/ 5

① 80 より大きいかずを1つ みつけましょう。

76 70 72 71 **86** 65 69 63 78 60

80 より大きいかず

86

② 40 より大きいかずを1つ みつけましょう。

20 34 31 23 27 **42** 30 36 35 32

40 より大きいかず

42

③ 30 より小さいかずを1つ みつけましょう。

40 36 **27** 34 41 45 39 48 50 37

30 より小さいかず

27

④ 50 より小さいかずを1つ みつけましょう。

69 55 51 60 **47** 58 70 62 66 57

50 より小さいかず

47

⑤ 70 より小さいかずを1つ みつけましょう。

77 **67** 74 80 76 71 85 82 78 90

70 より小さいかず

67

大きいかず

ねん くみ
なまえ

/ 4

■ べつべつの かずが かかれた たまが 20こ あります。

62	69	56	47	54
63	59	42	70	44
61	66	43	55	67
50	64	52	34	37

① 1ばん 小さい かずは なんですか。

34

② 2ばんめに 小さい かずは なんですか。

37

③ 1ばん 大きい かずは なんですか。

70

④ 2ばんめに 大きい かずは なんですか。

69


なんじなんぷん


ねん くみ


なまえ


/ 8


■ とけいを よみましょう。


①  じ
 ぷん


⑤  じ
 ぷん


②  じ
 ぷん

⑥  じ
 ぷん

③  じ
 ぷん

⑦  じ
 ぷん

④  じ
 ぷん

⑧  じ
 ぷん


なんじなんぷん


ねん くみ


なまえ


/ 8


■ とけいを よみましょう。


①  じ
 ぷん


⑤  じ
 ぷん


②  じ
 ぷん

⑥  じ
 ぷん

③  じ
 ぷん

⑦  じ
 ぷん

④  じ
 ぷん

⑧  じ
 ぷん

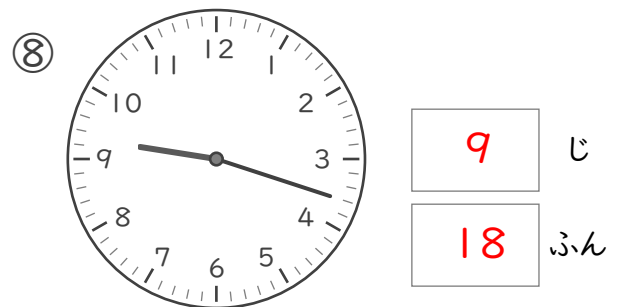
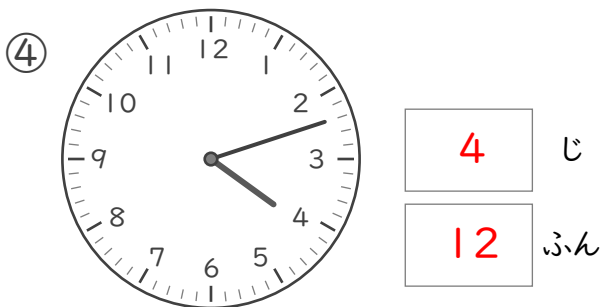
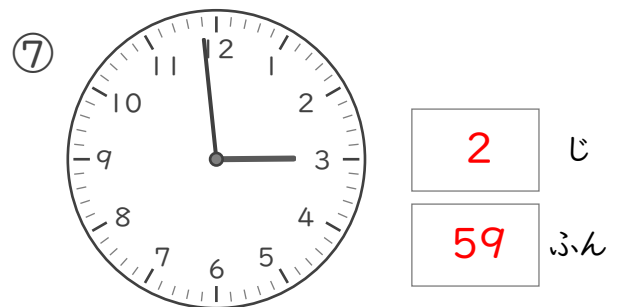
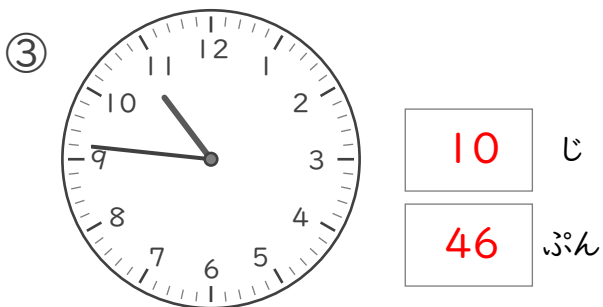

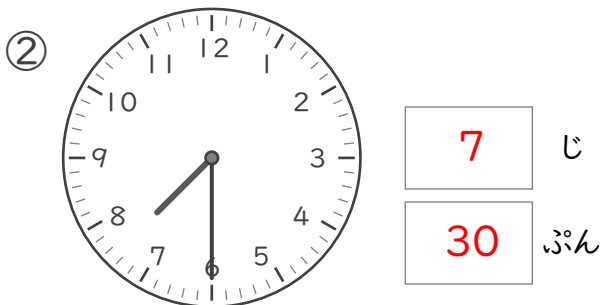
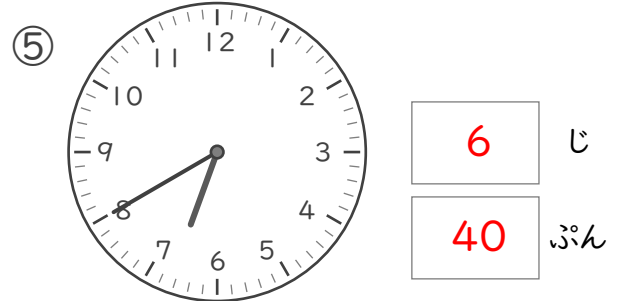
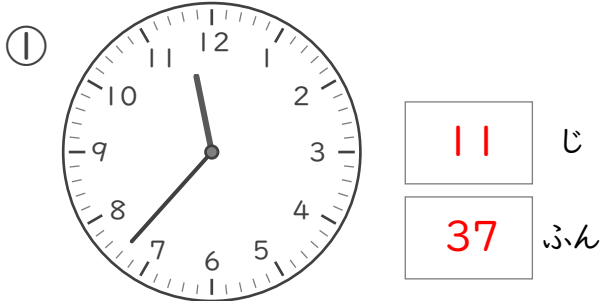
なんじなんぷん

ねん くみ

なまえ

/ 8

■ とけいを よみましょう。





なんじなんぷん


ねん ぐみ
なまえ


/ 8


■ とけいを よみましょう。


①  じ
 ぷん


⑤  じ
 ぷん


②  じ
 ぷん

⑥  じ
 ぷん

③  じ
 ぷん

⑦  じ
 ぷん

④  じ
 ぷん

⑧  じ
 ぷん

なんじなんぶん

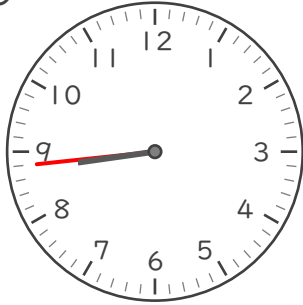
ねん ぐみ

なまえ

/ 8

■ ながい はりを かきましょう。

① 8じ 44ぶん



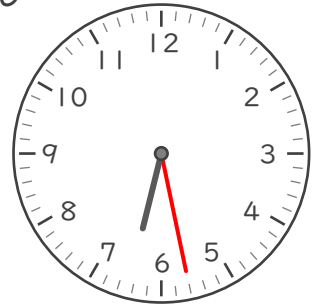
⑤ 4じ 52ぶん




② 9じ 57ぶん



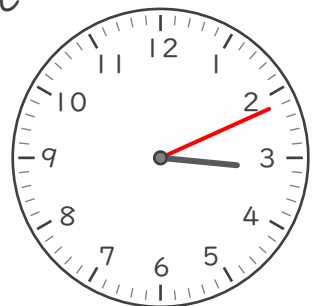
⑥ 6じ 28ぶん



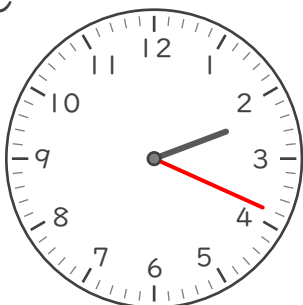
③ 11じ 34ぶん



⑦ 3じ 11ぶん



④ 2じ 19ぶん



⑧ 1じ 1ぶん

