

きょうざい  
教材おきば の

これだけ、あんしん安心

さんすう  
算数ドリル

1 - 17

小学1年生

もくじ

① たしざん 20 もんプリント	2 ページ
② ひきざん 20 もんプリント	2 ページ
③ まほうじん(魔方陣)	2 ページ
④ たしざんを つかって あんごうを ところ(2)	2 ページ
⑤ ひきざんのしきをたてて(2) 文章問題	2 ページ
⑥ 大きいほうの かず	2 ページ
⑦ 大きいかず 小さいかず	2 ページ
⑧ かずさがし 大きいかず・小さいかず	2 ページ
⑨ なんじなんぶん 5ふんきざみ	4 ページ
⑩ なんじなんぶん	4 ページ
⑪ なんじなんぶん 長針をかく	3 ページ

合計

27 ページ

# たしざん

ねん くみ  
なまえ

/20

■ たしざんをしましょう。

$① \quad 7 + 4 = \square$

$② \quad 8 + 7 = \square$

$③ \quad 7 + 7 = \square$

$④ \quad 4 + 6 = \square$

$⑤ \quad 6 + 6 = \square$

$⑥ \quad 8 + 9 = \square$

$⑦ \quad 6 + 3 = \square$

$⑧ \quad 8 + 1 = \square$

$⑨ \quad 9 + 3 = \square$

$⑩ \quad 9 + 7 = \square$

$⑪ \quad 3 + 3 = \square$

$⑫ \quad 9 + 5 = \square$

$⑬ \quad 3 + 5 = \square$

$⑭ \quad 2 + 10 = \square$

$⑮ \quad 0 + 2 = \square$

$⑯ \quad 10 + 0 = \square$

$⑰ \quad 5 + 5 = \square$

$⑱ \quad 10 + 1 = \square$

$⑲ \quad 5 + 8 = \square$

$⑳ \quad 5 + 6 = \square$

# たしざん

ねん くみ  
なまえ

/20

■ たしざんをしましょう。

$① \quad 9 + 5 = \square$

$② \quad 6 + 7 = \square$

$③ \quad 10 + 3 = \square$

$④ \quad 0 + 9 = \square$

$⑤ \quad 1 + 0 = \square$

$⑥ \quad 8 + 9 = \square$

$⑦ \quad 9 + 4 = \square$

$⑧ \quad 8 + 10 = \square$

$⑨ \quad 6 + 5 = \square$

$⑩ \quad 7 + 7 = \square$

$⑪ \quad 7 + 1 = \square$

$⑫ \quad 4 + 1 = \square$

$⑬ \quad 5 + 7 = \square$

$⑭ \quad 6 + 8 = \square$

$⑮ \quad 6 + 3 = \square$

$⑯ \quad 1 + 8 = \square$

$⑰ \quad 3 + 5 = \square$

$⑱ \quad 8 + 3 = \square$

$⑲ \quad 4 + 8 = \square$

$⑳ \quad 2 + 8 = \square$

# ひきざん

ねん くみ  
なまえ

/20

■ ひきざんをしましょう。

$① \quad 11 - 5 = \square$

$② \quad 10 - 6 = \square$

$③ \quad 13 - 10 = \square$

$④ \quad 8 - 8 = \square$

$⑤ \quad 18 - 8 = \square$

$⑥ \quad 16 - 8 = \square$

$⑦ \quad 10 - 5 = \square$

$⑧ \quad 10 - 3 = \square$

$⑨ \quad 13 - 4 = \square$

$⑩ \quad 5 - 2 = \square$

$⑪ \quad 12 - 6 = \square$

$⑫ \quad 15 - 8 = \square$

$⑬ \quad 2 - 1 = \square$

$⑭ \quad 11 - 3 = \square$

$⑮ \quad 12 - 4 = \square$

$⑯ \quad 13 - 7 = \square$

$⑰ \quad 10 - 0 = \square$

$⑱ \quad 10 - 9 = \square$

$⑲ \quad 13 - 5 = \square$

$⑳ \quad 18 - 9 = \square$

# ひきざん

ねん くみ  
なまえ

/20

■ ひきざんをしましょう。

①  $15 - 5 =$

②  $4 - 4 =$

③  $11 - 2 =$

④  $5 - 0 =$

⑤  $12 - 3 =$

⑥  $10 - 8 =$

⑦  $3 - 2 =$

⑧  $14 - 9 =$

⑨  $7 - 1 =$

⑩  $9 - 2 =$

⑪  $15 - 8 =$

⑫  $12 - 8 =$

⑬  $16 - 10 =$

⑭  $14 - 6 =$

⑮  $8 - 1 =$

⑯  $8 - 6 =$

⑰  $11 - 3 =$

⑱  $12 - 6 =$

⑲  $18 - 9 =$

⑳  $12 - 7 =$

# まほうじん

ねん くみ

なまえ

/ 4

■ まほうじん を つくりましょう。

まほうじんの  
ルール

- ・ 1から9までの かず を すべて 1かいつつ つかう。
- ・ たて、よこ、ななめ にならんだかずを たすと、すべて 15 になる。

①

4		
	5	1

②

	1	8
	5	

③

		7
8		6

④

6		2
	5	

# まほうじん

ねん くみ  
なまえ

/ 4

■ まほうじん を つくりましょう。

まほうじんの  
ルール

- ・ 1から9までの かず を すべて 1かいつつ つかう。
- ・ たて、よこ、ななめ にならんだかずを たすと、すべて 15 になる。

①

6	7	
		4

②

		2
3		7

③

4	3	
		1

④

6		
	5	3

# たしざんをつかって

ねん くみ  
なまえ

/ 6

■ たしざんをつかって あんごうを ときましょう。

①

$5+6$	$7+7$	$6+9$	$8+8$	$10+10$	$9+8$	$5+7$	$8+10$

11. ら      12. ば      13. み      14. く      15. が  
16. き      17. ん      18. る      19. ま      20. し

②

$5+8$	$8+10$	$4+7$	$9+10$	$10+10$	$9+6$	$6+6$	$8+8$

11. ん      12. さ      13. い      14. ペ      15. う  
16. く      17. ひ      18. ベ      19. と      20. こ

③

$8+7$	$9+5$	$10+9$	$8+9$	$8+4$	$8+5$	$10+10$	$9+9$

11. お      12. ひ      13. こ      14. じ      15. え  
16. ふ      17. と      18. き      19. ぶ      20. う



# たしざんをつかって

ねん くみ  
なまえ

/ 6

■ たしざんをつかって あんごうを ときましょう。

①

$10 + 10$	$7 + 4$	$10 + 9$	$6 + 7$	$5 + 7$	$8 + 10$	$9 + 6$	$6 + 8$

11. た      12. か      13. こ      14. ん      15. ぶ  
16. す      17. な      18. な      19. ば      20. げ

②

$4 + 9$	$10 + 10$	$9 + 8$	$8 + 6$	$9 + 3$	$7 + 9$	$3 + 8$	$10 + 9$

11. た      12. で      13. ぱ      14. ん      15. や  
16. ん      17. こ      18. な      19. く      20. そ

③

$3 + 9$	$8 + 7$	$9 + 10$	$5 + 9$	$9 + 8$	$10 + 8$	$3 + 8$	$9 + 4$

11. か      12. お      13. つ      14. じ      15. れ  
16. だ      17. と      18. ん      19. ん      20. か

# ひきざん(2)

ねん くみ  
なまえ

17

- ① いろがみが 17まい あります。

8まい つかうと、のこりは なんまい ですか。

(しき)

- ② 19わの とりが きにとまっています。

8わが とんでいくと、のこりは なんわ ですか。

(しき)

- ③ みかんを 12こ もっています。

ともだちに 8こ あげると、なんこ のこりますか。

(しき)

- ④ らむねが 18こ あります。

9こ たべると、のこりは なんこ ですか。

(しき)

- ⑤ 16まいの かあどが あります。

6まいが おもてを むいています。なんまいが うらむき ですか。

(しき)

- ⑥ 17とうの うまが います。

おすは 9とうです。めすは なんとう ですか。

(しき)

- ⑦ 15ぺえじの えほんが あります。

9ぺえじ よむと、のこりは なんぺえじ ですか。

(しき)

## ひきざん(2)

ねん くみ  
なまえ

17

- ① 15まいのかあとがあります。

9まいがおもてをむいています。なんまいがうらむきですか。

(しき)

- ② 11ぺえじのえほんがあります。

3ぺえじよむと、のこりはなんぺえじですか。

(しき)

- ③ くりを13こもっています。

ともだちに5こあげると、なんこのこりますか。

(しき)

- ④ らむねが13こあります。

6こたべると、のこりはなんこですか。

(しき)

- ⑤ 14とうのかばがいます。

めすは2とうです。おすはなんとうですか。

(しき)

- ⑥ バスに11にんのひとがのっています。

5にんおりると、のこりはなんにんですか。

(しき)

- ⑦ ふうせんが11こあります。

7こわれると、のこりはなんこですか。

(しき)

# 大きいほうの かず

ねん くみ  
なまえ

/18

■ 大きいほうの かず を こたえましょう。

①  と

②  と

③  と

④  と

⑤  と

⑥  と

⑦  と

⑧  と

⑨  と

⑩  と

⑪  と

⑫  と

⑬  と

⑭  と

⑮  と

⑯  と

⑰  と

⑱  と

# 大きいほうの かず

ねん くみ  
なまえ

/18

■ 大きいほうの かず を こたえましょう。

①  と

②  と

③  と

④  と

⑤  と

⑥  と

⑦  と

⑧  と

⑨  と

⑩  と

⑪  と

⑫  と

⑬  と

⑭  と

⑮  と

⑯  と

⑰  と

⑱  と

# 大きいかず

ねん くみ  
なまえ

/ 5

① 70 より大きいかずを1つ みつけましょう。

69 63 78 54 67 50 60 61 56 68

70 より大きいかず

② 40 より大きいかずを1つ みつけましょう。

21 42 30 32 37 35 20 24 36 33

40 より大きいかず

③ 60 より小さいかずを1つ みつけましょう。

67 63 72 61 74 80 69 76 70 52

60 より小さいかず

④ 50 より大きいかずを1つ みつけましょう。

35 53 40 44 30 43 32 48 49 46

50 より大きいかず

⑤ 80 より小さいかずを1つ みつけましょう。

82 100 83 84 90 96 75 81 88 99

80 より小さいかず

# 大きいかず

ねん くみ  
なまえ

/ 5

① 70 より大きいかずを1つ みつけましょう。

62 64 55 79 60 58 67 69 66 50

70 より大きいかず

② 30 より小さいかずを1つ みつけましょう。

38 27 37 35 32 44 50 41 40 36

30 より小さいかず

③ 60 より小さいかずを1つ みつけましょう。

80 51 76 64 70 67 68 71 62 73

60 より小さいかず

④ 50 より小さいかずを1つ みつけましょう。

68 70 54 48 56 60 55 57 51 63

50 より小さいかず

⑤ 80 より大きいかずを1つ みつけましょう。

78 77 61 70 85 72 74 76 69 60

80 より大きいかず

# 大きいかず

ねん くみ  
なまえ

/ 4

■ べつべつのかずがかかれたたまが 20こ あります。

13	30	65	25	57
17	32	66	24	35
10	36	39	53	60
68	15	34	58	33

① 1ばん 小さい かずは なんですか。

② 2ばんめに 小さい かずは なんですか。

③ 1ばん 大きい かずは なんですか。

④ 2ばんめに 大きい かずは なんですか。



# 大きいかず

ねん くみ  
なまえ

/ 4

■ べつべつの かずが かかれた たまが 20こ あります。

57	66	41	37	69
65	40	39	61	52
38	78	48	70	51
58	71	44	45	54

① 1ばん 小さい かずは なんですか。

② 2ばんめに 小さい かずは なんですか。

③ 1ばん 大きい かずは なんですか。


④ 2ばんめに 大きい かずは なんですか。


# なんじなんぷん


ねん くみ  
なまえ


/ 8


■ とけいを よみましょう。


①   じ  
 ぷん


⑤   じ  
 ぷん


②   じ  
 ぷん

⑥   じ  
 ぷん

③   じ  
 ぷん

⑦   じ  
 ぷん


④   じ  
 ぷん


⑧   じ  
 ぷん


なんじなんぷん


ねん ぐみ  
なまえ


■ とけいを よみましょう。


①   じ  
 ぷん


⑤   じ  
 ぷん


②   じ  
 ぷん

⑥   じ  
 ぷん

③   じ  
 ぷん

⑦   じ  
 ぷん


④   じ  
 ぷん


⑧   じ  
 ぷん


なんじなんぷん


ねん ぐみ  
なまえ


■ とけいを よみましょう。


①   じ  
 ぷん


⑤   じ  
 ぷん


②   じ  
 ぷん

⑥   じ  
 ぷん

③   じ  
 ぷん

⑦   じ  
 ぷん

④   じ  
 ぷん

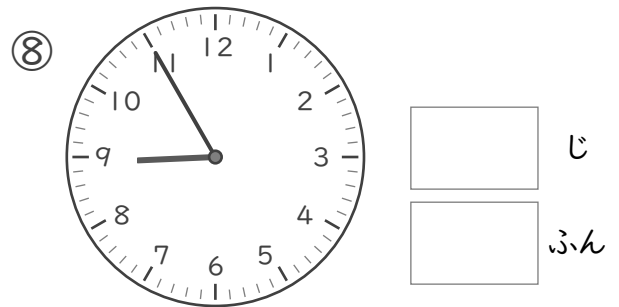
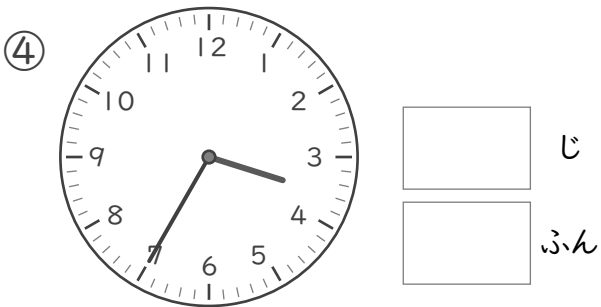
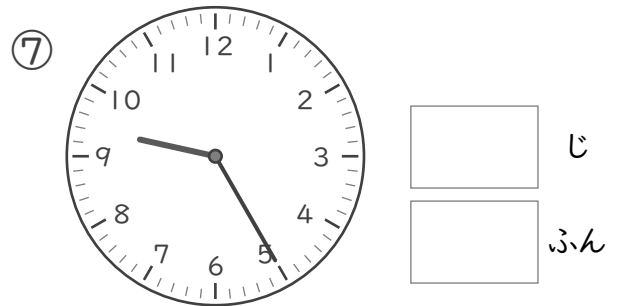
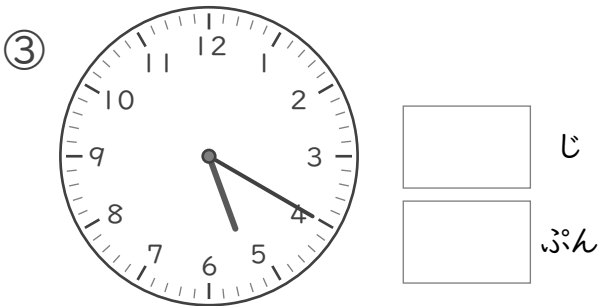
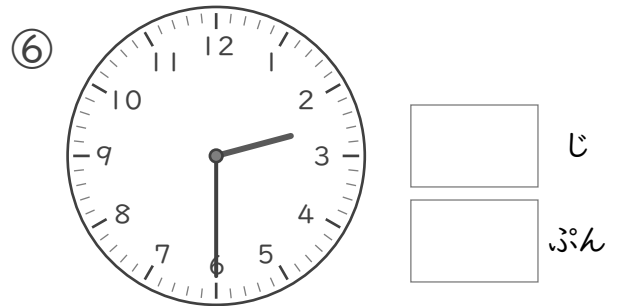
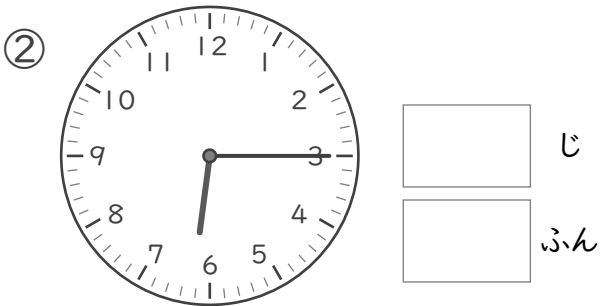
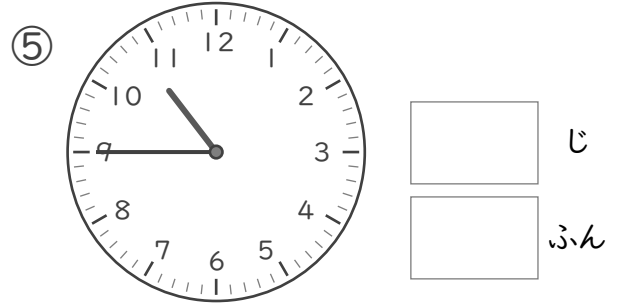
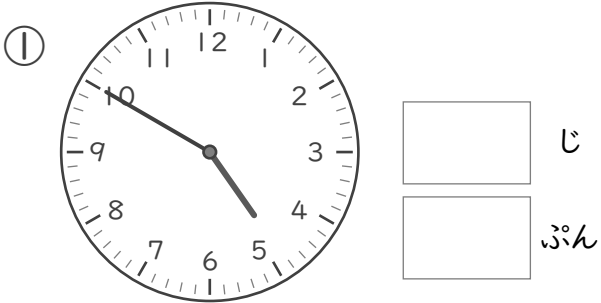
⑧   じ  
 ぷん

# なんじなんぷん

ねん ぐみ  
なまえ

/ 8


■ とけいを よみましょう。





なんじなんぷん


ねん くみ  
なまえ


■ とけいを よみましょう。


①   じ  
 ぷん


⑤   じ  
 ぷん


②   じ  
 ぷん

⑥   じ  
 ぷん

③   じ  
 ぷん

⑦   じ  
 ぷん

④   じ  
 ぷん


⑧   じ  
 ぷん


# なんじなんぷん


ねん くみ  
なまえ


/ 8


■ とけいを よみましょう。


①   じ  
 ぷん


⑤   じ  
 ぷん


②   じ  
 ぷん

⑥   じ  
 ぷん

③   じ  
 ぷん

⑦   じ  
 ぷん

④   じ  
 ぷん

⑧   じ  
 ぷん


# なんじなんぷん


ねん くみ


なまえ


/ 8


■ とけいを よみましょう。


①   じ  
 ぷん


⑤   じ  
 ぷん


②   じ  
 ぷん

⑥   じ  
 ぷん

③   じ  
 ぷん

⑦   じ  
 ぷん

④   じ  
 ぷん

⑧   じ  
 ぷん





# なんじなんぷん


ねん ぐみ  
なまえ


/ 8


■ とけいを よみましょう。


①   じ  
 ぷん


⑤   じ  
 ぷん


②   じ  
 ぷん

⑥   じ  
 ぷん

③   じ  
 ぷん

⑦   じ  
 ぷん

④   じ  
 ぷん

⑧   じ  
 ぷん

なんじなんぶん

ねん くみ

なまえ


/ 8

■ ながいはりをかきましょう。


① 1じ2ぶん




⑤ 9じ58ぶん




② 3じ12ぶん




⑥ 5じ18ぶん




③ 7じ48ぶん




⑦ 2じ40ぶん



④ 6じ25ぶん



⑧ 12じ32ぶん



なんじなんぶん


ねん くみ

なまえ


/ 8

■ ながいはりをかきましょう。


① 7じ7ぶん




⑤ 10じ59ぶん




② 8じ50ぶん




⑥ 6じ21ぶん




③ 1じ26ぶん




⑦ 12じ37ぶん



④ 2じ41ぶん



⑧ 5じ11ぶん



なんじなんぶん


ねん くみ

なまえ


/ 8

■ ながいはりをかきましょう。


① 6じ45ぶん




⑤ 1じ55ぶん




② 9じ50ぶん




⑥ 7じ25ぶん




③ 8じ14ぶん




⑦ 11じ17ぶん



④ 3じ37ぶん



⑧ 12じ6ぶん



# たしざん

ねん くみ  
なまえ

/20

■ たしざんをしましょう。

$① \quad 7 + 4 = 11$

$② \quad 8 + 7 = 15$

$③ \quad 7 + 7 = 14$

$④ \quad 4 + 6 = 10$

$⑤ \quad 6 + 6 = 12$

$⑥ \quad 8 + 9 = 17$

$⑦ \quad 6 + 3 = 9$

$⑧ \quad 8 + 1 = 9$

$⑨ \quad 9 + 3 = 12$

$⑩ \quad 9 + 7 = 16$

$⑪ \quad 3 + 3 = 6$

$⑫ \quad 9 + 5 = 14$

$⑬ \quad 3 + 5 = 8$

$⑭ \quad 2 + 10 = 12$

$⑮ \quad 0 + 2 = 2$

$⑯ \quad 10 + 0 = 10$

$⑰ \quad 5 + 5 = 10$

$⑱ \quad 10 + 1 = 11$

$⑲ \quad 5 + 8 = 13$

$⑳ \quad 5 + 6 = 11$

# たしざん

ねん くみ  
なまえ

/20

■ たしざんをしましょう。

$① \quad 9 + 5 = 14$

$② \quad 6 + 7 = 13$

$③ \quad 10 + 3 = 13$

$④ \quad 0 + 9 = 9$

$⑤ \quad 1 + 0 = 1$

$⑥ \quad 8 + 9 = 17$

$⑦ \quad 9 + 4 = 13$

$⑧ \quad 8 + 10 = 18$

$⑨ \quad 6 + 5 = 11$

$⑩ \quad 7 + 7 = 14$

$⑪ \quad 7 + 1 = 8$

$⑫ \quad 4 + 1 = 5$

$⑬ \quad 5 + 7 = 12$

$⑭ \quad 6 + 8 = 14$

$⑮ \quad 6 + 3 = 9$

$⑯ \quad 1 + 8 = 9$

$⑰ \quad 3 + 5 = 8$

$⑱ \quad 8 + 3 = 11$

$⑲ \quad 4 + 8 = 12$

$⑳ \quad 2 + 8 = 10$

# ひきざん

ねん くみ  
なまえ

/20

■ ひきざんをしましょう。

$① \quad 11 - 5 = 6$

$② \quad 10 - 6 = 4$

$③ \quad 13 - 10 = 3$

$④ \quad 8 - 8 = 0$

$⑤ \quad 18 - 8 = 10$

$⑥ \quad 16 - 8 = 8$

$⑦ \quad 10 - 5 = 5$

$⑧ \quad 10 - 3 = 7$

$⑨ \quad 13 - 4 = 9$

$⑩ \quad 5 - 2 = 3$

$⑪ \quad 12 - 6 = 6$

$⑫ \quad 15 - 8 = 7$

$⑬ \quad 2 - 1 = 1$

$⑭ \quad 11 - 3 = 8$

$⑮ \quad 12 - 4 = 8$

$⑯ \quad 13 - 7 = 6$

$⑰ \quad 10 - 0 = 10$

$⑱ \quad 10 - 9 = 1$

$⑲ \quad 13 - 5 = 8$

$⑳ \quad 18 - 9 = 9$

# ひきざん

ねん くみ  
なまえ

/20

■ ひきざんをしましょう。

$① \quad 15 - 5 = 10$

$② \quad 4 - 4 = 0$

$③ \quad 11 - 2 = 9$

$④ \quad 5 - 0 = 5$

$⑤ \quad 12 - 3 = 9$

$⑥ \quad 10 - 8 = 2$

$⑦ \quad 3 - 2 = 1$

$⑧ \quad 14 - 9 = 5$

$⑨ \quad 7 - 1 = 6$

$⑩ \quad 9 - 2 = 7$

$⑪ \quad 15 - 8 = 7$

$⑫ \quad 12 - 8 = 4$

$⑬ \quad 16 - 10 = 6$

$⑭ \quad 14 - 6 = 8$

$⑮ \quad 8 - 1 = 7$

$⑯ \quad 8 - 6 = 2$

$⑰ \quad 11 - 3 = 8$

$⑱ \quad 12 - 6 = 6$

$⑲ \quad 18 - 9 = 9$

$⑳ \quad 12 - 7 = 5$



# まほうじん

ねん くみ

なまえ

/ 4

■ まほうじん を つくりましょう。

まほうじんの  
ルール

- ・ 1から9までの かず を すべて 1かいつつつかう。
- ・ たて、よこ、ななめ にならんだかずを たすと、すべて 15 になる。

①

4	3	8
9	5	1
2	7	6

②

6	1	8
7	5	3
2	9	4

③

4	9	2
3	5	7
8	1	6

④

6	7	2
1	5	9
8	3	4

# まほうじん

ねん くみ

なまえ

/ 4

■ まほうじん を つくりましょう。

まほうじんの  
ルール

- ・ 1から9までの かず を すべて 1かいつつ つかう。
- ・ たて、よこ、ななめ にならんだかずを たすと、すべて 15 になる。

①

6	7	2
1	5	9
8	3	4

②

4	9	2
3	5	7
8	1	6

③

4	3	8
9	5	1
2	7	6

④

6	1	8
7	5	3
2	9	4

# たしざんをつかって

ねん くみ  
なまえ

/ 6

■ たしざんをつかって あんごうを ときましょう。

①

$5+6$	$7+7$	$6+9$	$8+8$	$10+10$	$9+8$	$5+7$	$8+10$
ら	く	が	き	し	ん	ば	る

11. ら      12. ば      13. み      14. く      15. が  
16. き      17. ん      18. る      19. ま      20. し

②

$5+8$	$8+10$	$4+7$	$9+10$	$10+10$	$9+6$	$6+6$	$8+8$
い	べ	ん	と	こ	う	さ	く

11. ん      12. さ      13. い      14. ペ      15. う  
16. く      17. ひ      18. べ      19. と      20. こ

③

$8+7$	$9+5$	$10+9$	$8+9$	$8+4$	$8+5$	$10+10$	$9+9$
え	じ	ふ	と	ひ	こ	う	き

11. お      12. ひ      13. こ      14. じ      15. え  
16. ふ      17. と      18. き      19. ぶ      20. う

# たしざんをつかって

ねん くみ  
なまえ

■ たしざんをつかって あんごうを ときましょう。

①

$10+10$	$7+4$	$10+9$	$6+7$	$5+7$	$8+10$	$9+6$	$6+8$
げ	た	ば	こ	か	な	ぶ	ん

11. た    12. か    13. こ    14. ん    15. ぶ  
16. す    17. な    18. な    19. ば    20. げ

②

$4+9$	$10+10$	$9+8$	$8+6$	$9+3$	$7+9$	$3+8$	$10+9$
ぱ	そ	こ	ん	で	ん	た	く

11. た    12. で    13. ぱ    14. ん    15. や  
16. ん    17. こ    18. な    19. く    20. そ

③

$3+9$	$8+7$	$9+10$	$5+9$	$9+8$	$10+8$	$3+8$	$9+4$
お	れ	ん	じ	と	ん	か	つ

11. か    12. お    13. つ    14. じ    15. れ  
16. だ    17. と    18. ん    19. ん    20. か

# ひきざん(2)

ねん くみ  
なまえ

17

- ① いろがみが 17まい あります。

8まい つかうと、のこりは なんまい ですか。

(しき)  $17 - 8 = 9$

9まい

- ② 19わの とりが きにとまっています。

8わが とんでいくと、のこりは なんわ ですか。

(しき)  $19 - 8 = 11$

11わ

- ③ みかんを 12こ もっています。

ともだちに 8こ あげると、なんこ のこりますか。

(しき)  $12 - 8 = 4$

4こ

- ④ らむねが 18こ あります。

9こ たべると、のこりは なんこ ですか。

(しき)  $18 - 9 = 9$

9こ

- ⑤ 16まいの かあどが あります。

6まいが おもてを むいています。なんまいが うらむき ですか。

(しき)  $16 - 6 = 10$

10まい

- ⑥ 17とうの うまが います。

おすは 9とうです。めすは なんとう ですか。

(しき)  $17 - 9 = 8$

8とう

- ⑦ 15ぺえじの えほんが あります。

9ぺえじ よむと、のこりは なんぺえじ ですか。

(しき)  $15 - 9 = 6$

6ぺえじ

# ひきざん(2)

ねん くみ  
なまえ

17

- ① 15まいのかあどがあります。

9まいがおもてをむいています。なんまいがうらむきですか。

(しき)  $15 - 9 = 6$

6まい

- ② 11ぺえじのえほんがあります。

3ぺえじよむと、のこりはなんぺえじですか。

(しき)  $11 - 3 = 8$

8ぺえじ

- ③ くりを13こもっています。

ともだちに5こあげると、なんこのこりますか。

(しき)  $13 - 5 = 8$

8こ

- ④ らむねが13こあります。

6こたべると、のこりはなんこですか。

(しき)  $13 - 6 = 7$

7こ

- ⑤ 14とうのかばがいます。

めすは2とうです。おすはなんとうですか。

(しき)  $14 - 2 = 12$

12とう

- ⑥ バスに11にんのひとがのっています。

5にんおりると、のこりはなんにんですか。

(しき)  $11 - 5 = 6$

6にん

- ⑦ ふうせんが11こあります。

7こわれると、のこりはなんこですか。

(しき)  $11 - 7 = 4$

4こ

# 大きいほうの かず

ねん くみ  
なまえ

/18

■ 大きいほうの かず を こたえましょう。

- |   |    |   |    |    |   |    |   |    |    |
|---|----|---|----|----|---|----|---|----|----|
| ① | 18 | と | 28 | 28 | ⑩ | 81 | と | 91 | 91 |
| ② | 56 | と | 47 | 56 | ⑪ | 87 | と | 84 | 87 |
| ③ | 47 | と | 38 | 47 | ⑫ | 22 | と | 32 | 32 |
| ④ | 55 | と | 52 | 55 | ⑬ | 63 | と | 53 | 63 |
| ⑤ | 44 | と | 54 | 54 | ⑭ | 71 | と | 85 | 85 |
| ⑥ | 77 | と | 69 | 77 | ⑮ | 65 | と | 75 | 75 |
| ⑦ | 33 | と | 38 | 38 | ⑯ | 91 | と | 86 | 91 |
| ⑧ | 17 | と | 13 | 17 | ⑰ | 69 | と | 63 | 69 |
| ⑨ | 55 | と | 66 | 66 | ⑱ | 73 | と | 76 | 76 |

# 大きいほうの かず

ねん くみ  
なまえ

/18

■ 大きいほうの かず を こたえましょう。

- |   |    |   |    |    |   |    |   |    |    |
|---|----|---|----|----|---|----|---|----|----|
| ① | 21 | と | 31 | 31 | ⑩ | 38 | と | 46 | 46 |
| ② | 24 | と | 11 | 24 | ⑪ | 53 | と | 43 | 53 |
| ③ | 28 | と | 18 | 28 | ⑫ | 75 | と | 85 | 85 |
| ④ | 82 | と | 92 | 92 | ⑬ | 45 | と | 43 | 45 |
| ⑤ | 33 | と | 32 | 33 | ⑭ | 71 | と | 86 | 86 |
| ⑥ | 53 | と | 45 | 53 | ⑮ | 64 | と | 58 | 64 |
| ⑦ | 84 | と | 85 | 85 | ⑯ | 25 | と | 21 | 25 |
| ⑧ | 67 | と | 65 | 67 | ⑰ | 34 | と | 44 | 44 |
| ⑨ | 26 | と | 34 | 34 | ⑱ | 53 | と | 58 | 58 |



# 大きいかず

ねん くみ  
なまえ

/ 5

① 70 より大きいかずを1つ みつけましょう。

69 63 **78** 54 67 50 60 61 56 68

70 より大きいかず

**78**

② 40 より大きいかずを1つ みつけましょう。

21 **42** 30 32 37 35 20 24 36 33

40 より大きいかず

**42**

③ 60 より小さいかずを1つ みつけましょう。

67 63 72 61 74 80 69 76 70 **52**

60 より小さいかず

**52**

④ 50 より大きいかずを1つ みつけましょう。

35 **53** 40 44 30 43 32 48 49 46

50 より大きいかず

**53**

⑤ 80 より小さいかずを1つ みつけましょう。

82 100 83 84 90 96 **75** 81 88 99

80 より小さいかず

**75**

# 大きいかず

ねん くみ  
なまえ

/ 5

① 70 より大きいかずを1つ みつけましょう。

62 64 55 **79** 60 58 67 69 66 50

70 より大きいかず

**79**

② 30 より小さいかずを1つ みつけましょう。

38 **27** 37 35 32 44 50 41 40 36

30 より小さいかず

**27**

③ 60 より小さいかずを1つ みつけましょう。

80 **51** 76 64 70 67 68 71 62 73

60 より小さいかず

**51**

④ 50 より小さいかずを1つ みつけましょう。

68 70 54 **48** 56 60 55 57 51 63

50 より小さいかず

**48**

⑤ 80 より大きいかずを1つ みつけましょう。

78 77 61 70 **85** 72 74 76 69 60

80 より大きいかず

**85**

# 大きいかず

ねん くみ  
なまえ

/ 4

■ べつべつの かずが かかれた たまが 20こ あります。

13	30	65	25	57
17	32	66	24	35
10	36	39	53	60
68	15	34	58	33

① 1ばん 小さい かずは なんですか。

10

② 2ばんめに 小さい かずは なんですか。

13

③ 1ばん 大きい かずは なんですか。

68

④ 2ばんめに 大きい かずは なんですか。

66

# 大きいかず

ねん くみ  
なまえ

/ 4

■ べつべつのかずがかかれたたまが 20こ あります。

57	66	41	37	69
65	40	39	61	52
38	78	48	70	51
58	71	44	45	54

① 1ばん 小さい かずは なんですか。

37

② 2ばんめに 小さい かずは なんですか。

38

③ 1ばん 大きい かずは なんですか。

78

④ 2ばんめに 大きい かずは なんですか。

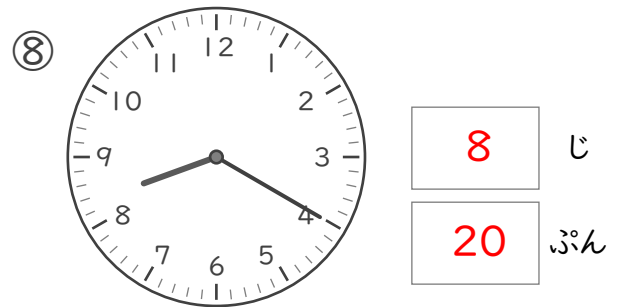
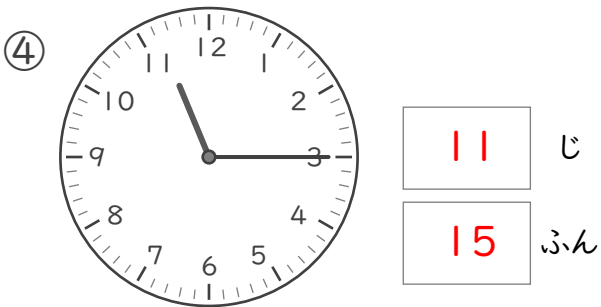
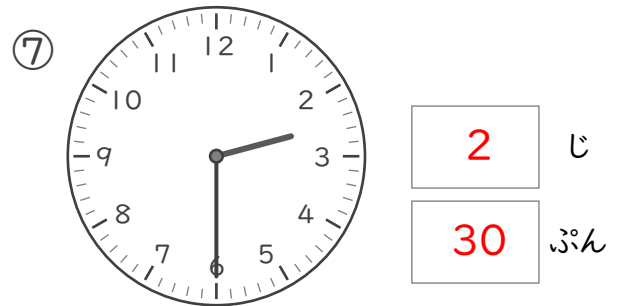
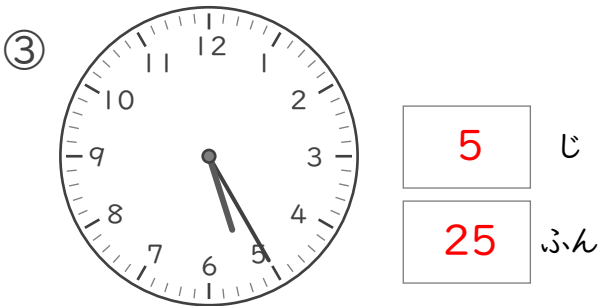

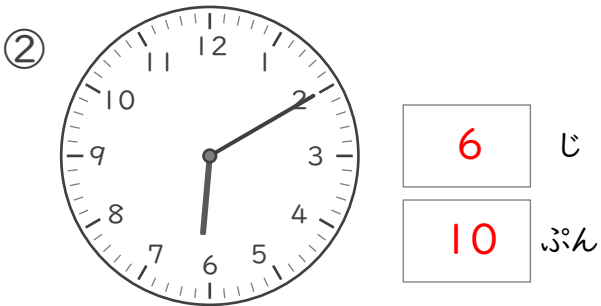
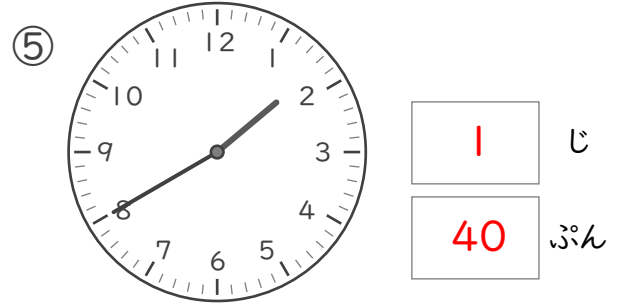
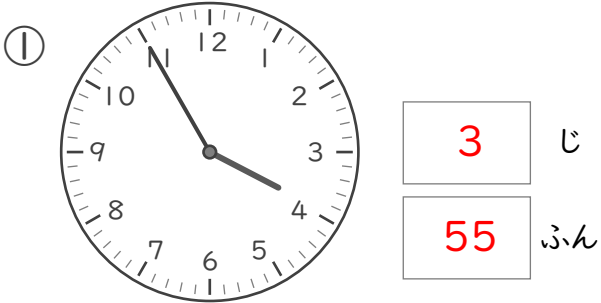
71

なんじなんぷん

ねん くみ  
なまえ

/ 8

■ とけいを よみましょう。

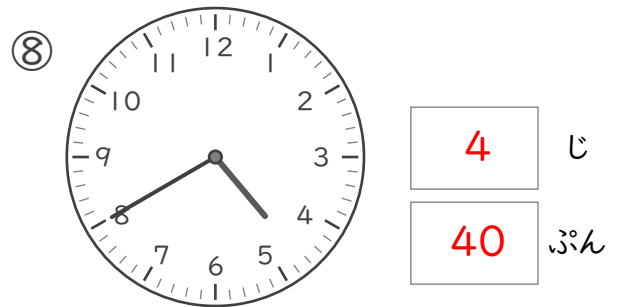
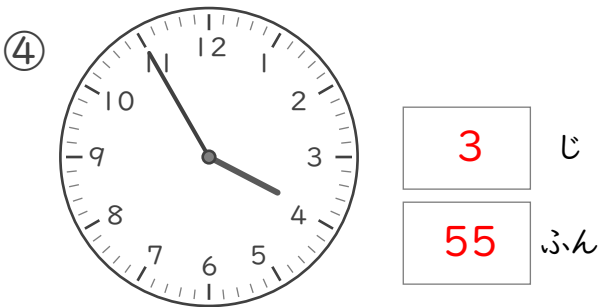
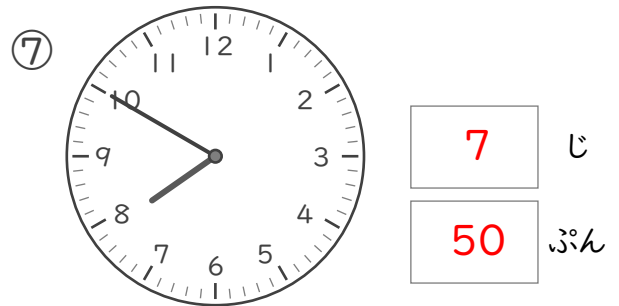
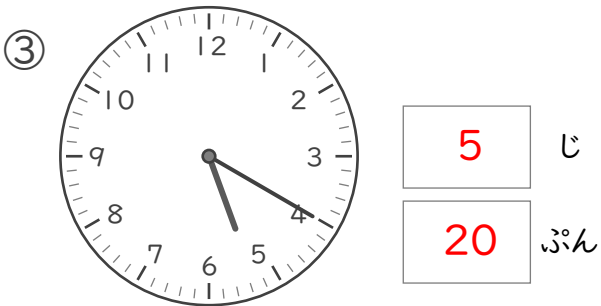
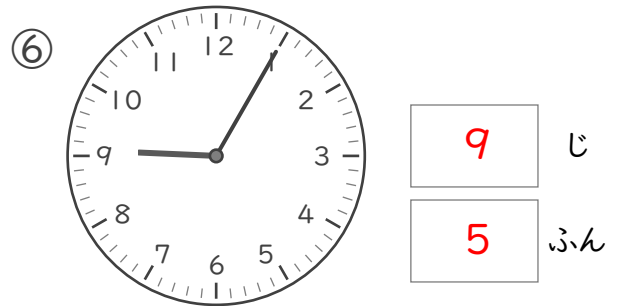
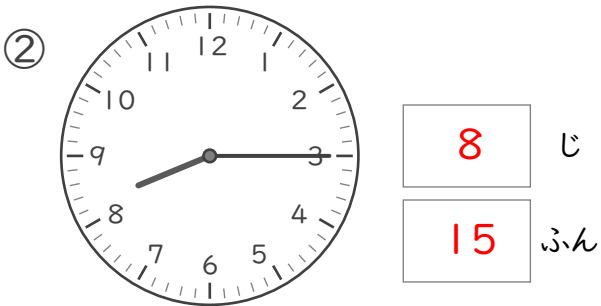
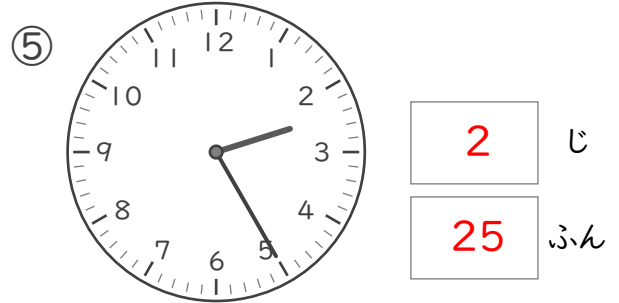
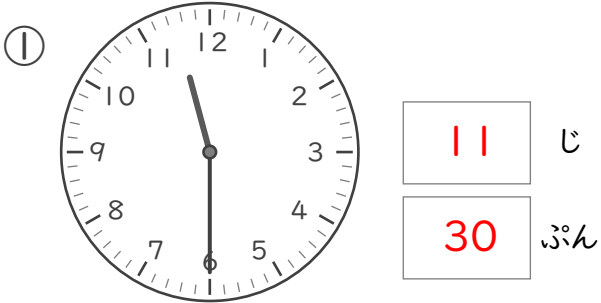


なんじなんぷん

ねん くみ  
なまえ

/ 8

■ とけいを よみましょう。

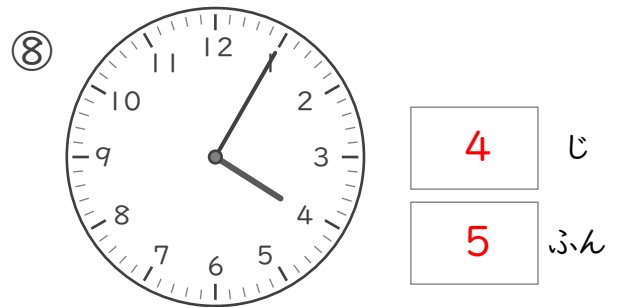
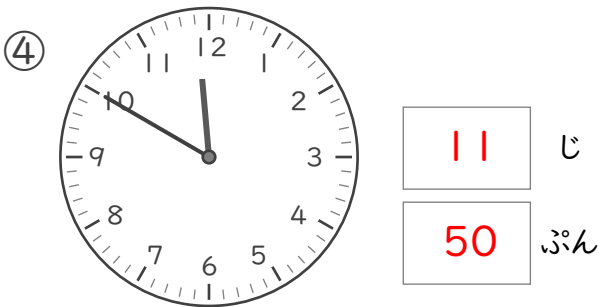
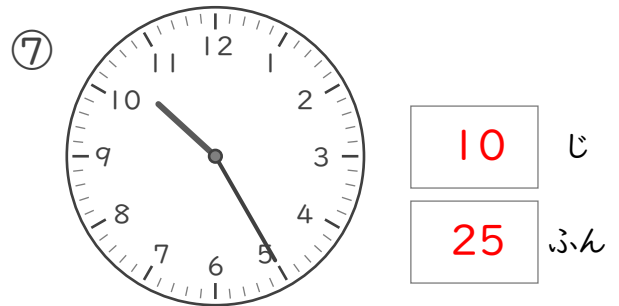
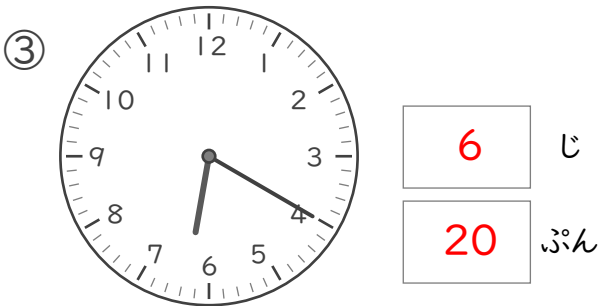
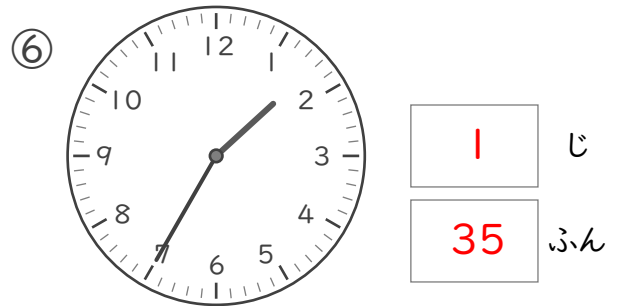
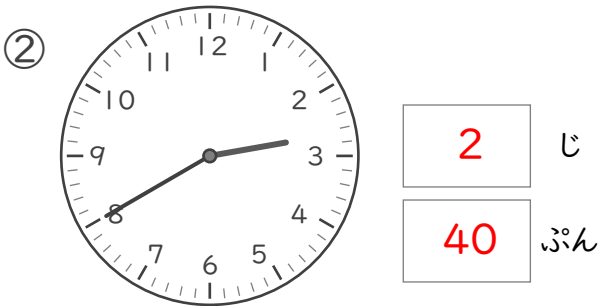
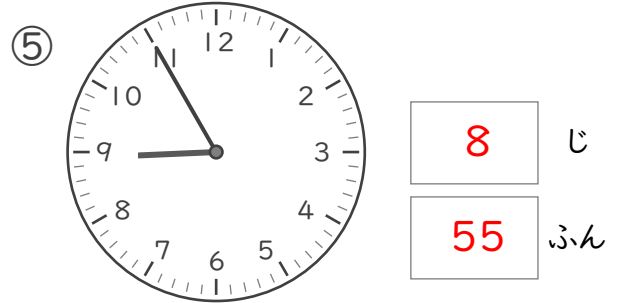
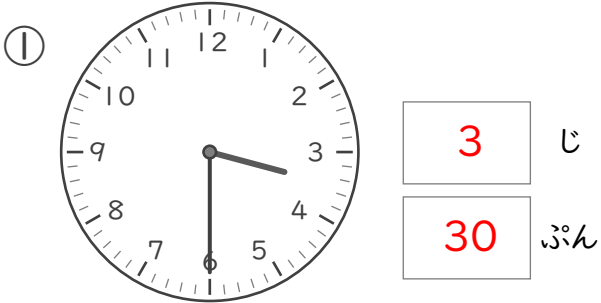


# なんじなんぷん

ねん ぐみ  
なまえ

/ 8

■ とけいを よみましょう。

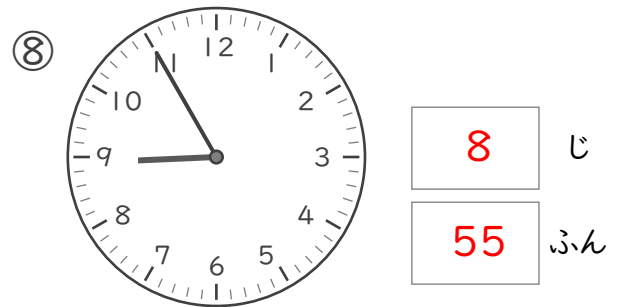
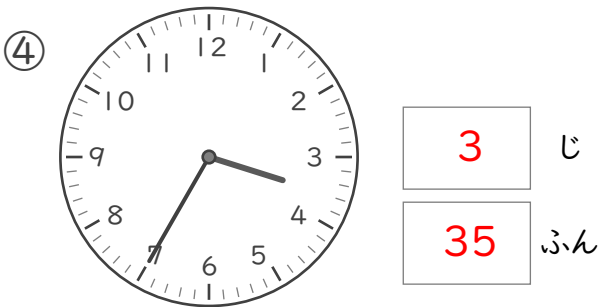
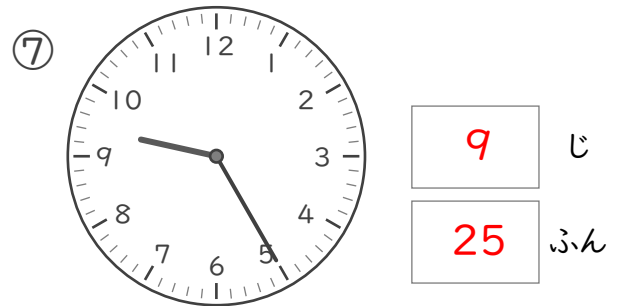
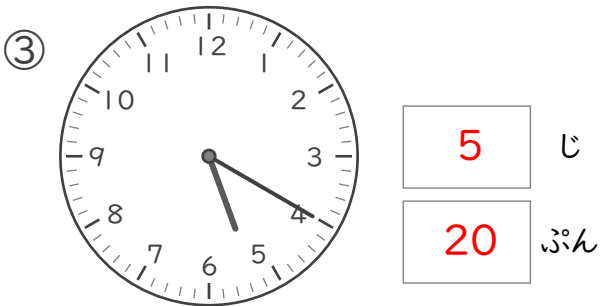
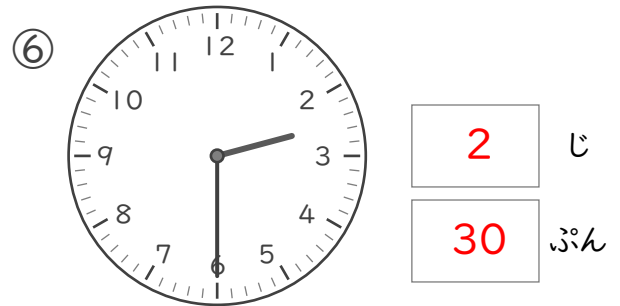
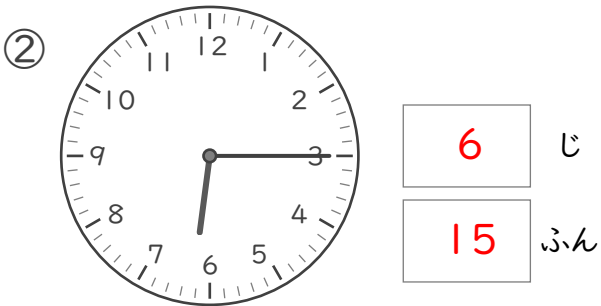
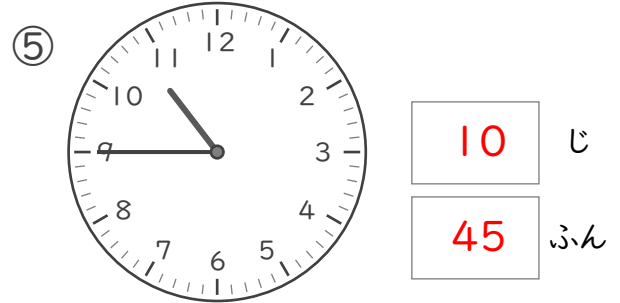
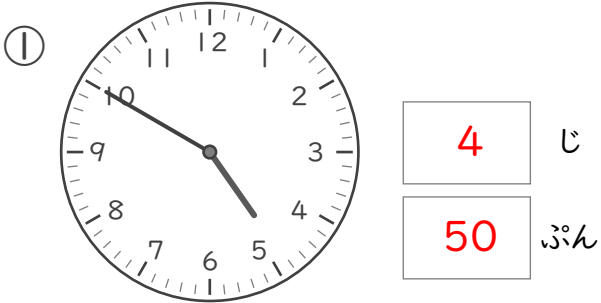


# なんじなんぷん

ねん くみ  
なまえ

/ 8

■ とけいを よみましょう。



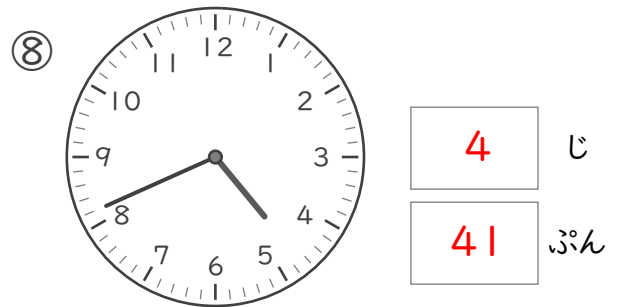
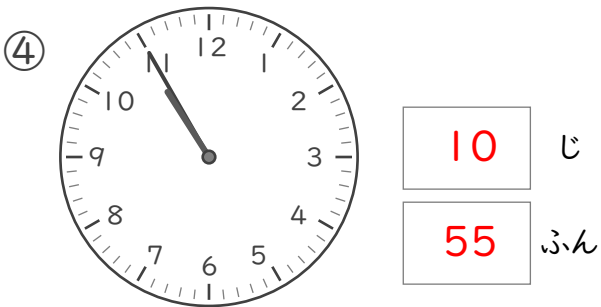
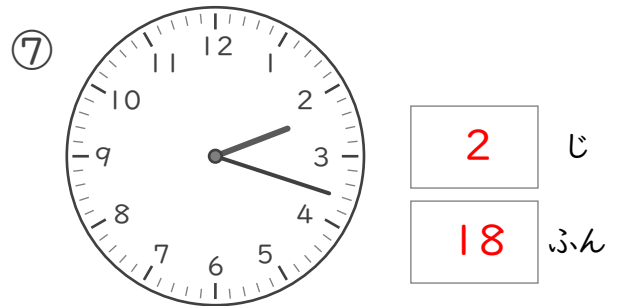

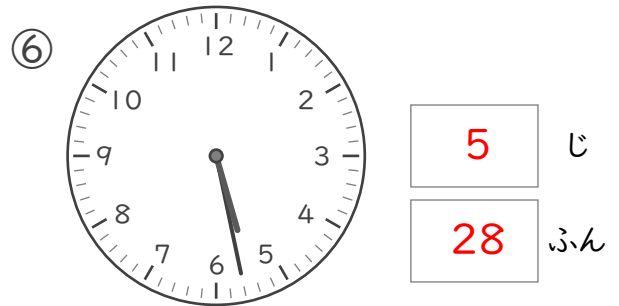
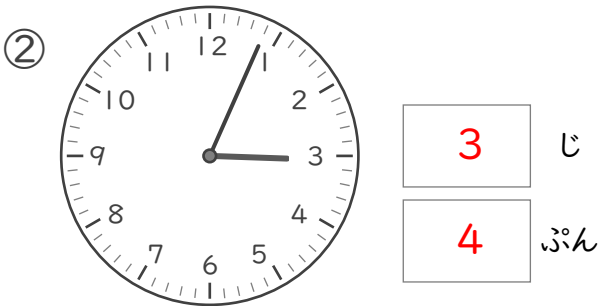
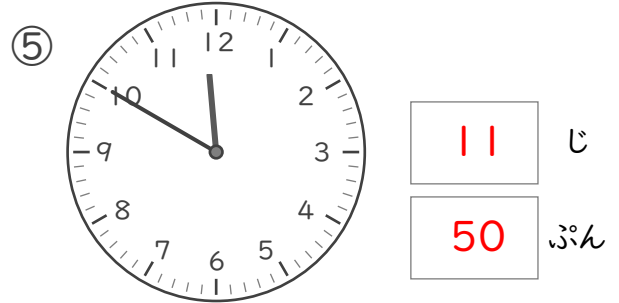
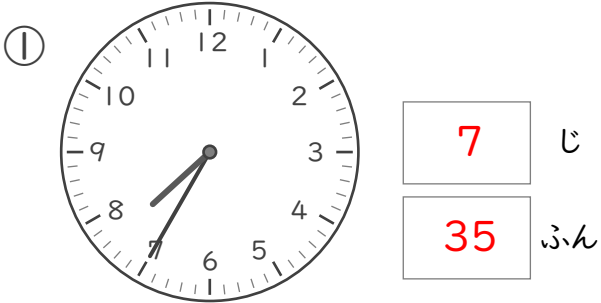


# なんじなんぷん

ねん くみ  
なまえ

/ 8

■ とけいを よみましょう。





# なんじなんぷん


ねん くみ  
なまえ


/ 8


■ とけいを よみましょう。


①   じ  
 ぷん


⑤   じ  
 ぷん


②   じ  
 ぷん

⑥   じ  
 ぷん

③   じ  
 ぷん

⑦   じ  
 ぷん

④   じ  
 ぷん

⑧   じ  
 ぷん

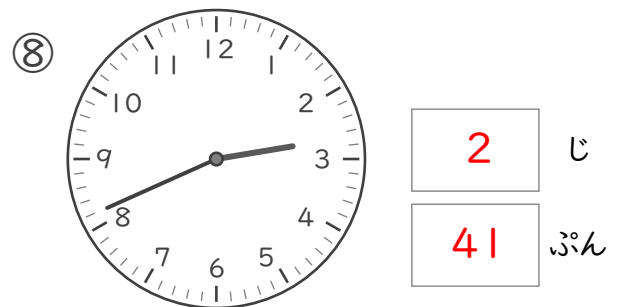

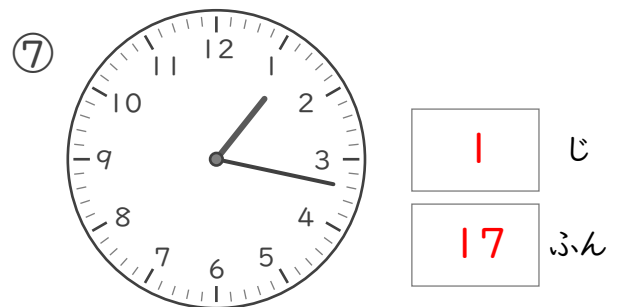
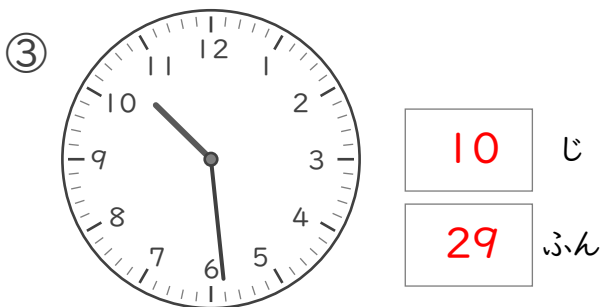
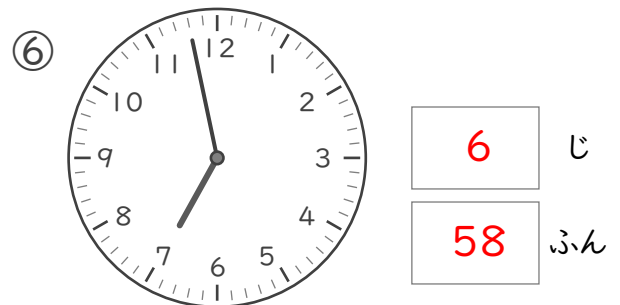

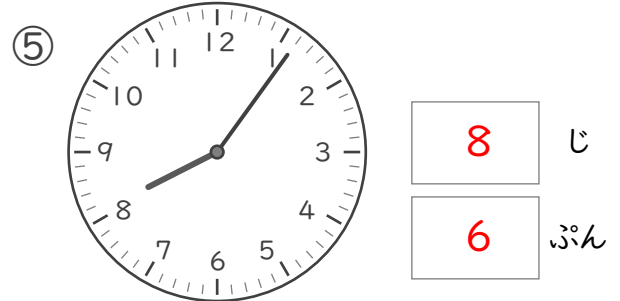
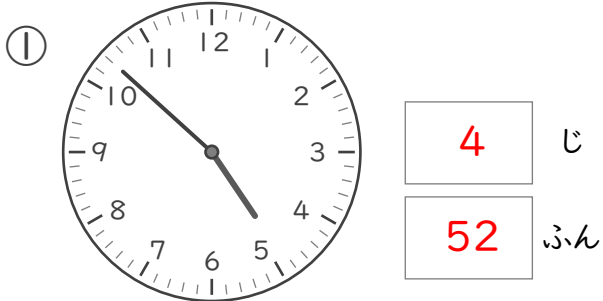
なんじなんぷん

ねん くみ

なまえ

/ 8

■ とけいを よみましょう。

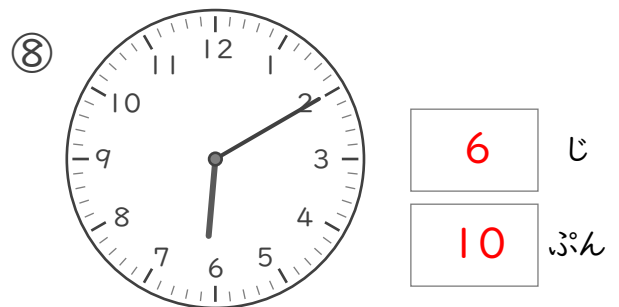
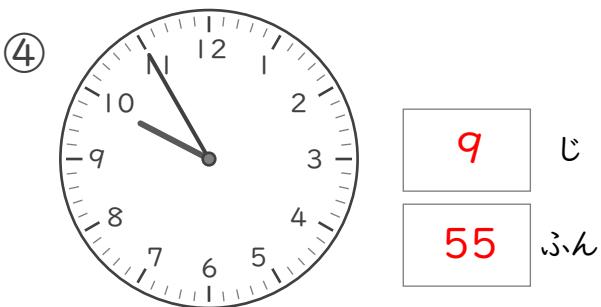
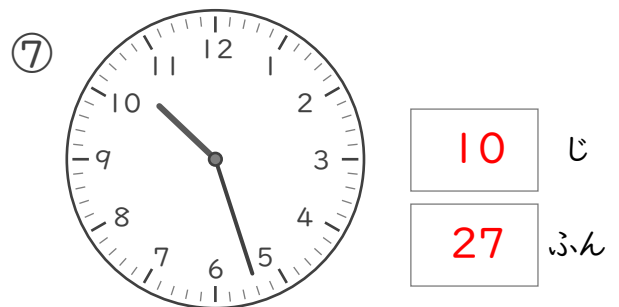
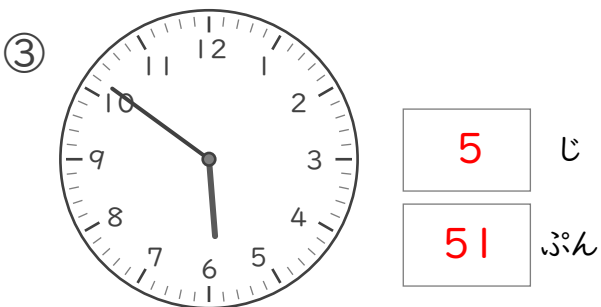
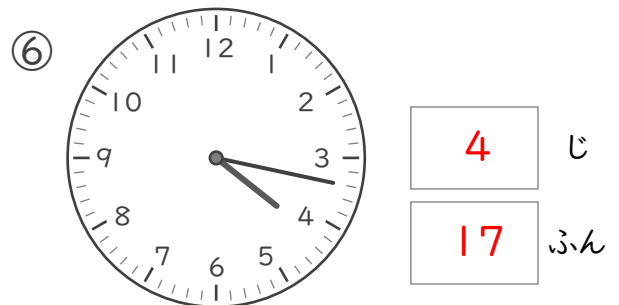
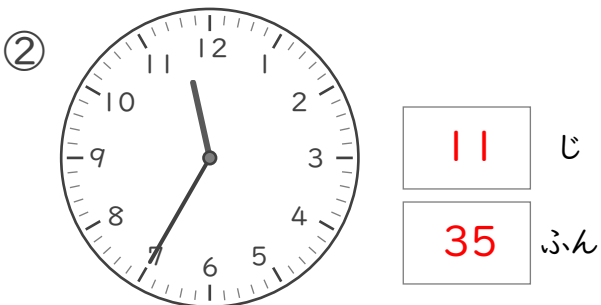
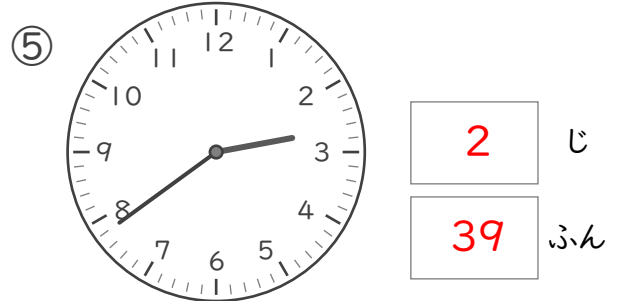
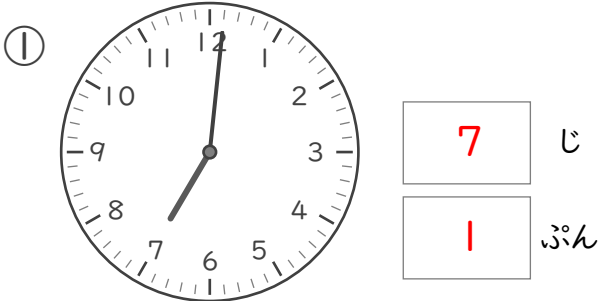


なんじなんぷん

ねん くみ  
なまえ

/ 8

■ とけいを よみましょう。



なんじなんぶん

ねん くみ

なまえ


/ 8

■ ながいはりをかきましょう。

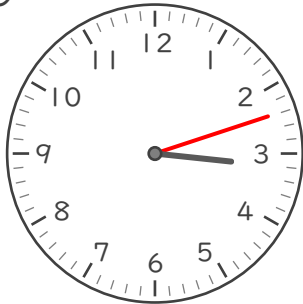
① 1じ2ぶん



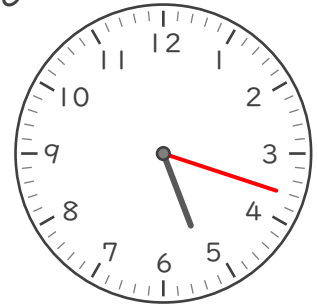
⑤ 9じ58ぶん



② 3じ12ぶん



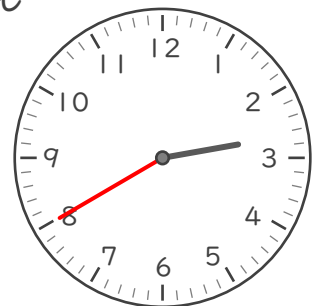
⑥ 5じ18ぶん



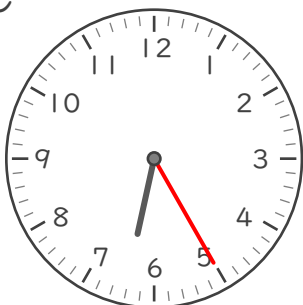
③ 7じ48ぶん



⑦ 2じ40ぶん



④ 6じ25ぶん



⑧ 12じ32ぶん



なんじなんぶん

ねん くみ

なまえ

/ 8

■ ながいはりをかきましょう。


① 7じ7ぶん



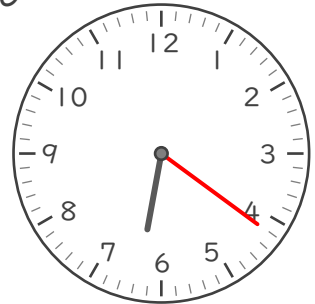
⑤ 10じ59ぶん



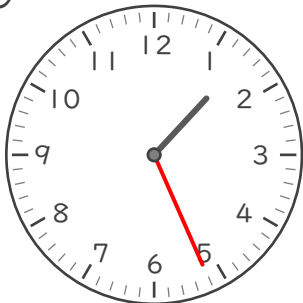
② 8じ50ぶん



⑥ 6じ21ぶん



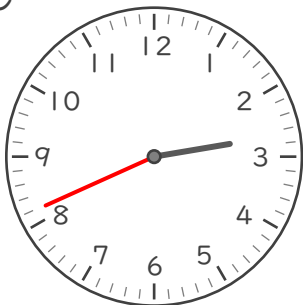
③ 1じ26ぶん



⑦ 12じ37ぶん



④ 2じ41ぶん



⑧ 5じ11ぶん



なんじなんぶん

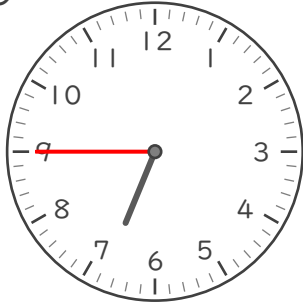
ねん くみ

なまえ

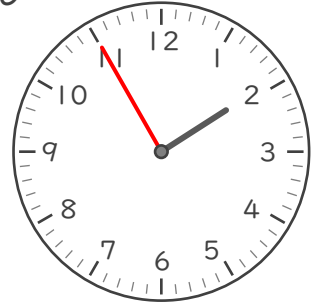
/ 8

■ ながい はりを かきましょう。

① 6じ 45ぶん



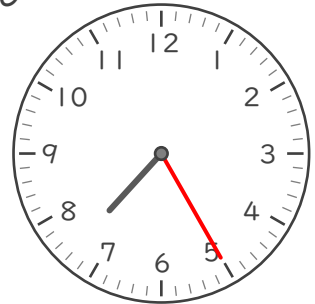
⑤ 1じ 55ぶん



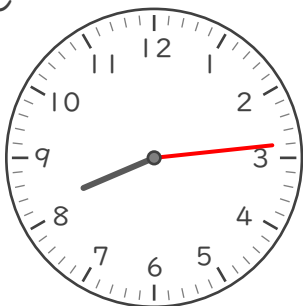
② 9じ 50ぶん




⑥ 7じ 25ぶん



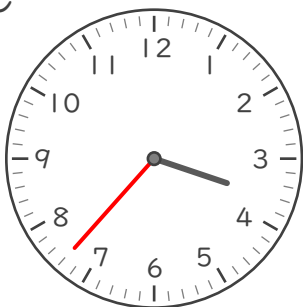
③ 8じ 14ぶん



⑦ 11じ 17ぶん



④ 3じ 37ぶん



⑧ 12じ 6ぶん

