

きょうざい
教材おきば の

これだけ、あんしん安心

さんすう
算数ドリル

1 - 18

Light

小学1年生

もくじ

- | | |
|-------------------------------|-------|
| ① たしざん 20 もんプリント | 1 ページ |
| ② ひきざん 20 もんプリント | 1 ページ |
| ③ むしくい たしざん | 1 ページ |
| ④ むしくい ひきざん | 1 ページ |
| ⑤ ふえかた へりかた を かんがえて 100 までのかず | 1 ページ |
| ⑥ 大きいかず 小さいかず | 1 ページ |
| ⑦ かずさがし 大きいかず・小さいかず | 1 ページ |
| ⑧ なんじなんぷん 5 ふんきざみ | 2 ページ |
| ⑨ なんじなんぷん | 3 ページ |
| ⑩ なんじなんぷん 長針をかく | 2 ページ |

合計

14 ページ

たしざん

ねん くみ
なまえ

/20

■ たしざんをしましょう。

$① \quad 2 + 2 = \square$

$② \quad 9 + 9 = \square$

$③ \quad 0 + 10 = \square$

$④ \quad 2 + 7 = \square$

$⑤ \quad 7 + 6 = \square$

$⑥ \quad 6 + 3 = \square$

$⑦ \quad 6 + 4 = \square$

$⑧ \quad 5 + 5 = \square$

$⑨ \quad 5 + 9 = \square$

$⑩ \quad 5 + 0 = \square$

$⑪ \quad 8 + 6 = \square$

$⑫ \quad 8 + 7 = \square$

$⑬ \quad 5 + 7 = \square$

$⑭ \quad 1 + 6 = \square$

$⑮ \quad 7 + 7 = \square$

$⑯ \quad 8 + 3 = \square$

$⑰ \quad 10 + 8 = \square$

$⑱ \quad 2 + 10 = \square$

$⑲ \quad 4 + 7 = \square$

$⑳ \quad 4 + 9 = \square$

ひきざん

ねん くみ
なまえ

/20

■ ひきざんをしましょう。

$① \quad 4 - 1 = \square$

$② \quad 17 - 10 = \square$

$③ \quad 12 - 2 = \square$

$④ \quad 14 - 5 = \square$

$⑤ \quad 12 - 5 = \square$

$⑥ \quad 9 - 8 = \square$

$⑦ \quad 14 - 6 = \square$

$⑧ \quad 10 - 9 = \square$

$⑨ \quad 12 - 6 = \square$

$⑩ \quad 6 - 2 = \square$

$⑪ \quad 5 - 5 = \square$

$⑫ \quad 16 - 7 = \square$

$⑬ \quad 11 - 7 = \square$

$⑭ \quad 15 - 8 = \square$

$⑮ \quad 9 - 0 = \square$

$⑯ \quad 7 - 1 = \square$

$⑰ \quad 16 - 8 = \square$

$⑱ \quad 13 - 8 = \square$

$⑲ \quad 13 - 4 = \square$

$⑳ \quad 6 - 3 = \square$

たしざん

ねん くみ

なまえ

/20

■ にはいる かずを こたえましょう。

① $4 + 4 = \square$

② $\square + 1 = 7$

③ $3 + \square = 4$

④ $9 + 0 = \square$

⑤ $\square + 6 = 12$

⑥ $9 + \square = 18$

⑦ $4 + \square = 14$

⑧ $2 + 8 = \square$

⑨ $\square + 3 = 11$

⑩ $3 + \square = 13$

⑪ $\square + 2 = 5$

⑫ $7 + 4 = \square$

⑬ $2 + 1 = \square$

⑭ $\square + 7 = 9$

⑮ $10 + \square = 19$

⑯ $0 + \square = 7$

⑰ $\square + 1 = 11$

⑱ $5 + 9 = \square$

⑲ $\square + 5 = 9$

⑳ $5 + 2 = \square$

ひきざん

ねん くみ

なまえ

/20

■ にはいる かずを こたえましょう。

① $4 - 3 = \square$

② $5 - \square = 0$

③ $\square - 2 = 1$

④ $7 - \square = 0$

⑤ $\square - 10 = 9$

⑥ $18 - 10 = \square$

⑦ $6 - \square = 5$

⑧ $11 - 7 = \square$

⑨ $\square - 1 = 10$

⑩ $17 - 7 = \square$

⑪ $\square - 3 = 9$

⑫ $7 - \square = 6$

⑬ $8 - \square = 5$

⑭ $11 - 6 = \square$

⑮ $\square - 2 = 8$

⑯ $\square - 10 = 2$

⑰ $5 - \square = 4$

⑱ $18 - 9 = \square$

⑲ $\square - 3 = 3$

⑳ $15 - \square = 9$

かずの ならびかた

ねん くみ
なまえ

■ にはいる かずをかきましょう。

① あ - 65 - い - 73 - 77 - 81 - う

あ い う

② え - 83 - お - 63 - 53 - か - 33

え お か

③ 96 - き - 86 - く - 76 - 71 - け

き く け

④ こ - 16 - さ - 22 - し - 28 - 31

こ さ し

⑤ 57 - 59 - す - 63 - せ - 67 - そ

す せ そ

大きいかず

ねん くみ
なまえ

/ 5

① 40 より大きいかずを1つ みつけましょう。

35 44 39 30 34 20 23 38 21 37

40 より大きいかず

② 70 より小さいかずを1つ みつけましょう。

63 80 79 81 75 83 74 72 78 90

70 より小さいかず

③ 80 より大きいかずを1つ みつけましょう。

89 70 77 76 60 74 69 78 73 65

80 より大きいかず

④ 50 より小さいかずを1つ みつけましょう。

57 62 49 58 66 65 60 54 53 70

50 より小さいかず

⑤ 60 より大きいかずを1つ みつけましょう。

54 41 52 50 64 57 55 49 48 40

60 より大きいかず

大きいかず

ねん くみ
なまえ

/ 4

■ べつべつの かずが かかれた たまが 20こ あります。

66	78	34	69	51
59	28	73	43	82
47	37	60	72	55
61	63	38	29	36

① 1ばん 小さい かずは なんですか。

② 2ばんめに 小さい かずは なんですか。

③ 1ばん 大きい かずは なんですか。


④ 2ばんめに 大きい かずは なんですか。


なんじなんぷん


ねん ぐみ
なまえ


/ 8


■ とけいを よみましょう。


①  じ
 ぷん


⑤  じ
 ぷん


②  じ
 ぷん

⑥  じ
 ぷん

③  じ
 ぷん

⑦  じ
 ぷん

④  じ
 ぷん

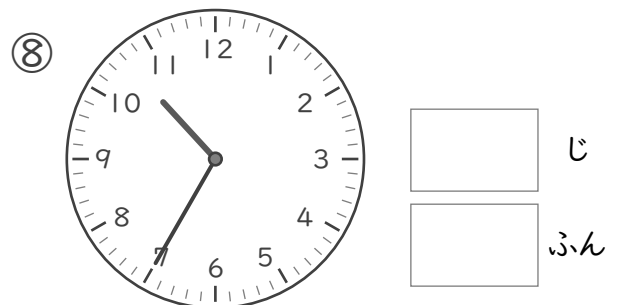

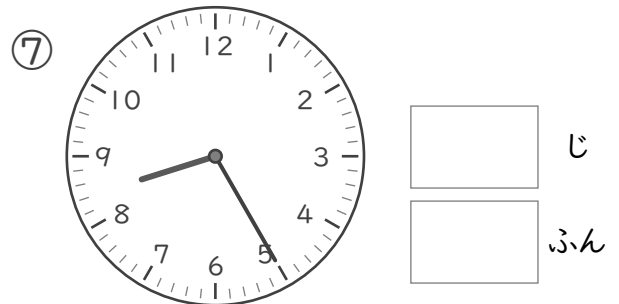
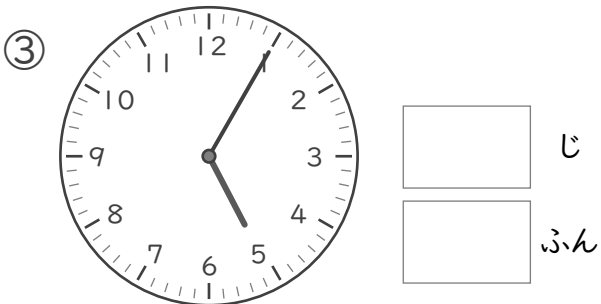
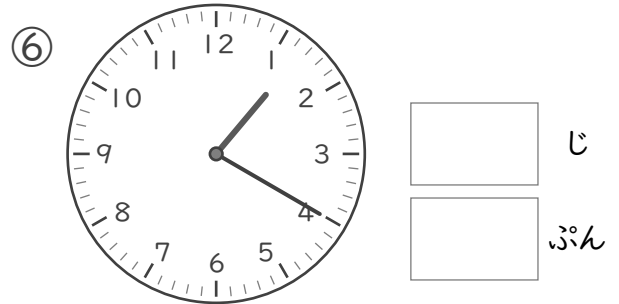
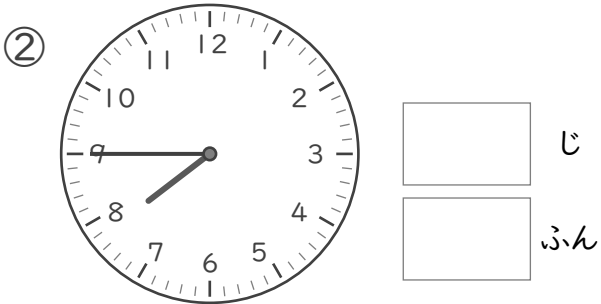
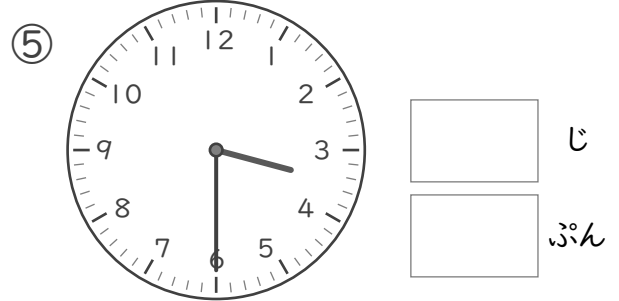
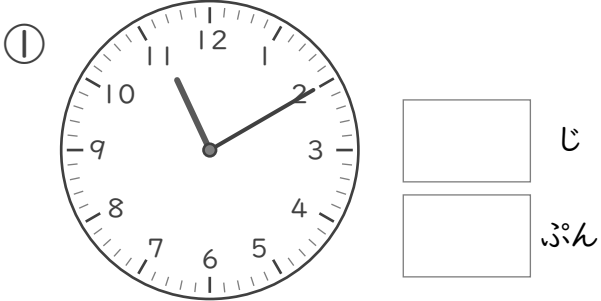
⑧  じ
 ぷん

なんじなんぷん

ねん ぐみ
なまえ

/ 8

■ とけいを よみましょう。

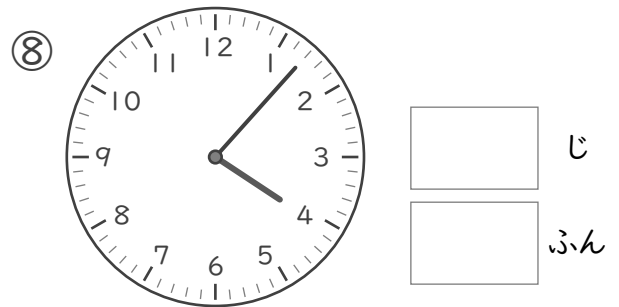
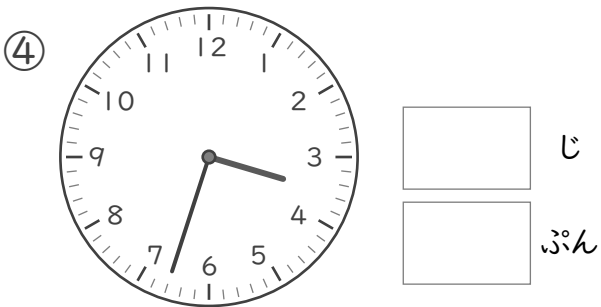
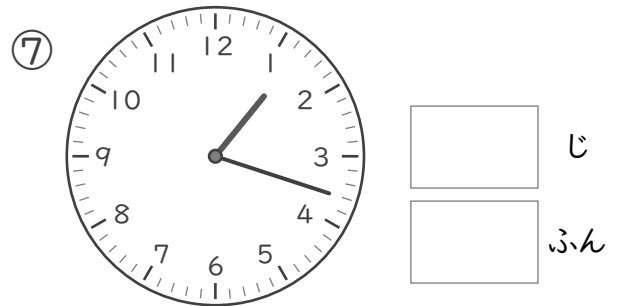
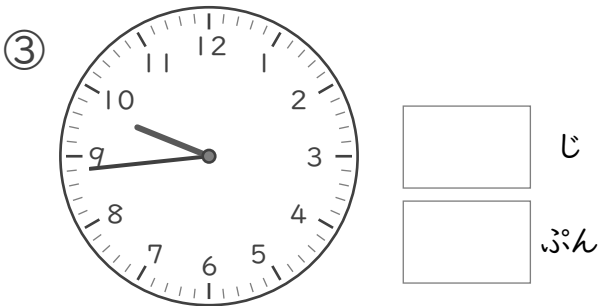
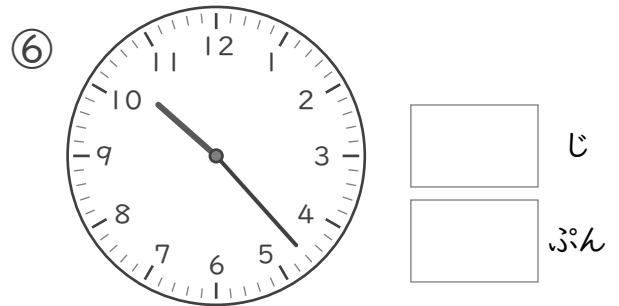
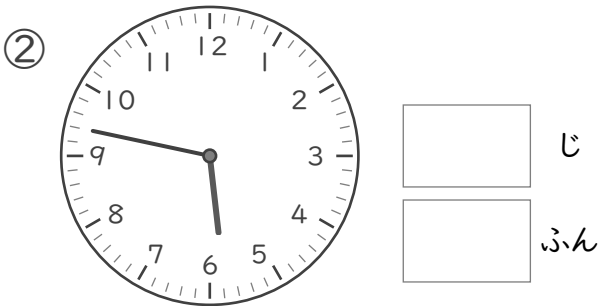

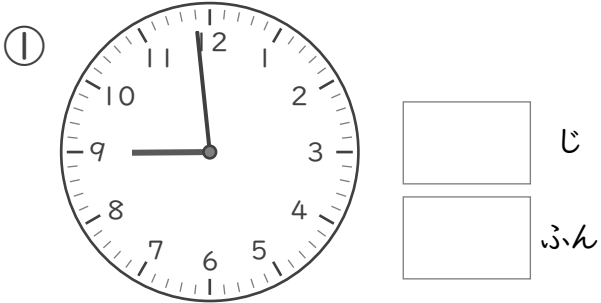


なんじなんぷん

ねん ぐみ
なまえ

/ 8

■ とけいを よみましょう。





なんじなんぷん


ねん ぐみ
なまえ


/ 8


■ とけいを よみましょう。


①  じ
 ぷん


⑤  じ
 ぷん


②  じ
 ぷん

⑥  じ
 ぷん

③  じ
 ぷん

⑦  じ
 ぷん

④  じ
 ぷん

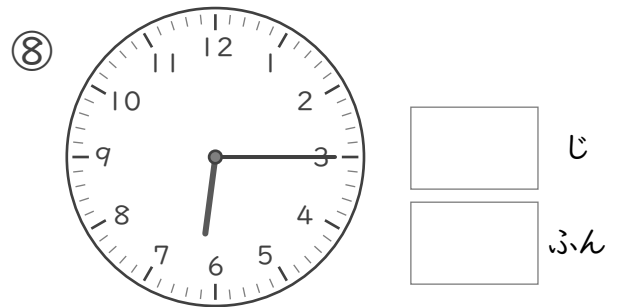
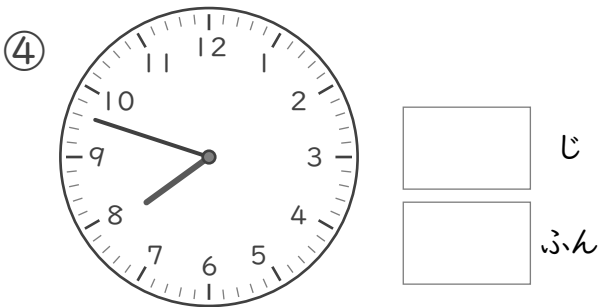
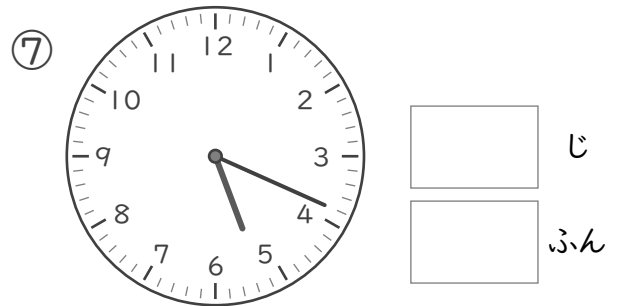
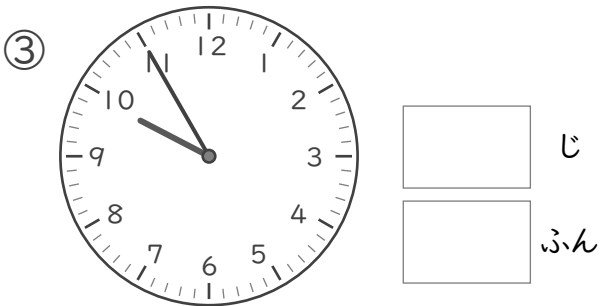
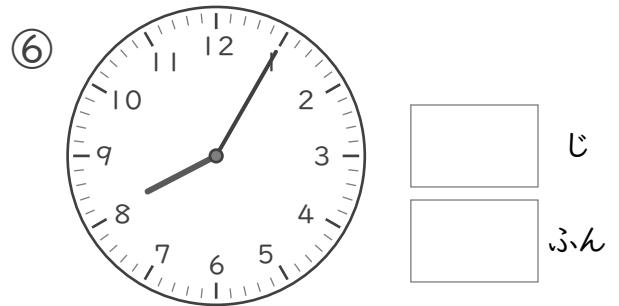
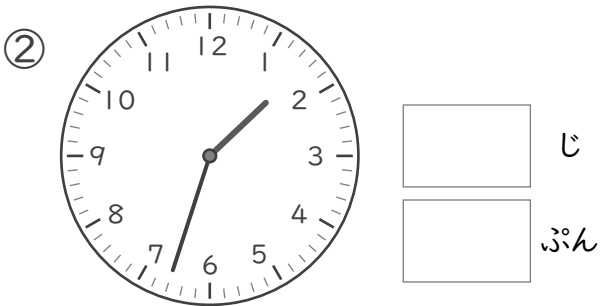
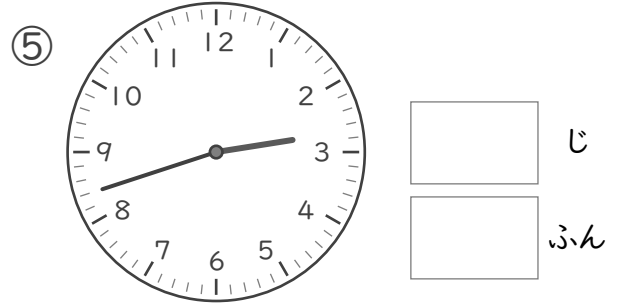

⑧  じ
 ぷん

なんじなんぷん

ねん ぐみ
なまえ

/ 8

■ とけいを よみましょう。



なんじなんぶん


ねん くみ

なまえ


/ 8

■ ながい はりを かきましょう。


① 2じ 4ぶん




⑤ 1じ 55ぶん




② 11じ 32ぶん




⑥ 10じ 23ぶん




③ 6じ 46ぶん




⑦ 3じ 16ぶん



④ 9じ 41ぶん



⑧ 8じ 12ぶん



なんじなんぶん


ねん くみ

なまえ


/ 8

■ ながいはりをかきましょう。


① 12じ 48ぶん




⑤ 4じ 41ぶん




② 1じ 15ぶん




⑥ 9じ 25ぶん




③ 5じ 58ぶん



⑦ 10じ 18ぶん



④ 2じ 32ぶん



⑧ 8じ 1ぶん



たしざん

ねん くみ
なまえ

/20

■ たしざんをしましょう。

$① \quad 2 + 2 = 4$

$② \quad 9 + 9 = 18$

$③ \quad 0 + 10 = 10$

$④ \quad 2 + 7 = 9$

$⑤ \quad 7 + 6 = 13$

$⑥ \quad 6 + 3 = 9$

$⑦ \quad 6 + 4 = 10$

$⑧ \quad 5 + 5 = 10$

$⑨ \quad 5 + 9 = 14$

$⑩ \quad 5 + 0 = 5$

$⑪ \quad 8 + 6 = 14$

$⑫ \quad 8 + 7 = 15$

$⑬ \quad 5 + 7 = 12$

$⑭ \quad 1 + 6 = 7$

$⑮ \quad 7 + 7 = 14$

$⑯ \quad 8 + 3 = 11$

$⑰ \quad 10 + 8 = 18$

$⑱ \quad 2 + 10 = 12$

$⑲ \quad 4 + 7 = 11$

$⑳ \quad 4 + 9 = 13$

ひきざん

ねん くみ
なまえ

/20

■ ひきざんをしましょう。

$① \quad 4 - 1 = 3$

$② \quad 17 - 10 = 7$

$③ \quad 12 - 2 = 10$

$④ \quad 14 - 5 = 9$

$⑤ \quad 12 - 5 = 7$

$⑥ \quad 9 - 8 = 1$

$⑦ \quad 14 - 6 = 8$

$⑧ \quad 10 - 9 = 1$

$⑨ \quad 12 - 6 = 6$

$⑩ \quad 6 - 2 = 4$

$⑪ \quad 5 - 5 = 0$

$⑫ \quad 16 - 7 = 9$

$⑬ \quad 11 - 7 = 4$

$⑭ \quad 15 - 8 = 7$

$⑮ \quad 9 - 0 = 9$

$⑯ \quad 7 - 1 = 6$

$⑰ \quad 16 - 8 = 8$

$⑱ \quad 13 - 8 = 5$

$⑲ \quad 13 - 4 = 9$

$⑳ \quad 6 - 3 = 3$

たしざん

ねん くみ

なまえ

/20

■ にはいる かずを こたえましょう。

① $4 + 4 = 8$

② $6 + 1 = 7$

③ $3 + 1 = 4$

④ $9 + 0 = 9$

⑤ $6 + 6 = 12$

⑥ $9 + 9 = 18$

⑦ $4 + 10 = 14$

⑧ $2 + 8 = 10$

⑨ $8 + 3 = 11$

⑩ $3 + 10 = 13$

⑪ $3 + 2 = 5$

⑫ $7 + 4 = 11$

⑬ $2 + 1 = 3$

⑭ $2 + 7 = 9$

⑮ $10 + 9 = 19$

⑯ $0 + 7 = 7$

⑰ $10 + 1 = 11$

⑱ $5 + 9 = 14$

⑲ $4 + 5 = 9$

⑳ $5 + 2 = 7$

ひきざん

ねん くみ

なまえ

/20

■ にはいる かずを こたえましょう。

$① \quad 4 - 3 = \boxed{1}$

$② \quad 5 - \boxed{5} = 0$

$③ \quad \boxed{3} - 2 = 1$

$④ \quad 7 - \boxed{7} = 0$

$⑤ \quad \boxed{19} - 10 = 9$

$⑥ \quad 18 - 10 = \boxed{8}$

$⑦ \quad 6 - \boxed{1} = 5$

$⑧ \quad 11 - 7 = \boxed{4}$

$⑨ \quad \boxed{11} - 1 = 10$

$⑩ \quad 17 - 7 = \boxed{10}$

$⑪ \quad \boxed{12} - 3 = 9$

$⑫ \quad 7 - \boxed{1} = 6$

$⑬ \quad 8 - \boxed{3} = 5$

$⑭ \quad 11 - 6 = \boxed{5}$

$⑮ \quad \boxed{10} - 2 = 8$

$⑯ \quad \boxed{12} - 10 = 2$

$⑰ \quad 5 - \boxed{1} = 4$

$⑱ \quad 18 - 9 = \boxed{9}$

$⑲ \quad \boxed{6} - 3 = 3$

$⑳ \quad 15 - \boxed{6} = 9$

かずの ならびかた

ねん くみ
なまえ

/ 15

■ にはいる かずをかきましょう。

① あ - 65 - い - 73 - 77 - 81 - う

4ずつ ふえている

あ

61

い

69

う

85

② え - 83 - お - 63 - 53 - か - 33

10ずつ へっている

え

93

お

73

か

43

③ 96 - き - 86 - く - 76 - 71 - け

5ずつ へっている

き

91

く

81

け

66

④ こ - 16 - さ - 22 - し - 28 - 31

3ずつ ふえている

こ

13

さ

19

し

25

⑤ 57 - 59 - す - 63 - せ - 67 - そ

2ずつ ふえている

す

61

せ

65

そ

69

大きいかず

ねん くみ
なまえ

/ 5

① 40 より大きいかずを1つ みつけましょう。

35 44 39 30 34 20 23 38 21 37

40 より大きいかず

44

② 70 より小さいかずを1つ みつけましょう。

63 80 79 81 75 83 74 72 78 90

70 より小さいかず

63

③ 80 より大きいかずを1つ みつけましょう。

89 70 77 76 60 74 69 78 73 65

80 より大きいかず

89

④ 50 より小さいかずを1つ みつけましょう。

57 62 49 58 66 65 60 54 53 70

50 より小さいかず

49

⑤ 60 より大きいかずを1つ みつけましょう。

54 41 52 50 64 57 55 49 48 40

60 より大きいかず

64

大きいかず

ねん くみ
なまえ

/ 4

■ べつべつの かずが かかれた たまが 20こ あります。

66	78	34	69	51
59	28	73	43	82
47	37	60	72	55
61	63	38	29	36

① 1ばん 小さい かずは なんですか。

28

② 2ばんめに 小さい かずは なんですか。

29

③ 1ばん 大きい かずは なんですか。

82

④ 2ばんめに 大きい かずは なんですか。

78

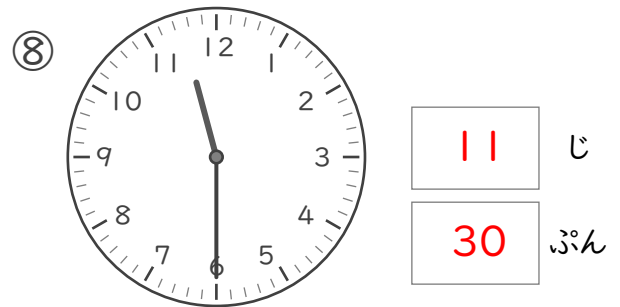
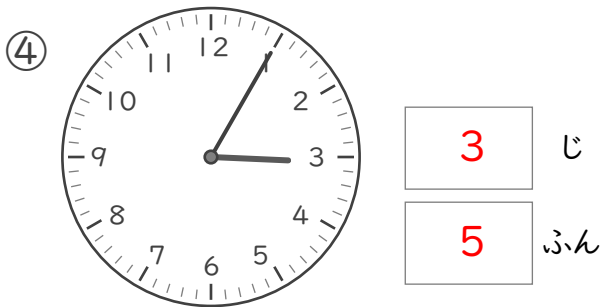
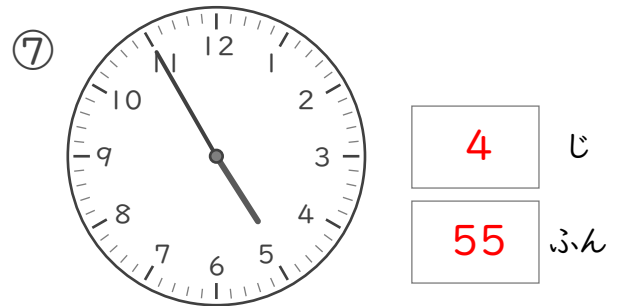
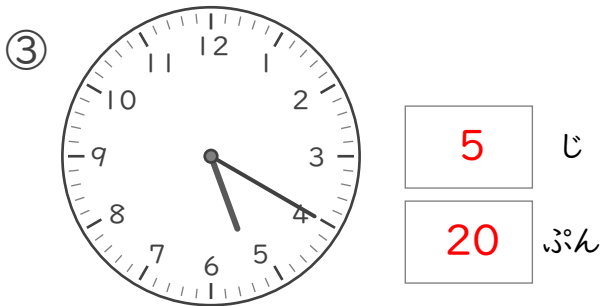
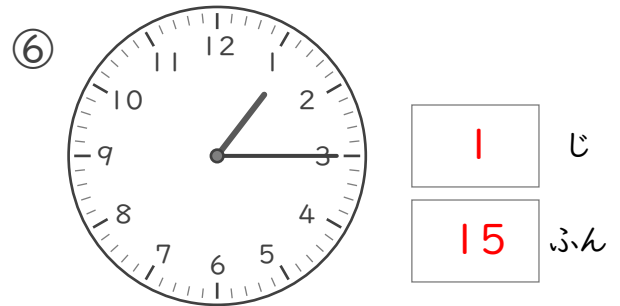
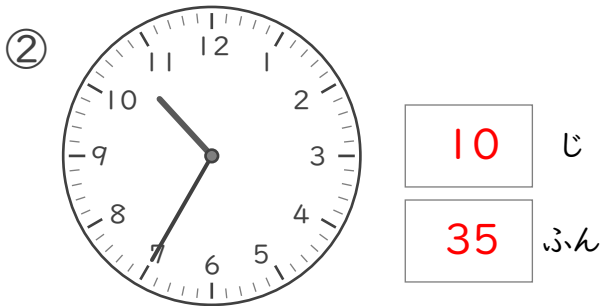
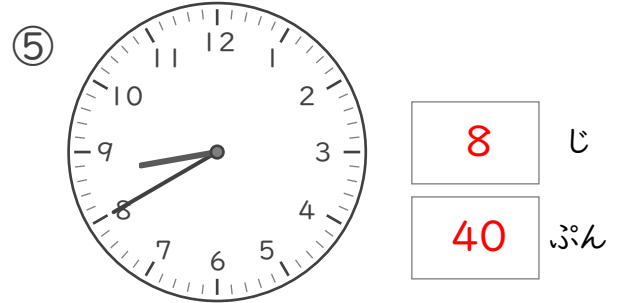
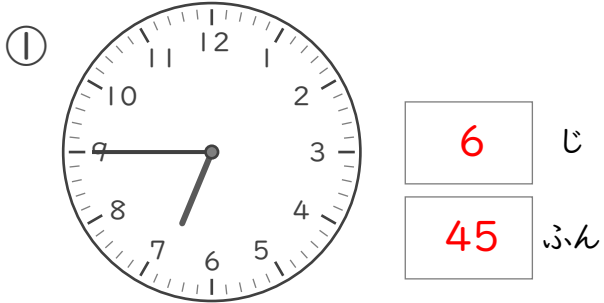
なんじなんぷん

ねん くみ

なまえ

/ 8

■ とけいを よみましょう。



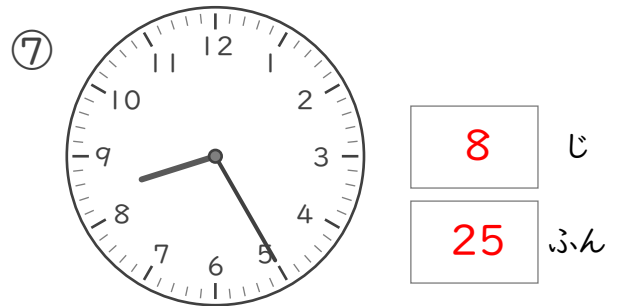
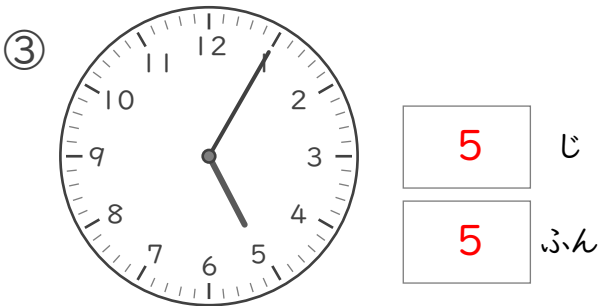
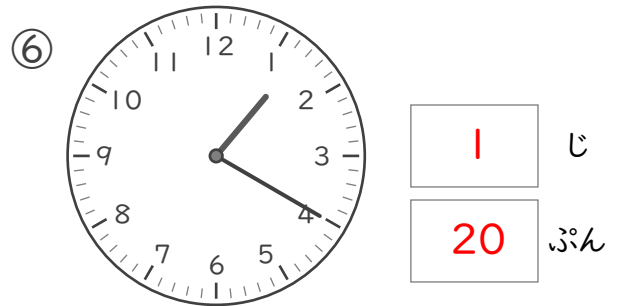
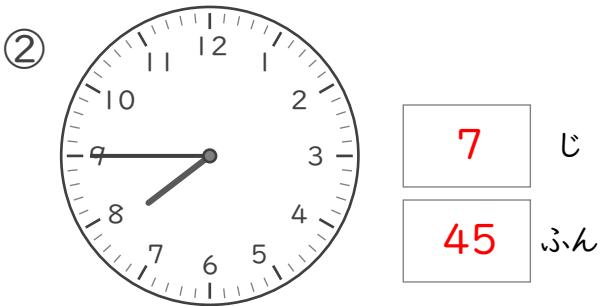
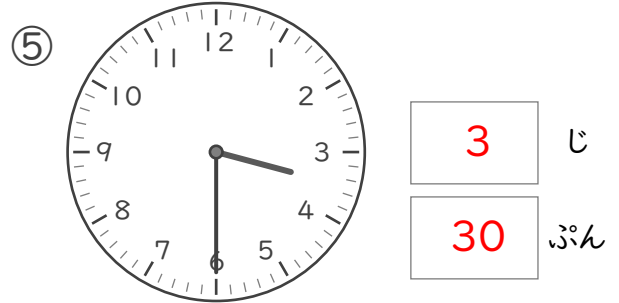
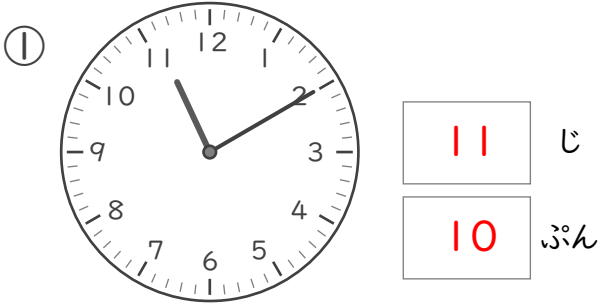


なんじなんぷん

ねん くみ
なまえ

/ 8

■ とけいを よみましょう。





なんじなんぷん


ねん くみ
なまえ


/ 8


■ とけいを よみましょう。


①  じ
 ぷん


⑤  じ
 ぷん


②  じ
 ぷん

⑥  じ
 ぷん

③  じ
 ぷん

⑦  じ
 ぷん

④  じ
 ぷん


⑧  じ
 ぷん


なんじなんぷん


ねん ぐみ
なまえ


/ 8


■ とけいを よみましょう。


①  じ
 ぷん


⑤  じ
 ぷん


②  じ
 ぷん

⑥  じ
 ぷん

③  じ
 ぷん

⑦  じ
 ぷん

④  じ
 ぷん

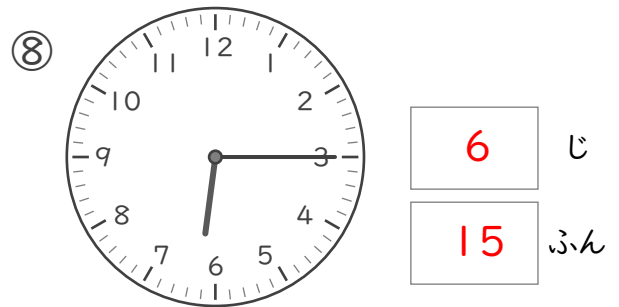
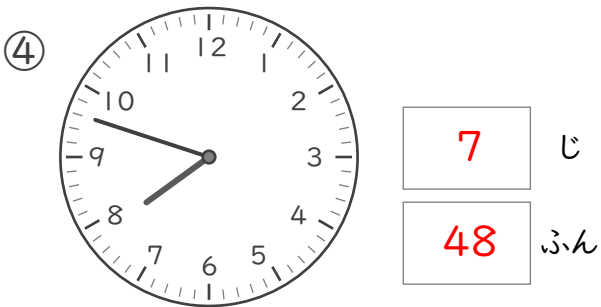
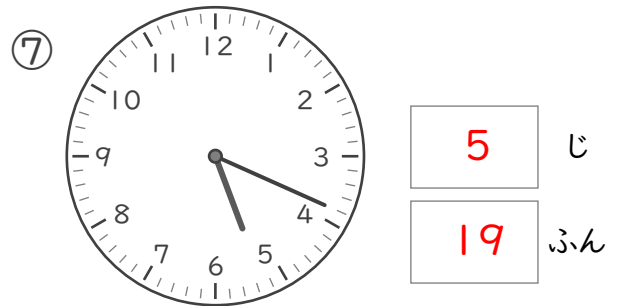
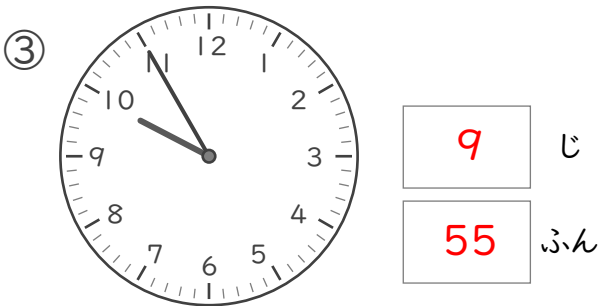
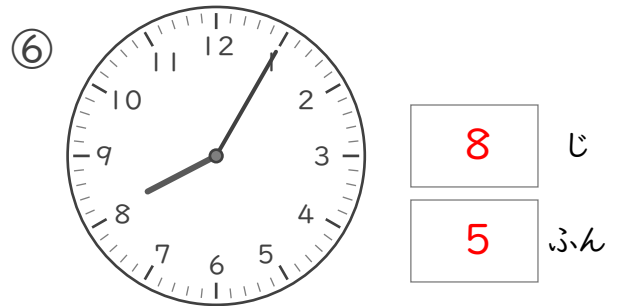
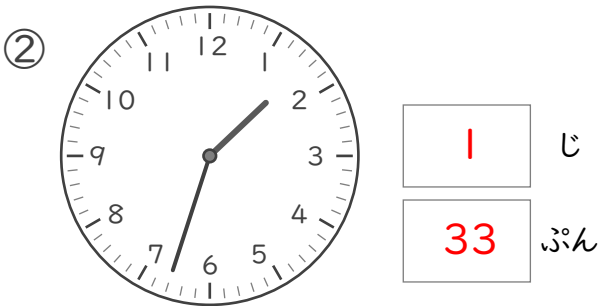
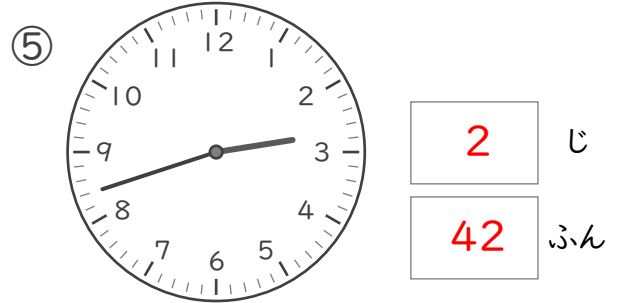
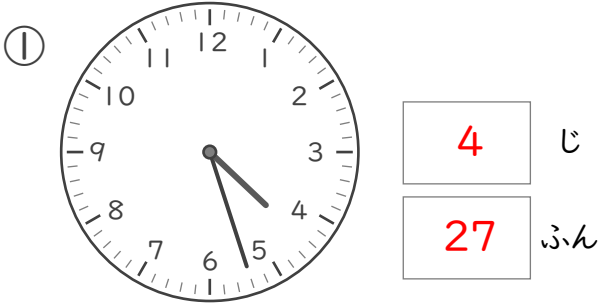
⑧  じ
 ぷん

なんじなんぷん

ねん くみ
なまえ

/ 8

■ とけいを よみましょう。



なんじなんぶん

ねん くみ

なまえ

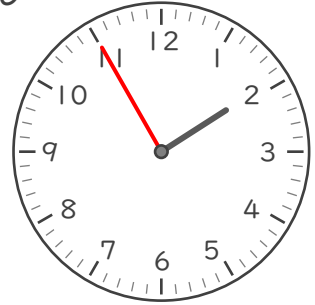
/ 8

■ ながい はりを かきましょう。

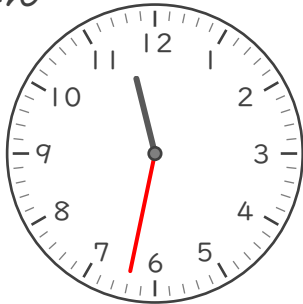
① 2じ 4ぶん



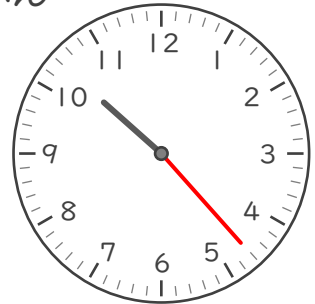
⑤ 1じ 55ぶん



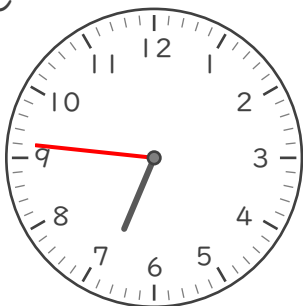
② 11じ 32ぶん



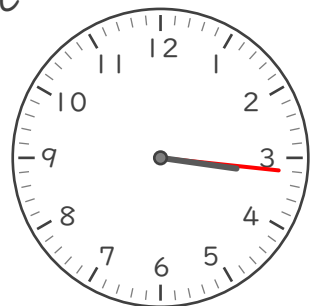
⑥ 10じ 23ぶん



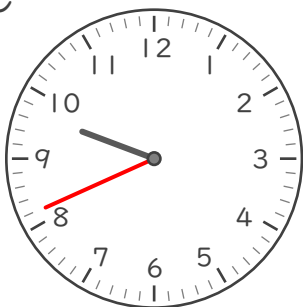
③ 6じ 46ぶん



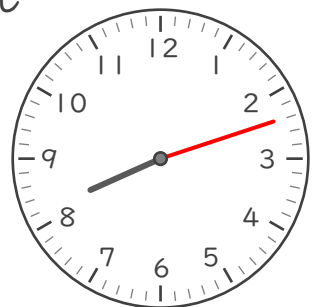
⑦ 3じ 16ぶん



④ 9じ 41ぶん



⑧ 8じ 12ぶん



なんじなんぶん


ねん くみ

なまえ

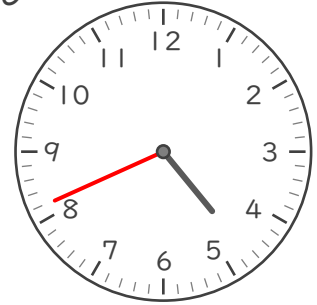
/ 8

■ ながいはりをかきましょう。


① 12じ 48ぶん



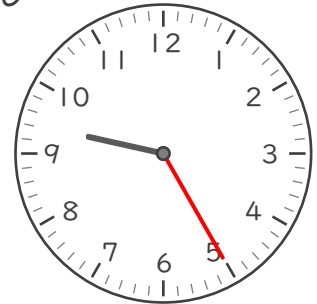
⑤ 4じ 41ぶん



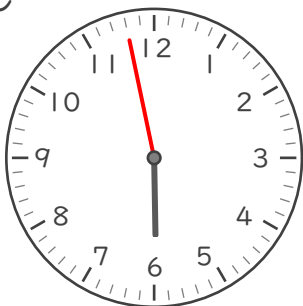
② 1じ 15ぶん



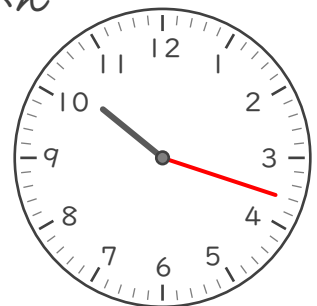
⑥ 9じ 25ぶん



③ 5じ 58ぶん



⑦ 10じ 18ぶん



④ 2じ 32ぶん



⑧ 8じ 1ぶん

