

きょうざい
教材おきば の

これだけ、あんしん安心

さんすう
算数ドリル

1 - 19

小学1年生

もくじ

① たしざん 20 もんプリント	2 ページ
② まわしてみよう	2 ページ
③ むってみよう 線対称(せんたいしょう)	2 ページ
④ むしくい たしざん	2 ページ
⑤ むしくい ひきざん	2 ページ
⑥ 3つのかずのけいさん(1)	2 ページ
⑦ 3つのかずのけいさん(2)	2 ページ
⑧ かずさがし 大きいかず・小さいかず	2 ページ
⑨ なんじなんぷん 5ふんきざみ(2)	3 ページ
⑩ なんじなんぷん(2)	3 ページ
⑪ なんじなんぷん 長針をかく(2)	3 ページ
⑫ なんじなんぷん 鏡に映った時計	3 ページ
合計	28 ページ

たしざん

ねん くみ
なまえ

/20

■ たしざんをしましょう。

$① \quad 7 + 4 = \square$

$② \quad 8 + 8 = \square$

$③ \quad 1 + 4 = \square$

$④ \quad 9 + 5 = \square$

$⑤ \quad 5 + 4 = \square$

$⑥ \quad 9 + 7 = \square$

$⑦ \quad 6 + 9 = \square$

$⑧ \quad 0 + 6 = \square$

$⑨ \quad 7 + 10 = \square$

$⑩ \quad 5 + 8 = \square$

$⑪ \quad 7 + 0 = \square$

$⑫ \quad 5 + 6 = \square$

$⑬ \quad 10 + 6 = \square$

$⑭ \quad 3 + 1 = \square$

$⑮ \quad 2 + 7 = \square$

$⑯ \quad 2 + 9 = \square$

$⑰ \quad 5 + 3 = \square$

$⑱ \quad 1 + 1 = \square$

$⑲ \quad 9 + 3 = \square$

$⑳ \quad 8 + 9 = \square$

たしざん

ねん くみ
なまえ

/20

■ たしざんをしましょう。

$① \quad 8 + 8 = \square$

$② \quad 9 + 10 = \square$

$③ \quad 10 + 6 = \square$

$④ \quad 5 + 9 = \square$

$⑤ \quad 4 + 1 = \square$

$⑥ \quad 4 + 0 = \square$

$⑦ \quad 9 + 2 = \square$

$⑧ \quad 2 + 6 = \square$

$⑨ \quad 5 + 2 = \square$

$⑩ \quad 2 + 8 = \square$

$⑪ \quad 1 + 1 = \square$

$⑫ \quad 5 + 4 = \square$

$⑬ \quad 7 + 9 = \square$

$⑭ \quad 8 + 9 = \square$

$⑮ \quad 0 + 1 = \square$

$⑯ \quad 9 + 3 = \square$

$⑰ \quad 6 + 8 = \square$

$⑱ \quad 8 + 5 = \square$

$⑲ \quad 7 + 4 = \square$

$⑳ \quad 6 + 9 = \square$

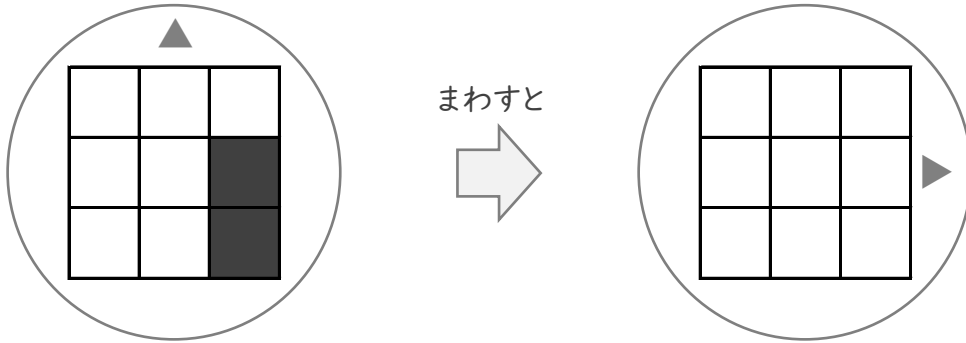
まわしてみよう

ねん くみ
なまえ

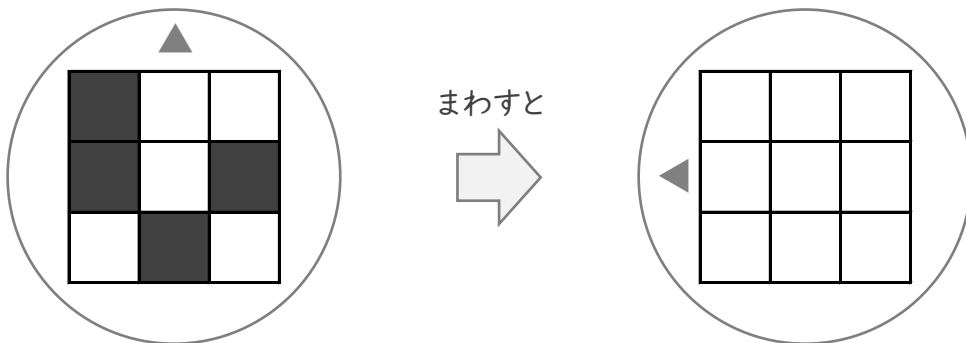
/ 3

■ まわしたかたちになるようにしかくをぬりましょう。

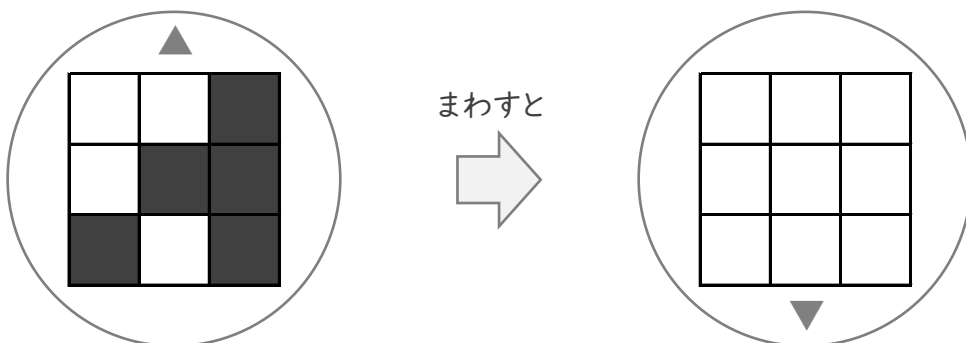
①



②



③



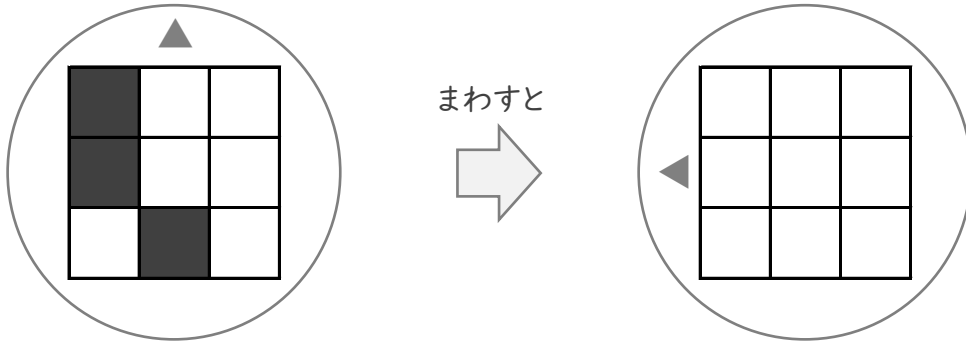
まわしてみよう

ねん くみ
なまえ

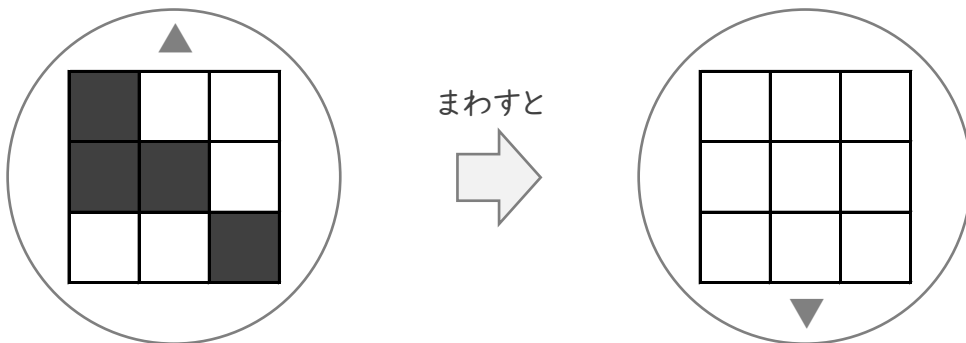
/ 3

■ まわしたかたちになるようにしかくをぬりましょう。

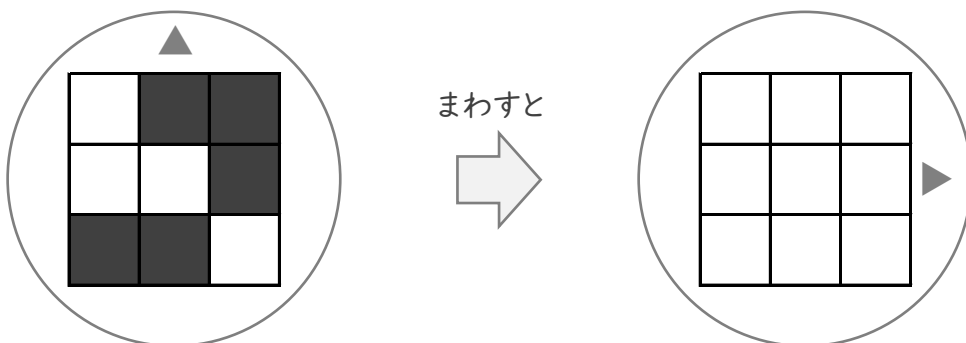
①



②



③



ぬってみよう

ねん くみ


なまえ

/ 4

■ おりまげたときに、ちょうどかさなるようにしかくをぬりましょう。


①

ここで おりまげる




②

ここで おりまげる




③

ここで おりまげる



④

ここで おりまげる



ぬってみよう

ねん くみ


なまえ

/ 4

■ おりまげたときに、ちょうどかさなるようにしかくをぬりましょう。


①

ここで おりまげる




②

ここで おりまげる




③

ここで おりまげる



④

ここで おりまげる



たしざん

ねん くみ

なまえ

/20

■ にはいる かずを こたえましょう。

① + 5 = 10

② 4 + 9 =

③ 7 + = 10

④ 8 + = 16

⑤ 4 + 2 =

⑥ + 2 = 5

⑦ 9 + = 14

⑧ + 3 = 6

⑨ 3 + 0 =

⑩ + 6 = 15

⑪ 9 + 10 =

⑫ 7 + = 13

⑬ 6 + = 9

⑭ + 7 = 11

⑮ 2 + 8 =

⑯ + 10 = 13

⑰ 8 + = 13

⑱ 0 + 1 =

⑲ + 7 = 16

⑳ 2 + = 7

たしざん

ねん くみ

なまえ

/20

■ にはいる かずを こたえましょう。

① + 4 = 8

② 6 + = 8

③ 0 + 10 =

④ + 7 = 12

⑤ 2 + = 6

⑥ 6 + 9 =

⑦ + 2 = 10

⑧ 7 + 1 =

⑨ 8 + = 15

⑩ 7 + 4 =

⑪ 8 + = 16

⑫ + 3 = 8

⑬ + 3 = 10

⑭ 1 + 6 =

⑮ 1 + = 6

⑯ 8 + = 17

⑰ 10 + 3 =

⑱ + 5 = 9

⑲ 0 + = 3

⑳ + 6 = 13

ひきざん

ねん くみ

なまえ

/20

■ にはいる かずを こたえましょう。

① - 4 = 2

② 15 - = 6

③ 9 - 2 =

④ 17 - = 7

⑤ - 10 = 4

⑥ 11 - 7 =

⑦ - 10 = 9

⑧ 11 - 1 =

⑨ 9 - = 8

⑩ - 0 = 3

⑪ 2 - 0 =

⑫ 11 - = 6

⑬ 11 - 2 =

⑭ 12 - = 7

⑮ - 5 = 5

⑯ 7 - = 1

⑰ 8 - 1 =

⑱ - 9 = 9

⑲ 10 - = 4

⑳ - 7 = 6

ひきざん

ねん くみ

なまえ

/20

■ にはいる かずを こたえましょう。

① $9 - \square = 6$

② $\square - 1 = 1$

③ $19 - 10 = \square$

④ $\square - 5 = 8$

⑤ $11 - \square = 8$

⑥ $7 - 1 = \square$

⑦ $\square - 4 = 5$

⑧ $3 - \square = 0$

⑨ $12 - 8 = \square$

⑩ $\square - 10 = 2$

⑪ $16 - 8 = \square$

⑫ $13 - \square = 3$

⑬ $\square - 1 = 0$

⑭ $8 - 5 = \square$

⑮ $10 - \square = 10$

⑯ $16 - 6 = \square$

⑰ $11 - \square = 5$

⑱ $\square - 8 = 1$

⑲ $5 - 5 = \square$

⑳ $6 - \square = 4$

3つのかずの けいさん(1)

ねん くみ
なまえ

/10

■ つぎのけいさんをしましょう。

$① \quad 9 - 6 - 1 =$

$② \quad 6 - 1 - 4 =$

$③ \quad 9 - 2 - 2 =$

$④ \quad 8 - 5 - 2 =$

$⑤ \quad 10 - 5 - 2 =$

$⑥ \quad 12 - 2 - 2 =$

$⑦ \quad 7 - 4 - 2 =$

$⑧ \quad 14 - 4 - 1 =$

$⑨ \quad 5 - 1 - 2 =$

$⑩ \quad 17 - 7 - 5 =$

3つのかずの
けいさん(1)

ねん くみ
なまえ

/10

■ つぎのけいさんをしましょう。

① $9 - 2 - 6 =$

② $10 - 8 - 1 =$

③ $7 - 2 - 3 =$

④ $10 - 2 - 2 =$

⑤ $12 - 2 - 5 =$

⑥ $7 - 4 - 2 =$

⑦ $5 - 3 - 1 =$

⑧ $8 - 2 - 1 =$

⑨ $11 - 1 - 4 =$

⑩ $13 - 3 - 8 =$

3つのかずの けいさん(2)

ねん くみ
なまえ

/10

■ つぎのけいさんをしましょう。

$① \quad 5 - 2 + 1 =$

$② \quad 12 - 2 + 7 =$

$③ \quad 5 - 1 + 3 =$

$④ \quad 11 - 1 + 9 =$

$⑤ \quad 5 - 3 + 1 =$

$⑥ \quad 18 - 8 + 4 =$

$⑦ \quad 9 - 4 + 4 =$

$⑧ \quad 6 - 4 + 4 =$

$⑨ \quad 4 - 2 + 4 =$

$⑩ \quad 8 - 2 + 3 =$

3つのかずの けいさん(2)

ねん くみ
なまえ

/10

■ つぎのけいさんをしましょう。

① $16 - 6 + 1 =$

② $10 - 5 + 3 =$

③ $10 - 2 + 1 =$

④ $6 - 1 + 2 =$

⑤ $6 - 3 + 4 =$

⑥ $8 - 1 + 1 =$

⑦ $12 - 2 + 9 =$

⑧ $10 - 6 + 1 =$

⑨ $11 - 1 + 6 =$

⑩ $9 - 6 + 7 =$

大きいかず

ねん くみ
なまえ

/ 4

■ べつべつの かずが かかれた たまが 20こ あります。

43	45	36	21	37
15	48	63	17	50
38	16	22	54	27
14	57	53	24	30

① 1ばん 小さい かずは なんですか。

② 2ばんめに 小さい かずは なんですか。

③ 1ばん 大きい かずは なんですか。

④ 2ばんめに 大きい かずは なんですか。

大きいかず

ねん くみ
なまえ

/ 4

■ べつべつの かずが かかれた たまが 20こ あります。

67	64	41	69	68
57	55	50	56	76
51	59	66	63	58
53	78	42	65	54

① 1ばん 小さい かずは なんですか。

② 2ばんめに 小さい かずは なんですか。

③ 1ばん 大きい かずは なんですか。

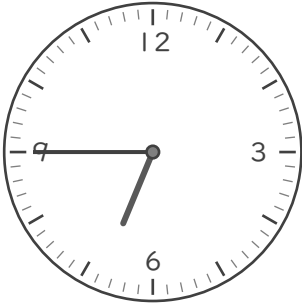
④ 2ばんめに 大きい かずは なんですか。


なんじなんぷん

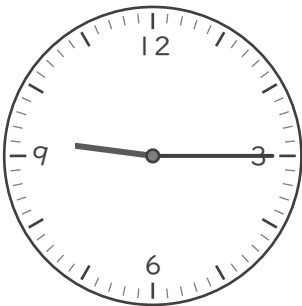
ねん ぐみ
なまえ

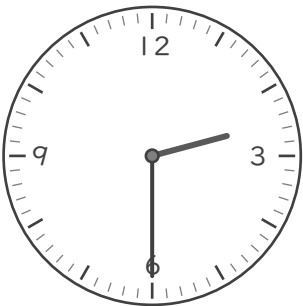
/ 8


■ とけいを よみましょう。


①  じ
 ぷん


⑤  じ
 ぷん

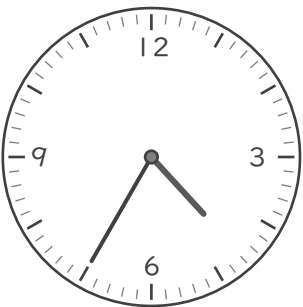
②  じ
 ぷん

⑥  じ
 ぷん

③  じ
 ぷん

⑦  じ
 ぷん

④  じ
 ぷん

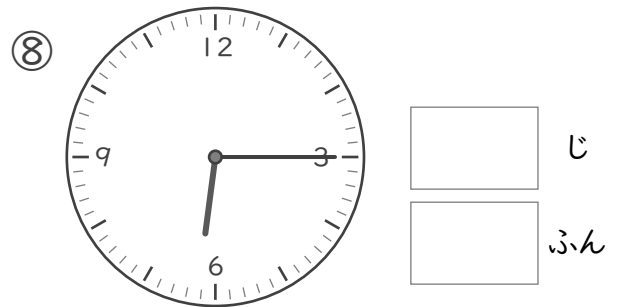
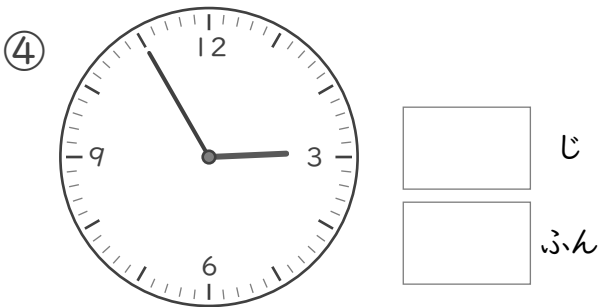
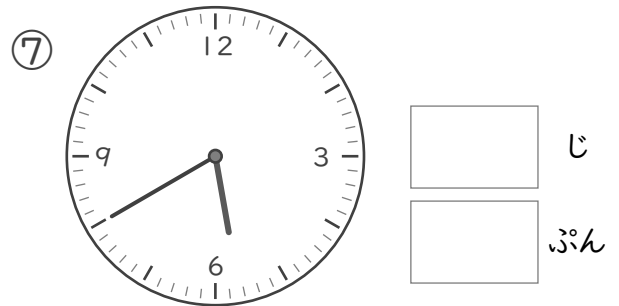
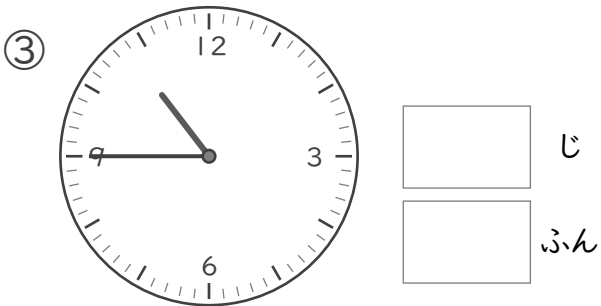
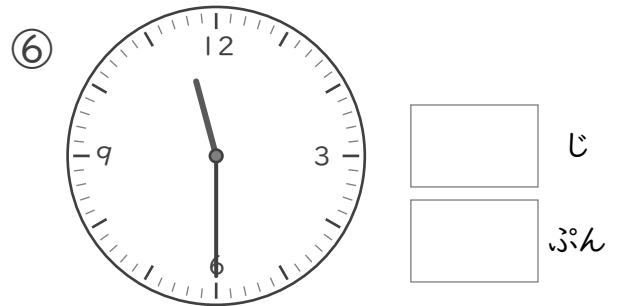
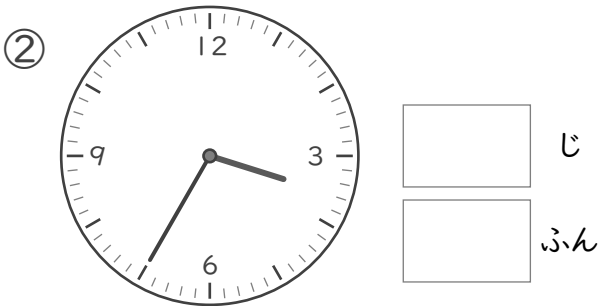
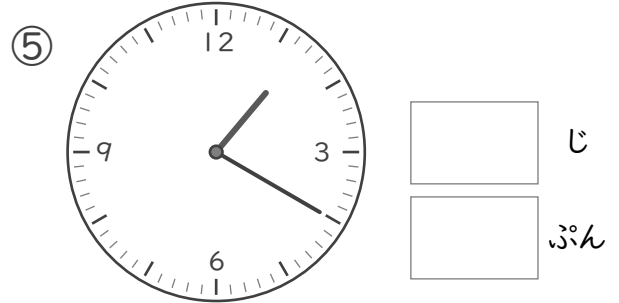
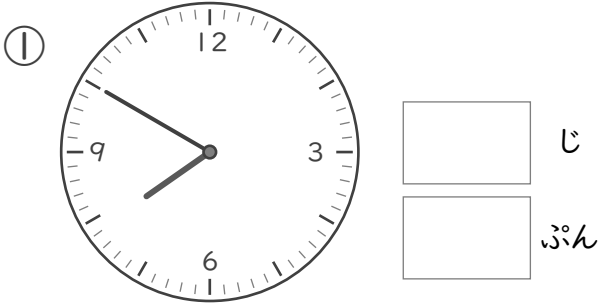
⑧  じ
 ぷん

なんじなんぷん

ねん ぐみ
なまえ

/ 8


■ とけいを よみましょう。




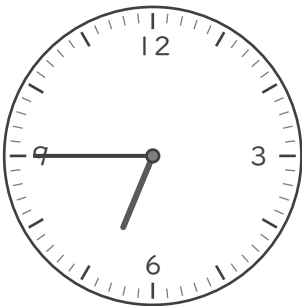
なんじなんぷん


ねん ぐみ
なまえ


■ とけいを よみましょう。


①  じ
 ぷん


⑤  じ
 ぷん


②  じ
 ぷん

⑥  じ
 ぷん

③  じ
 ぷん

⑦  じ
 ぷん

④  じ
 ぷん


⑧  じ
 ぷん


なんじなんぷん


ねん くみ
なまえ


/ 8


■ とけいを よみましょう。


①  じ
 ぷん


⑤  じ
 ぷん


②  じ
 ぷん

⑥  じ
 ぷん

③  じ
 ぷん

⑦  じ
 ぷん

④  じ
 ぷん

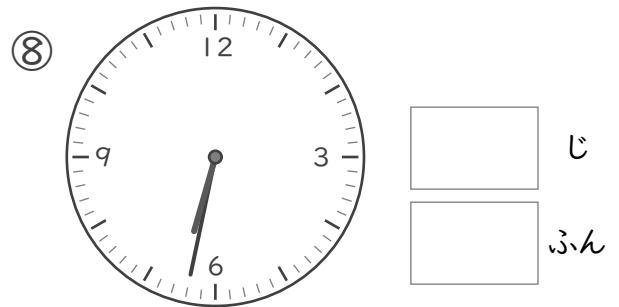
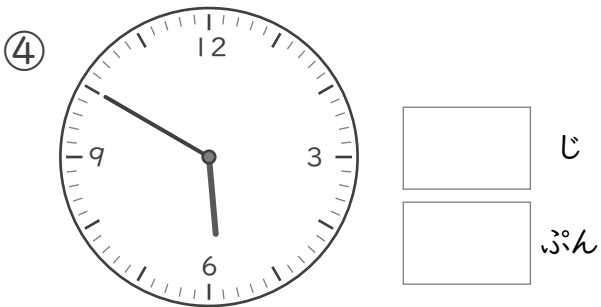
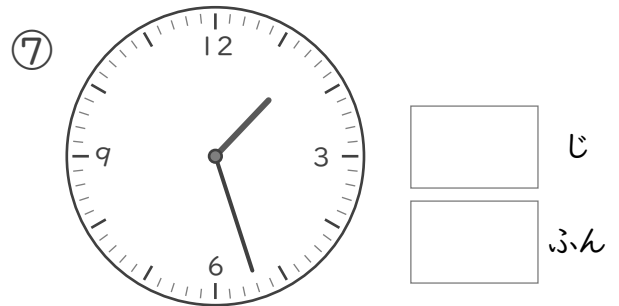
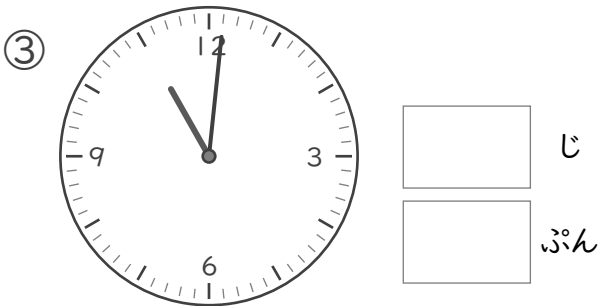
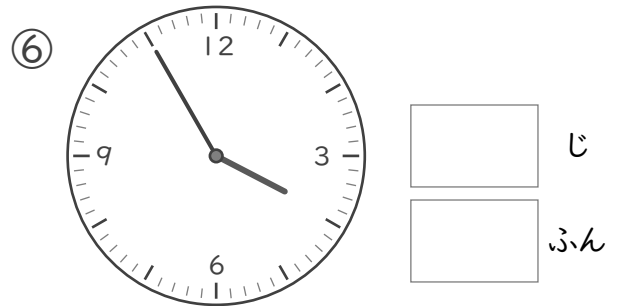
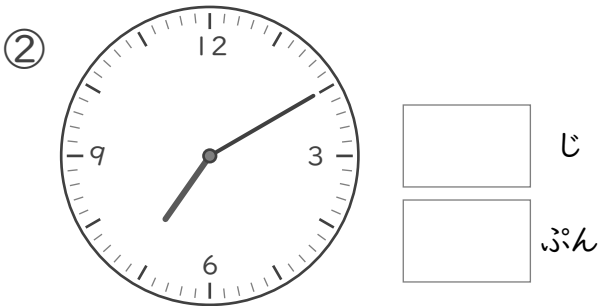
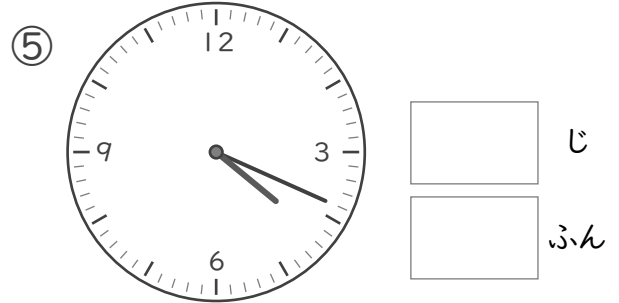
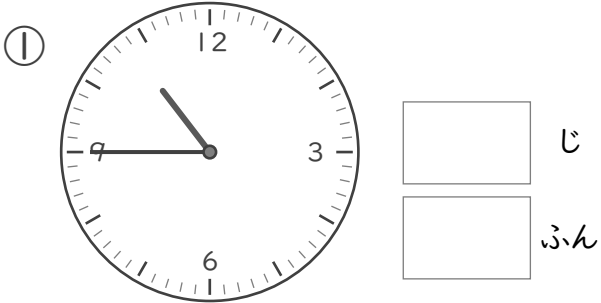
⑧  じ
 ぷん

なんじなんぷん

ねん ぐみ
なまえ

/ 8

■ とけいを よみましょう。

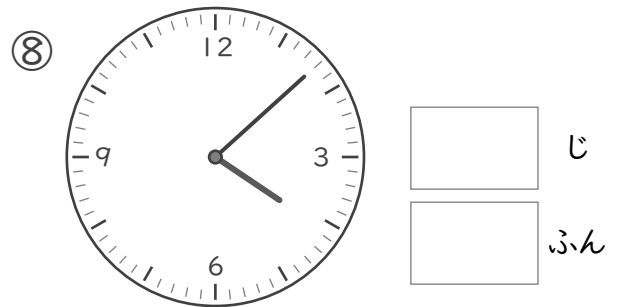
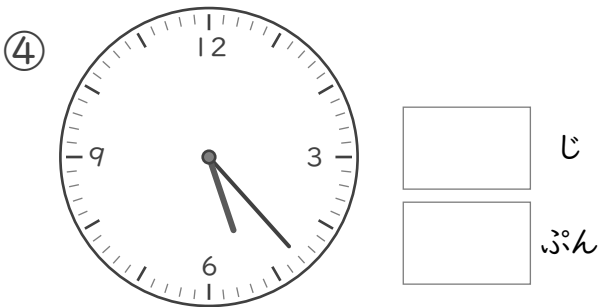
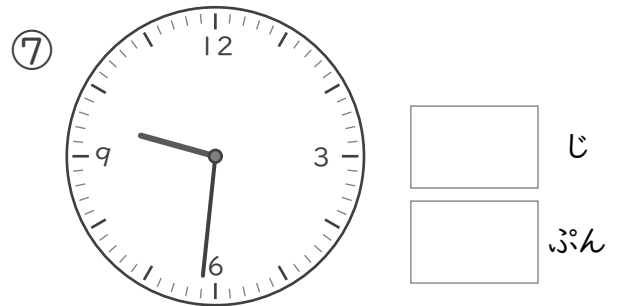
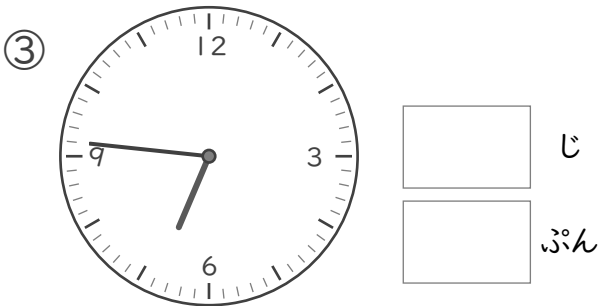
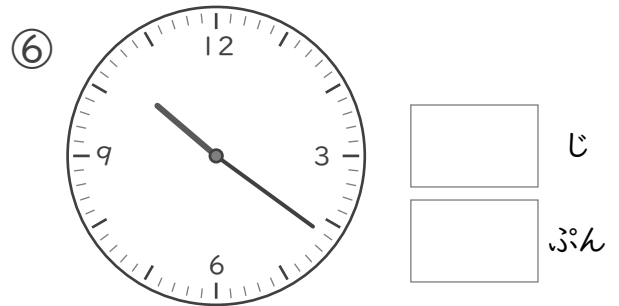
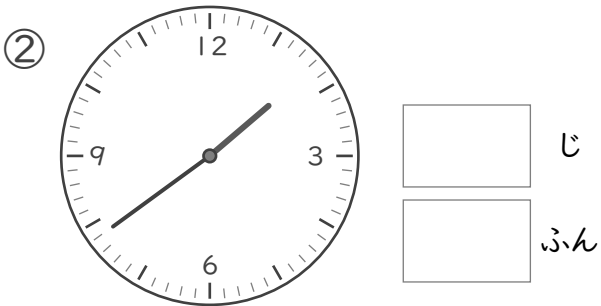
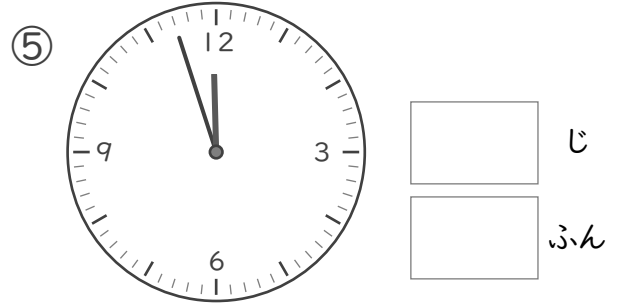
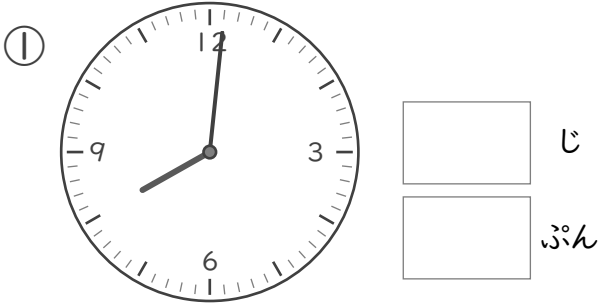


なんじなんぷん

ねん ぐみ
なまえ

/ 8

■ とけいを よみましょう。




なんじなんぶん

ねん くみ
なまえ


/ 8

■ ながい はりを かきましょう。


① 4じ 49ぶん




⑤ 2じ 33ぶん




② 1じ 11ぶん




⑥ 3じ 42ぶん




③ 9じ 57ぶん



⑦ 7じ 29ぶん



④ 12じ 16ぶん



⑧ 5じ 6ぶん



なんじなんぶん


ねん くみ

なまえ


/ 8

■ ながい はりを かきましょう。


① 9じ 36ぶん




⑤ 8じ 40ぶん



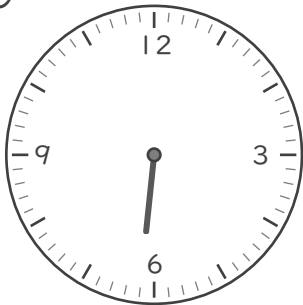
② 3じ 24ぶん




⑥ 11じ 18ぶん




③ 6じ 12ぶん




⑦ 4じ 3ぶん



④ 7じ 47ぶん



⑧ 12じ 56ぶん



なんじなんぶん


ねん くみ

なまえ


/ 8

■ ながい はりを かきましょう。


① 5じ 52ぶん




⑤ 6じ 9ぶん




② 1じ 36ぶん




⑥ 8じ 29ぶん




③ 4じ 43ぶん




⑦ 9じ 53ぶん



④ 7じ 20ぶん



⑧ 12じ 6ぶん



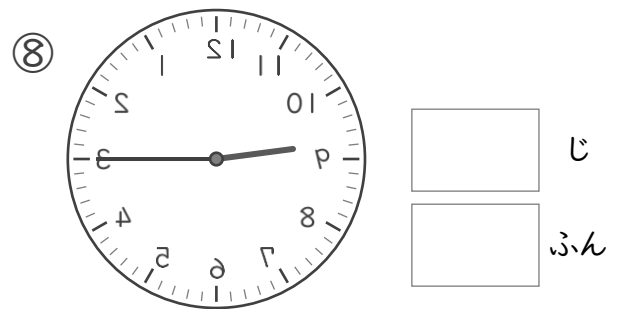
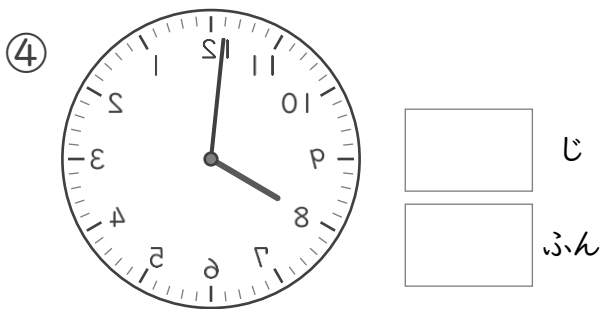
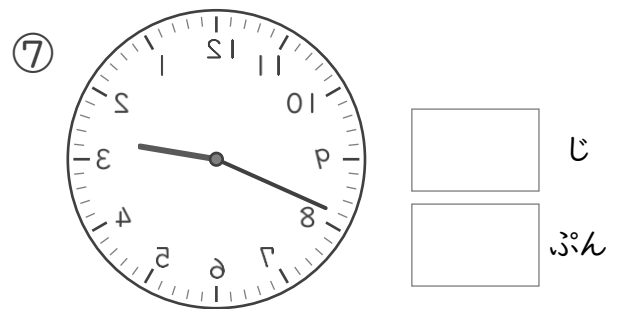
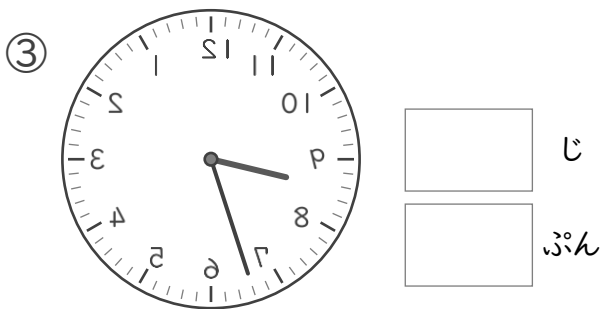
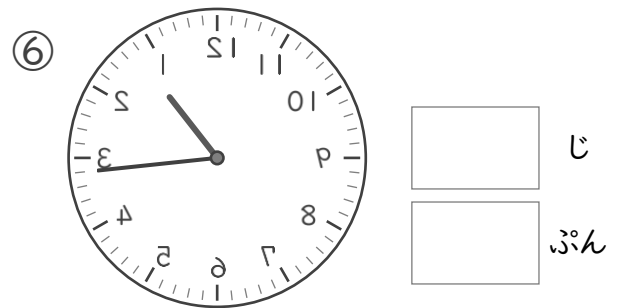
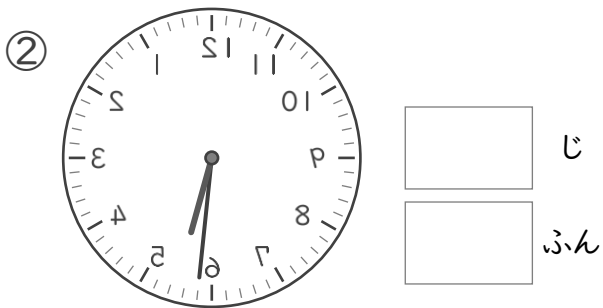
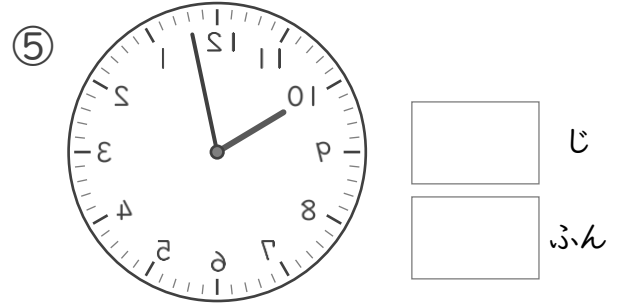
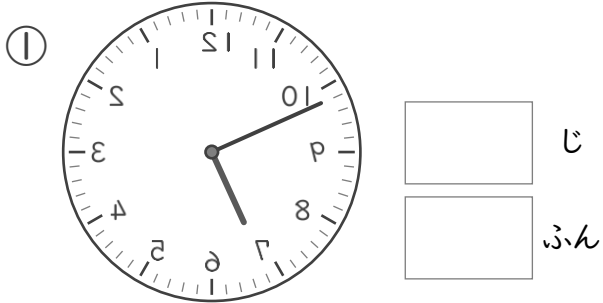
なんじなんぷん

ねん ぐみ

なまえ

/ 8

■ かがみにうつったとけいがあります。このとけいをよみましょう。



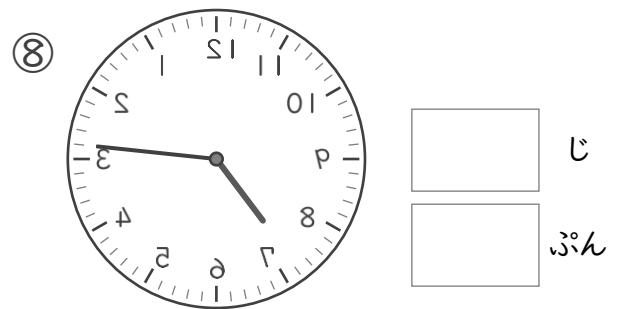
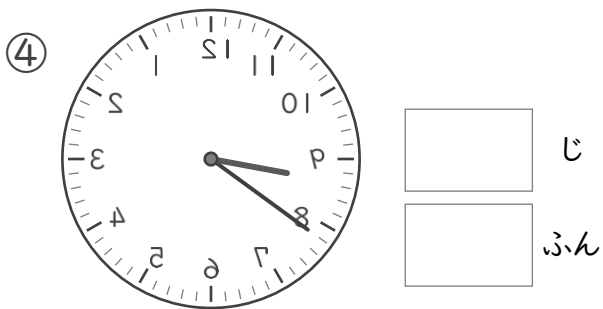
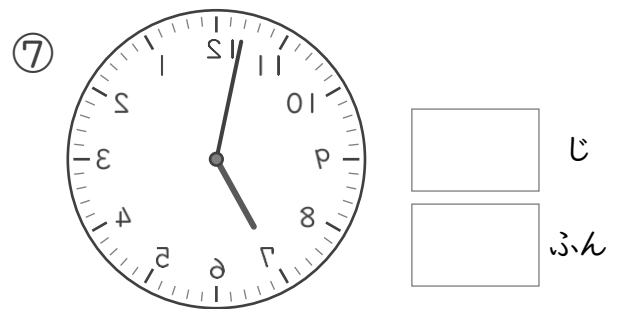
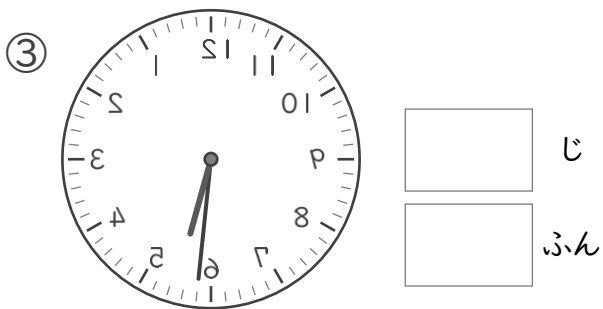
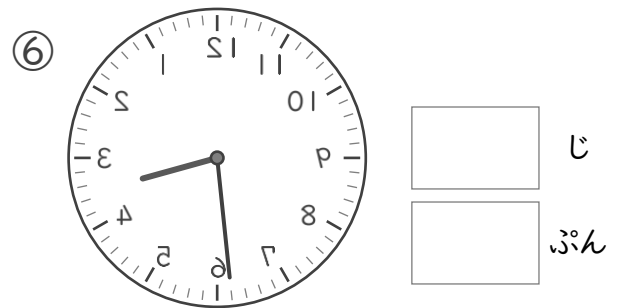
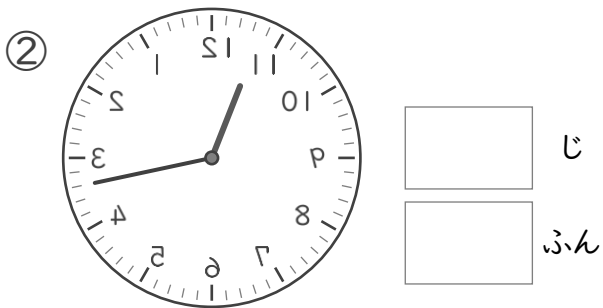
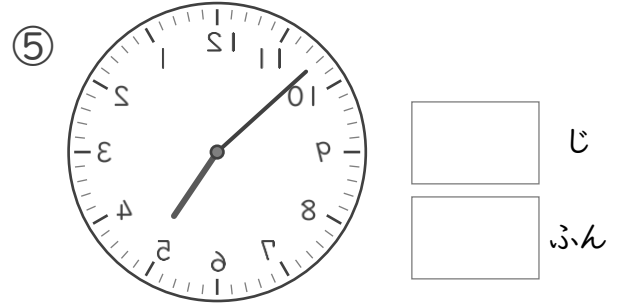
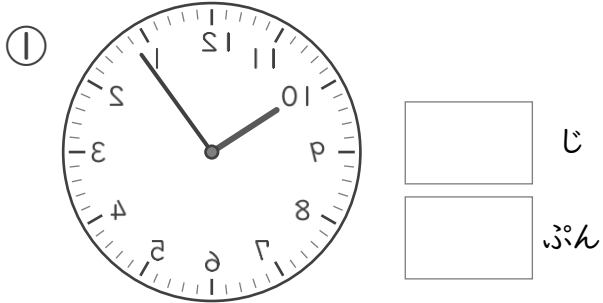
なんじなんぷん

ねん ぐみ

なまえ

/ 8

■ かがみにうつったとけいがあります。このとけいをよみましょう。

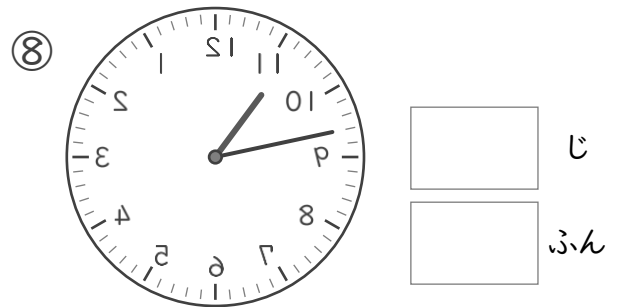
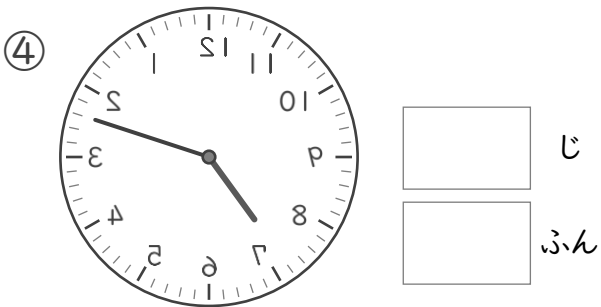
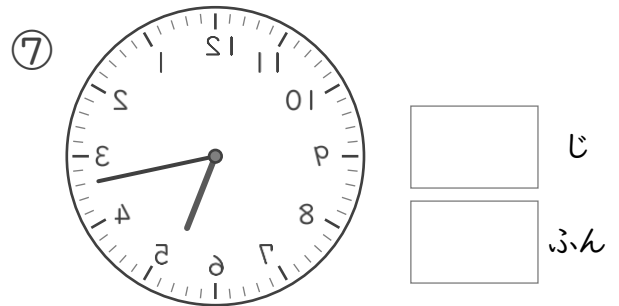
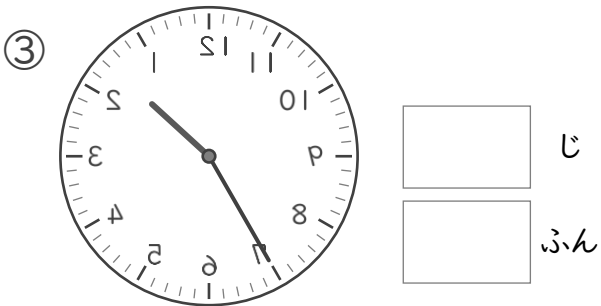
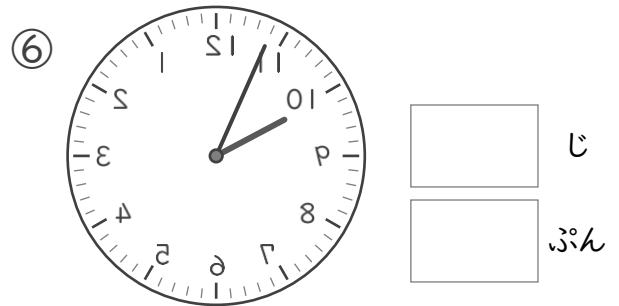
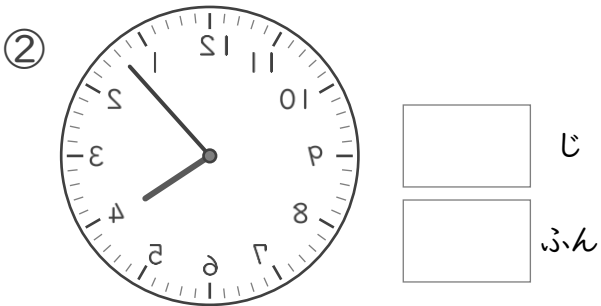
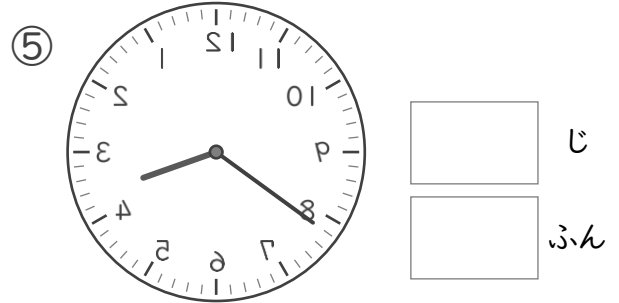



なんじなんぷん

ねん ぐみ
なまえ

/ 8

■ かがみにうつったとけいがあります。このとけいをよみましょう。



たしざん

ねん くみ
なまえ

/20

■ たしざんをしましょう。

$① \quad 7 + 4 = 11$

$② \quad 8 + 8 = 16$

$③ \quad 1 + 4 = 5$

$④ \quad 9 + 5 = 14$

$⑤ \quad 5 + 4 = 9$

$⑥ \quad 9 + 7 = 16$

$⑦ \quad 6 + 9 = 15$

$⑧ \quad 0 + 6 = 6$

$⑨ \quad 7 + 10 = 17$

$⑩ \quad 5 + 8 = 13$

$⑪ \quad 7 + 0 = 7$

$⑫ \quad 5 + 6 = 11$

$⑬ \quad 10 + 6 = 16$

$⑭ \quad 3 + 1 = 4$

$⑮ \quad 2 + 7 = 9$

$⑯ \quad 2 + 9 = 11$

$⑰ \quad 5 + 3 = 8$

$⑱ \quad 1 + 1 = 2$

$⑲ \quad 9 + 3 = 12$

$⑳ \quad 8 + 9 = 17$

たしざん

ねん くみ
なまえ

/20

■ たしざんをしましょう。

$① \quad 8 + 8 = 16$

$② \quad 9 + 10 = 19$

$③ \quad 10 + 6 = 16$

$④ \quad 5 + 9 = 14$

$⑤ \quad 4 + 1 = 5$

$⑥ \quad 4 + 0 = 4$

$⑦ \quad 9 + 2 = 11$

$⑧ \quad 2 + 6 = 8$

$⑨ \quad 5 + 2 = 7$

$⑩ \quad 2 + 8 = 10$

$⑪ \quad 1 + 1 = 2$

$⑫ \quad 5 + 4 = 9$

$⑬ \quad 7 + 9 = 16$

$⑭ \quad 8 + 9 = 17$

$⑮ \quad 0 + 1 = 1$

$⑯ \quad 9 + 3 = 12$

$⑰ \quad 6 + 8 = 14$

$⑱ \quad 8 + 5 = 13$

$⑲ \quad 7 + 4 = 11$

$⑳ \quad 6 + 9 = 15$

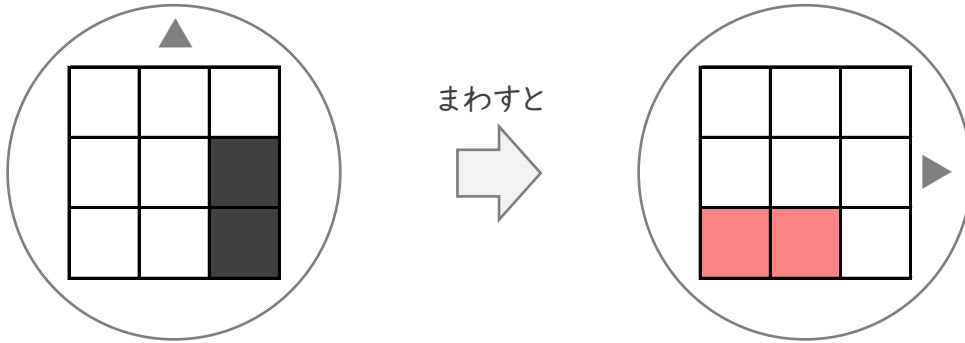
まわしてみよう

ねん くみ
なまえ

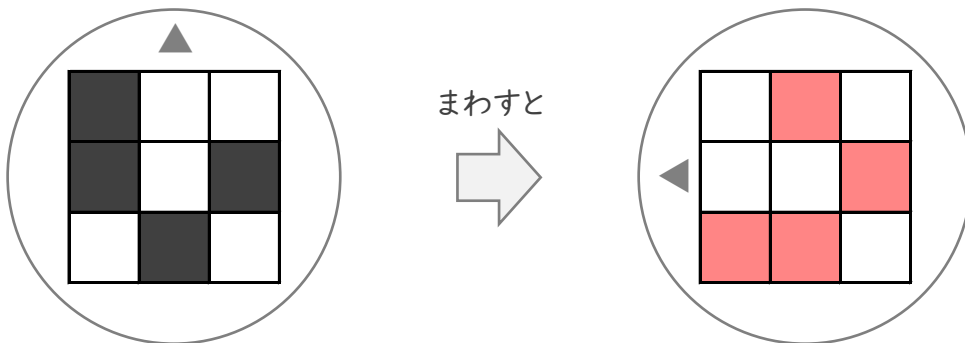
/ 3

■ まわしたかたちになるようにしかくをぬりましょう。

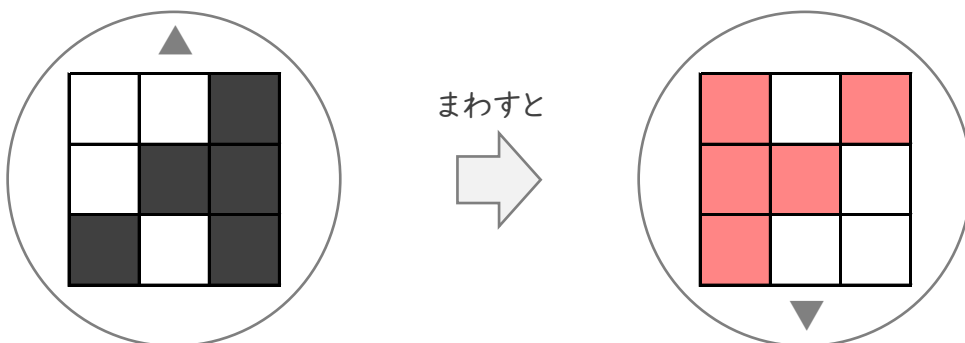
①



②



③



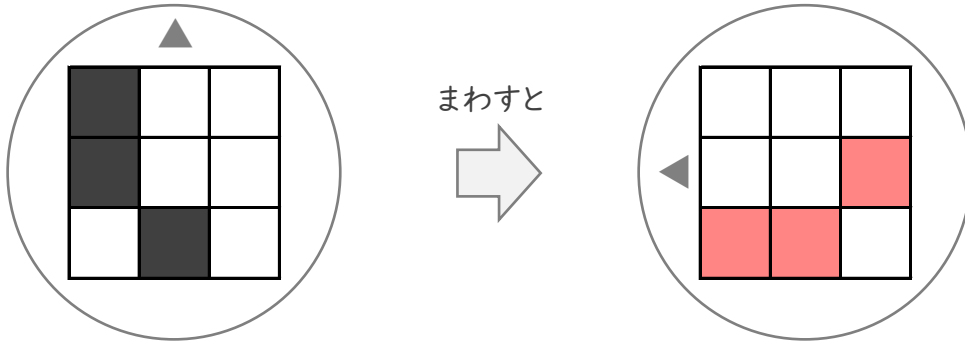
まわしてみよう

ねん くみ
なまえ

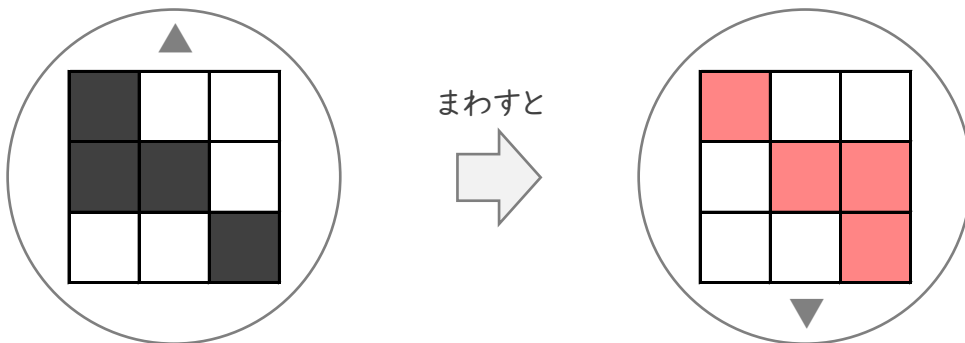
/ 3

■ まわしたかたちになるようにしかくをぬりましょう。

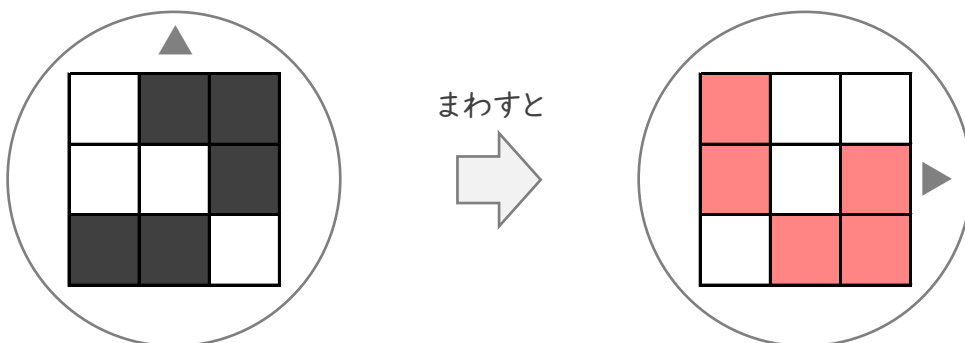
①



②



③



ぬってみよう

ねん くみ

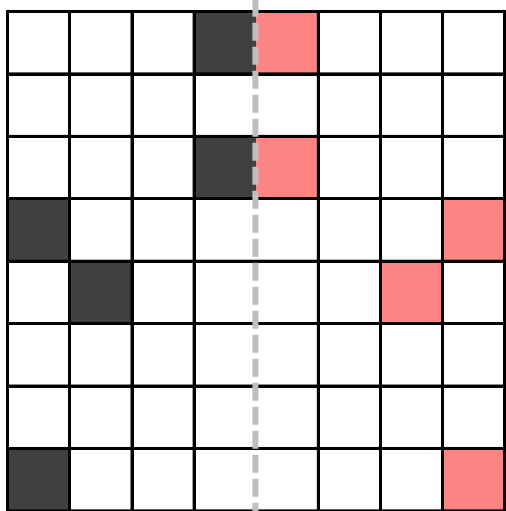
なまえ

/ 4

■ おりまげたときに、ちょうどかさなるようにしかくをぬりましょう。

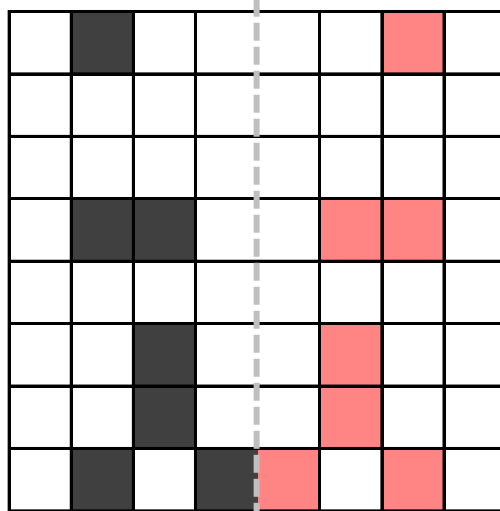
①

ここで おりまげる




②

ここで おりまげる



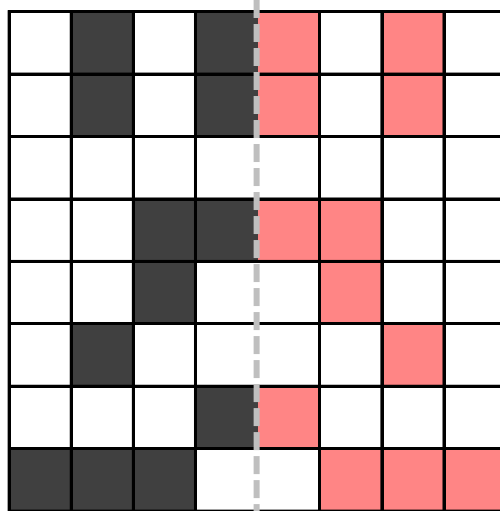
③

ここで おりまげる



④

ここで おりまげる



ぬってみよう

ねん くみ

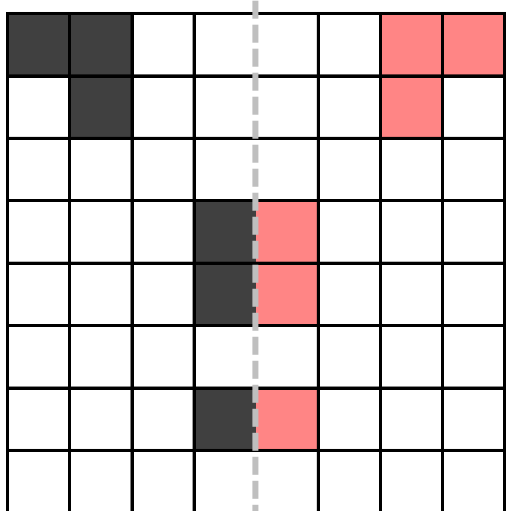
なまえ

/ 4

■ おりまげたときに、ちょうどかさなるようにしかくをぬりましょう。

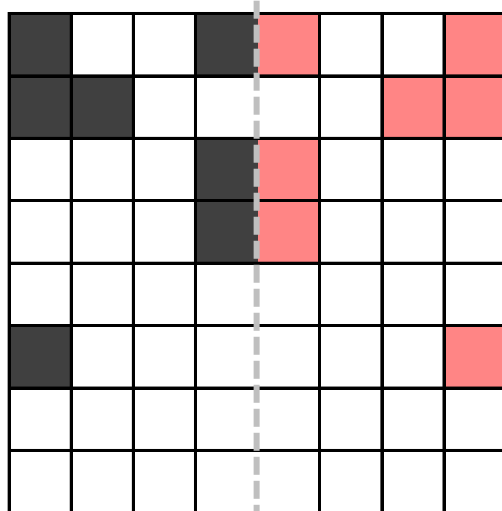
①

ここで おりまげる



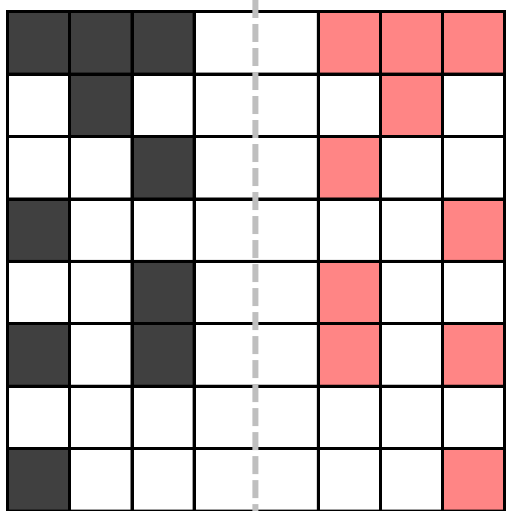
②

ここで おりまげる



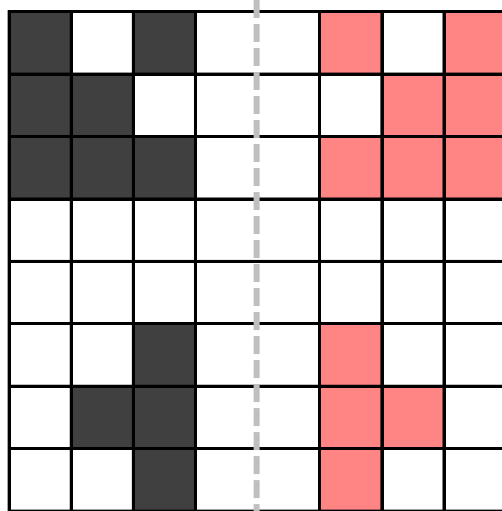
③

ここで おりまげる



④

ここで おりまげる



たしざん

ねん くみ

なまえ

/20

■ にはいる かずを こたえましょう。

① + 5 = 10

② 4 + 9 =

③ 7 + = 10

④ 8 + = 16

⑤ 4 + 2 =

⑥ + 2 = 5

⑦ 9 + = 14

⑧ + 3 = 6

⑨ 3 + 0 =

⑩ + 6 = 15

⑪ 9 + 10 =

⑫ 7 + = 13

⑬ 6 + = 9

⑭ + 7 = 11

⑮ 2 + 8 =

⑯ + 10 = 13

⑰ 8 + = 13

⑱ 0 + 1 =

⑲ + 7 = 16

⑳ 2 + = 7

たしざん

ねん くみ

なまえ

/20

■ にはいる かずを こたえましょう。

① + 4 = 8

② 6 + = 8

③ 0 + 10 =

④ + 7 = 12

⑤ 2 + = 6

⑥ 6 + 9 =

⑦ + 2 = 10

⑧ 7 + 1 =

⑨ 8 + = 15

⑩ 7 + 4 =

⑪ 8 + = 16

⑫ + 3 = 8

⑬ + 3 = 10

⑭ 1 + 6 =

⑮ 1 + = 6

⑯ 8 + = 17

⑰ 10 + 3 =

⑱ + 5 = 9

⑲ 0 + = 3

⑳ + 6 = 13

ひきざん

ねん くみ

なまえ

/20

■ にはいる かずを こたえましょう。

① - 4 = 2

② 15 - = 6

③ 9 - 2 =

④ 17 - = 7

⑤ - 10 = 4

⑥ 11 - 7 =

⑦ - 10 = 9

⑧ 11 - 1 =

⑨ 9 - = 8

⑩ - 0 = 3

⑪ 2 - 0 =

⑫ 11 - = 6

⑬ 11 - 2 =

⑭ 12 - = 7

⑮ - 5 = 5

⑯ 7 - = 1

⑰ 8 - 1 =

⑱ - 9 = 9

⑲ 10 - = 4

⑳ - 7 = 6

ひきざん

ねん くみ

なまえ

/20

■ にはいる かずを こたえましょう。

① $9 - 3 = 6$

② $2 - 1 = 1$

③ $19 - 10 = 9$

④ $13 - 5 = 8$

⑤ $11 - 3 = 8$

⑥ $7 - 1 = 6$

⑦ $9 - 4 = 5$

⑧ $3 - 3 = 0$

⑨ $12 - 8 = 4$

⑩ $12 - 10 = 2$

⑪ $16 - 8 = 8$

⑫ $13 - 10 = 3$

⑬ $1 - 1 = 0$

⑭ $8 - 5 = 3$

⑮ $10 - 0 = 10$

⑯ $16 - 6 = 10$

⑰ $11 - 6 = 5$

⑱ $9 - 8 = 1$

⑲ $5 - 5 = 0$

⑳ $6 - 2 = 4$

3つのかずの けいさん(1)

ねん くみ
なまえ

/10

■ つぎのけいさんをしましょう。

$① \quad 9 - 6 - 1 =$

2

$② \quad 6 - 1 - 4 =$

1

$③ \quad 9 - 2 - 2 =$

5

$④ \quad 8 - 5 - 2 =$

1

$⑤ \quad 10 - 5 - 2 =$

3

$⑥ \quad 12 - 2 - 2 =$

8

$⑦ \quad 7 - 4 - 2 =$

1

$⑧ \quad 14 - 4 - 1 =$

9

$⑨ \quad 5 - 1 - 2 =$

2

$⑩ \quad 17 - 7 - 5 =$

5

3つのかずの けいさん(1)

ねん くみ
なまえ

/10

■ つぎのけいさんをしましょう。

$① \quad 9 - 2 - 6 =$

1

$② \quad 10 - 8 - 1 =$

1

$③ \quad 7 - 2 - 3 =$

2

$④ \quad 10 - 2 - 2 =$

6

$⑤ \quad 12 - 2 - 5 =$

5

$⑥ \quad 7 - 4 - 2 =$

1

$⑦ \quad 5 - 3 - 1 =$

1

$⑧ \quad 8 - 2 - 1 =$

5

$⑨ \quad 11 - 1 - 4 =$

6

$⑩ \quad 13 - 3 - 8 =$

2

3つのかずの けいさん(2)

ねん くみ
なまえ

/10

■ つぎのけいさんをしましょう。

$① \quad 5 - 2 + 1 =$

4

$② \quad 12 - 2 + 7 =$

17

$③ \quad 5 - 1 + 3 =$

7

$④ \quad 11 - 1 + 9 =$

19

$⑤ \quad 5 - 3 + 1 =$

3

$⑥ \quad 18 - 8 + 4 =$

14

$⑦ \quad 9 - 4 + 4 =$

9

$⑧ \quad 6 - 4 + 4 =$

6

$⑨ \quad 4 - 2 + 4 =$

6

$⑩ \quad 8 - 2 + 3 =$

9

3つのかずの けいさん(2)

ねん くみ
なまえ

/10

■ つぎのけいさんをしましょう。

$① 16 - 6 + 1 =$

11

$② 10 - 5 + 3 =$

8

$③ 10 - 2 + 1 =$

9

$④ 6 - 1 + 2 =$

7

$⑤ 6 - 3 + 4 =$

7

$⑥ 8 - 1 + 1 =$

8

$⑦ 12 - 2 + 9 =$

19

$⑧ 10 - 6 + 1 =$

5

$⑨ 11 - 1 + 6 =$

16

$⑩ 9 - 6 + 7 =$

10

大きいかず

ねん くみ
なまえ

/ 4

■ べつべつの かずが かかれた たまが 20こ あります。

43	45	36	21	37
15	48	63	17	50
38	16	22	54	27
14	57	53	24	30

① 1ばん 小さい かずは なんですか。

14

② 2ばんめに 小さい かずは なんですか。

15

③ 1ばん 大きい かずは なんですか。

63

④ 2ばんめに 大きい かずは なんですか。

57

大きいかず

ねん くみ
なまえ

/ 4

■ べつべつの かずが かかれた たまが 20こ あります。

67	64	41	69	68
57	55	50	56	76
51	59	66	63	58
53	78	42	65	54

① 1ばん 小さい かずは なんですか。

41

② 2ばんめに 小さい かずは なんですか。

42

③ 1ばん 大きい かずは なんですか。

78

④ 2ばんめに 大きい かずは なんですか。

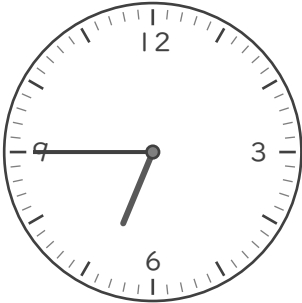
76


なんじなんぷん

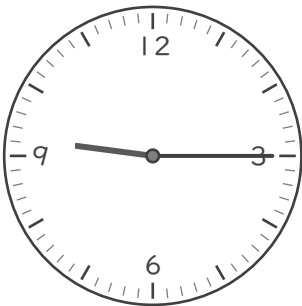
ねん くみ
なまえ


/ 8


■ とけいを よみましょう。


①  じ
 ぷん


⑤  じ
 ぷん


②  じ
 ぷん

⑥  じ
 ぷん

③  じ
 ぷん

⑦  じ
 ぷん

④  じ
 ぷん

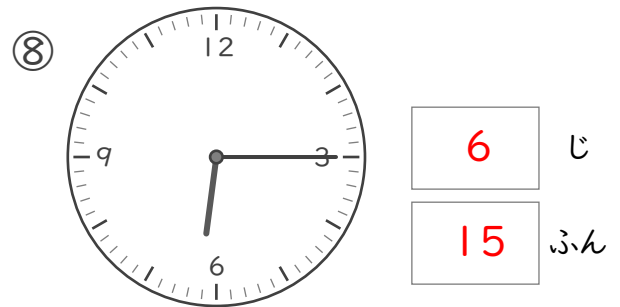
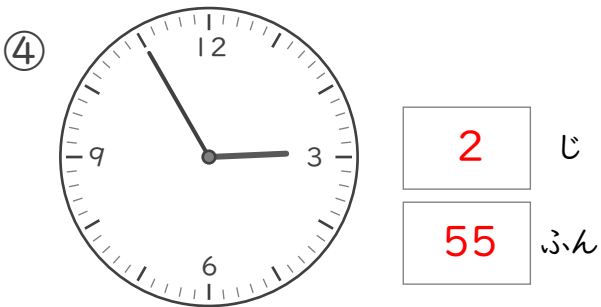
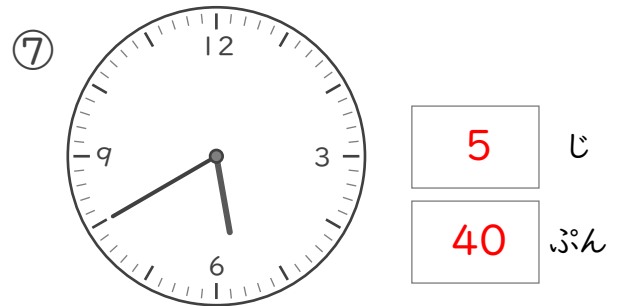
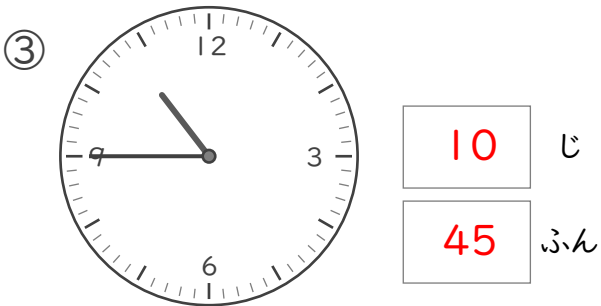
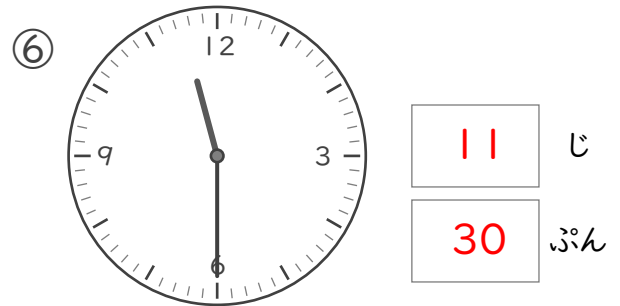
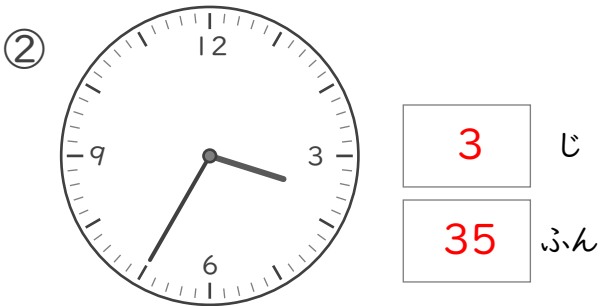
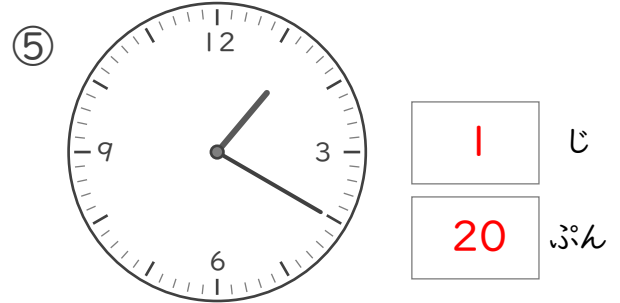
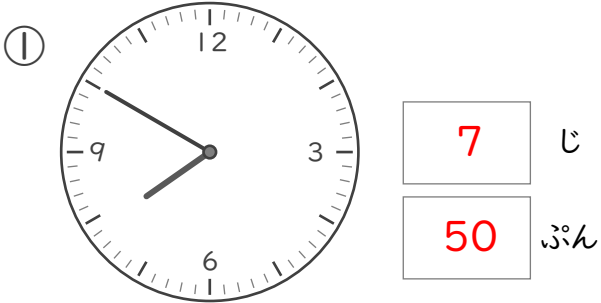
⑧  じ
 ぷん

なんじなんぷん

ねん くみ
なまえ

/ 8

■ とけいを よみましょう。

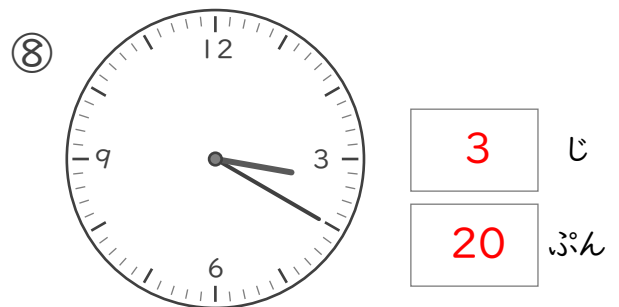
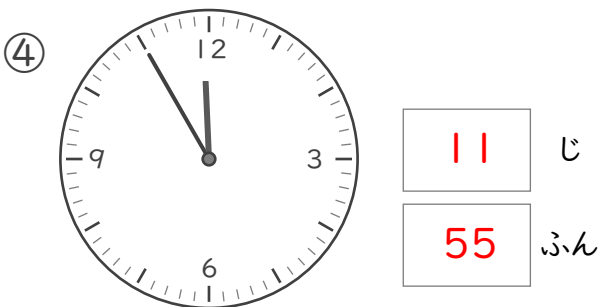
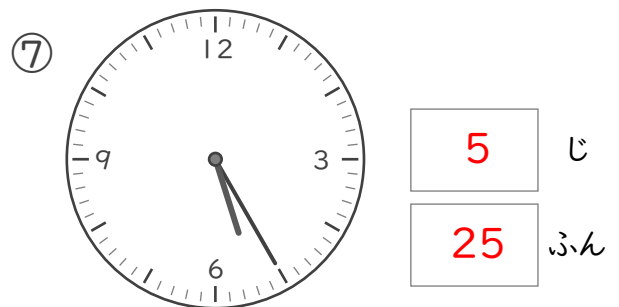
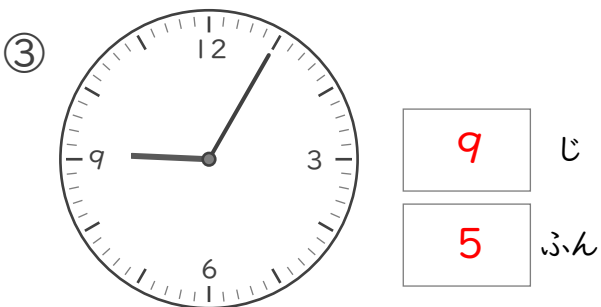
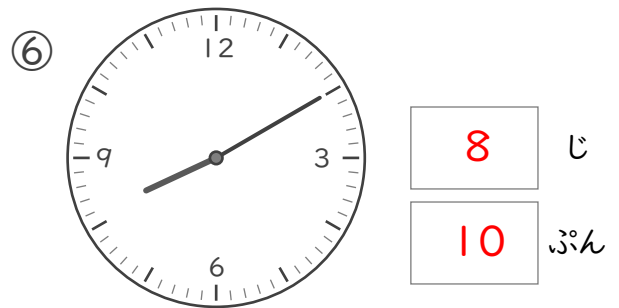
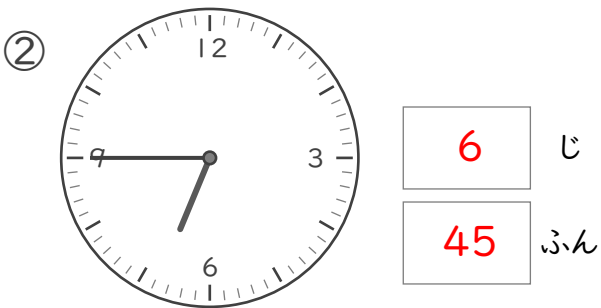
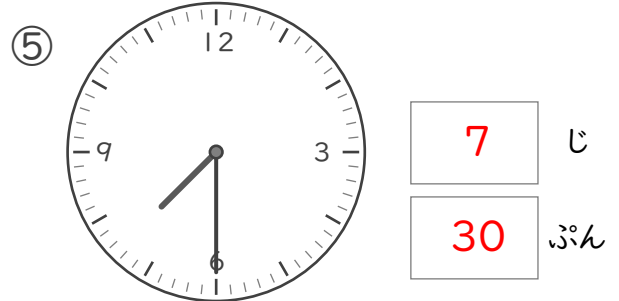
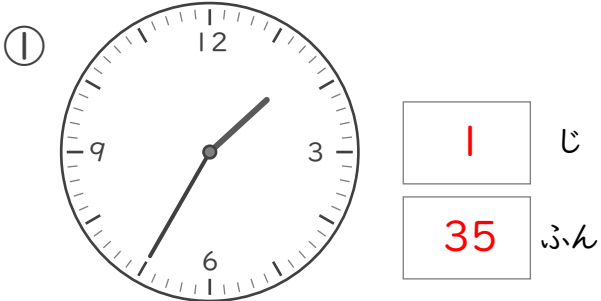


なんじなんぷん

ねん くみ
なまえ

/ 8

■ とけいを よみましょう。





なんじなんぷん


ねん くみ
なまえ


/ 8


■ とけいを よみましょう。


①  じ
 ぷん


⑤  じ
 ぷん


②  じ
 ぷん

⑥  じ
 ぷん

③  じ
 ぷん

⑦  じ
 ぷん

④  じ
 ぷん

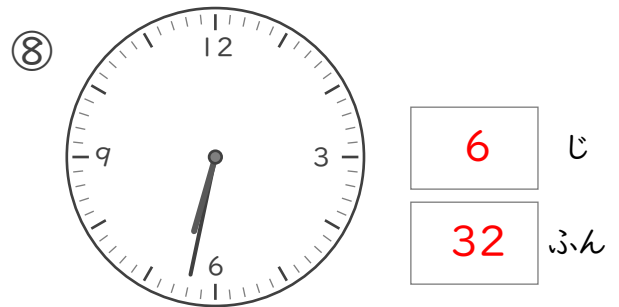
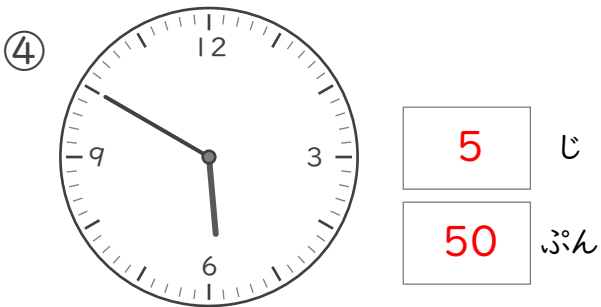
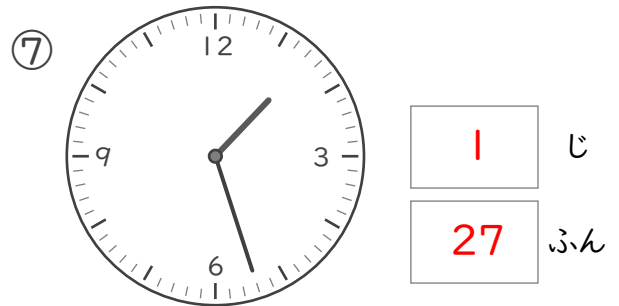
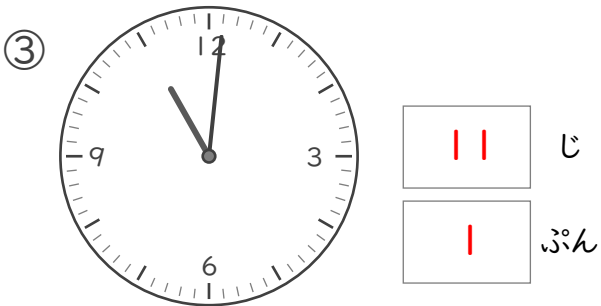
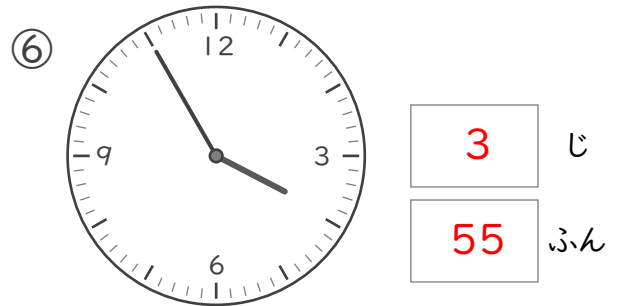
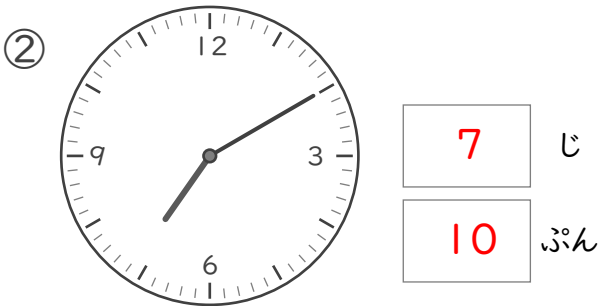
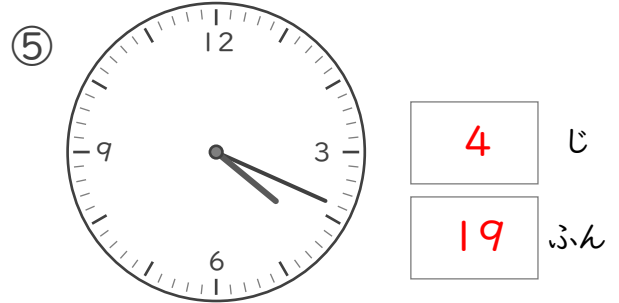
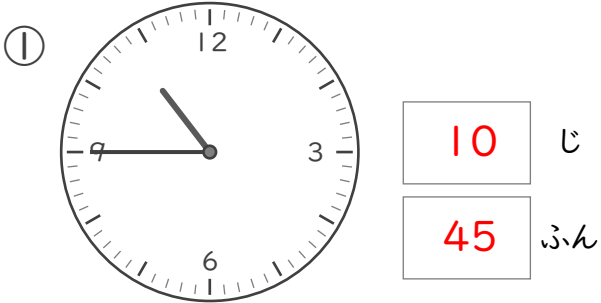
⑧  じ
 ぷん

なんじなんぷん

ねん くみ
なまえ

/ 8

■ とけいを よみましょう。

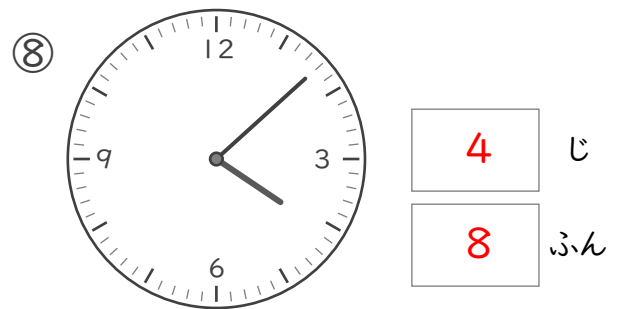
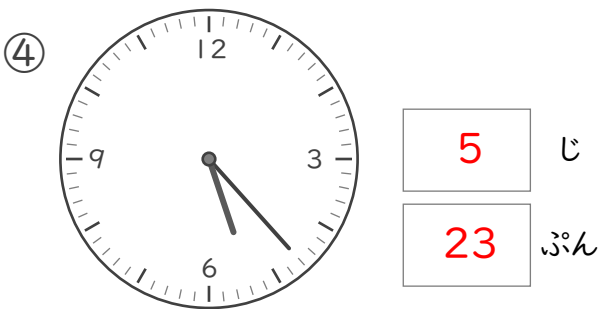
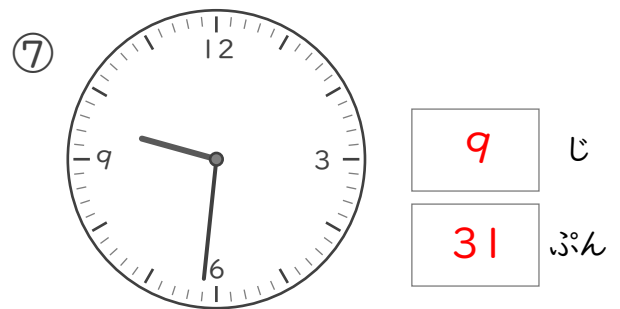
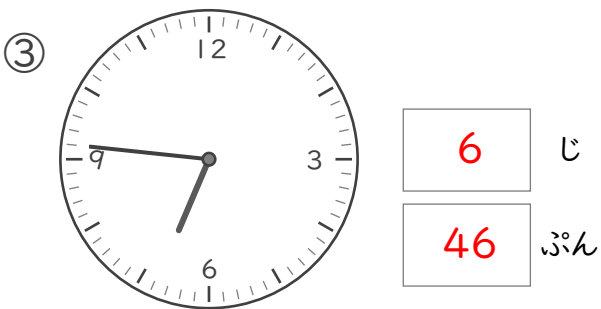
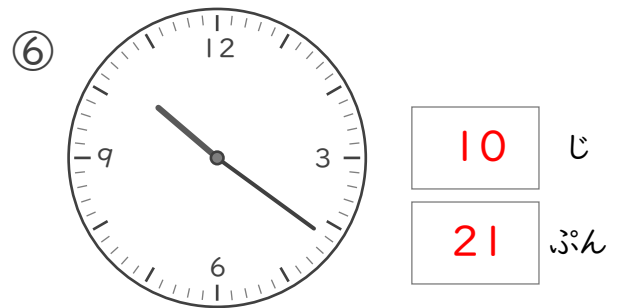
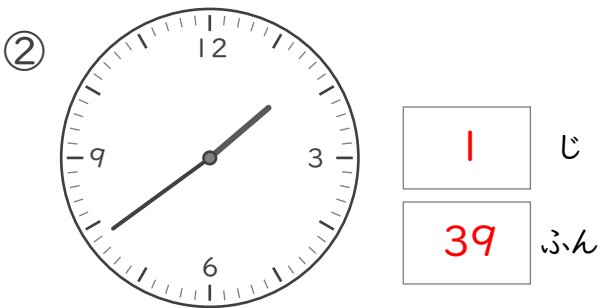
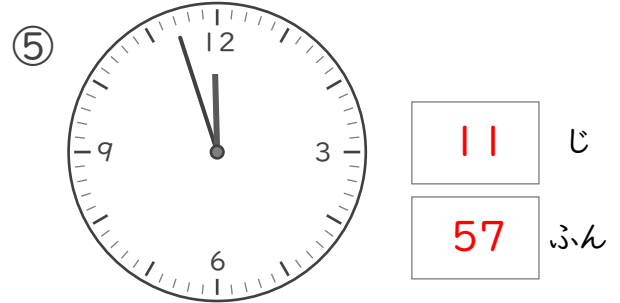
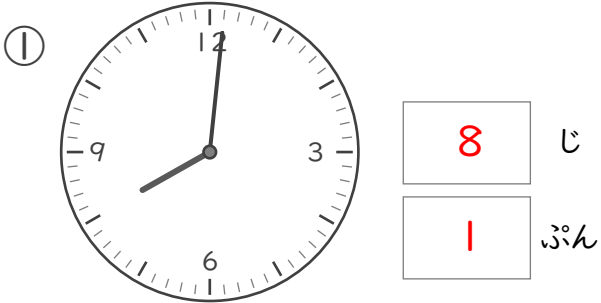


なんじなんぷん

ねん ぐみ
なまえ

/ 8

■ とけいを よみましょう。



なんじなんぶん

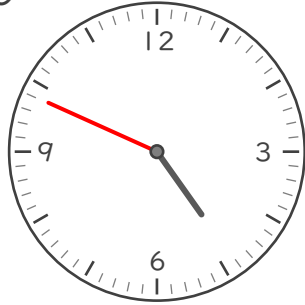
ねん くみ

なまえ

/ 8

■ ながい はりを かきましょう。

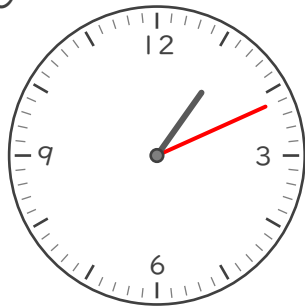
① 4じ 49ぶん



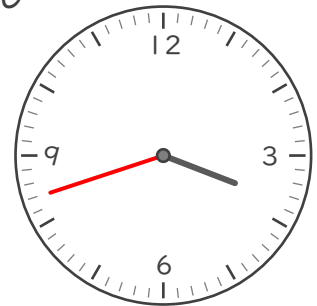
⑤ 2じ 33ぶん



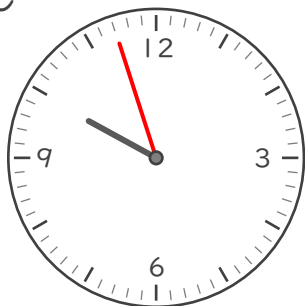
② 1じ 11ぶん



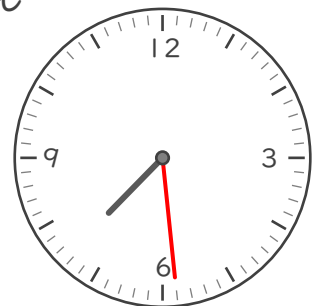
⑥ 3じ 42ぶん




③ 9じ 57ぶん



⑦ 7じ 29ぶん



④ 12じ 16ぶん



⑧ 5じ 6ぶん



なんじなんぷん


ねん くみ

なまえ

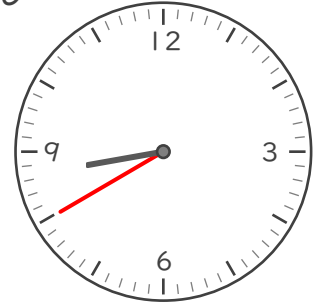
/ 8

■ ながいはりをかきましょう。

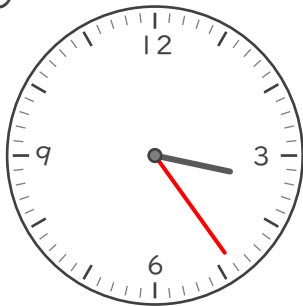
① 9じ 36ぷん




⑤ 8じ 40ぷん



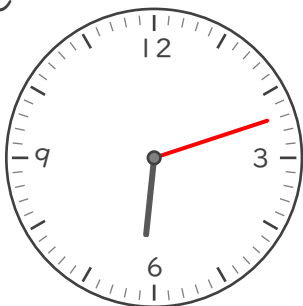
② 3じ 24ぷん



⑥ 11じ 18ぷん



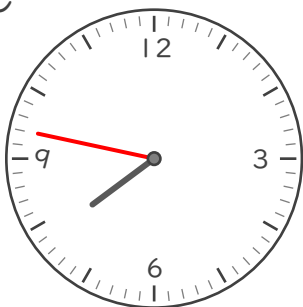
③ 6じ 12ぷん




⑦ 4じ 3ぷん



④ 7じ 47ぷん



⑧ 12じ 56ぷん



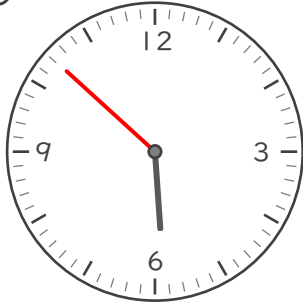
なんじなんぶん

ねん ぐみ
なまえ

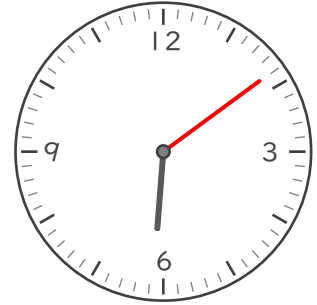
/ 8

■ ながいはりをかきましょう。

① 5じ 52ぶん



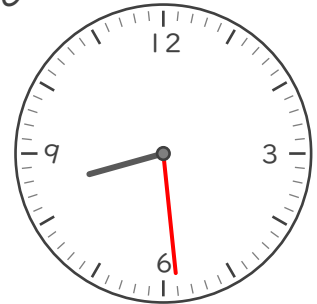
⑤ 6じ 9ぶん



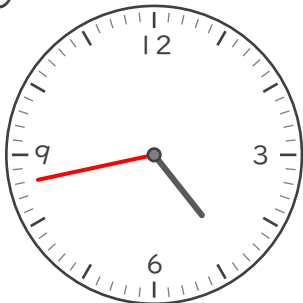
② 1じ 36ぶん



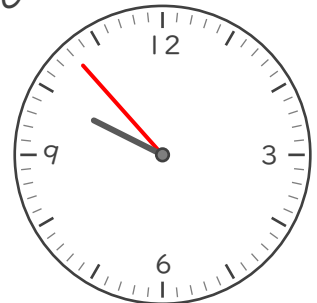
⑥ 8じ 29ぶん



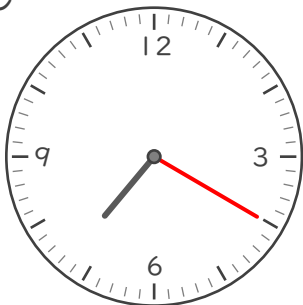
③ 4じ 43ぶん




⑦ 9じ 53ぶん



④ 7じ 20ぶん



⑧ 12じ 6ぶん




なんじなんぷん


ねん くみ


なまえ


/ 8


■ かがみにうつったとけいがあります。このとけいをよみましょう。


①  じ
 ぷん


⑤  じ
 ぷん


②  じ
 ぷん

⑥  じ
 ぷん

③  じ
 ぷん

⑦  じ
 ぷん

④  じ
 ぷん

⑧  じ
 ぷん

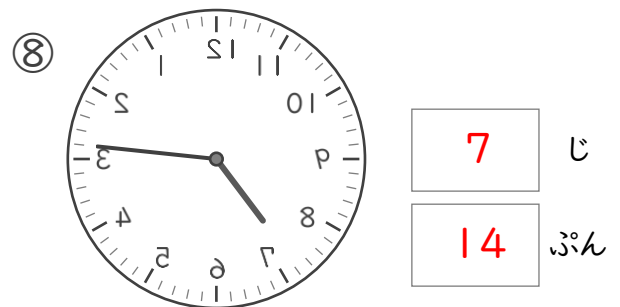
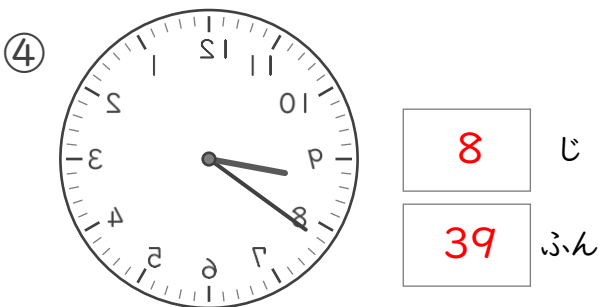
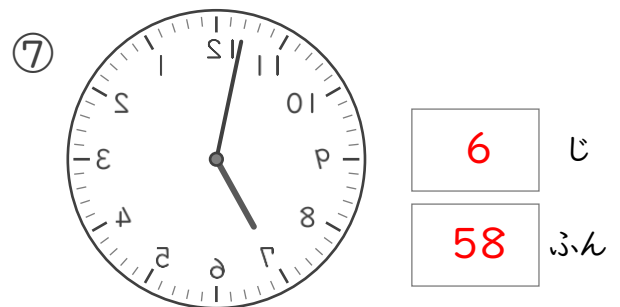
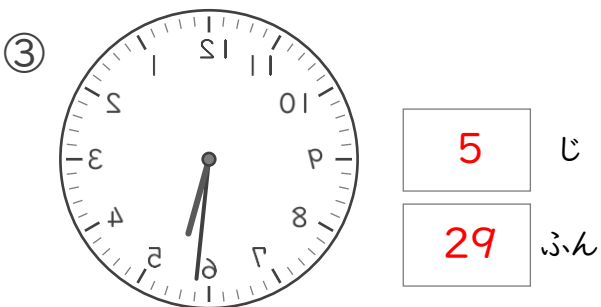
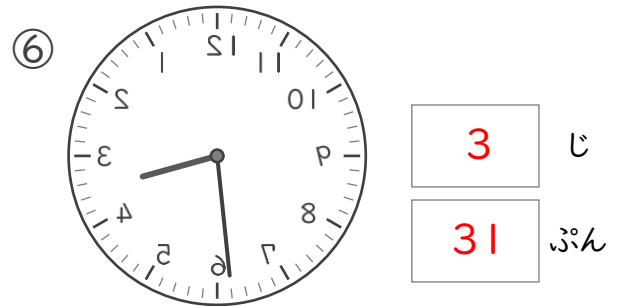
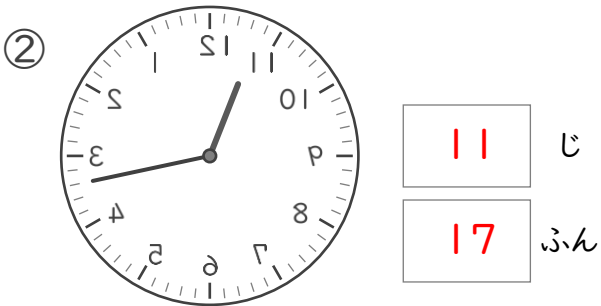
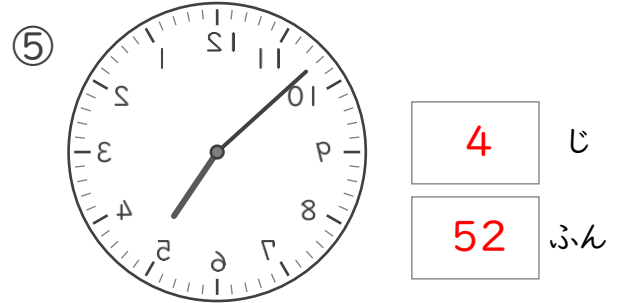
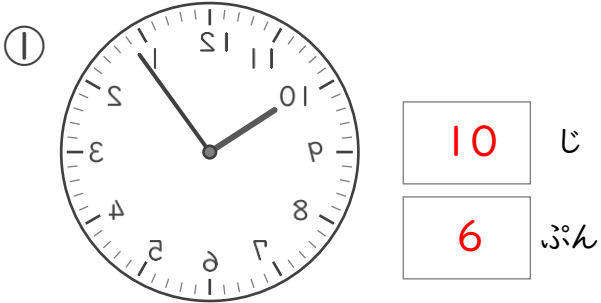
なんじなんぷん

ねん ぐみ

なまえ

/ 8

■ かがみにうつったとけいがあります。このとけいをよみましょう。





なんじなんぷん


ねん ぐみ
なまえ


/ 8


■ かがみにうつったとけいがあります。このとけいをよみましょう。


①  じ
 ぷん


⑤  じ
 ぷん


②  じ
 ぷん

⑥  じ
 ぷん

③  じ
 ぷん

⑦  じ
 ぷん

④  じ
 ぷん

⑧  じ
 ぷん