

きょうざい  
教材おきば の

これだけ、あんしん安心

さんすう  
算数ドリル

1 - 20

Light

小学1年生

もくじ

① ひきざんのしくみ 式をもとめる(1)	1 ページ
② ながさを くらべる	1 ページ
③ たしざんを つかって あんごうを ところ(2)	1 ページ
④ むしくい たしざん	1 ページ
⑤ むしくい ひきざん	1 ページ
⑥ 100 までの かずの ひょう	1 ページ
⑦ かずさがし 大きいかず・小さいかず	1 ページ
⑧ ケーキをわけよう	1 ページ
⑨ つみきは なんこ	1 ページ
⑩ なんじなんぷん(2)	1 ページ
⑪ なんじなんぷん 長針をかく(2)	2 ページ
⑫ なんじなんぷん 鏡に映った時計	2 ページ
合計	14 ページ

# ひきざんのしくみ

ねん くみ

なまえ

/14

■ つぎの  にあてはまる かずを こたえましょう。

①  - 2 = 2

②  - 5 = 5

③  - 1 = 5

④  - 1 = 3

⑤  - 2 = 6

⑥  - 1 = 6

⑦  - 2 = 1

⑧  - 4 = 3

⑨  - 2 = 3

⑩  - 1 = 7

⑪  - 1 = 8

⑫  - 3 = 3

⑬  - 2 = 8

⑭  - 9 = 1

# おおきさくらべ

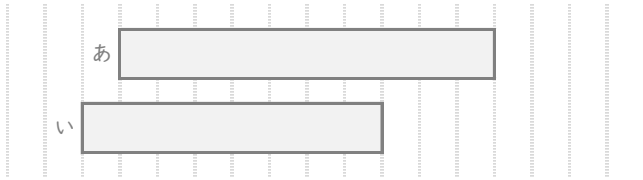
ねん くみ

なまえ

/ 7

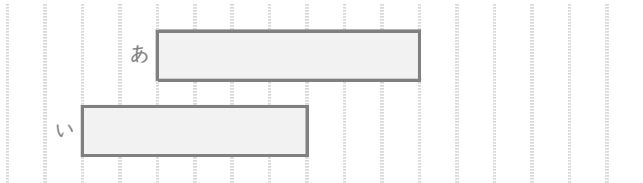
■ あといのりぼんはどちらがながいですか。

①



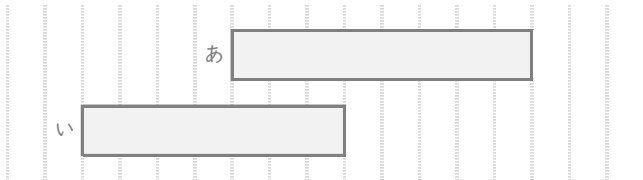
ながいほう

②



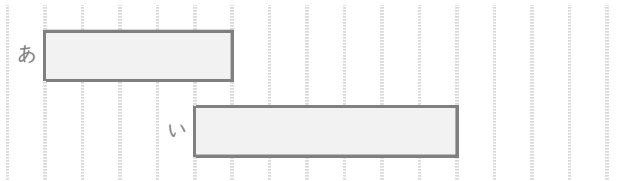
ながいほう

③



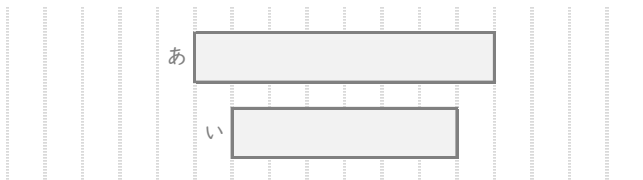
ながいほう

④



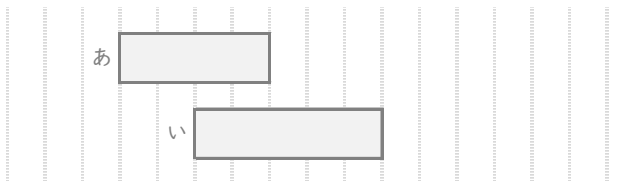
ながいほう

⑤



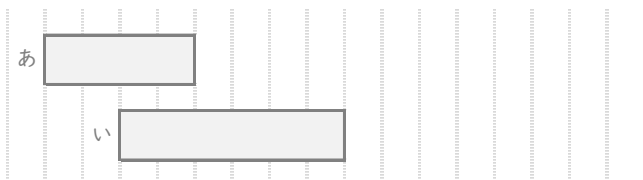
ながいほう

⑥



ながいほう

⑦



ながいほう

# たしざんをつかって

ねん くみ  
なまえ

/ 6

■ たしざんをつかって あんごうを ときましょう。

①

$6+8$	$3+9$	$5+8$	$9+8$	$9+9$	$10+9$	$3+8$	$8+7$

11.ぶ 12.ら 13.ん 14.ぶ 15.ら  
16.お 17.こ 18.て 19.ん 20.こ

②

$10+10$	$7+7$	$7+6$	$10+9$	$9+8$	$7+8$	$8+10$	$7+4$

11.う 12.た 13.ね 14.ま 15.ん  
16.か 17.さ 18.す 19.ぎ 20.た

③

$10+10$	$7+9$	$9+5$	$7+5$	$10+9$	$6+9$	$10+8$	$9+2$

11.り 12.き 13.に 14.び 15.ん  
16.じ 17.も 18.ぐ 19.ど 20.く

# たしざん

ねん くみ

なまえ

/20

■ にはいるかすをこたえましょう。

①  + 2 = 3

② 10 + 2 =

③ 3 +  = 13

④  + 6 = 7

⑤ 4 + 7 =

⑥ 6 +  = 13

⑦  + 7 = 15

⑧ 1 +  = 5

⑨ 4 + 4 =

⑩ 1 + 5 =

⑪ 4 +  = 4

⑫  + 5 = 5

⑬ 3 + 8 =

⑭ 9 +  = 16

⑮  + 10 = 15

⑯  + 6 = 8

⑰ 10 + 1 =

⑱ 1 +  = 1

⑲ 5 +  = 13

⑳ 1 + 8 =

# ひきざん

ねん くみ

なまえ

/20

■  にはいる かずを こたえましょう。

①  $3 - \square = 2$

②  $\square - 6 = 2$

③  $11 - 2 = \square$

④  $\square - 9 = 4$

⑤  $15 - 10 = \square$

⑥  $9 - \square = 3$

⑦  $5 - 3 = \square$

⑧  $12 - \square = 5$

⑨  $\square - 9 = 10$

⑩  $\square - 7 = 0$

⑪  $17 - \square = 8$

⑫  $14 - 7 = \square$

⑬  $4 - \square = 0$

⑭  $18 - 9 = \square$

⑮  $\square - 0 = 3$

⑯  $\square - 5 = 0$

⑰  $12 - 2 = \square$

⑱  $7 - \square = 1$

⑲  $\square - 1 = 7$

⑳  $11 - 10 = \square$

# 100までのかず

ねん くみ  
なまえ

/ 30

■ ひょうの あいている ところには いる かずを かきましょう。

1			4		6	7	8	9	10
11	12	13		15	16	17		19	
21	22		24		26		28	29	30
31	32	33	34	35		37		39	
	42	43		45	46		48	49	50
	52	53	54	55		57	58		60
	62	63		65	66	67	68		70
71		73	74		76	77	78		80
81	82		84	85	86			89	90
91	92	93	94	95		97		99	

# 大きいかず

ねん くみ  
なまえ

/ 4

■ べつべつの かずが かかれた たまが 20こ あります。

44	38	51	56	53
61	47	50	57	34
45	43	35	37	49
54	48	60	42	55

① 1ばん 小さい かずは なんですか。

② 2ばんめに 小さい かずは なんですか。

③ 1ばん 大きい かずは なんですか。

④ 2ばんめに 大きい かずは なんですか。

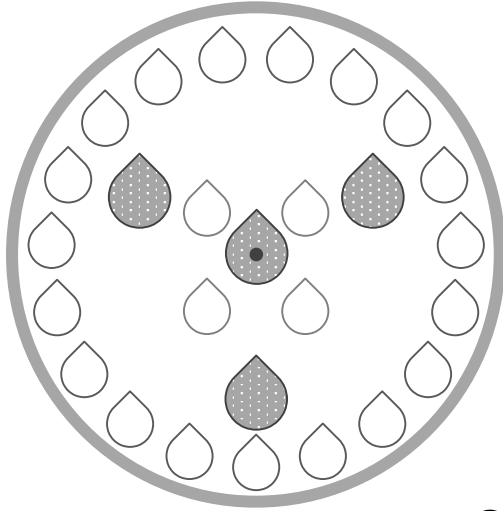


# わけてみよう

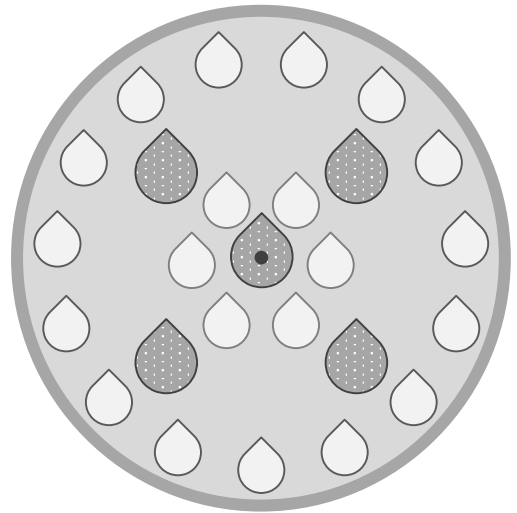
ねん くみ  
なまえ

/ 3

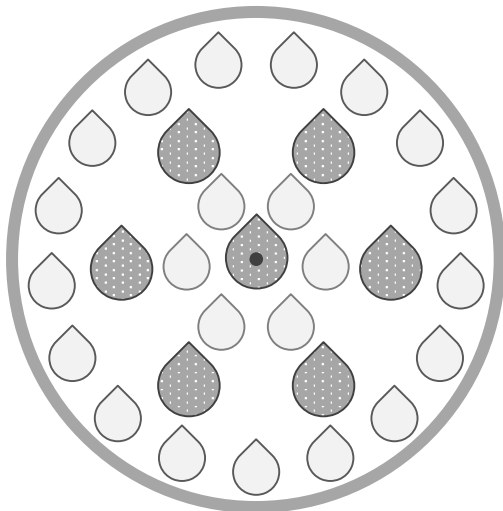
① ケーキ(けえき)を 3つにわけましょう。



② ケーキ(けえき)を 4つにわけましょう。



③ ケーキ(けえき)を 6つにわけましょう。




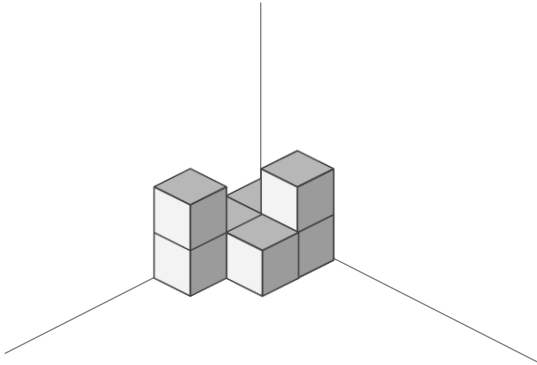
# つみきはなんこ

ねん くみ  
なまえ


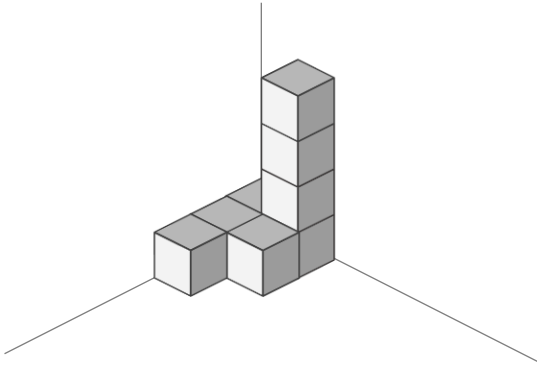
/ 4

■ つみきのかずだけまる(O)をかきましょう。


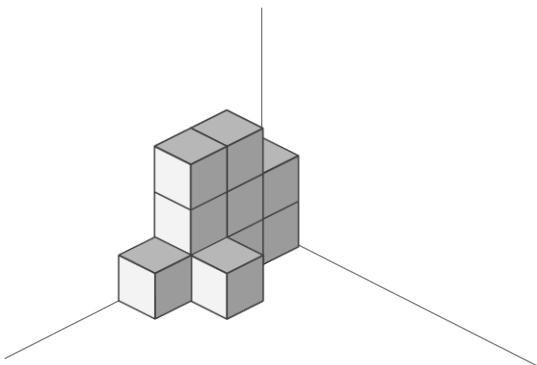
①




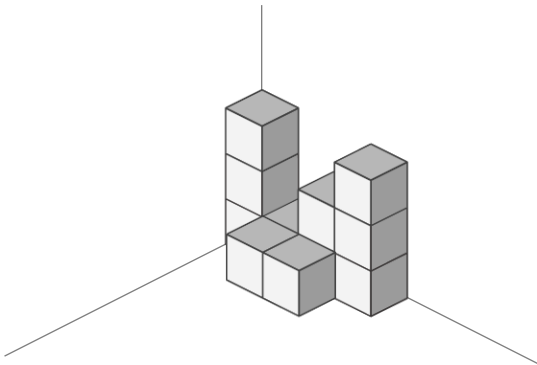
②



③



④





# なんじなんぷん


ねん ぐみ  
なまえ


/ 8

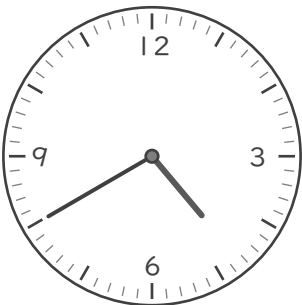
■ とけいを よみましょう。


①   じ  
 ぷん


⑤   じ  
 ぷん


②   じ  
 ぷん

⑥   じ  
 ぷん

③   じ  
 ぷん

⑦   じ  
 ぷん

④   じ  
 ぷん

⑧   じ  
 ぷん

なんじなんぶん


ねん ぐみ

なまえ


/ 8

■ ながい はりを かきましょう。


① 6じ 28ぶん




⑤ 1じ 11ぶん




② 11じ 21ぶん




⑥ 5じ 50ぶん




③ 2じ 32ぶん




⑦ 8じ 55ぶん



④ 9じ 39ぶん



⑧ 10じ 2ぶん




なんじなんぶん

ねん ぐみ  
なまえ


/ 8

■ ながい はりを かきましょう。


① 11じ 25ぶん




⑤ 10じ 36ぶん




② 6じ 43ぶん




⑥ 1じ 5ぶん




③ 3じ 21ぶん




⑦ 5じ 14ぶん



④ 4じ 49ぶん



⑧ 7じ 55ぶん




# なんじなんぷん


ねん ぐみ


なまえ


/ 8


■ かがみにうつったとけいがあります。このとけいをよみましょう。


①   じ  
 ぷん


⑤   じ  
 ぷん


②   じ  
 ぷん

⑥   じ  
 ぷん

③   じ  
 ぷん

⑦   じ  
 ぷん

④   じ  
 ぷん

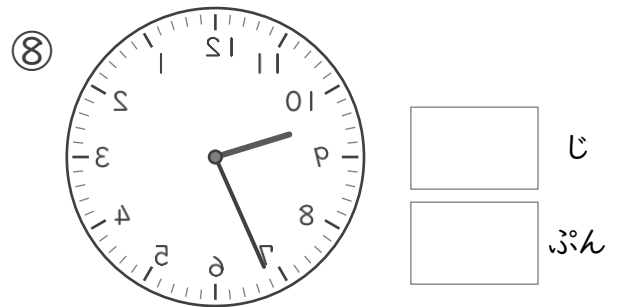
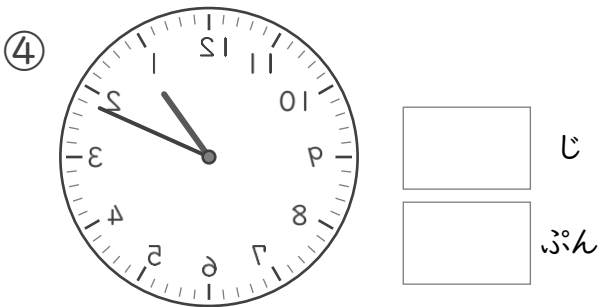
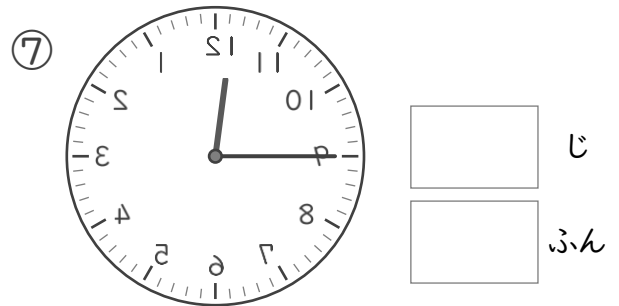
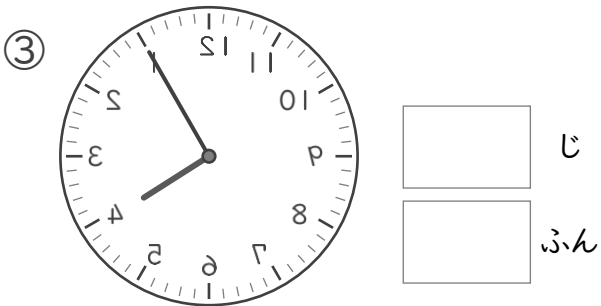
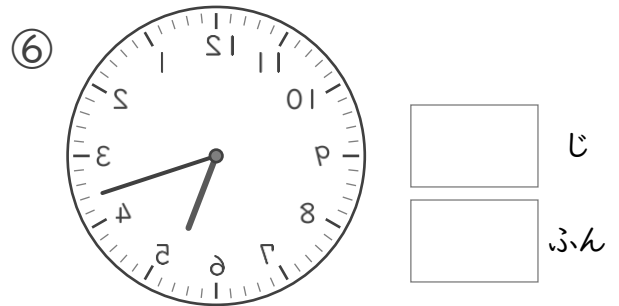
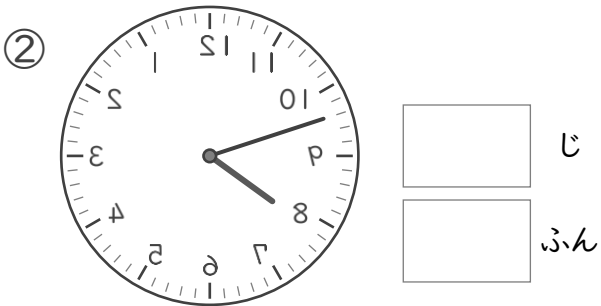
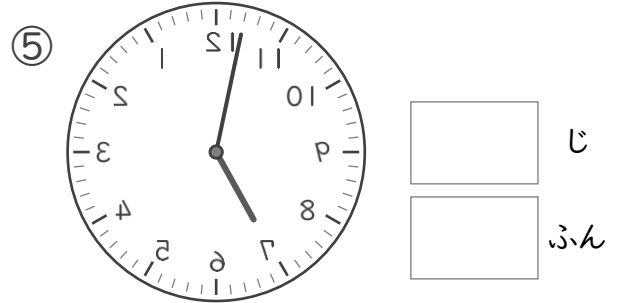
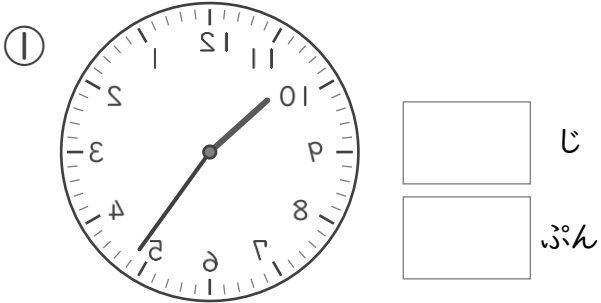
⑧   じ  
 ぷん

# なんじなんぷん

ねん ぐみ  
なまえ

/ 8

■ かがみにうつったとけいがあります。このとけいをよみましょう。



# ひきざん

ねん くみ

なまえ

/14

■ つぎの  にあてはまるかずをこたえましょう。

①  - 2 = 2

②  - 5 = 5

③  - 1 = 5

④  - 1 = 3

⑤  - 2 = 6

⑥  - 1 = 6

⑦  - 2 = 1

⑧  - 4 = 3

⑨  - 2 = 3

⑩  - 1 = 7

⑪  - 1 = 8

⑫  - 3 = 3

⑬  - 2 = 8

⑭  - 9 = 1



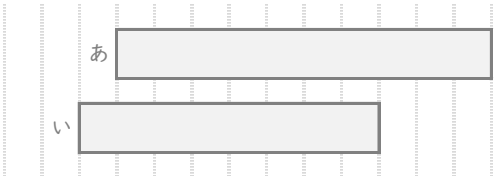
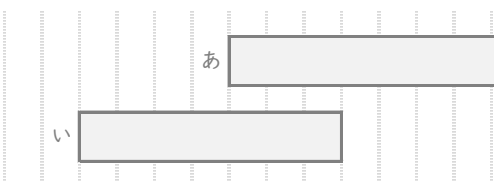
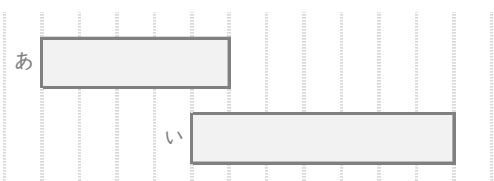
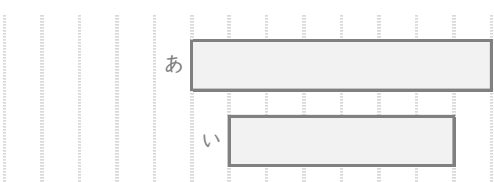
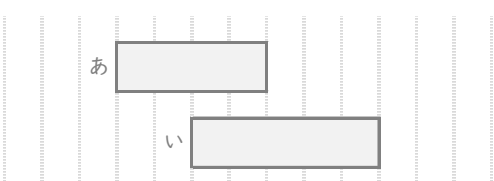
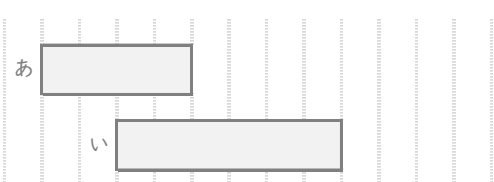
# おおきさくらべ

ねん くみ

なまえ

/ 7

■ あといのりぼんはどちらがながいですか。

①		← 10 めもり ← 8 めもり	ながいほう	あ
②		← 7 めもり ← 6 めもり	ながいほう	あ
③		← 8 めもり ← 7 めもり	ながいほう	あ
④		← 5 めもり ← 7 めもり	ながいほう	い
⑤		← 8 めもり ← 6 めもり	ながいほう	あ
⑥		← 4 めもり ← 5 めもり	ながいほう	い
⑦		← 4 めもり ← 6 めもり	ながいほう	い

# たしざんをつかって

ねん くみ  
なまえ

/ 6

■ たしざんをつかって あんごうを ときましょう。

①

$6+8$	$3+9$	$5+8$	$9+8$	$9+9$	$10+9$	$3+8$	$8+7$
ぶ	ら	ん	こ	て	ん	ぶ	ら

11.ぶ 12.ら 13.ん 14.ぶ 15.ら  
16.お 17.こ 18.て 19.ん 20.こ

②

$10+10$	$7+7$	$7+6$	$10+9$	$9+8$	$7+8$	$8+10$	$7+4$
た	ま	ね	ぎ	さ	ん	す	う

11.う 12.た 13.ね 14.ま 15.ん  
16.か 17.さ 18.す 19.ぎ 20.た

③

$10+10$	$7+9$	$9+5$	$7+5$	$10+9$	$6+9$	$10+8$	$9+2$
く	じ	び	き	ど	ん	ぐ	り

11.り 12.き 13.に 14.び 15.ん  
16.じ 17.も 18.ぐ 19.ど 20.く

# たしざん

ねん くみ

なまえ

/20

■  にはいる かずを こたえましょう。

①  + 2 = 3

② 10 + 2 =

③ 3 +  = 13

④  + 6 = 7

⑤ 4 + 7 =

⑥ 6 +  = 13

⑦  + 7 = 15

⑧ 1 +  = 5

⑨ 4 + 4 =

⑩ 1 + 5 =

⑪ 4 +  = 4

⑫  + 5 = 5

⑬ 3 + 8 =

⑭ 9 +  = 16

⑮  + 10 = 15

⑯  + 6 = 8

⑰ 10 + 1 =

⑱ 1 +  = 1

⑲ 5 +  = 13

⑳ 1 + 8 =

# ひきざん

ねん くみ

なまえ

/20

■  にはいる かずを こたえましょう。

①  $3 - \boxed{1} = 2$

②  $\boxed{8} - 6 = 2$

③  $11 - 2 = \boxed{9}$

④  $\boxed{13} - 9 = 4$

⑤  $15 - 10 = \boxed{5}$

⑥  $9 - \boxed{6} = 3$

⑦  $5 - 3 = \boxed{2}$

⑧  $12 - \boxed{7} = 5$

⑨  $\boxed{19} - 9 = 10$

⑩  $\boxed{7} - 7 = 0$

⑪  $17 - \boxed{9} = 8$

⑫  $14 - 7 = \boxed{7}$

⑬  $4 - \boxed{4} = 0$

⑭  $18 - 9 = \boxed{9}$

⑮  $\boxed{3} - 0 = 3$

⑯  $\boxed{5} - 5 = 0$

⑰  $12 - 2 = \boxed{10}$

⑱  $7 - \boxed{6} = 1$

⑲  $\boxed{8} - 1 = 7$

⑳  $11 - 10 = \boxed{1}$

# 100までのかず

ねん くみ  
なまえ

/ 30

■ ひょうの あいている ところには いる かずを かきましょう。

1	2	3	4	5	6	7	8	9	10
11	12	13	14	15	16	17	18	19	20
21	22	23	24	25	26	27	28	29	30
31	32	33	34	35	36	37	38	39	40
41	42	43	44	45	46	47	48	49	50
51	52	53	54	55	56	57	58	59	60
61	62	63	64	65	66	67	68	69	70
71	72	73	74	75	76	77	78	79	80
81	82	83	84	85	86	87	88	89	90
91	92	93	94	95	96	97	98	99	100

# 大きいかず

ねん くみ  
なまえ

/ 4

■ べつべつの かずが かかれた たまが 20こ あります。

44	38	51	56	53
61	47	50	57	34
45	43	35	37	49
54	48	60	42	55

① 1ばん 小さい かずは なんですか。

34

② 2ばんめに 小さい かずは なんですか。

35

③ 1ばん 大きい かずは なんですか。

61

④ 2ばんめに 大きい かずは なんですか。

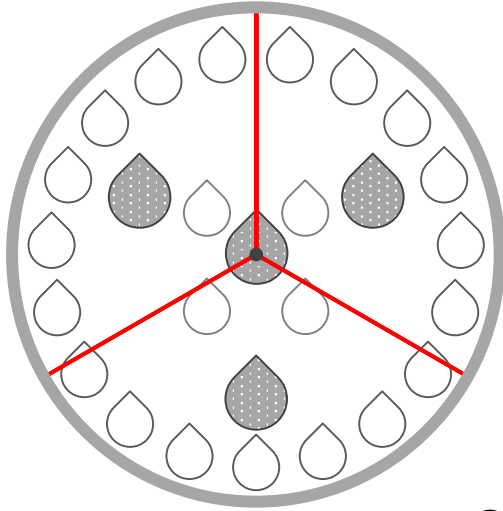
60

# わけてみよう

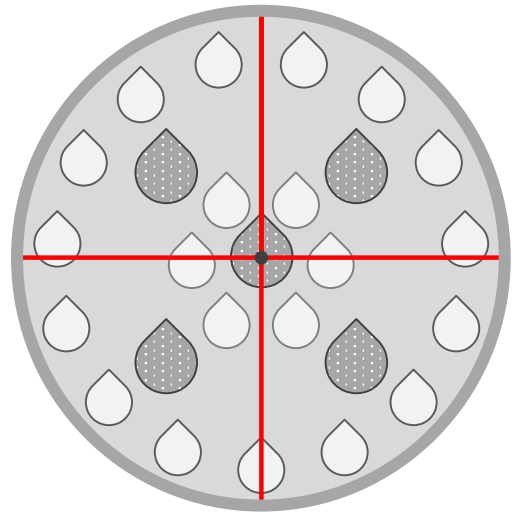
ねん くみ  
なまえ

/ 3

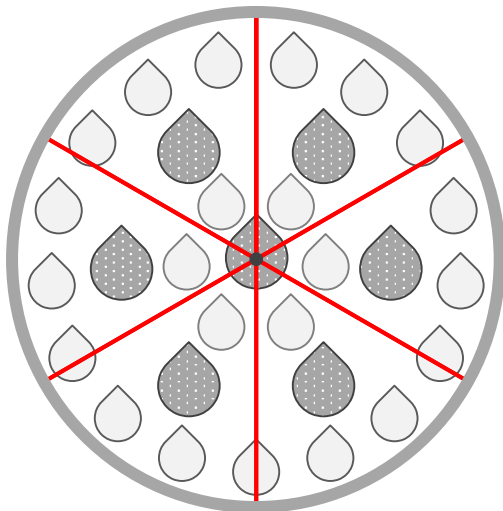
① ケーキ(けえき)を 3つにわけましょう。



② ケーキ(けえき)を 4つにわけましょう。



③ ケーキ(けえき)を 6つにわけましょう。



# つみきはなんこ

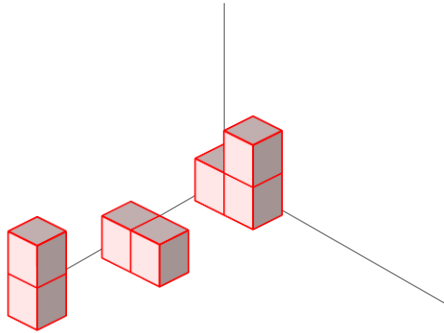
ねん くみ

なまえ

/ 4

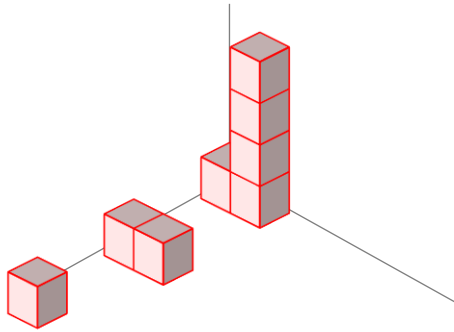
■ つみきのかずだけまる(○)をかきましょう。

①



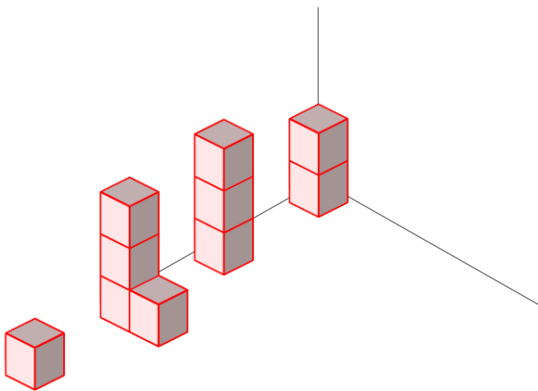
○	○	○	○	○
○	○			

②



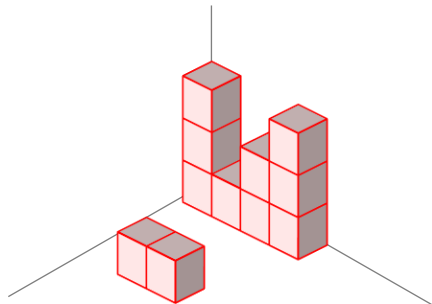
○	○	○	○	○
○	○	○		

③



○	○	○	○	○
○	○	○	○	○

④



○	○	○	○	○
○	○	○	○	○
○				

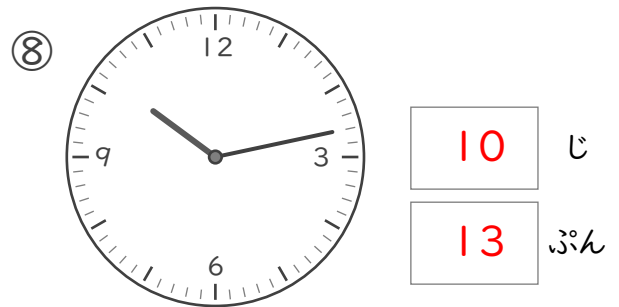
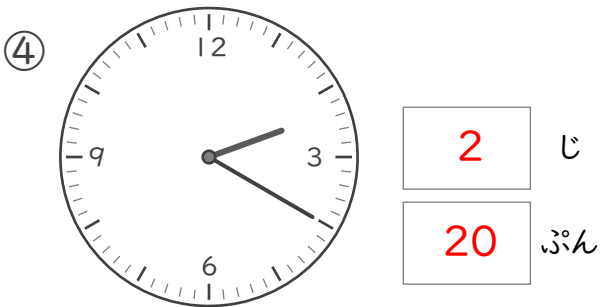
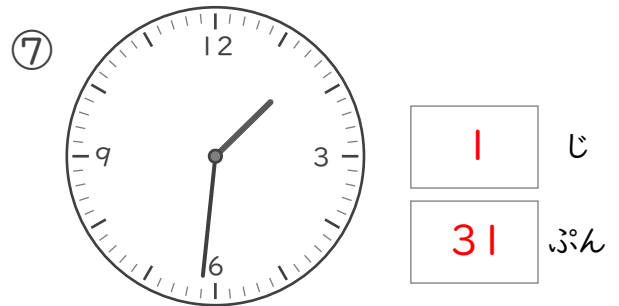
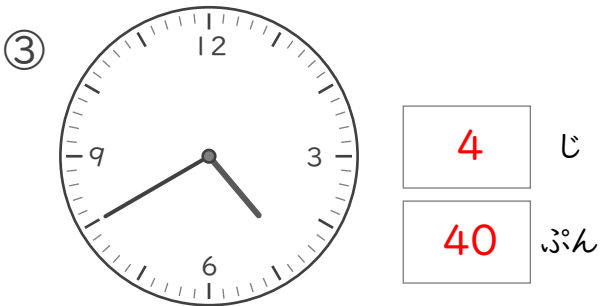
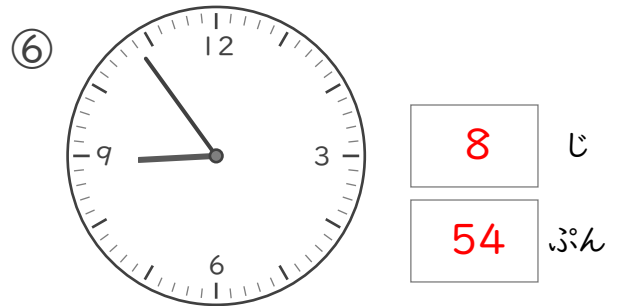
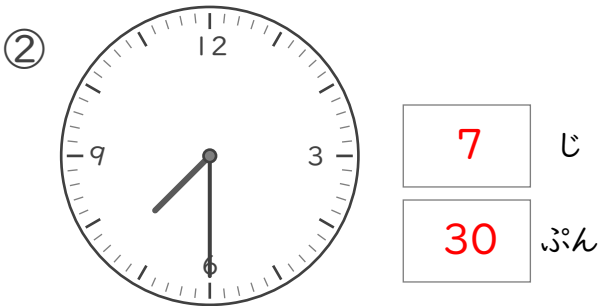
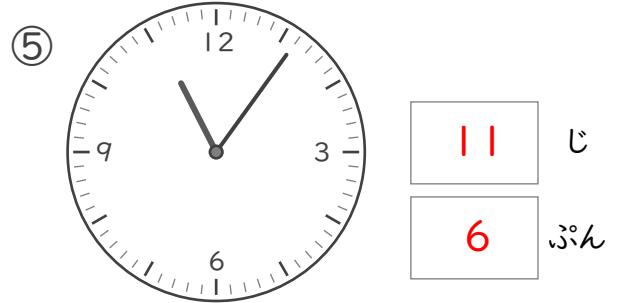



# なんじなんぷん

ねん ぐみ  
なまえ

/ 8

■ とけいを よみましょう。



なんじなんぶん

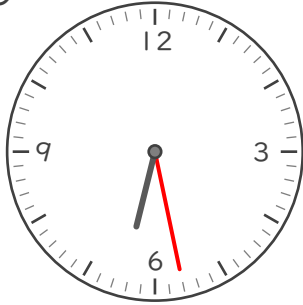
ねん くみ

なまえ

/ 8

■ ながいはりをかきましょう。


① 6じ 28ぶん



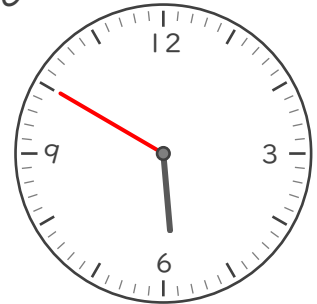
⑤ 1じ 11ぶん



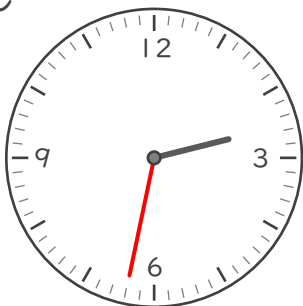
② 11じ 21ぶん



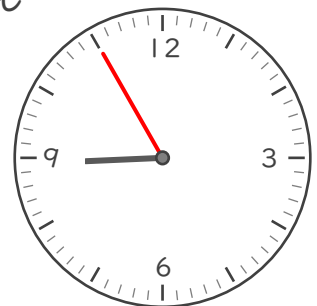
⑥ 5じ 50ぶん



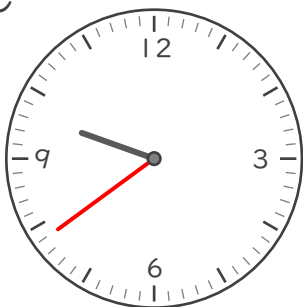
③ 2じ 32ぶん



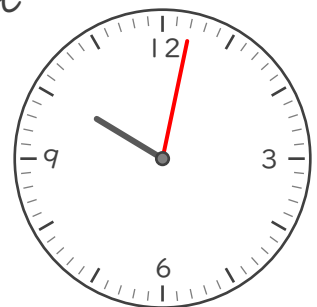
⑦ 8じ 55ぶん



④ 9じ 39ぶん



⑧ 10じ 2ぶん



なんじなんぶん


ねん ぐみ

なまえ


/ 8

■ ながい はりを かきましょう。

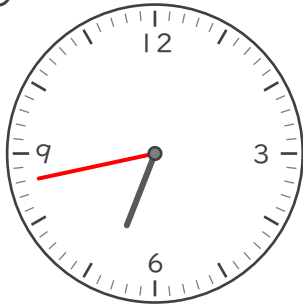
① 11じ 25ぶん



⑤ 10じ 36ぶん



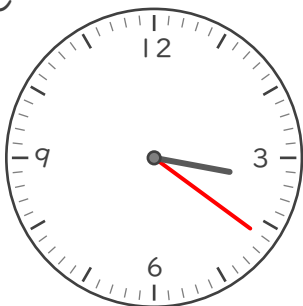
② 6じ 43ぶん



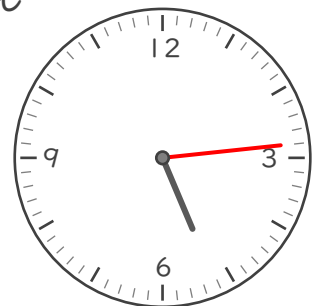
⑥ 1じ 5ぶん



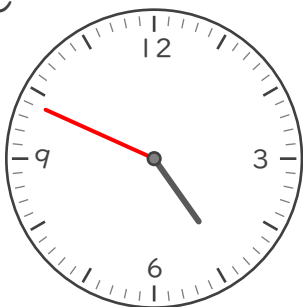
③ 3じ 21ぶん



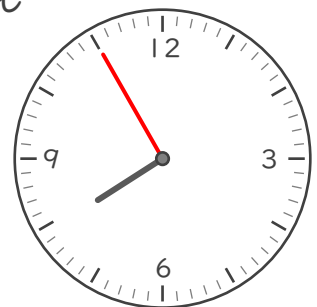
⑦ 5じ 14ぶん



④ 4じ 49ぶん



⑧ 7じ 55ぶん

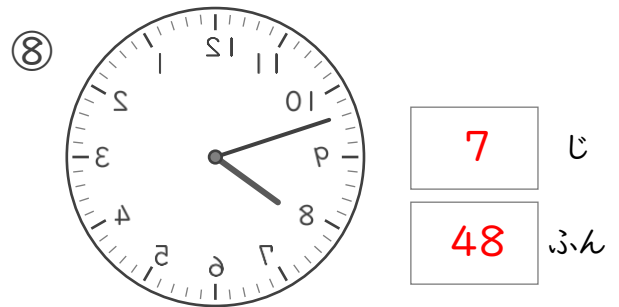
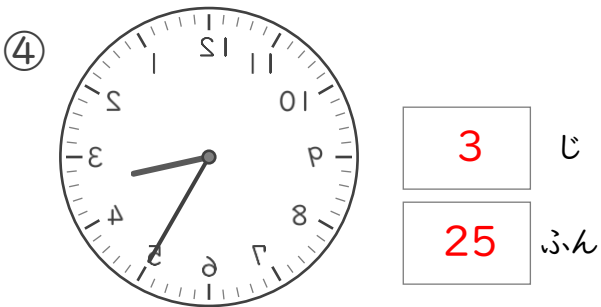
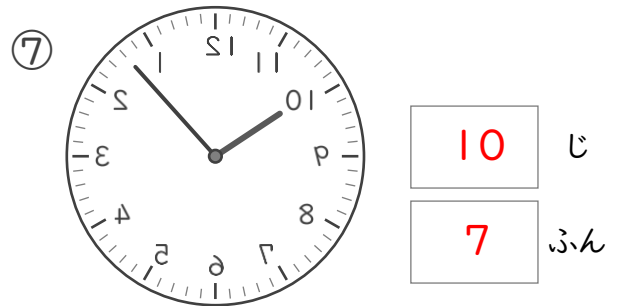
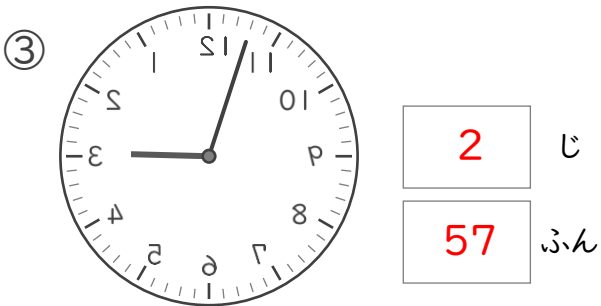
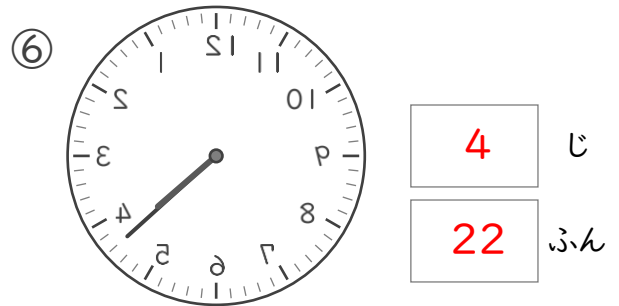
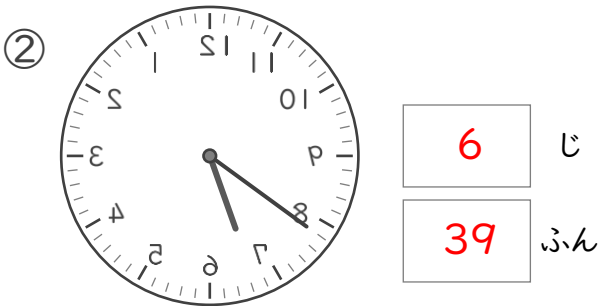
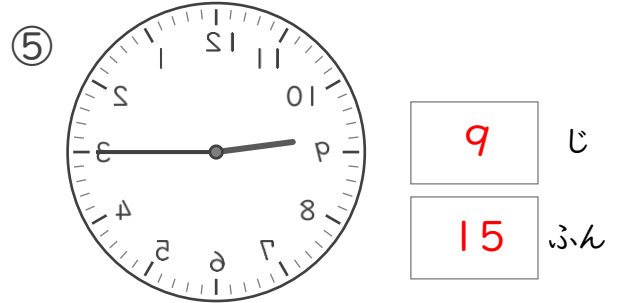
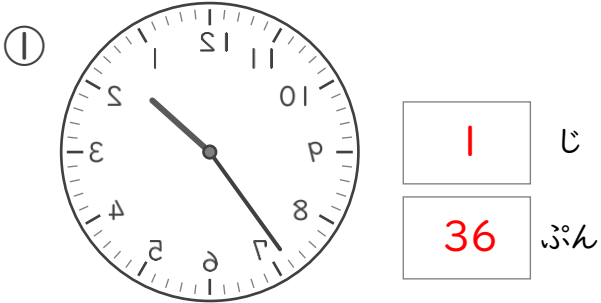


# なんじなんぷん

ねん ぐみ  
なまえ

/ 8

■ かがみにうつったとけいがあります。このとけいをよみましょう。



# なんじなんぷん

ねん ぐみ  
なまえ

/ 8

■ かがみにうつったとけいがあります。このとけいをよみましょう。

