

きょうざい
教材おきば の

これだけ、あんしん安心

さんすう
算数ドリル

1 - 20

小学1年生

もくじ

① かぞえてみよう どちらがおおい	2 ページ
② まわしてみよう	2 ページ
③ ぬってみよう 線対称(せんたいしょう)	3 ページ
④ むしくい たしざん	2 ページ
⑤ たしざんを つかって あんごうを ところ(2)	2 ページ
⑥ 100ますけいさん たしざん	2 ページ
⑦ ひきざん 20 もんプリント	3 ページ
⑧ なんじなんぷん(2)	3 ページ
⑨ なんじなんぷん 長針をかく(2)	2 ページ
⑩ なんじなんぷん 鏡に映った時計	2 ページ
⑪ つみきは なんこ	2 ページ
⑫ つみきは なんこ(2)	3 ページ
合計	28 ページ

かずしらべ

ねん くみ
なまえ

19

■ かずをかぞえましょう。

①

	☆	☆		★
	☆		★	
	☆		★	☆
	☆		☆	
★	☆	★	★	

★ のかず

☆ のかず

おおいほうにまるをつけましょう。

(★) (☆)

②

♥	♥	♥	♥	♡
♥	♥	♥	♡	♥
	♡		♡	♡
♡	♥			♡
♡		♥		♡

♥ のかず

♡ のかず

おおいほうにまるをつけましょう。

(♥) (♡)

③

■	□	■		■
■	□	□	□	
	□	□		
□			■	
□	□		■	■

■ のかず

□ のかず

おおいほうにまるをつけましょう。

(■) (□)

かずしらべ

ねん くみ
なまえ

19

■ かずをかぞえましょう。

①

	♥	♥	♥	♡
			♡	♥
	♥	♡	♡	♥
♡	♥	♥	♥	
		♡	♡	

♥ のかず

♡ のかず

おおいほうにまるをつけましょう。

(♥) (♡)

②

▲	△	▲		▲
	△	△	△	▲
△	△		△	▲
△	▲		△	
▲	▲		▲	△

▲ のかず

△ のかず

おおいほうにまるをつけましょう。

(▲) (△)

③

◆		◆		◆
			◇	◇
◇	◇	◇	◆	
◆	◆	◇		◇
◇	◇	◆	◆	

◆ のかず

◇ のかず

おおいほうにまるをつけましょう。

(◆) (◇)

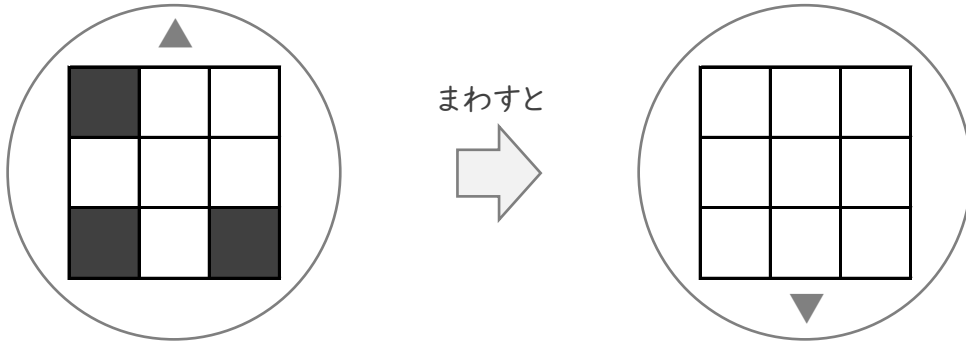
まわしてみよう

ねん くみ
なまえ

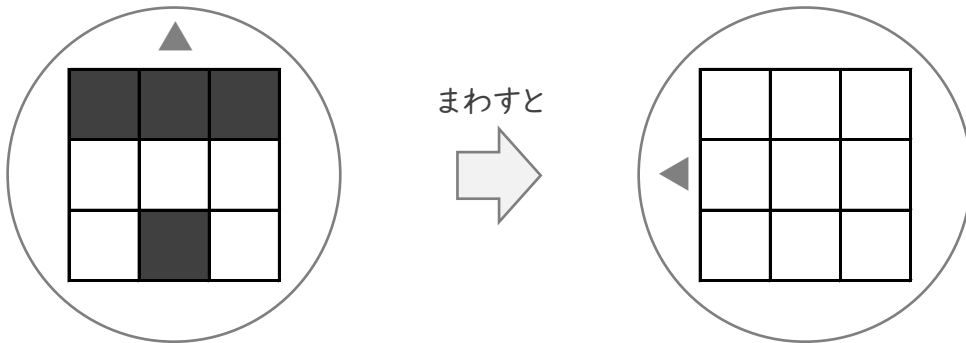
/ 3

■ まわしたかたちになるようにしかくをぬりましょう。

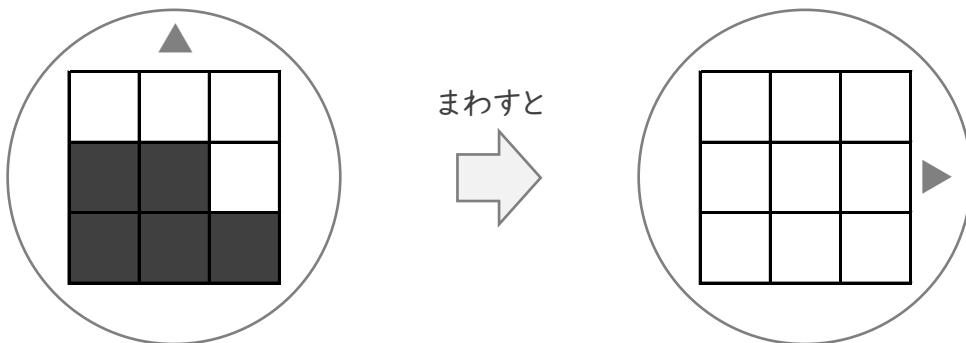
①



②



③



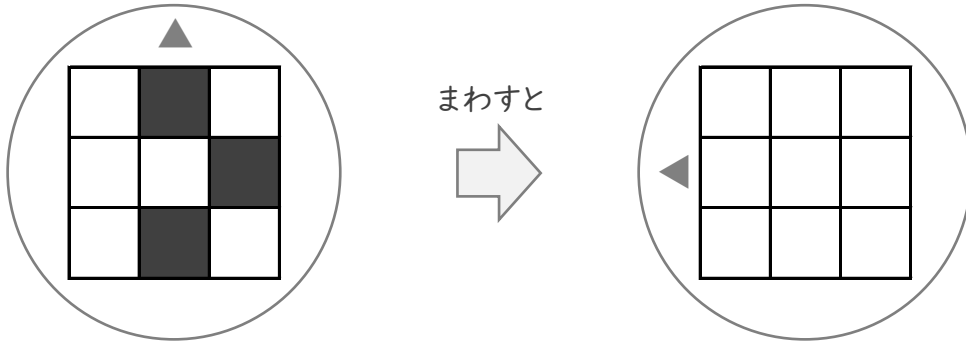
まわしてみよう

ねん くみ
なまえ

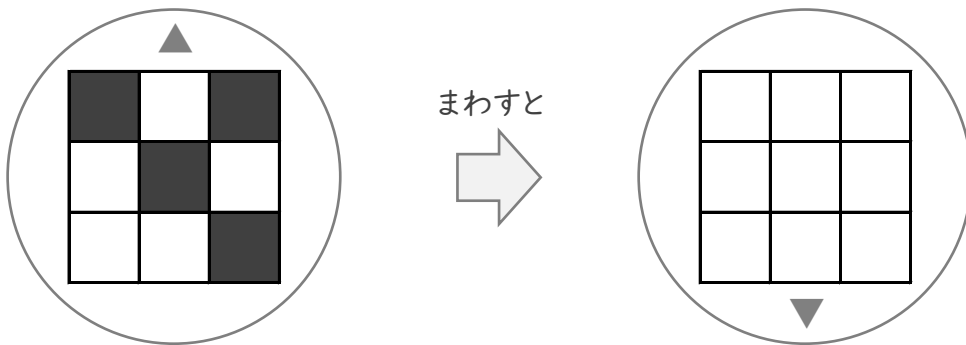
/ 3

■ まわしたかたちになるようにしかくをぬりましょう。

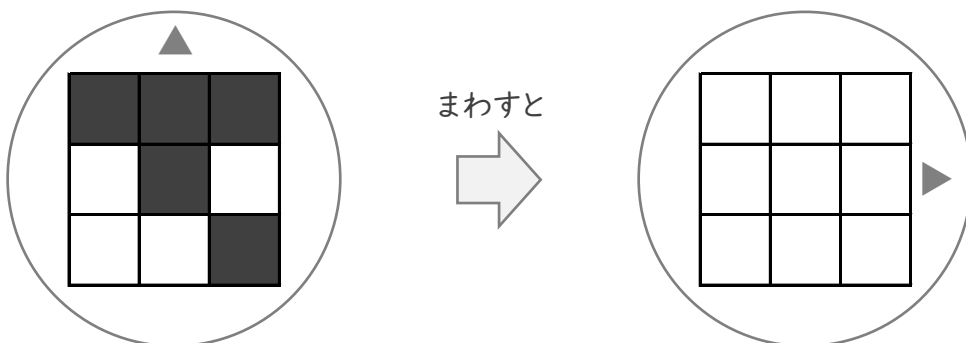
①



②



③



ぬってみよう

ねん くみ


なまえ

/ 4

■ おりまげたときに、ちょうどかさなるようにしかくをぬりましょう。


①

ここで おりまげる




②

ここで おりまげる




③

ここで おりまげる



④

ここで おりまげる



ぬってみよう

ねん くみ


なまえ

/ 4

■ おりまげたときに、ちょうどかさなるようにしかくをぬりましょう。


①

ここで おりまげる




②

ここで おりまげる




③

ここで おりまげる



④

ここで おりまげる



ぬってみよう

ねん くみ


なまえ

/ 4

■ おりまげたときに、ちょうどかさなるようにしかくをぬりましょう。


①

ここで おりまげる




②

ここで おりまげる




③

ここで おりまげる



④

ここで おりまげる



たしざん

ねん くみ

なまえ

/20

■ にはいる かずを こたえましょう。

① $8 + 10 = \square$

② $\square + 2 = 4$

③ $6 + \square = 6$

④ $\square + 6 = 11$

⑤ $7 + 6 = \square$

⑥ $1 + \square = 2$

⑦ $4 + 2 = \square$

⑧ $9 + \square = 9$

⑨ $\square + 5 = 5$

⑩ $10 + 7 = \square$

⑪ $2 + \square = 5$

⑫ $\square + 5 = 14$

⑬ $9 + 8 = \square$

⑭ $\square + 6 = 16$

⑮ $0 + \square = 8$

⑯ $0 + 4 = \square$

⑰ $7 + \square = 15$

⑱ $\square + 3 = 8$

⑲ $\square + 3 = 12$

⑳ $3 + \square = 6$

たしざん

ねん くみ

なまえ

/20

■ にはいる かずを こたえましょう。

① + 5 = 10

② 10 + 7 =

③ 8 + = 18

④ 4 + 2 =

⑤ 2 + = 11

⑥ + 1 = 8

⑦ 9 + = 13

⑧ 6 + 2 =

⑨ + 7 = 16

⑩ + 6 = 12

⑪ 3 + = 8

⑫ 0 + 8 =

⑬ + 7 = 9

⑭ 4 + 4 =

⑮ 1 + = 6

⑯ 6 + = 11

⑰ 8 + 2 =

⑱ + 0 = 1

⑲ 2 + 5 =

⑳ 4 + = 5

たしざんをつかって

ねん くみ
なまえ

/ 6

■ たしざんをつかって あんごうを ときましょう。

①

$9+8$	$7+6$	$4+8$	$8+6$

$9+6$	$6+5$	$9+10$	$8+10$

11. ん 12. び 13. じ 14. き 15. に
16. く 17. く 18. ん 19. じ 20. ひ

②

$9+8$	$10+10$	$8+6$	$4+7$

$9+7$	$8+10$	$9+10$	$8+5$

11. す 12. は 13. き 14. ん 15. や
16. お 17. ふ 18. は 19. じ 20. ら

③

$9+5$	$6+7$	$9+10$	$8+7$

$8+4$	$7+9$	$8+9$	$10+10$

11. そ 12. す 13. し 14. お 15. ご
16. い 17. と 18. ふ 19. か 20. う

たしざんをつかって

ねん くみ
なまえ

/ 6

■ たしざんをつかって あんごうを ときましょう。

①

$9+6$	$8+5$	$9+5$	$9+9$	$9+3$	$5+6$	$9+8$	$8+8$

11. た 12. げ 13. ろ 14. が 15. い
16. こ 17. ば 18. み 19. め 20. さ

②

$10+9$	$7+5$	$8+10$	$9+8$	$8+8$	$8+7$	$4+7$	$10+10$

11. の 12. い 13. た 14. ひ 15. け
16. た 17. く 18. い 19. た 20. こ

③

$9+10$	$10+10$	$6+8$	$9+2$	$5+8$	$8+8$	$9+8$	$7+8$

11. み 12. お 13. し 14. つ 15. る
16. ん 17. ば 18. も 19. こ 20. づ

ひきざん

ねん くみ
なまえ

/20

■ ひきざんをしましょう。

$① \quad 11 - 9 = \square$

$② \quad 16 - 10 = \square$

$③ \quad 11 - 5 = \square$

$④ \quad 12 - 6 = \square$

$⑤ \quad 8 - 0 = \square$

$⑥ \quad 7 - 3 = \square$

$⑦ \quad 8 - 7 = \square$

$⑧ \quad 2 - 2 = \square$

$⑨ \quad 8 - 4 = \square$

$⑩ \quad 12 - 7 = \square$

$⑪ \quad 15 - 7 = \square$

$⑫ \quad 14 - 9 = \square$

$⑬ \quad 7 - 6 = \square$

$⑭ \quad 9 - 4 = \square$

$⑮ \quad 12 - 4 = \square$

$⑯ \quad 11 - 3 = \square$

$⑰ \quad 6 - 5 = \square$

$⑱ \quad 16 - 9 = \square$

$⑲ \quad 15 - 6 = \square$

$⑳ \quad 11 - 1 = \square$

ひきざん

ねん くみ
なまえ

/20

■ ひきざんをしましょう。

$① \quad 9 - 3 = \square$

$② \quad 6 - 4 = \square$

$③ \quad 11 - 5 = \square$

$④ \quad 7 - 2 = \square$

$⑤ \quad 3 - 3 = \square$

$⑥ \quad 13 - 9 = \square$

$⑦ \quad 13 - 5 = \square$

$⑧ \quad 11 - 9 = \square$

$⑨ \quad 16 - 10 = \square$

$⑩ \quad 10 - 5 = \square$

$⑪ \quad 14 - 5 = \square$

$⑫ \quad 13 - 7 = \square$

$⑬ \quad 13 - 3 = \square$

$⑭ \quad 10 - 8 = \square$

$⑮ \quad 12 - 6 = \square$

$⑯ \quad 10 - 0 = \square$

$⑰ \quad 16 - 9 = \square$

$⑱ \quad 7 - 4 = \square$

$⑲ \quad 14 - 7 = \square$

$⑳ \quad 11 - 3 = \square$

ひきざん

ねん くみ
なまえ

/20

■ ひきざんをしましょう。

$① \quad 6 - 4 = \square$

$② \quad 16 - 8 = \square$

$③ \quad 9 - 3 = \square$

$④ \quad 18 - 10 = \square$

$⑤ \quad 17 - 8 = \square$

$⑥ \quad 12 - 2 = \square$

$⑦ \quad 11 - 8 = \square$

$⑧ \quad 12 - 6 = \square$

$⑨ \quad 4 - 1 = \square$

$⑩ \quad 1 - 0 = \square$

$⑪ \quad 11 - 7 = \square$

$⑫ \quad 4 - 4 = \square$

$⑬ \quad 9 - 7 = \square$

$⑭ \quad 8 - 3 = \square$

$⑮ \quad 8 - 4 = \square$

$⑯ \quad 13 - 5 = \square$

$⑰ \quad 13 - 4 = \square$

$⑱ \quad 14 - 6 = \square$

$⑲ \quad 12 - 9 = \square$

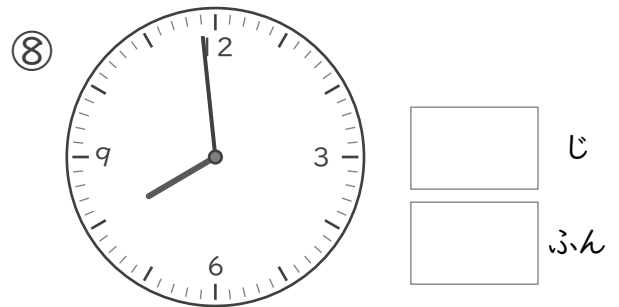
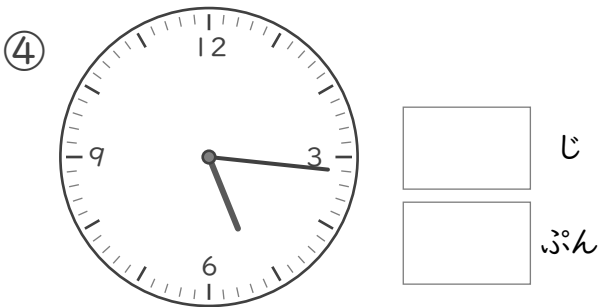
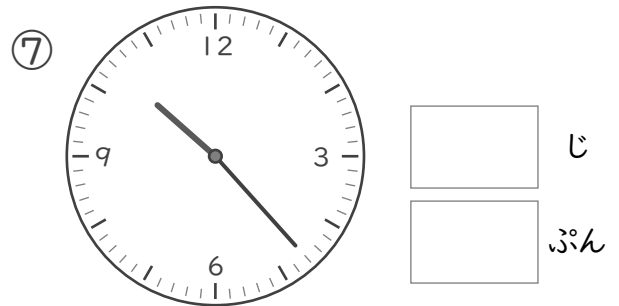
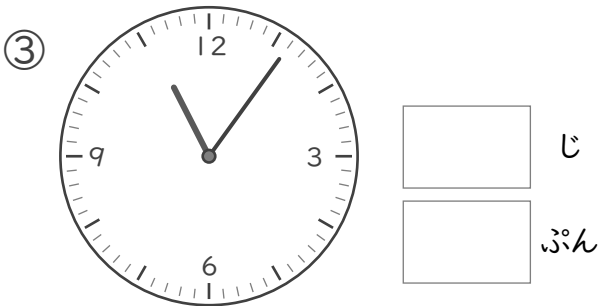
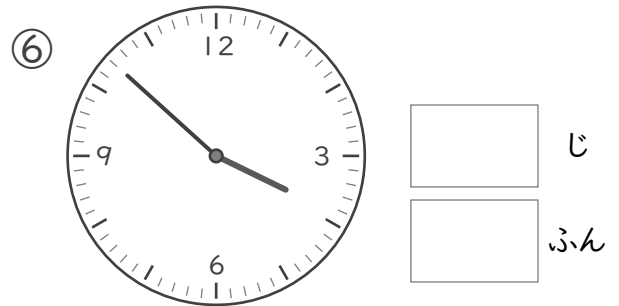
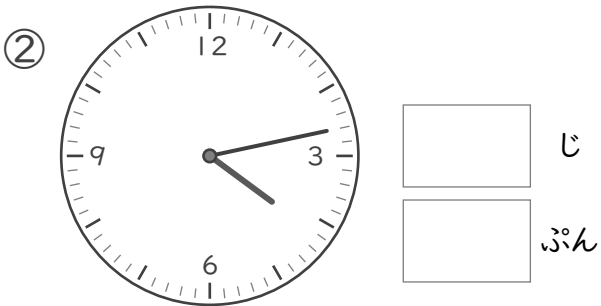
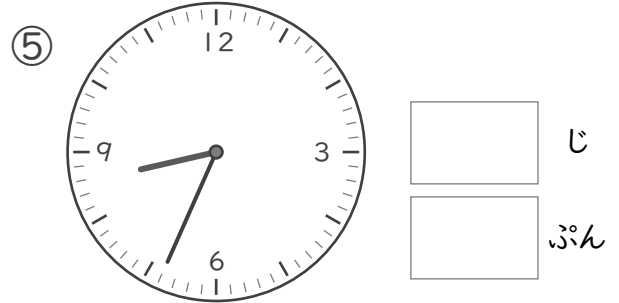
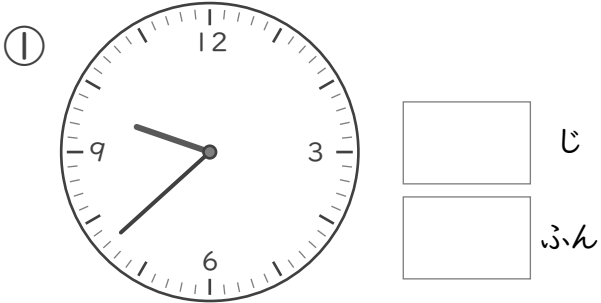
$⑳ \quad 15 - 9 = \square$

なんじなんぷん

ねん ぐみ
なまえ

/ 8


■ とけいを よみましょう。





なんじなんぷん


ねん ぐみ
なまえ


■ とけいを よみましょう。


①  じ
 ぷん


⑤  じ
 ぷん


②  じ
 ぷん

⑥  じ
 ぷん

③  じ
 ぷん

⑦  じ
 ぷん

④  じ
 ぷん

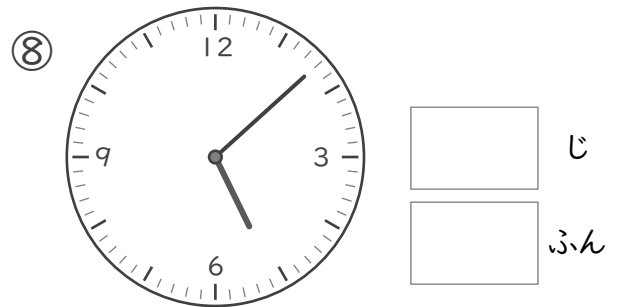
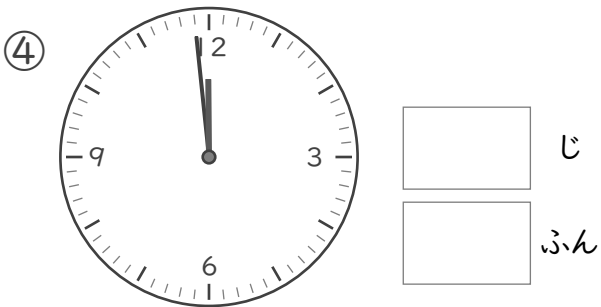
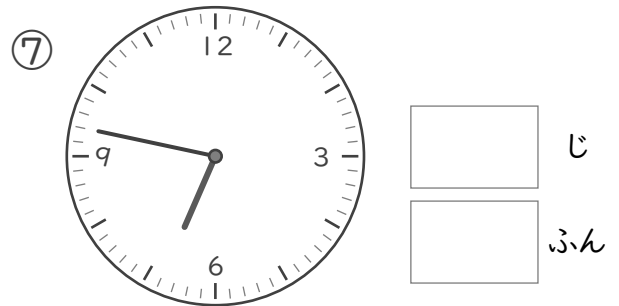
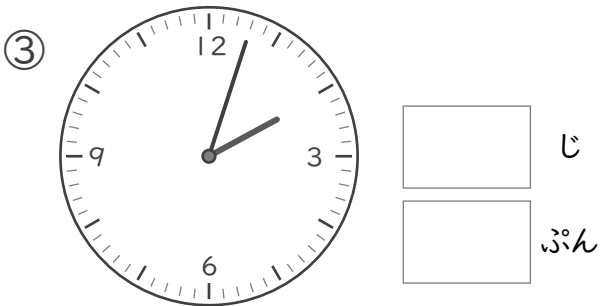
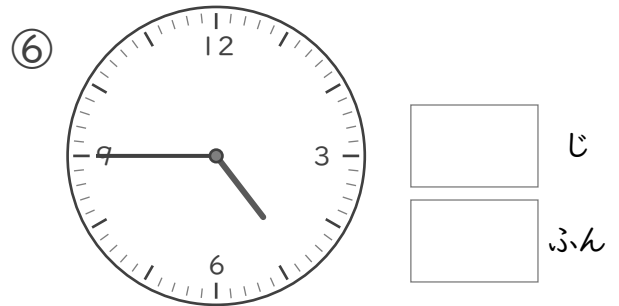
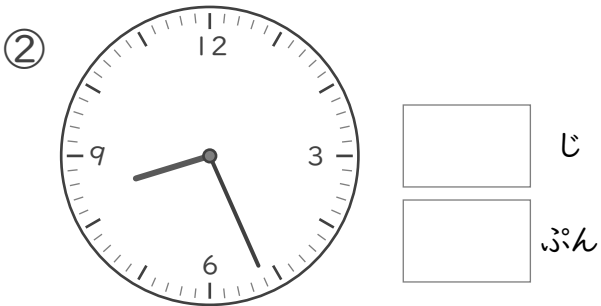
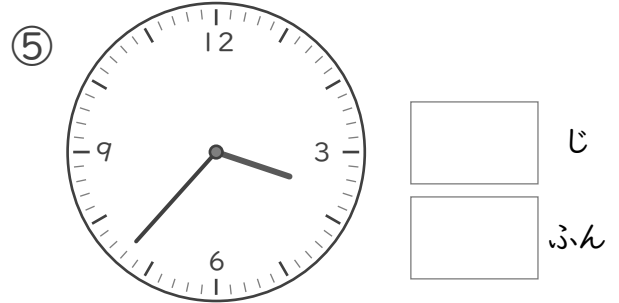
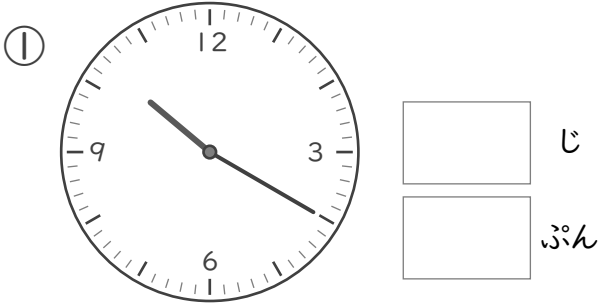
⑧  じ
 ぷん

なんじなんぷん

ねん ぐみ
なまえ

/ 8

■ とけいを よみましょう。



なんじなんぶん


ねん くみ

なまえ


/ 8

■ ながいはりをかきましょう。


① 2じ 53ぶん




⑤ 3じ 15ぶん




② 9じ 32ぶん




⑥ 1じ 39ぶん




③ 4じ 28ぶん




⑦ 5じ 18ぶん



④ 11じ 1ぶん



⑧ 12じ 46ぶん



なんじなんぶん


ねん ぐみ

なまえ


/ 8

■ ながいはりをかきましょう。


① 10じ 58ぶん




⑤ 8じ 10ぶん



② 12じ 31ぶん




⑥ 1じ 48ぶん



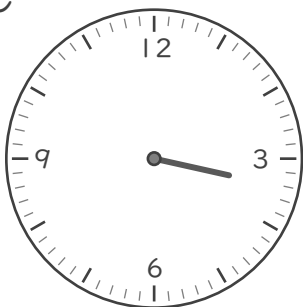
③ 5じ




⑦ 4じ 19ぶん



④ 3じ 25ぶん



⑧ 11じ 40ぶん



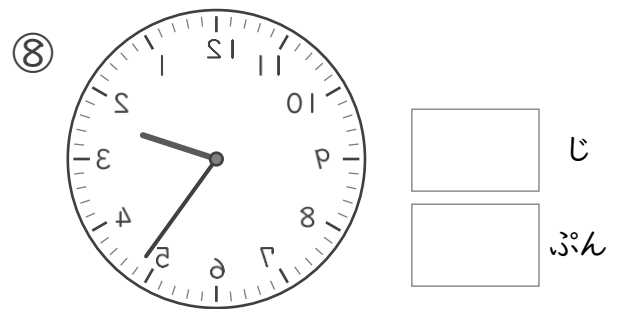
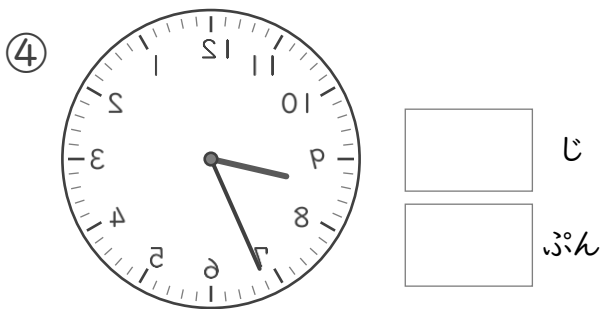
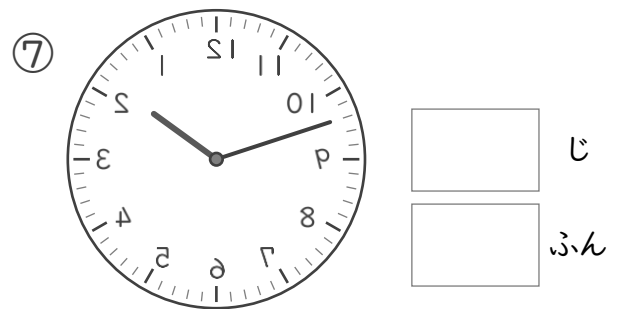
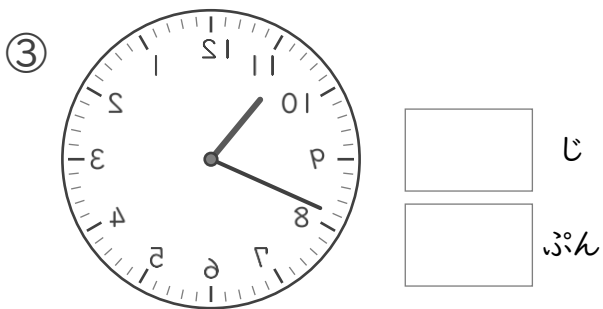
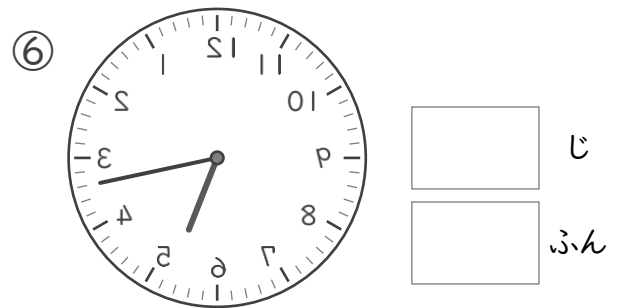
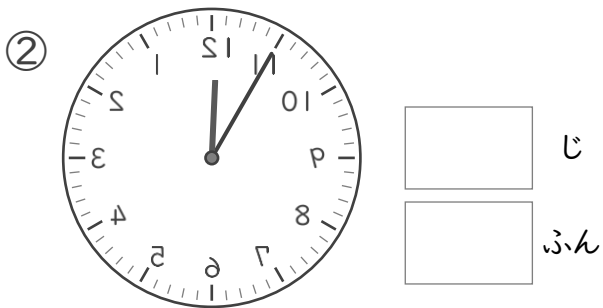
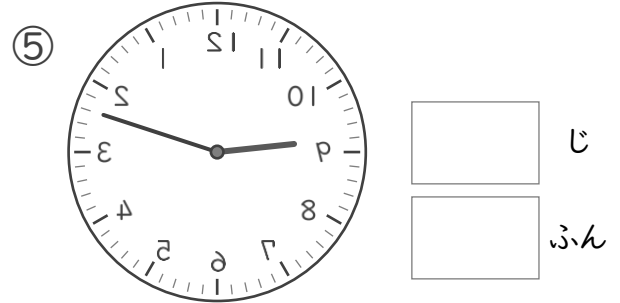
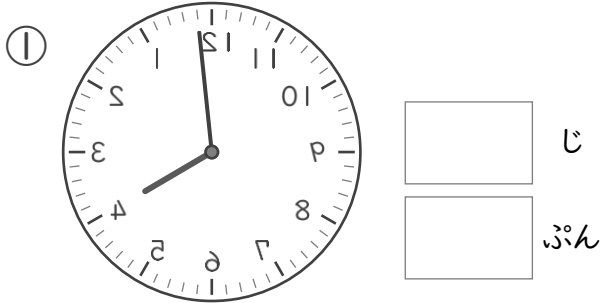
なんじなんぷん

ねん ぐみ

なまえ

/ 8

■ かがみにうつったとけいがあります。このとけいをよみましょう。

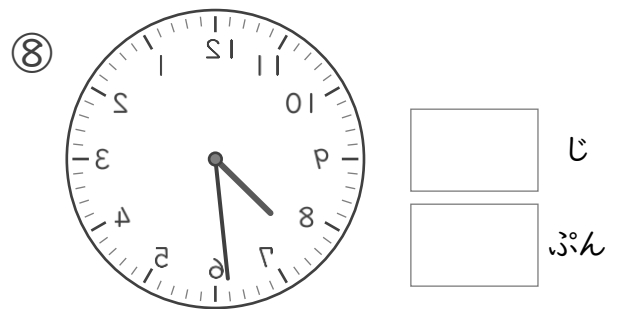
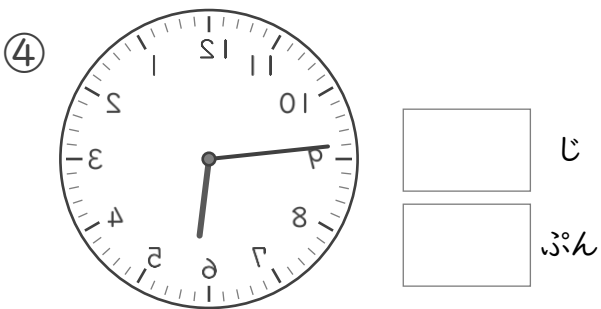
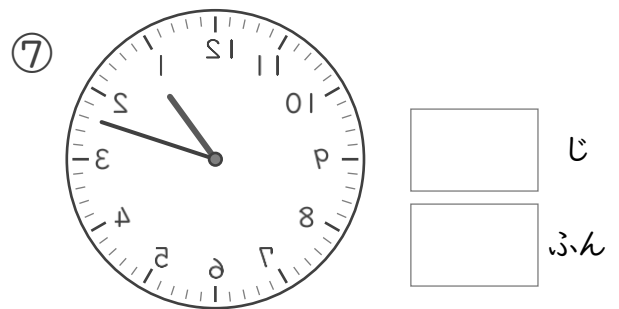
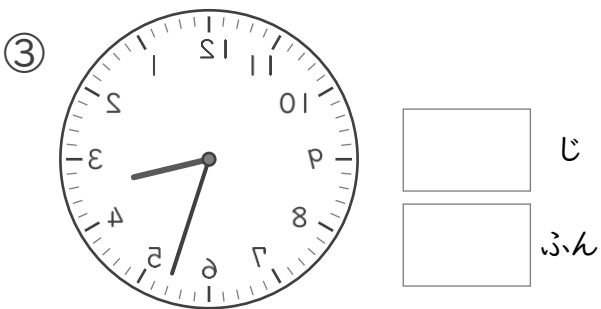
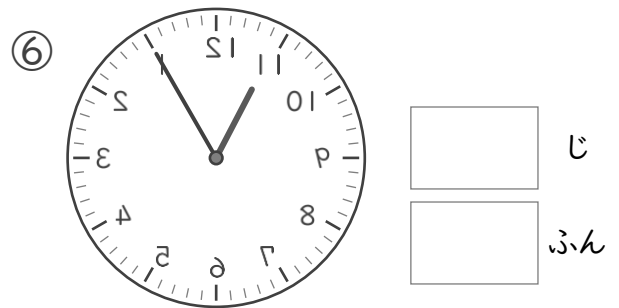
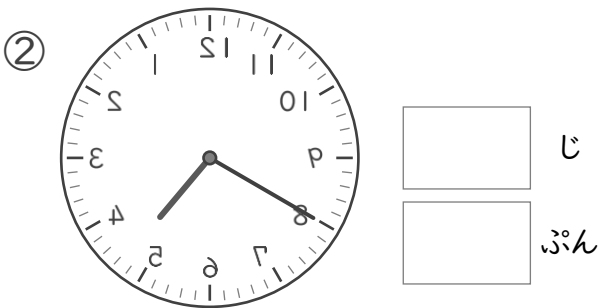
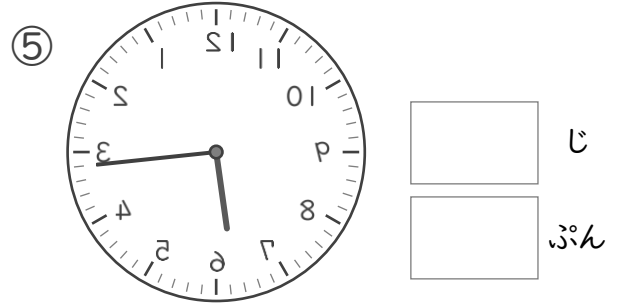
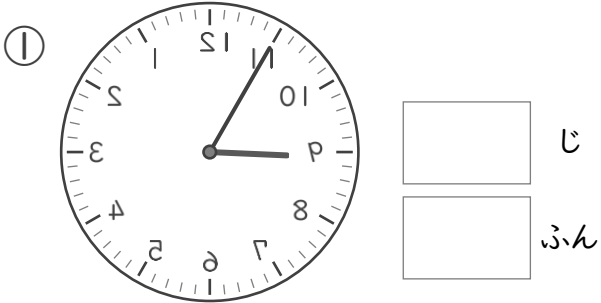


なんじなんぷん

ねん ぐみ
なまえ

/ 8

■ かがみにうつったとけいがあります。このとけいをよみましょう。




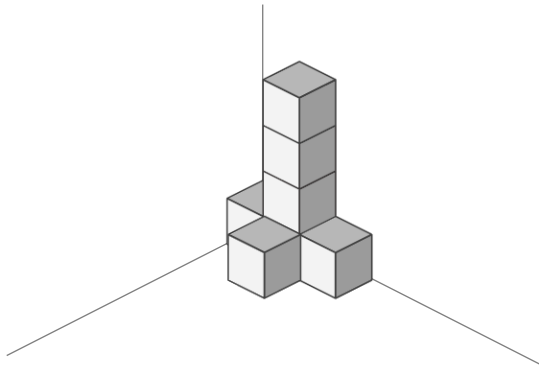
積みきはなんこ

ねん くみ
なまえ


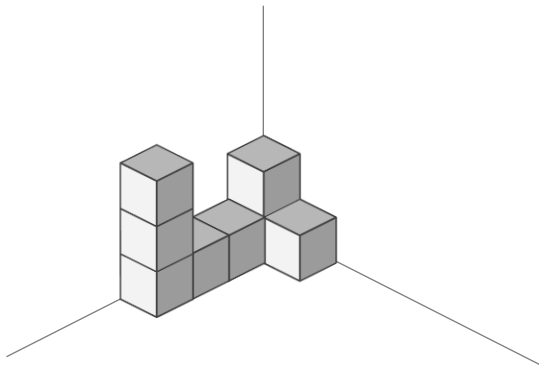
/ 4

■ つみきの かずだけまる(○)をかきましょう。


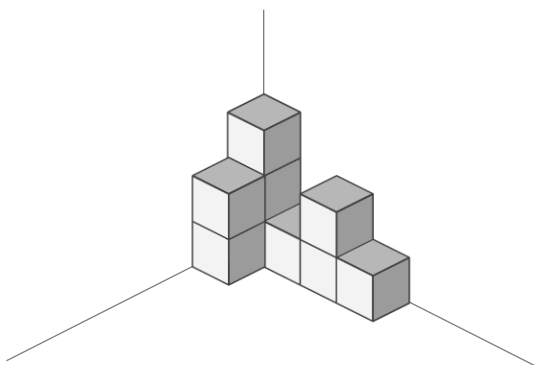
①




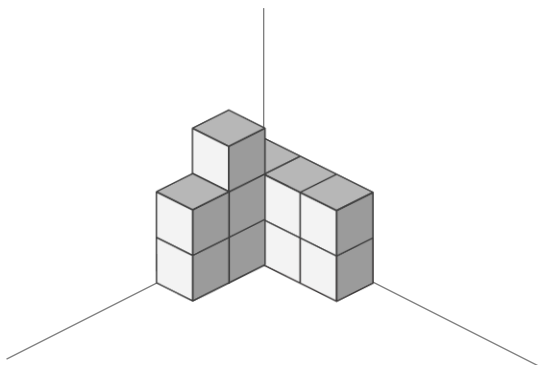
②



③



④



つみきはなんこ


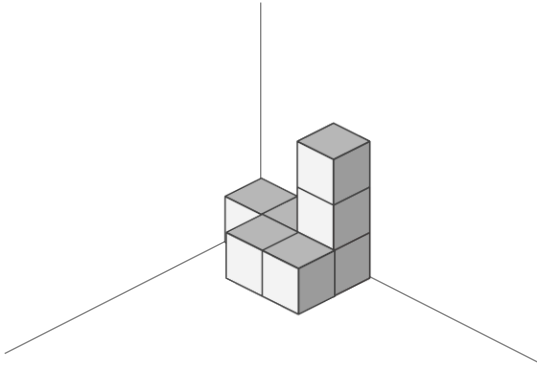
ねん くみ

なまえ

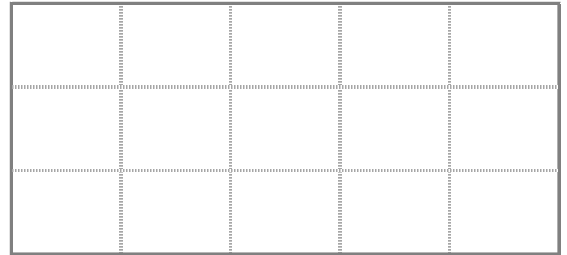
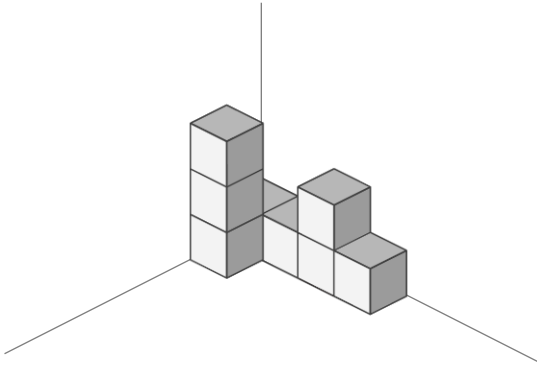
/ 4

■ つみきのかずだけまる(O)をかきましょう。


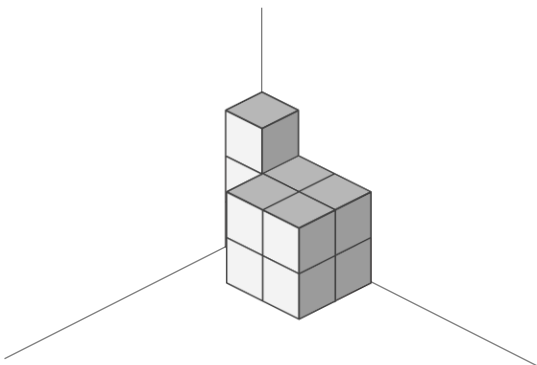
①




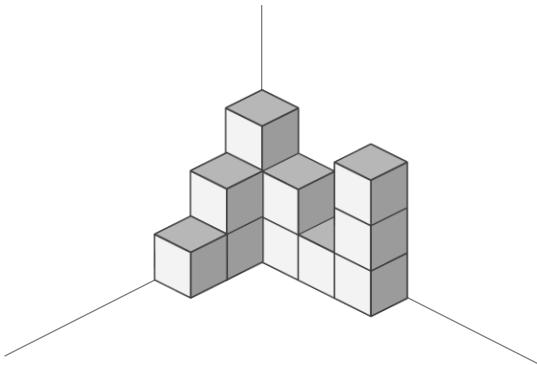
②



③



④




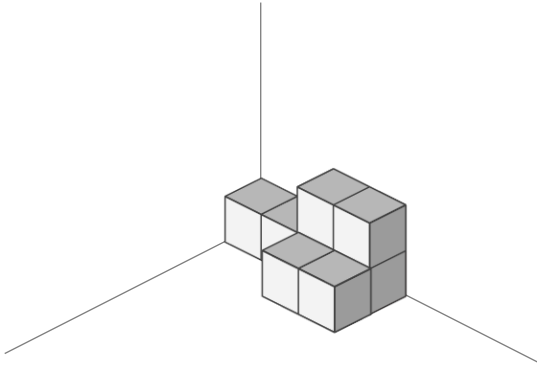
つみきはなんこ

ねん くみ
なまえ


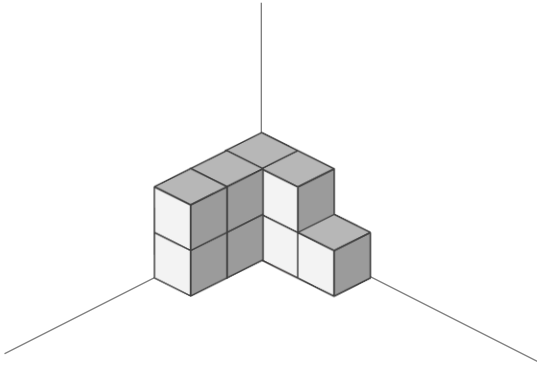
/ 4

■ つみきのかずだけまる(○)をかきましょう。


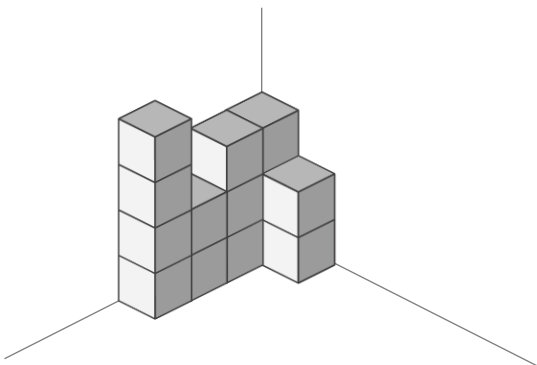
①




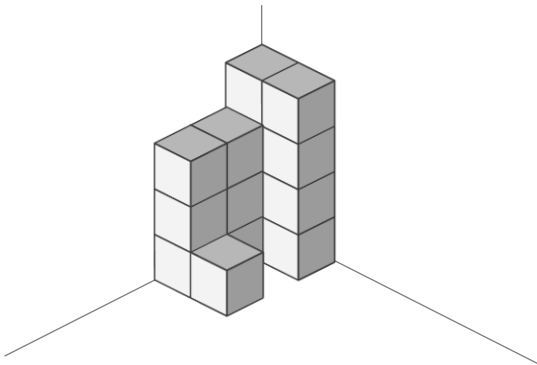
②



③



④




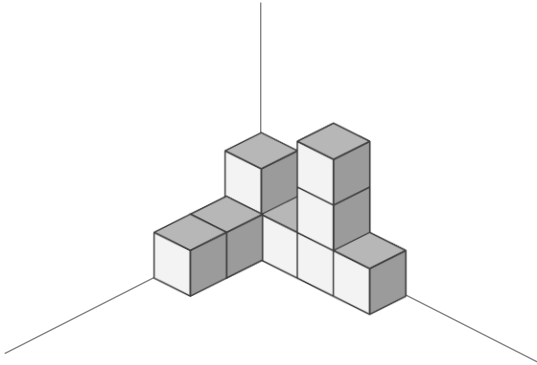
つみきはなんこ

ねん くみ
なまえ

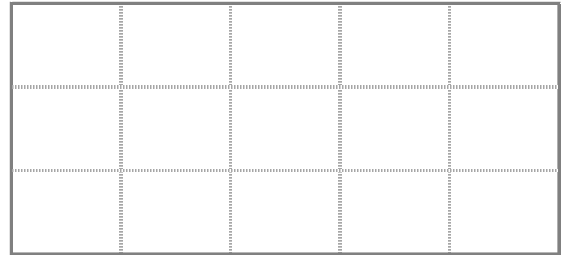
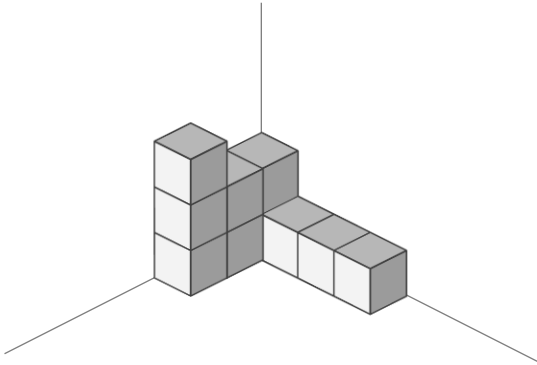
/ 4

■ つみきのかずだけまる(O)をかきましょう。


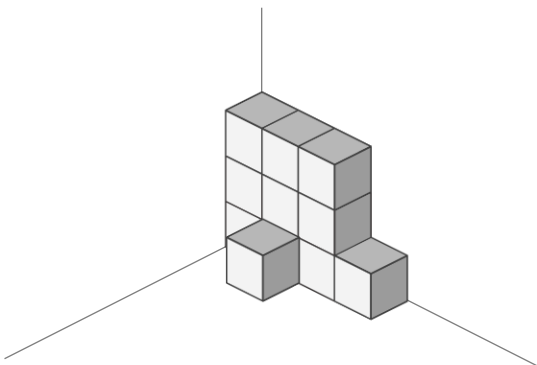
①




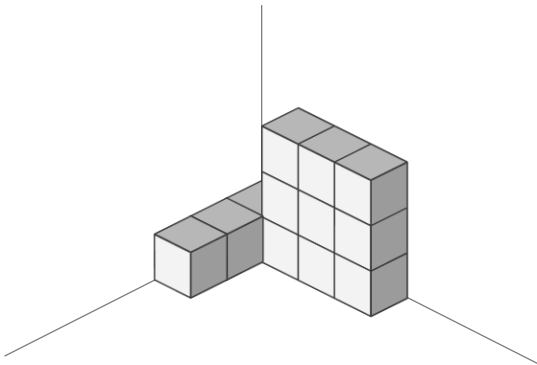
②



③



④




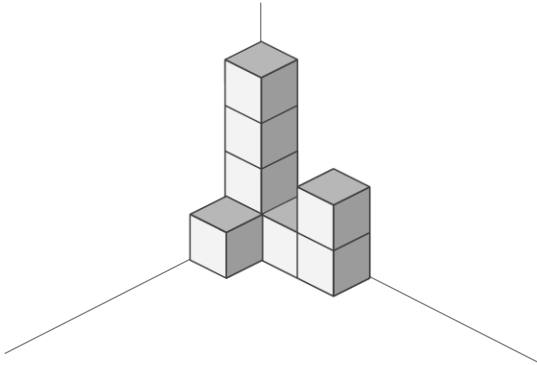
積みきはなんこ

ねん くみ
なまえ


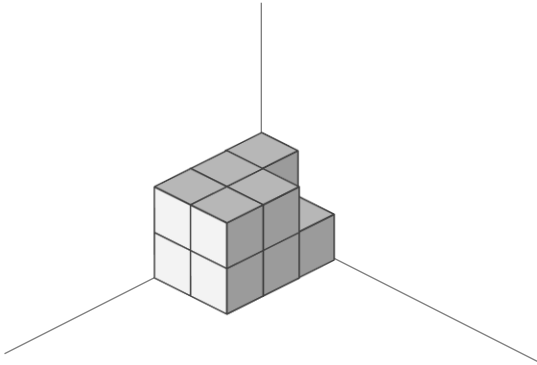
/ 4

■ つみきの かずだけまる(○)をかきましょう。


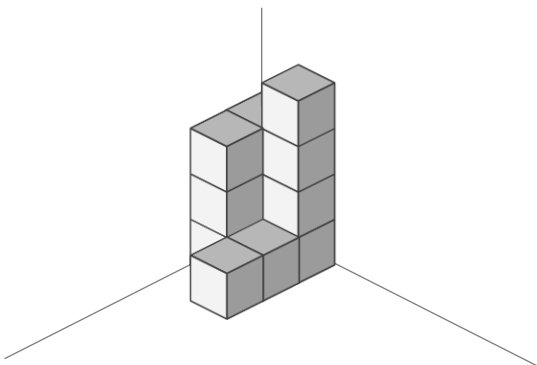
①




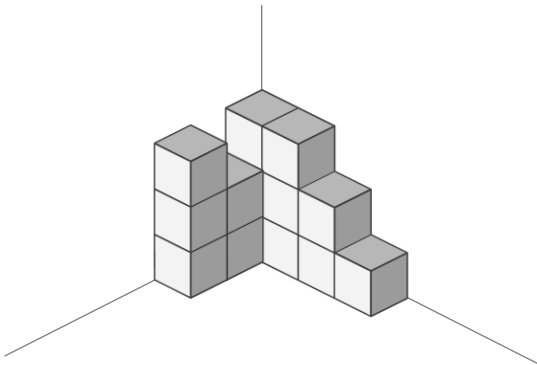
②



③



④



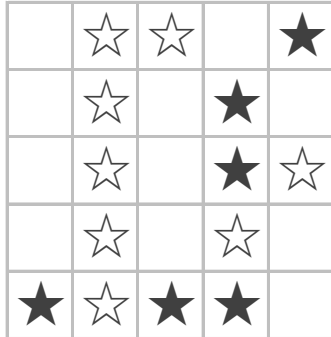
かずしらべ

ねん くみ
なまえ

/ 9

■ かずをかぞえましょう。

①



★ のかず

6 こ


☆ のかず

8 こ

おおいほうにまるをつけましょう。

() ()

②



♥ のかず

10 こ


♡ のかず

9 こ

おおいほうにまるをつけましょう。

() ()

③



■ のかず

7 こ

□ のかず

9 こ

おおいほうにまるをつけましょう。

() ()


かずしらべ

ねん くみ
なまえ

19

■ かずをかぞえましょう。

①



♥ のかず

9 こ

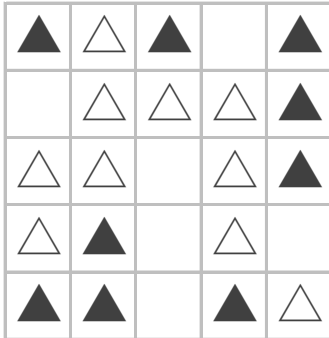
♡ のかず

7 こ

おおいほうにまるをつけましょう。

() ()

②



▲ のかず

9 こ

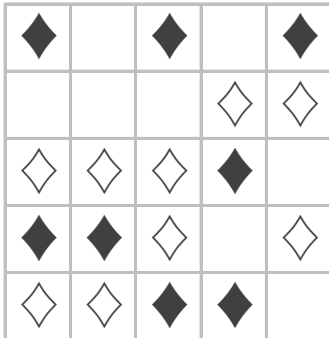
△ のかず

10 こ

おおいほうにまるをつけましょう。

() ()

③



◆ のかず

8 こ

◇ のかず

9 こ

おおいほうにまるをつけましょう。

() ()

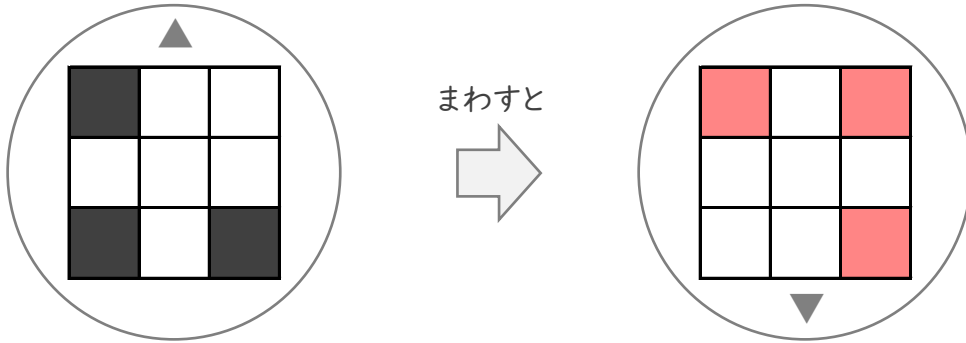
まわしてみよう

ねん くみ
なまえ

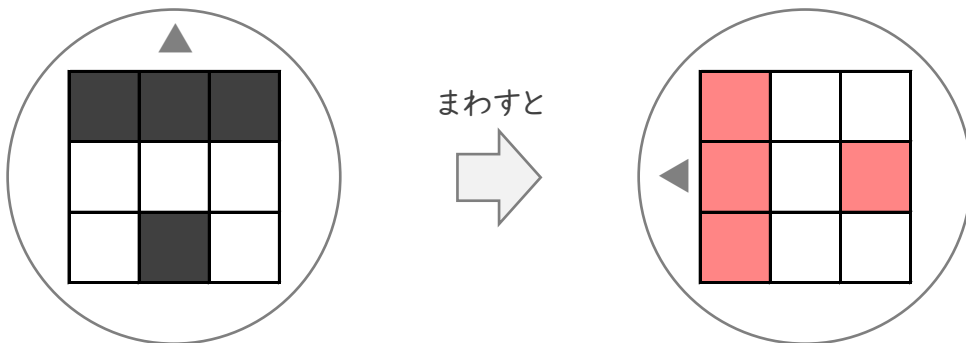
/ 3

■ まわしたかたちになるようにしかくをぬりましょう。

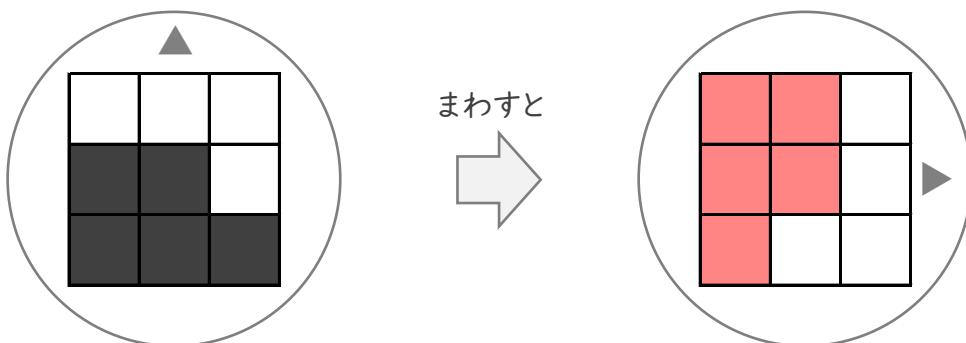
①



②



③



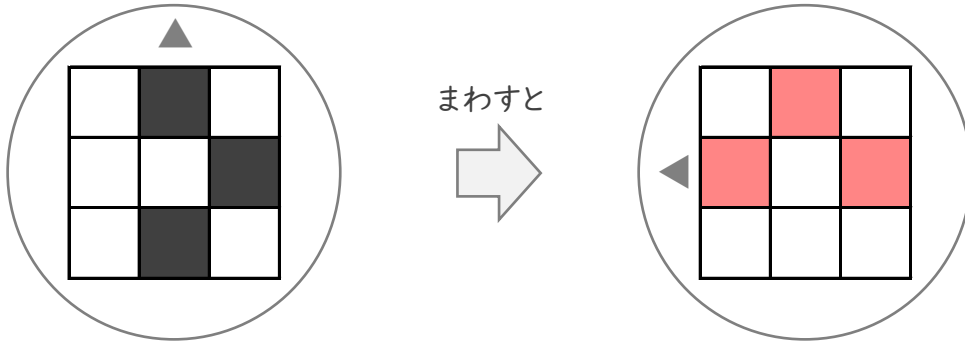
まわしてみよう

ねん くみ
なまえ

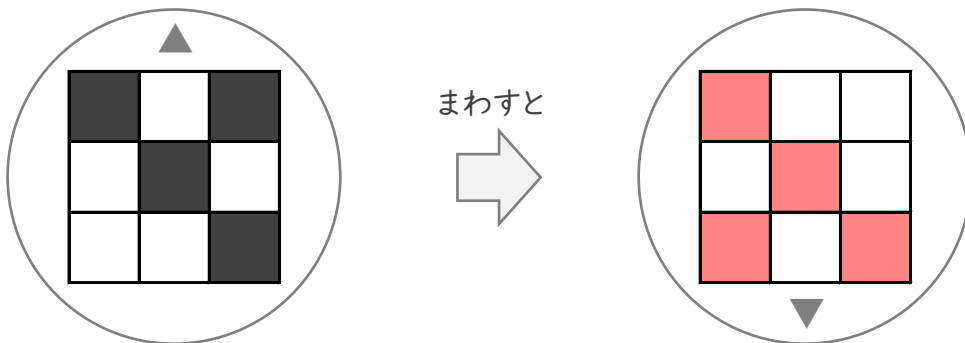
/ 3

■ まわしたかたちになるようにしかくをぬりましょう。

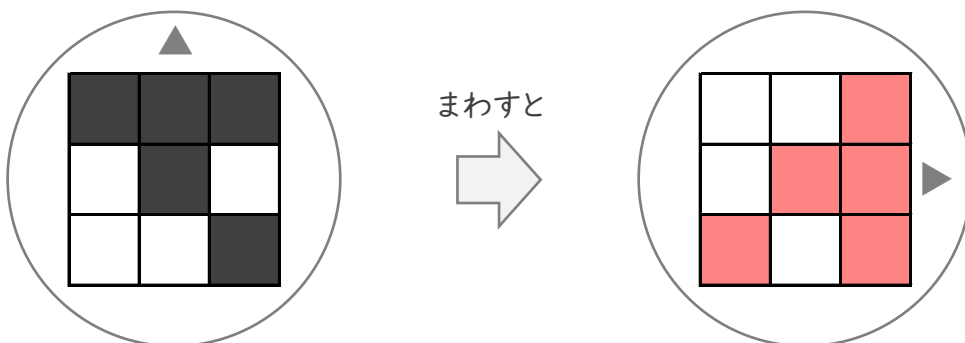
①



②



③



ぬってみよう

ねん くみ

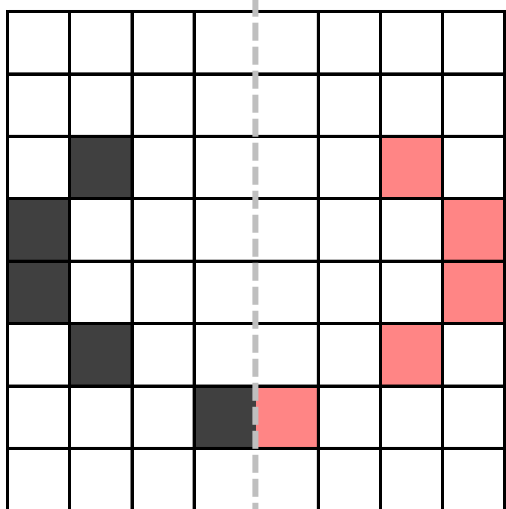
なまえ

/ 4

■ おりまげたときに、ちょうど かさなるように しかくを ぬりましょう。

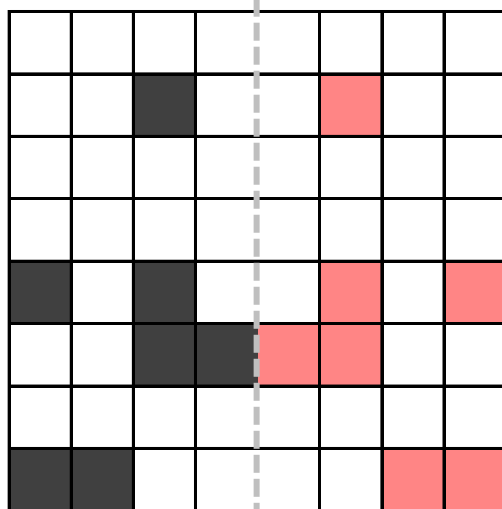
①

ここで おりまげる



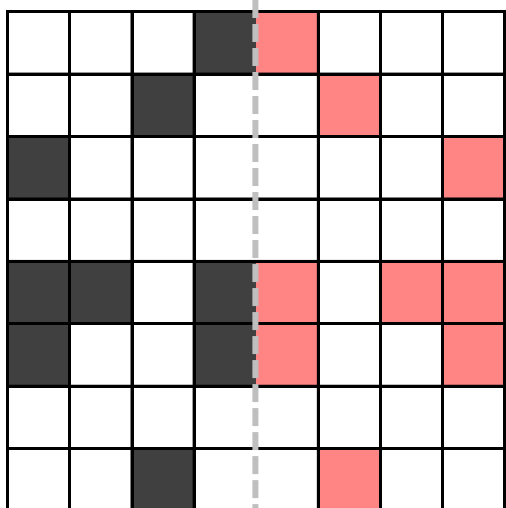
②

ここで おりまげる



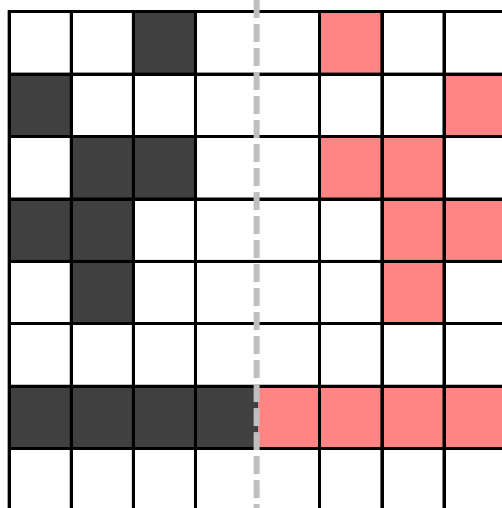
③

ここで おりまげる



④

ここで おりまげる



ぬってみよう

ねん くみ

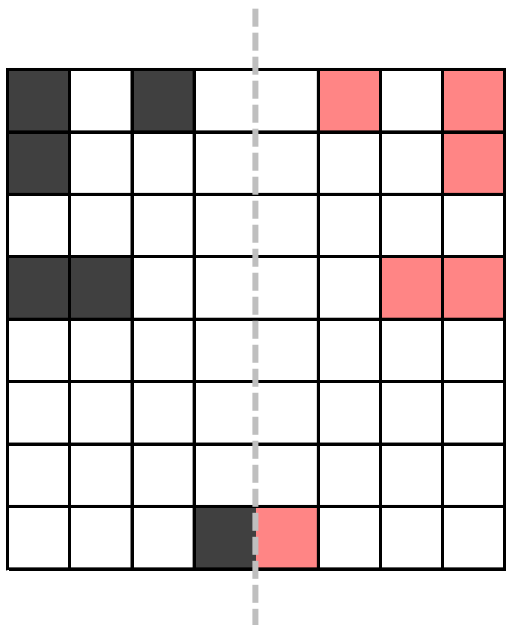
なまえ

/ 4

■ おりまげたときに、ちょうどかさなるようにしかくをぬりましょう。

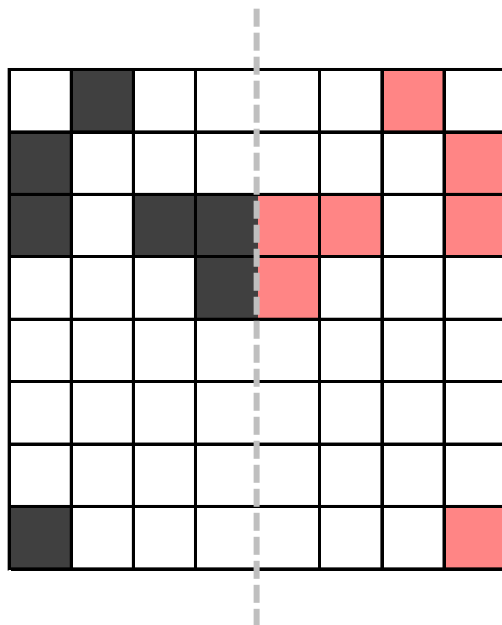
①

ここで おりまげる



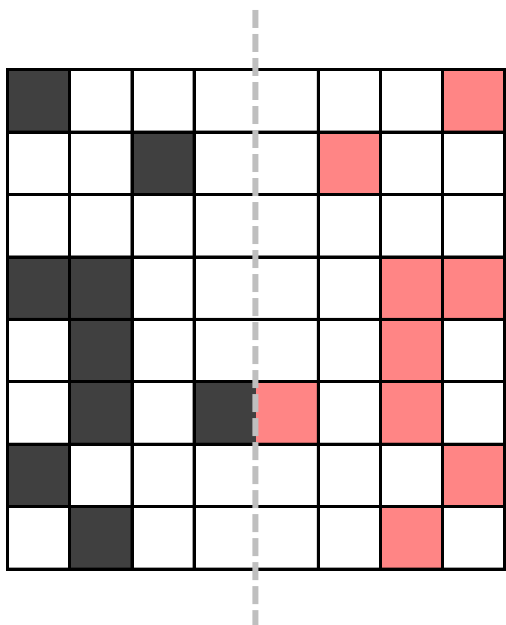
②

ここで おりまげる



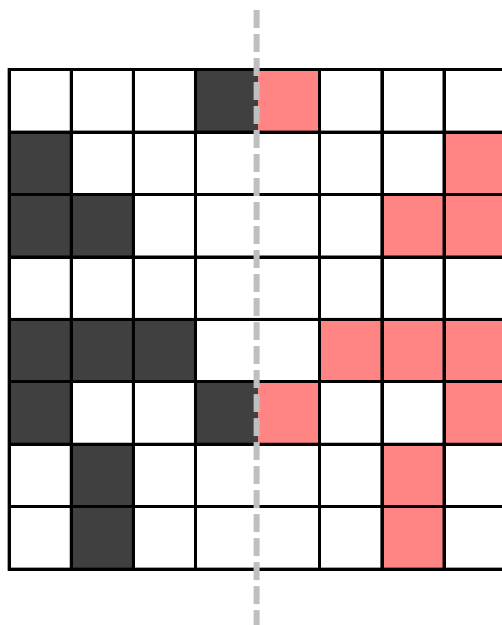
③

ここで おりまげる



④

ここで おりまげる



ぬってみよう

ねん くみ

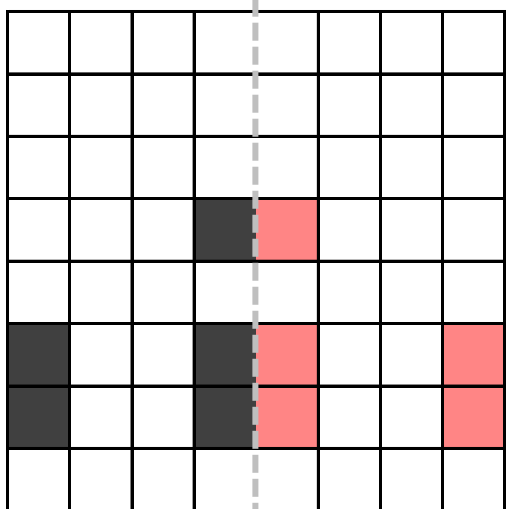
なまえ

/ 4

■ おりまげたときに、ちょうど かさなるように しかくを ぬりましょう。

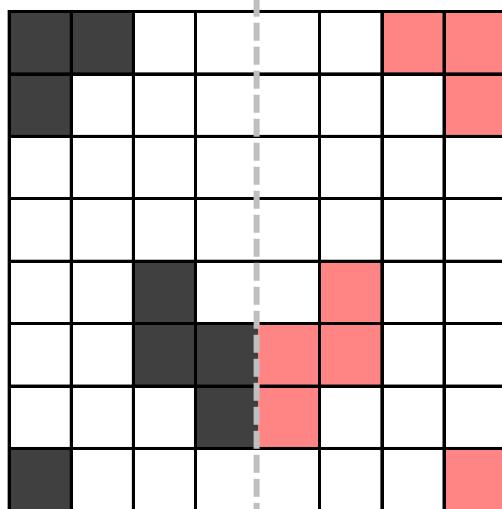
①

ここで おりまげる



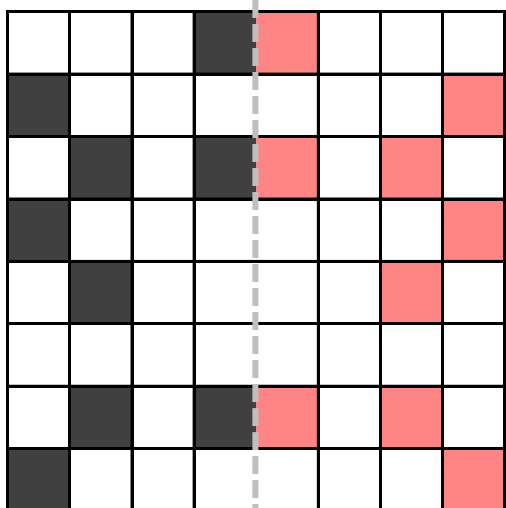
②

ここで おりまげる



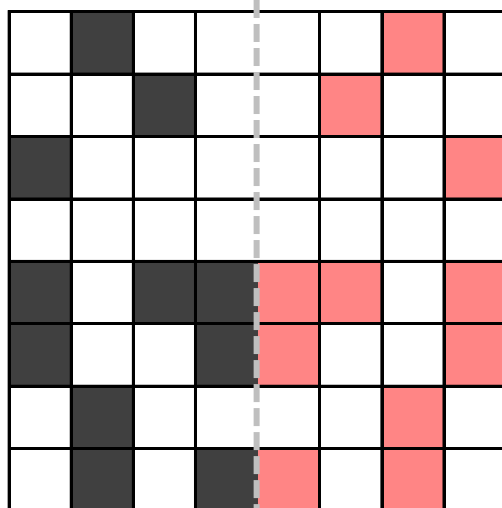
③

ここで おりまげる



④

ここで おりまげる



たしざん

ねん くみ

なまえ

/20

■ にはいる かずを こたえましょう。

① $8 + 10 = 18$

② $2 + 2 = 4$

③ $6 + 0 = 6$

④ $5 + 6 = 11$

⑤ $7 + 6 = 13$

⑥ $1 + 1 = 2$

⑦ $4 + 2 = 6$

⑧ $9 + 0 = 9$

⑨ $0 + 5 = 5$

⑩ $10 + 7 = 17$

⑪ $2 + 3 = 5$

⑫ $9 + 5 = 14$

⑬ $9 + 8 = 17$

⑭ $10 + 6 = 16$

⑮ $0 + 8 = 8$

⑯ $0 + 4 = 4$

⑰ $7 + 8 = 15$

⑱ $5 + 3 = 8$

⑲ $9 + 3 = 12$

⑳ $3 + 3 = 6$

たしざん

ねん くみ

なまえ

/20

■ にはいる かずを こたえましょう。

① + 5 = 10

② 10 + 7 =

③ 8 + = 18

④ 4 + 2 =

⑤ 2 + = 11

⑥ + 1 = 8

⑦ 9 + = 13

⑧ 6 + 2 =

⑨ + 7 = 16

⑩ + 6 = 12

⑪ 3 + = 8

⑫ 0 + 8 =

⑬ + 7 = 9

⑭ 4 + 4 =

⑮ 1 + = 6

⑯ 6 + = 11

⑰ 8 + 2 =

⑱ + 0 = 1

⑲ 2 + 5 =

⑳ 4 + = 5

たしざんをつかって

ねん くみ
なまえ

/ 6

■ たしざんをつかって あんごうを ときましょう。

①

$9+8$	$7+6$	$4+8$	$8+6$	$9+6$	$6+5$	$9+10$	$8+10$
く	じ	び	き	に	ん	じ	ん

11. ん 12. び 13. じ 14. き 15. に
16. く 17. く 18. ん 19. じ 20. ひ

②

$9+8$	$10+10$	$8+6$	$4+7$	$9+7$	$8+10$	$9+10$	$8+5$
ふ	ら	ん	す	お	は	じ	き

11. す 12. は 13. き 14. ん 15. や
16. お 17. ふ 18. は 19. じ 20. ら

③

$9+5$	$6+7$	$9+10$	$8+7$	$8+4$	$7+9$	$8+9$	$10+10$
む	し	か	ご	す	い	と	う

11. そ 12. す 13. し 14. む 15. ご
16. い 17. と 18. ふ 19. か 20. う

たしざんをつかって

ねん くみ
なまえ

/ 6

■ たしざんをつかって あんごうを ときましょう。

①

$9+6$	$8+5$	$9+5$	$9+9$	$9+3$	$5+6$	$9+8$	$8+8$
い	ろ	が	み	げ	た	ば	こ

11. た 12. げ 13. ろ 14. が 15. い
16. こ 17. ば 18. み 19. め 20. さ

②

$10+9$	$7+5$	$8+10$	$9+8$	$8+8$	$8+7$	$4+7$	$10+10$
た	い	い	く	た	け	の	こ

11. の 12. い 13. た 14. ひ 15. け
16. た 17. く 18. い 19. た 20. こ

③

$9+10$	$10+10$	$6+8$	$9+2$	$5+8$	$8+8$	$9+8$	$7+8$
こ	づ	つ	み	し	ん	ば	る

11. み 12. お 13. し 14. つ 15. る
16. ん 17. ば 18. も 19. こ 20. づ

100ますけいさん

ねん くみ
なまえ

/99

■ うえとひだりのかずを たした こたえをかきましょう。

たし ざん	4	3	8	2	9	6	1	0	7	5
7	↓ 11	10	15	9	16	13	8	7	14	12
2	6	5	10	4	11	8	3	2	9	7
0	4	3	8	2	9	6	1	0	7	5
1	5	4	9	3	10	7	2	1	8	6
5	9	8	13	7	14	11	6	5	12	10
8	12	11	16	10	17	14	9	8	15	13
3	7	6	11	5	12	9	4	3	10	8
6	10	9	14	8	15	12	7	6	13	11
9	13	12	17	11	18	15	10	9	16	14
4	8	7	12	6	13	10	5	4	11	9

100ますけいさん

ねん くみ
なまえ

/99

■ うえとひだりのかずを たした こたえをかきましょう。

たし ざん	1	2	5	8	6	4	7	3	0	9
6	7	8	11	14	12	10	13	9	6	15
8	9	10	13	16	14	12	15	11	8	17
2	3	4	7	10	8	6	9	5	2	11
7	8	9	12	15	13	11	14	10	7	16
3	4	5	8	11	9	7	10	6	3	12
5	6	7	10	13	11	9	12	8	5	14
1	2	3	6	9	7	5	8	4	1	10
4	5	6	9	12	10	8	11	7	4	13
0	1	2	5	8	6	4	7	3	0	9
9	10	11	14	17	15	13	16	12	9	18

ひきざん

ねん くみ
なまえ

/20

■ ひきざんをしましょう。

$① \quad 11 - 9 = 2$

$② \quad 16 - 10 = 6$

$③ \quad 11 - 5 = 6$

$④ \quad 12 - 6 = 6$

$⑤ \quad 8 - 0 = 8$

$⑥ \quad 7 - 3 = 4$

$⑦ \quad 8 - 7 = 1$

$⑧ \quad 2 - 2 = 0$

$⑨ \quad 8 - 4 = 4$

$⑩ \quad 12 - 7 = 5$

$⑪ \quad 15 - 7 = 8$

$⑫ \quad 14 - 9 = 5$

$⑬ \quad 7 - 6 = 1$

$⑭ \quad 9 - 4 = 5$

$⑮ \quad 12 - 4 = 8$

$⑯ \quad 11 - 3 = 8$

$⑰ \quad 6 - 5 = 1$

$⑱ \quad 16 - 9 = 7$

$⑲ \quad 15 - 6 = 9$

$⑳ \quad 11 - 1 = 10$

ひきざん

ねん くみ
なまえ

/20

■ ひきざんをしましょう。

$① \quad 9 - 3 = 6$

$② \quad 6 - 4 = 2$

$③ \quad 11 - 5 = 6$

$④ \quad 7 - 2 = 5$

$⑤ \quad 3 - 3 = 0$

$⑥ \quad 13 - 9 = 4$

$⑦ \quad 13 - 5 = 8$

$⑧ \quad 11 - 9 = 2$

$⑨ \quad 16 - 10 = 6$

$⑩ \quad 10 - 5 = 5$

$⑪ \quad 14 - 5 = 9$

$⑫ \quad 13 - 7 = 6$

$⑬ \quad 13 - 3 = 10$

$⑭ \quad 10 - 8 = 2$

$⑮ \quad 12 - 6 = 6$

$⑯ \quad 10 - 0 = 10$

$⑰ \quad 16 - 9 = 7$

$⑱ \quad 7 - 4 = 3$

$⑲ \quad 14 - 7 = 7$

$⑳ \quad 11 - 3 = 8$

ひきざん

ねん くみ
なまえ

/20

■ ひきざんをしましょう。

$① \quad 6 - 4 = 2$

$② \quad 16 - 8 = 8$

$③ \quad 9 - 3 = 6$

$④ \quad 18 - 10 = 8$

$⑤ \quad 17 - 8 = 9$

$⑥ \quad 12 - 2 = 10$

$⑦ \quad 11 - 8 = 3$

$⑧ \quad 12 - 6 = 6$

$⑨ \quad 4 - 1 = 3$

$⑩ \quad 1 - 0 = 1$

$⑪ \quad 11 - 7 = 4$

$⑫ \quad 4 - 4 = 0$

$⑬ \quad 9 - 7 = 2$

$⑭ \quad 8 - 3 = 5$

$⑮ \quad 8 - 4 = 4$

$⑯ \quad 13 - 5 = 8$

$⑰ \quad 13 - 4 = 9$

$⑱ \quad 14 - 6 = 8$

$⑲ \quad 12 - 9 = 3$


$⑳ \quad 15 - 9 = 6$


なんじなんぷん


ねん くみ
なまえ


/ 8


■ とけいを よみましょう。


①  じ
 ぷん


⑤  じ
 ぷん


②  じ
 ぷん

⑥  じ
 ぷん

③  じ
 ぷん

⑦  じ
 ぷん

④  じ
 ぷん

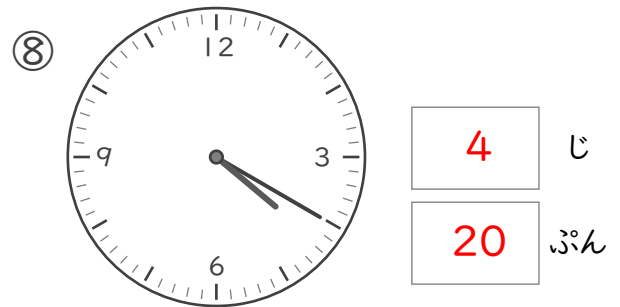
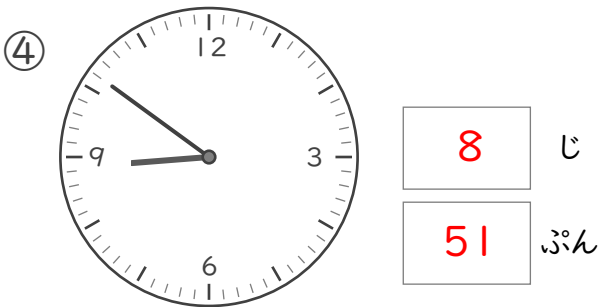
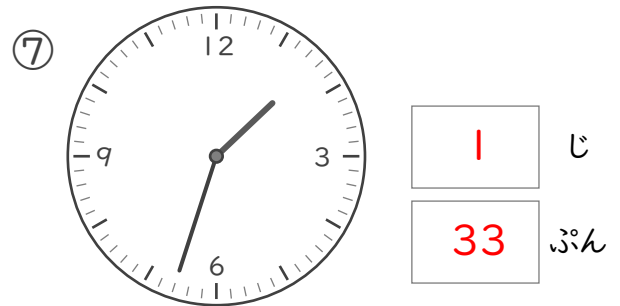
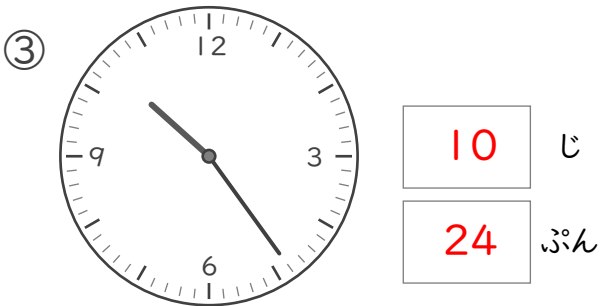
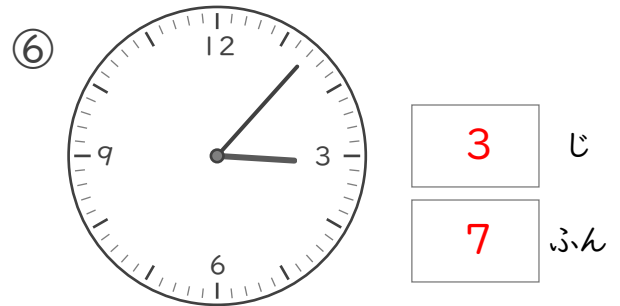
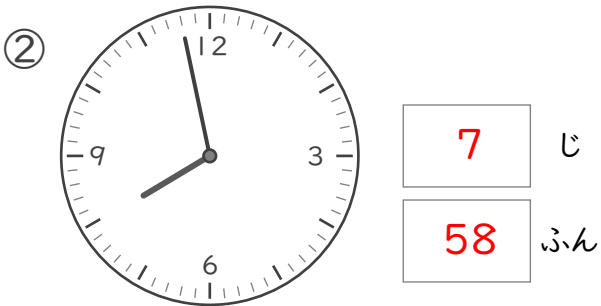
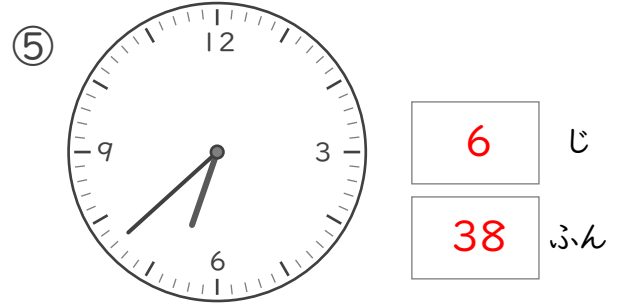
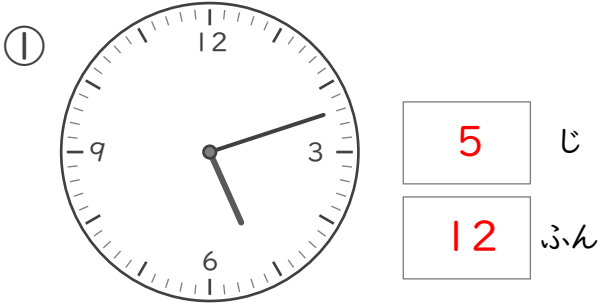
⑧  じ
 ぷん

なんじなんぷん

ねん くみ
なまえ

/ 8

■ とけいを よみましょう。

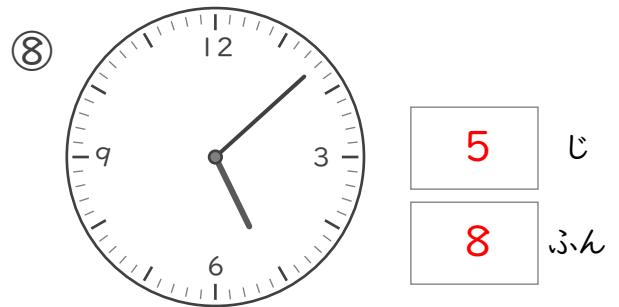
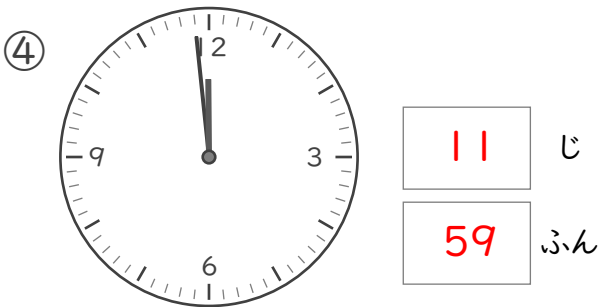
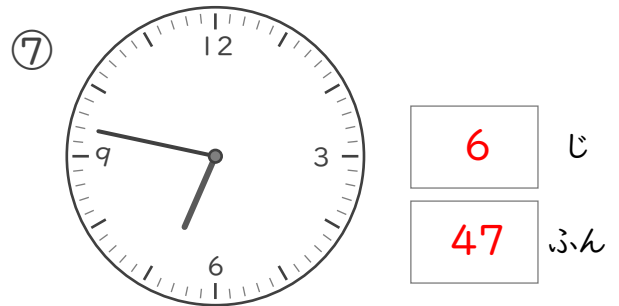
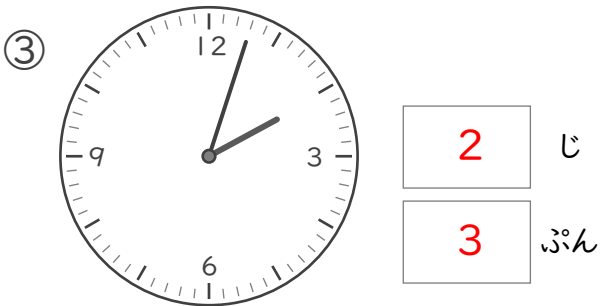
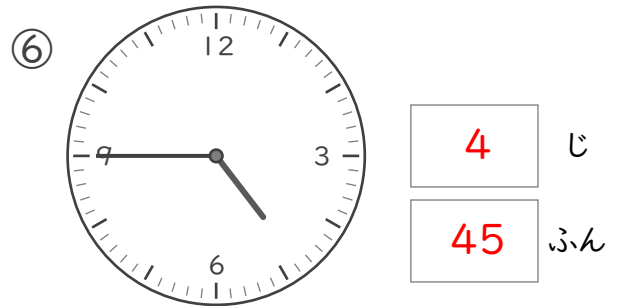
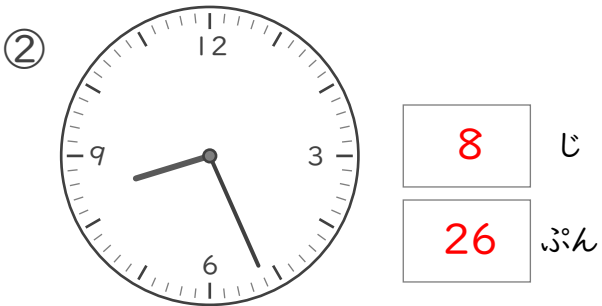
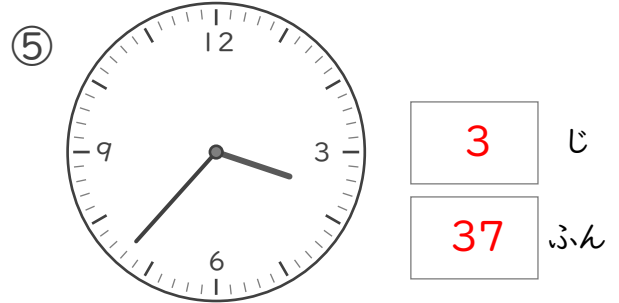
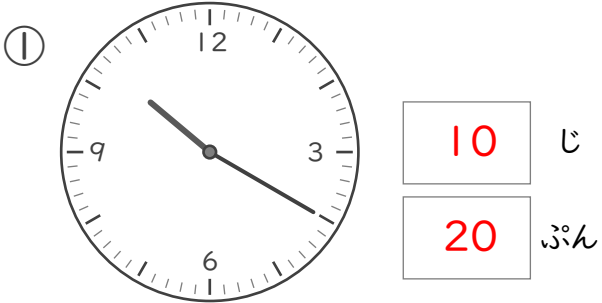


なんじなんぷん

ねん ぐみ
なまえ

/ 8

■ とけいを よみましょう。



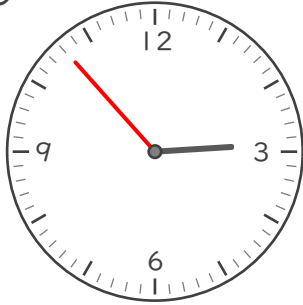
なんじなんぶん

ねん ぐみ
なまえ

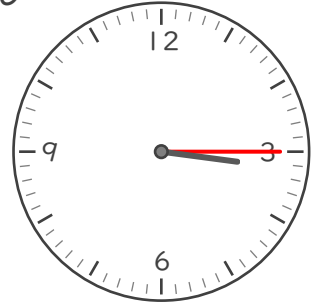
/ 8

■ ながい はりを かきましょう。

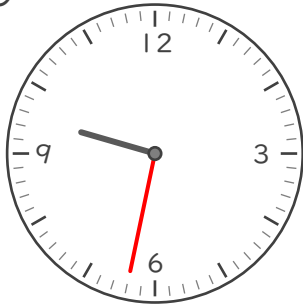
① 2じ 53ぶん



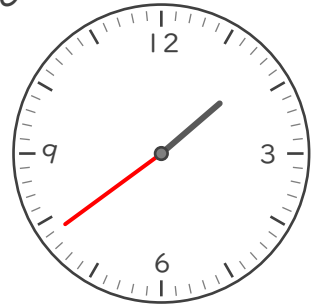
⑤ 3じ 15ぶん



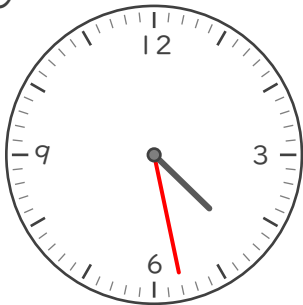
② 9じ 32ぶん



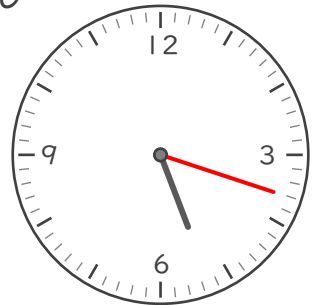
⑥ 1じ 39ぶん



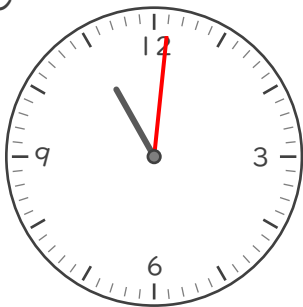
③ 4じ 28ぶん




⑦ 5じ 18ぶん



④ 11じ 1ぶん



⑧ 12じ 46ぶん



なんじなんぶん


ねん ぐみ

なまえ

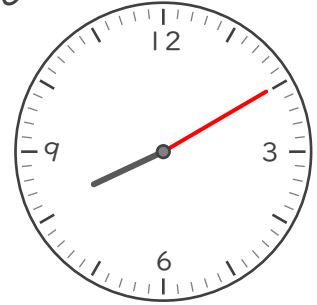
/ 8

■ ながい はりを かきましょう。


① 10じ 58ぶん



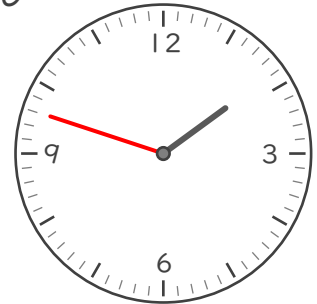
⑤ 8じ 10ぶん



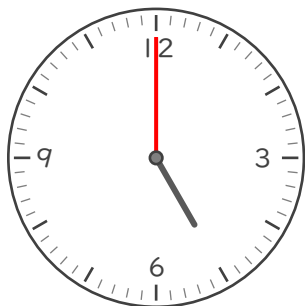
② 12じ 31ぶん



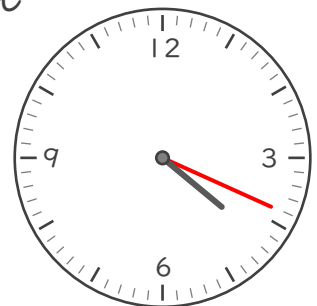
⑥ 1じ 48ぶん



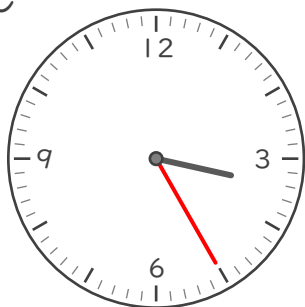
③ 5じ




⑦ 4じ 19ぶん



④ 3じ 25ぶん



⑧ 11じ 40ぶん




なんじなんぷん


ねん くみ


なまえ


/ 8


■ かがみにうつったとけいがあります。このとけいをよみましょう。


①  じ
 ぷん


⑤  じ
 ぷん


②  じ
 ぷん

⑥  じ
 ぷん

③  じ
 ぷん

⑦  じ
 ぷん

④  じ
 ぷん


⑧  じ
 ぷん


なんじなんぷん


ねん ぐみ
なまえ


/ 8


■ かがみにうつったとけいがあります。このとけいをよみましょう。


①  じ
 ぷん


⑤  じ
 ぷん


②  じ
 ぷん

⑥  じ
 ぷん

③  じ
 ぷん

⑦  じ
 ぷん

④  じ
 ぷん

⑧  じ
 ぷん

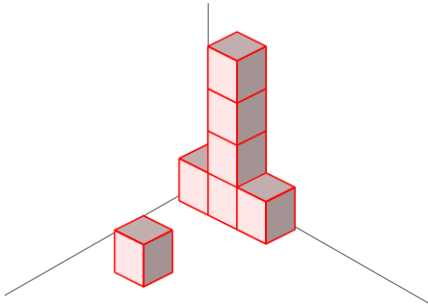
つみきはなんこ

ねん くみ
なまえ

/ 4

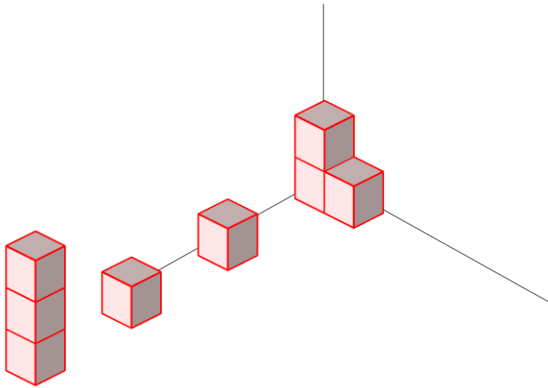
■ つみきのかずだけまる(○)をかきましょう。

①



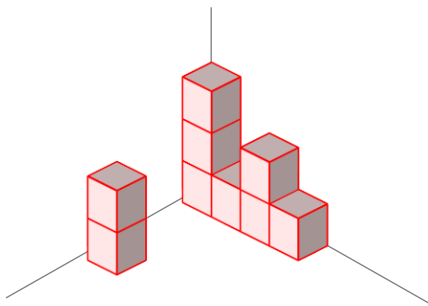
○	○	○	○	○
○	○			

②



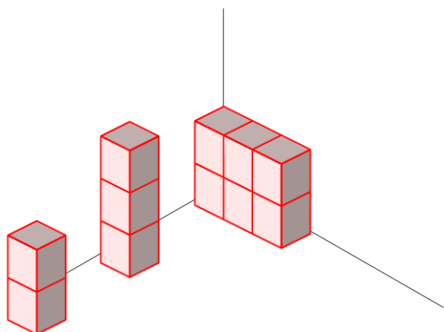
○	○	○	○	○
○	○	○		

③



○	○	○	○	○
○	○	○	○	

④



○	○	○	○	○
○	○	○	○	○
○				

つみきはなんこ

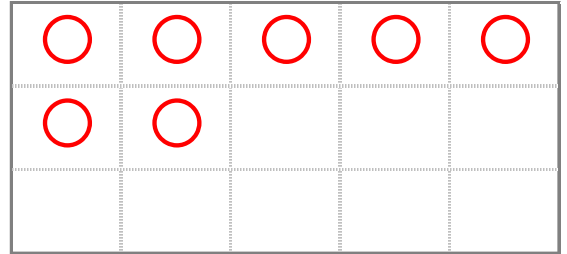
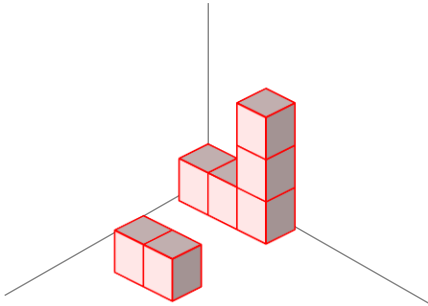
ねん くみ

なまえ

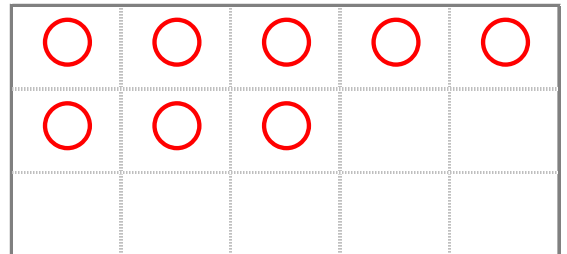
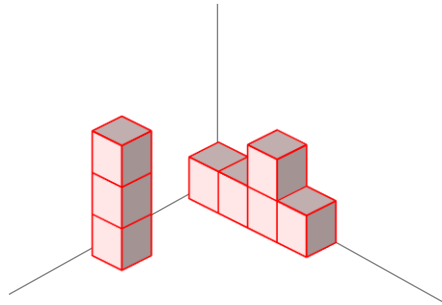
/ 4

■ つみきのかずだけまる(○)をかきましょう。

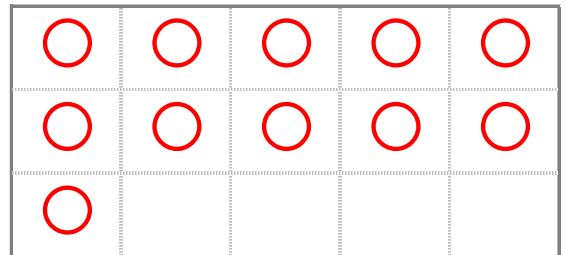
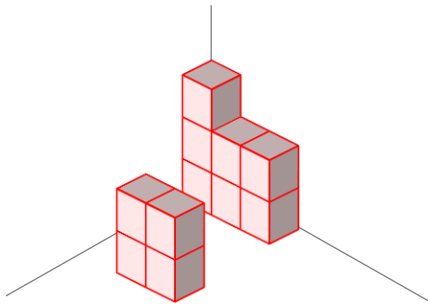
①



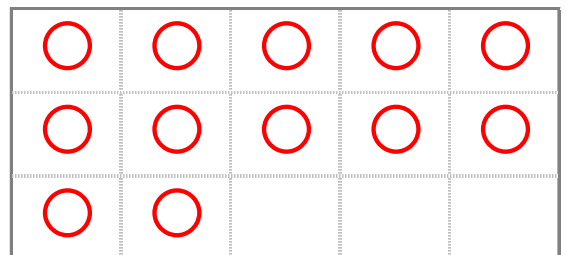
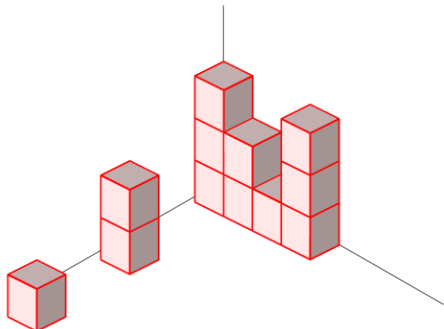
②



③



④



つみきはなんこ

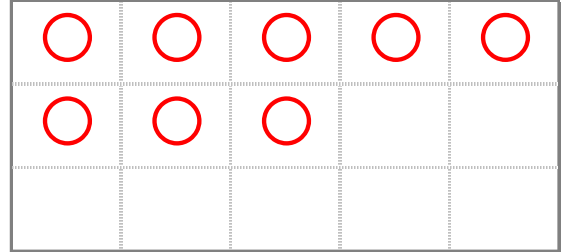
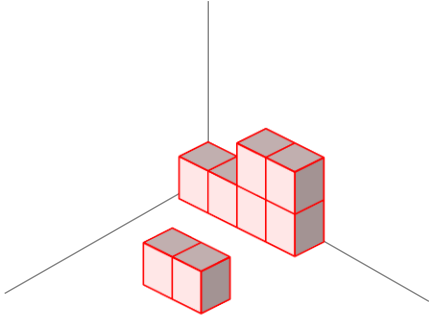
ねん くみ

なまえ

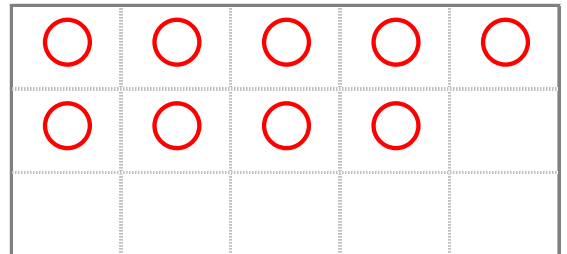
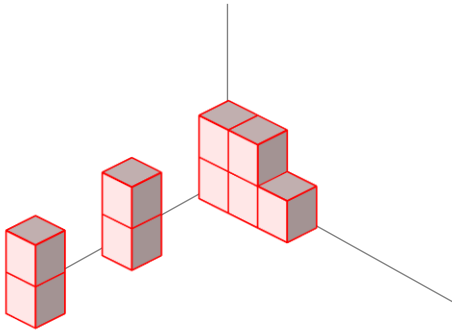
/ 4

■ つみきのかずだけまる(○)をかきましょう。

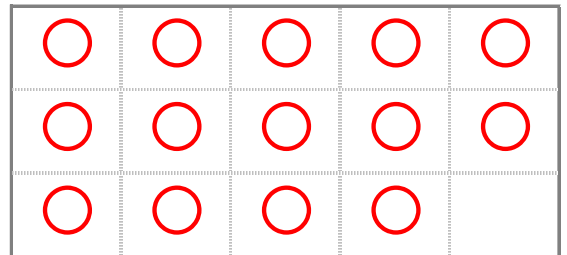
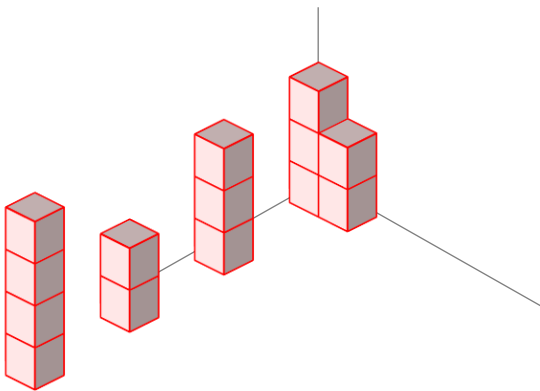
①



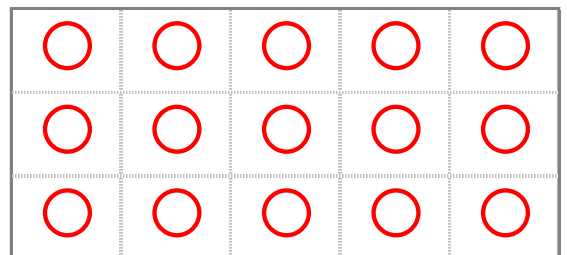
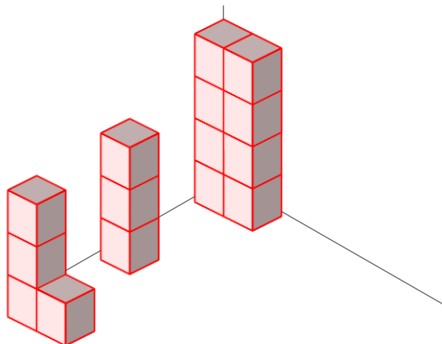
②



③



④



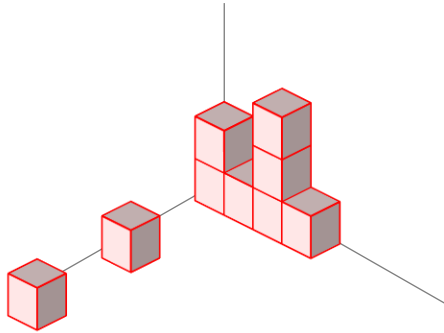
積みきはなんこ

ねん くみ
なまえ

/ 4

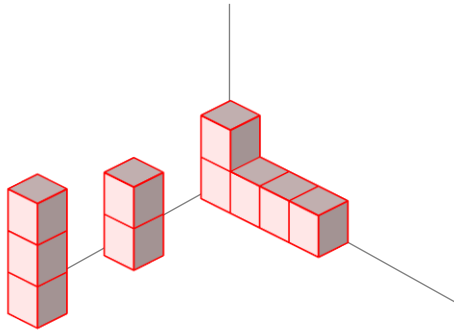
■ つみきの かずだけまる(O)をかきましょう。

①



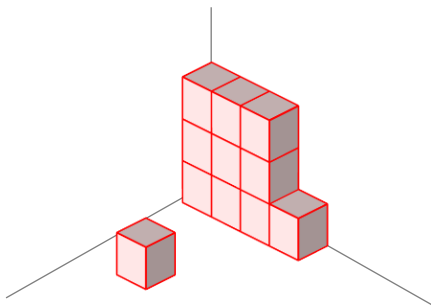
○	○	○	○	○
○	○	○	○	

②



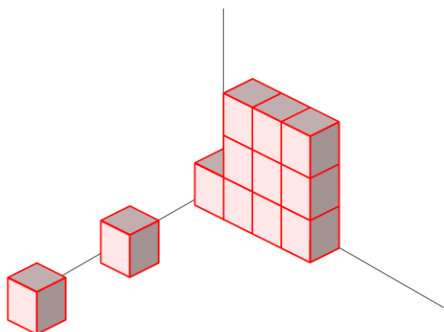
○	○	○	○	○
○	○	○	○	○

③



○	○	○	○	○
○	○	○	○	○
○				

④



○	○	○	○	○
○	○	○	○	○
○	○			

つみきはなんこ

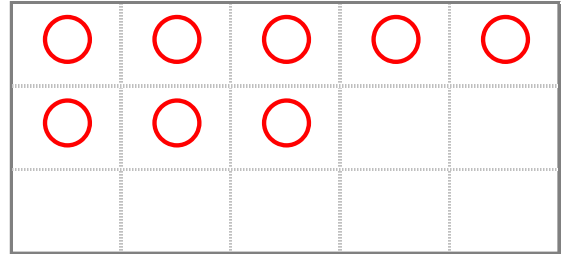
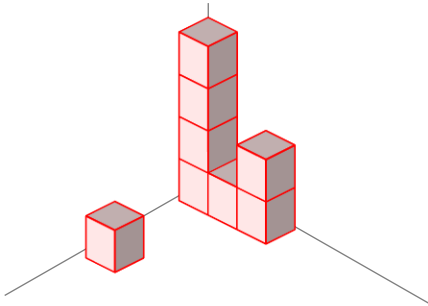
ねん くみ

なまえ

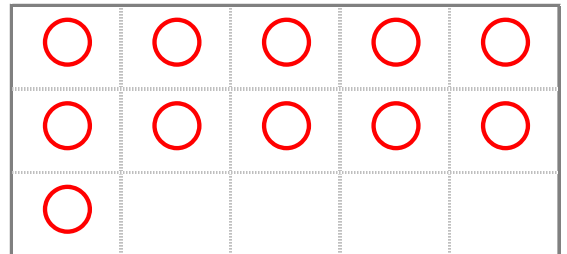
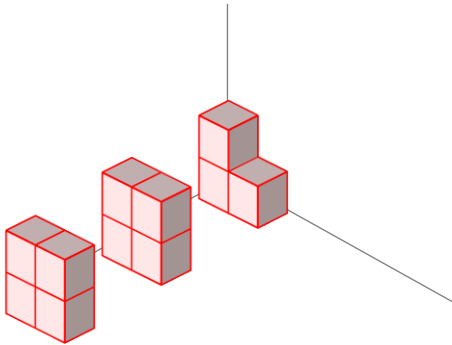
/ 4

■ つみきのかずだけまる(○)をかきましょう。

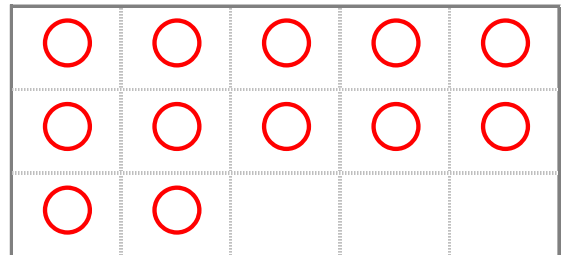
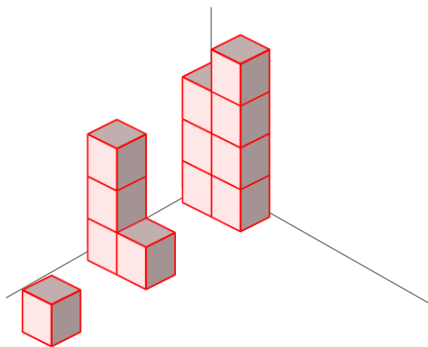
①



②



③



④

