

きょうざい  
教材おきば の

これだけ、あんしん安心

さんすう  
算数ドリル

1 - 2 1

小学1年生

もくじ

①	きごうを かきかえよう	2 ページ
②	まほうじん(魔方陣)	2 ページ
③	ぴったり あう かたち	2 ページ
④	カード さがし	2 ページ
⑤	なかま さがし	2 ページ
⑥	100 ますけいさん たしざん	3 ページ
⑦	なんじなんぶん 長針をかく(2)	2 ページ
⑧	なんじなんぶん 鏡に映った時計	2 ページ
⑨	なんじなんぶん 数字のない時計	3 ページ
⑩	なん十のたしざん	2 ページ
⑪	なん十のひきざん	2 ページ
⑫	(2けた)+(1けた)のけいさん	2 ページ
⑬	(2けた)-(1けた)のけいさん	2 ページ
	合計	2 8 ページ

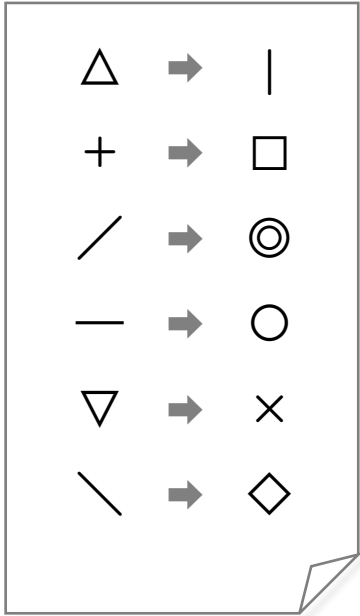
# きごうをかきかえよう

ねん くみ  
なまえ

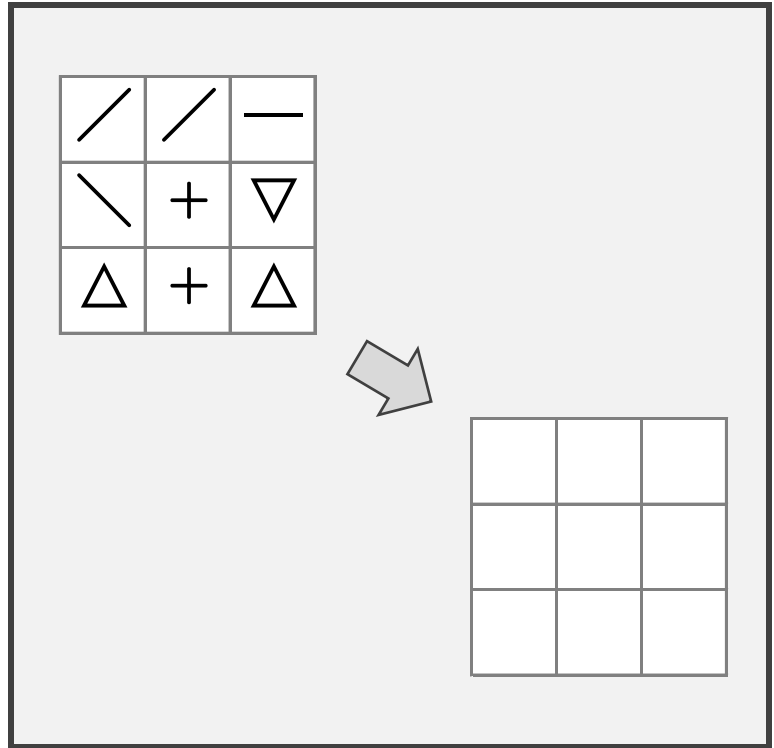
/ 2

■ リストをみて、きごうをかきかえましょう。

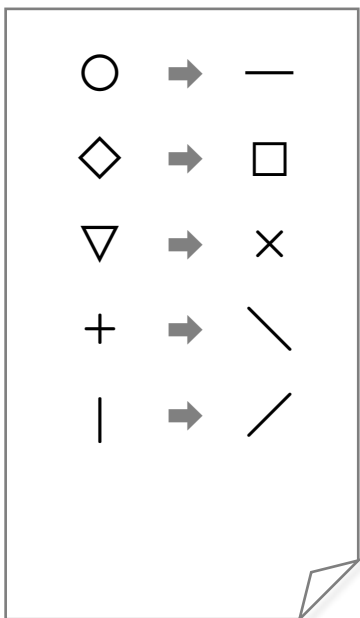
①



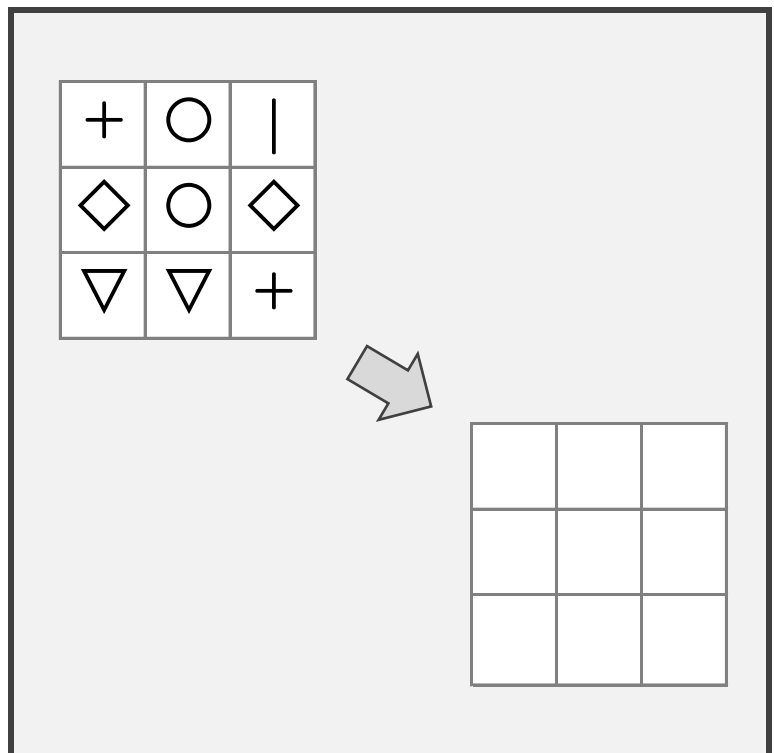
リスト



②



リスト



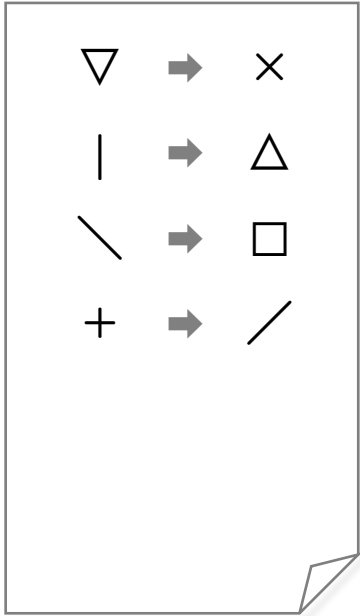
# きごうをかきかえよう

ねん ぐみ  
なまえ

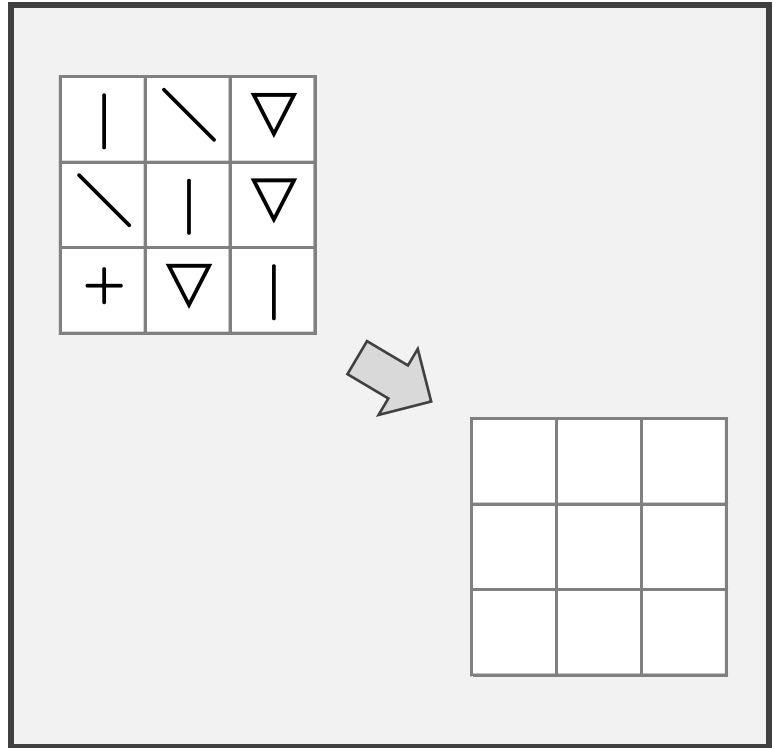
/ 2

■ リストをみて、きごうをかきかえましょう。

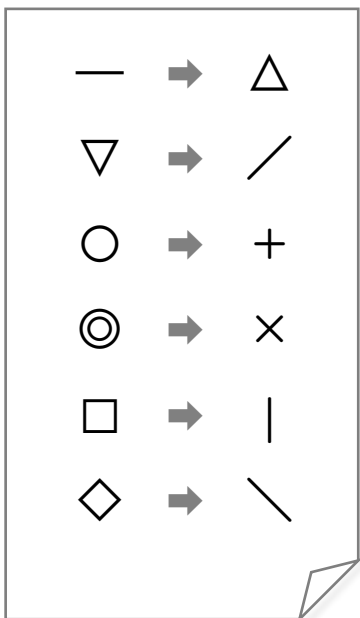
①



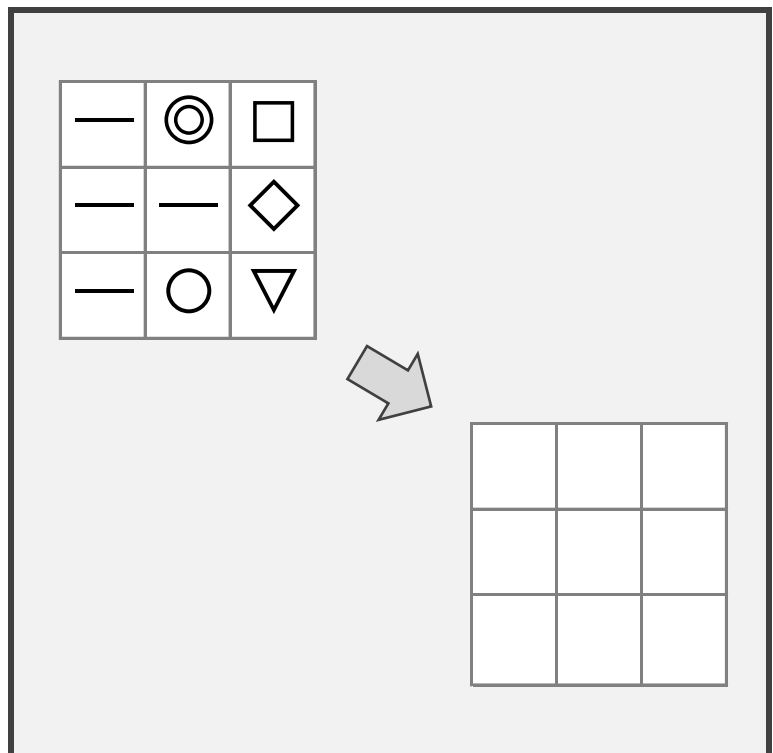
リスト



②



リスト



# まほうじん

ねん くみ  
なまえ

/ 4

■ まほうじん を つくりましょう。

まほうじんの  
ルール

- ・ 1から9までの かず を すべて 1かいつつ つかう。
- ・ たて、よこ、ななめ にならんだ かず を たすと、すべて 15 になる。

①

		6
		1
	3	

②

2	9	
	1	

③

	7	2
	5	

④

7		3
2		

# まほうじん

ねん くみ

なまえ

/ 4

■ まほうじん を つくりましょう。

まほうじんの  
ルール

- ・ 1から9までの かず を すべて 1かいつつ つかう。
- ・ たて、よこ、ななめ にならんだ かず を たすと、すべて 15 になる。

①

6	7	
1		

②

		2
3		
		6

③

6		
2	9	



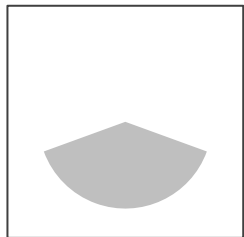


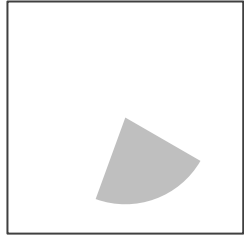
④

9		1
2		

# ぴったりあうかたち

ねん くみ  
なまえ

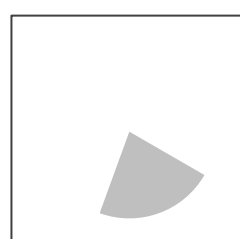

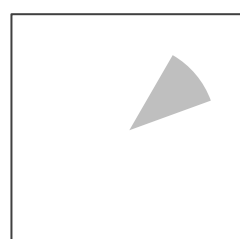

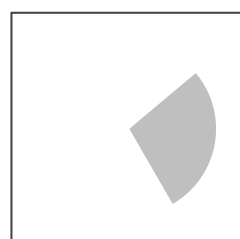



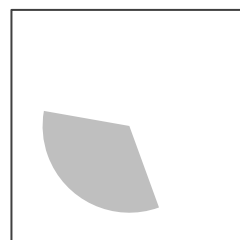

■ ぴったりあうかたちを せんで つなぎましょう。



# ぴったりあうかたち

ねん くみ  
なまえ

■ ぴったりあうかたちを せんで つなぎましょう。














# カードさがし

ねん くみ  
なまえ

/ 3

■ 1まいしかないカードを みつけて、まる(○)をつけましょう。
















# カードさがし

ねん くみ  
なまえ

/ 3

■ 1まいしかないカードを みつけて、まる(O)をつけましょう。



■ ?にはいるもの (まわしたときにおなじになるもの) を えらびましょう。

①

なかま

--	--	--	--

( )	( )	( )	( )

②

なかま

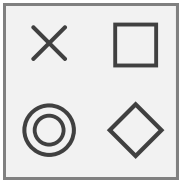
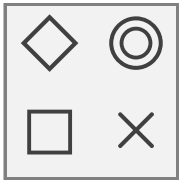
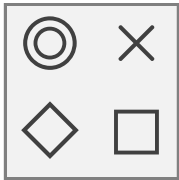

--	--	--	--

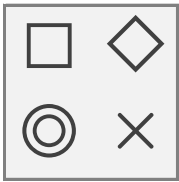
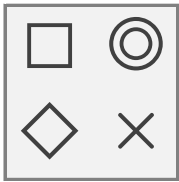
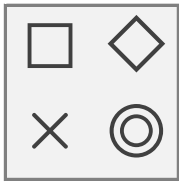
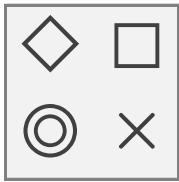
( )	( )	( )	( )

■ ?にはいるもの (まわしたときにおなじになるもの) を えらびましょう。

①





なかま





			
---	---	--	---

 <p>( )</p>	 <p>( )</p>	 <p>( )</p>	 <p>( )</p>
---	---	--	---

②

なかま

			
---	---	--	---

 <p>( )</p>	 <p>( )</p>	 <p>( )</p>	 <p>( )</p>
--	--	---	--








なんじなんぶん

ねん ぐみ  
なまえ


/ 8

■ ながい はりを かきましょう。


① 9じ 24ぶん




⑤ 12じ 10ぶん




② 3じ 53ぶん




⑥ 4じ 34ぶん




③ 11じ 7ぶん




⑦ 7じ 38ぶん



④ 8じ 48ぶん



⑧ 10じ 21ぶん



なんじなんぷん


ねん くみ

なまえ


/ 8

■ ながいはりをかきましょう。


① 9じ 36ぷん




⑤ 2じ 3ぷん




② 1じ 22ぷん




⑥ 10じ 54ぷん




③ 12じ 14ぷん




⑦ 5じ 27ぷん



④ 6じ 47ぷん



⑧ 3じ 39ぷん





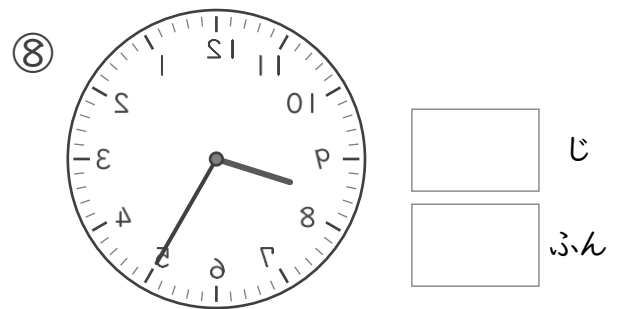
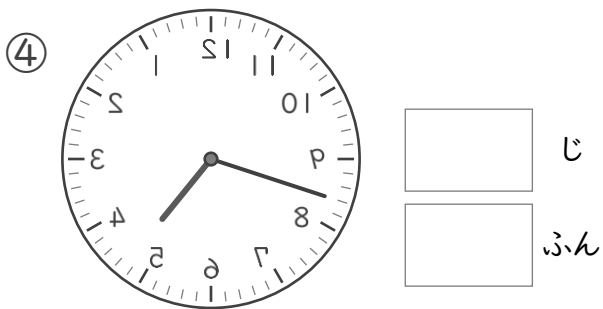
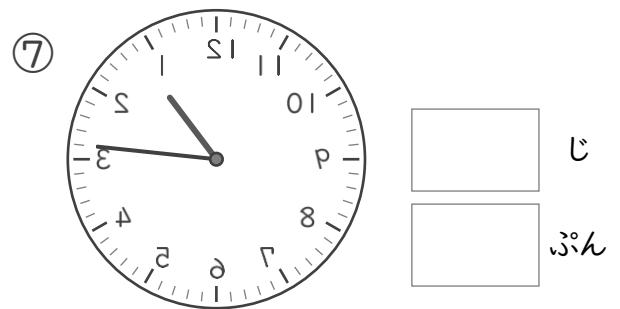
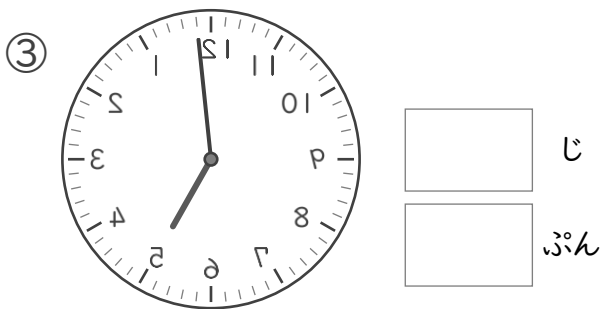
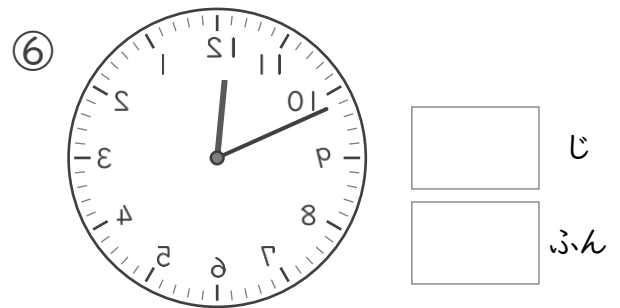
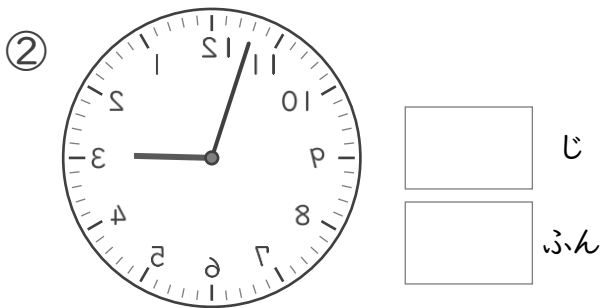
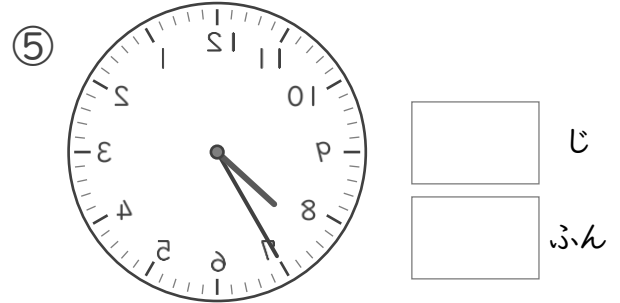
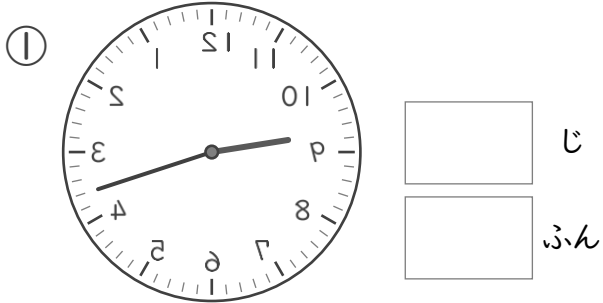
# なんじなんぷん

ねん ぐみ

なまえ

/ 8

■ かがみにうつったとけいがあります。このとけいをよみましょう。

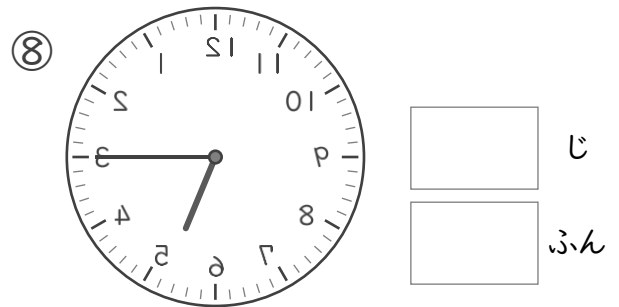
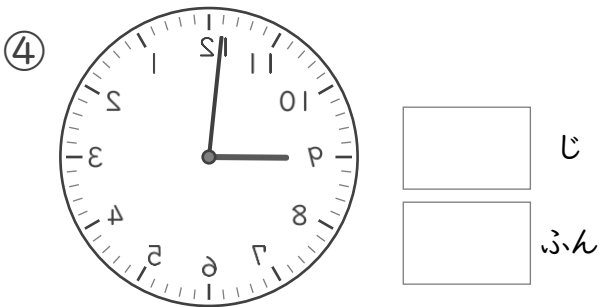
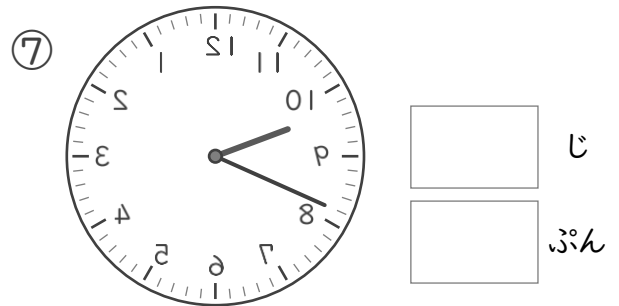
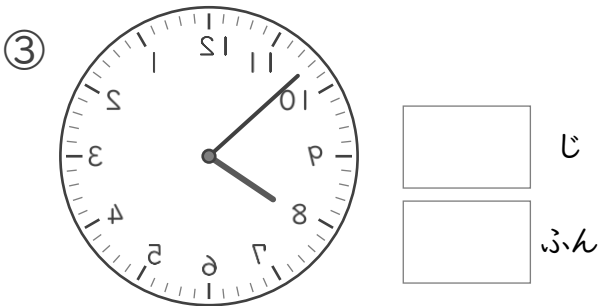
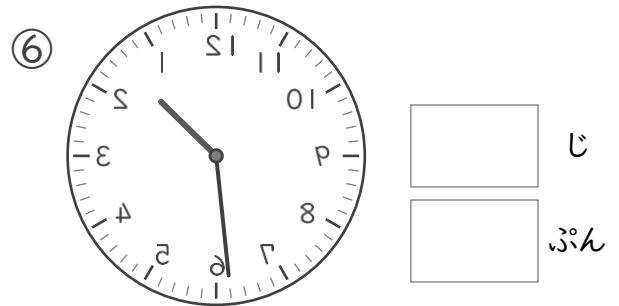
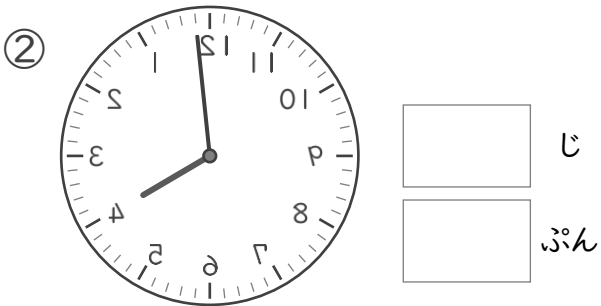
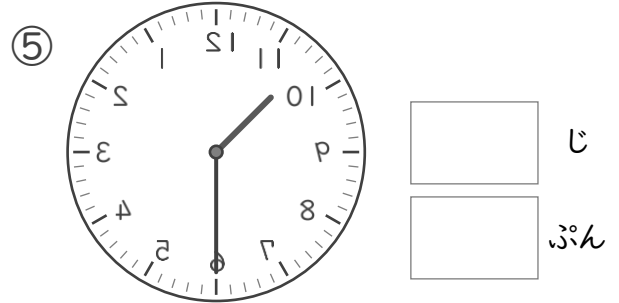
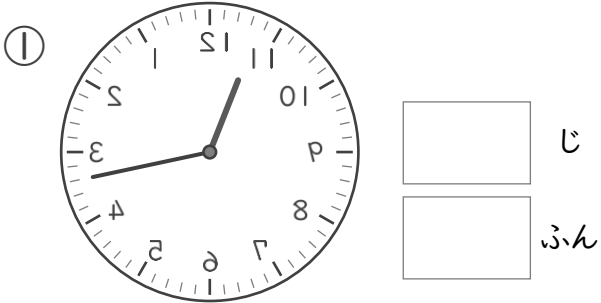


# なんじなんぷん

ねん ぐみ  
なまえ

/ 8

■ かがみにうつったとけいがあります。このとけいをよみましょう。





# なんじなんぷん


ねん ぐみ  
なまえ


/ 8


■ とけいを よみましょう。


①   じ  
 ぷん


⑤   じ  
 ぷん


②   じ  
 ぷん

⑥   じ  
 ぷん

③   じ  
 ぷん

⑦   じ  
 ぷん

④   じ  
 ぷん


⑧   じ  
 ぷん


なんじなんぷん


ねん ぐみ  
なまえ


/ 8


■ とけいを よみましょう。


①   じ  
 ぷん


⑤   じ  
 ぷん


②   じ  
 ぷん

⑥   じ  
 ぷん

③   じ  
 ぷん

⑦   じ  
 ぷん

④   じ  
 ぷん

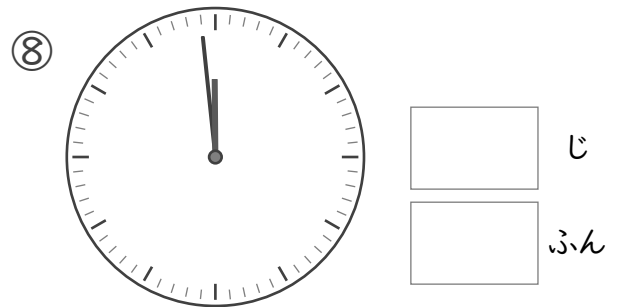
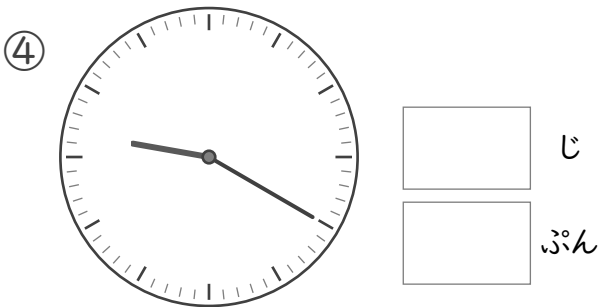
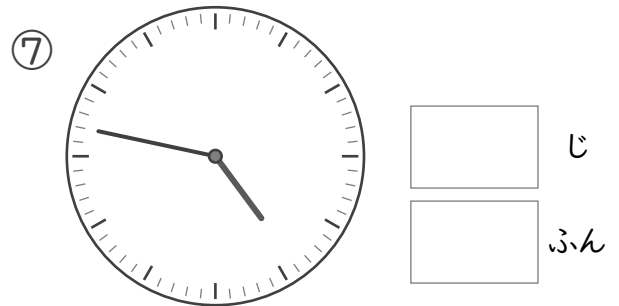
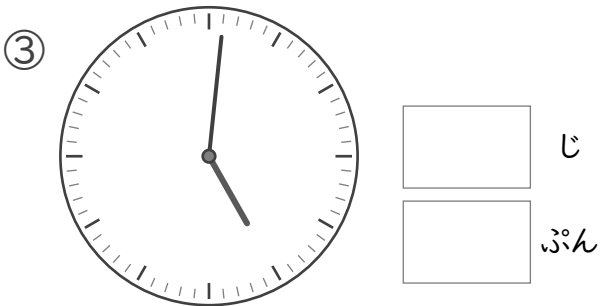
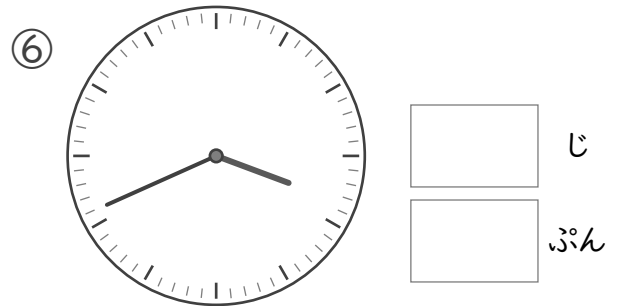
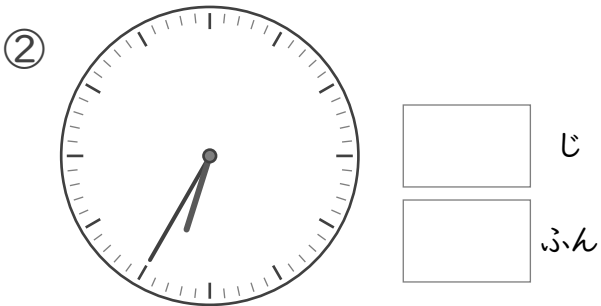
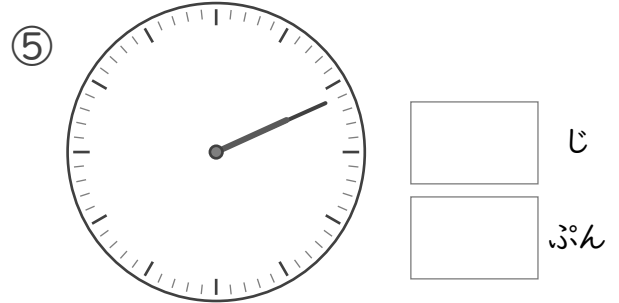
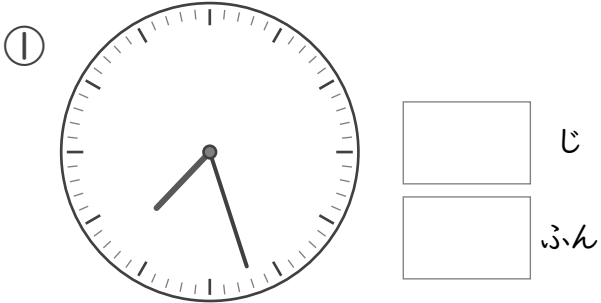
⑧   じ  
 ぷん

# なんじなんぷん

ねん ぐみ  
なまえ

/ 8

■ とけいを よみましょう。



# なん十のたしざん

ねん くみ

なまえ

/14

■ つぎのたしざんをしましょう。

①  $70 + 10 =$

②  $30 + 30 =$

③  $20 + 70 =$

④  $40 + 20 =$

⑤  $90 + 10 =$

⑥  $20 + 20 =$

⑦  $40 + 50 =$

⑧  $30 + 70 =$

⑨  $40 + 40 =$

⑩  $30 + 40 =$

⑪  $60 + 40 =$

⑫  $30 + 20 =$

⑬  $30 + 60 =$

⑭  $20 + 60 =$

# なん十のたしざん

ねん くみ

なまえ

/14

■ つぎのたしざんをしましょう。

①  $20 + 20 =$

②  $10 + 70 =$

③  $70 + 20 =$

④  $60 + 30 =$

⑤  $60 + 20 =$

⑥  $40 + 60 =$

⑦  $30 + 50 =$

⑧  $70 + 30 =$

⑨  $20 + 50 =$

⑩  $80 + 10 =$

⑪  $10 + 40 =$

⑫  $30 + 30 =$

⑬  $90 + 10 =$

⑭  $10 + 30 =$

■ つぎのひきざんをしましょう。

①  $90 - 50 =$

②  $80 - 40 =$

③  $30 - 20 =$

④  $100 - 40 =$

⑤  $80 - 30 =$

⑥  $90 - 70 =$

⑦  $90 - 30 =$

⑧  $40 - 10 =$

⑨  $40 - 20 =$

⑩  $60 - 20 =$

⑪  $80 - 20 =$

⑫  $100 - 10 =$

⑬  $100 - 50 =$

⑭  $70 - 60 =$



■ つぎのひきざんをしましょう。

①  $90 - 50 =$

②  $80 - 70 =$

③  $80 - 20 =$

④  $90 - 20 =$

⑤  $50 - 10 =$

⑥  $80 - 30 =$

⑦  $100 - 70 =$

⑧  $70 - 50 =$

⑨  $70 - 40 =$

⑩  $70 - 10 =$

⑪  $100 - 40 =$

⑫  $100 - 90 =$

⑬  $40 - 30 =$

⑭  $60 - 50 =$

(2けた)+(1けた)の  
けいさん

ねん くみ  
なまえ

/18

■ つぎのたしざんをしましょう。

①  $53 + 4 =$

②  $82 + 4 =$

③  $43 + 2 =$

④  $74 + 4 =$

⑤  $93 + 6 =$

⑥  $64 + 5 =$

⑦  $31 + 8 =$

⑧  $17 + 2 =$

⑨  $25 + 2 =$

⑩  $54 + 3 =$

⑪  $75 + 4 =$

⑫  $22 + 6 =$

⑬  $15 + 3 =$

⑭  $81 + 6 =$

⑮  $36 + 3 =$

⑯  $63 + 5 =$

⑰  $92 + 2 =$

⑱  $43 + 3 =$

(2けた)+(1けた)の  
けいさん

ねん くみ  
なまえ

/18

■ つぎのたしざんをしましょう。

①  $81 + 4 =$

②  $61 + 2 =$

③  $41 + 5 =$

④  $73 + 4 =$

⑤  $32 + 4 =$

⑥  $91 + 3 =$

⑦  $14 + 5 =$

⑧  $24 + 2 =$

⑨  $53 + 2 =$

⑩  $83 + 6 =$

⑪  $52 + 6 =$

⑫  $95 + 2 =$

⑬  $25 + 3 =$

⑭  $41 + 7 =$

⑮  $11 + 8 =$

⑯  $62 + 2 =$

⑰  $32 + 7 =$

⑱  $74 + 4 =$

(2けた)-(1けた)の  
けいさん

ねん くみ  
なまえ

/18

■ つぎのひきざんをしましょう。

①  $46 - 2 =$

②  $78 - 7 =$

③  $35 - 2 =$

④  $17 - 3 =$

⑤  $29 - 3 =$

⑥  $69 - 8 =$

⑦  $59 - 6 =$

⑧  $95 - 4 =$

⑨  $89 - 2 =$

⑩  $68 - 3 =$

⑪  $78 - 5 =$

⑫  $58 - 4 =$

⑬  $36 - 5 =$

⑭  $24 - 3 =$

⑮  $19 - 4 =$

⑯  $88 - 6 =$

⑰  $99 - 5 =$

⑱  $46 - 4 =$

(2けた)-(1けた)の  
けいさん

ねん くみ  
なまえ

/18

■ つぎのひきざんをしましょう。

①  $57 - 5 =$

②  $17 - 3 =$

③  $26 - 5 =$

④  $48 - 6 =$

⑤  $39 - 6 =$

⑥  $69 - 8 =$

⑦  $79 - 4 =$

⑧  $88 - 7 =$

⑨  $98 - 3 =$

⑩  $18 - 2 =$

⑪  $43 - 2 =$

⑫  $54 - 2 =$

⑬  $85 - 2 =$

⑭  $63 - 1 =$

⑮  $27 - 2 =$

⑯  $98 - 4 =$

⑰  $77 - 6 =$

⑱  $35 - 3 =$

# きごうをかきかえよう

ねん ぐみ  
なまえ

/ 2

■ リストをみて、きごうをかきかえましょう。

①

△	→	
+	→	□
/	→	◎
—	→	○
▽	→	×
\	→	◇

リスト

/	/	—
\	+	▽
△	+	△

→

◎	◎	○
◇	□	×
	□	

②

○	→	—
◇	→	□
▽	→	×
+	→	\
	→	/

リスト

+	○	
◇	○	◇
▽	▽	+

→

\	—	/
□	—	□
×	×	\

# きごうをかきかえよう

ねん くみ  
なまえ

/ 2

■ リストをみて、きごうをかきかえましょう。

①

▽	→	×
	→	△
＼	→	□
+	→	/

リスト

	＼	▽
＼		▽
+	▽	

→

△	□	×
□	△	×
/	×	△

②

—	→	△
▽	→	/
○	→	+
◎	→	×
□	→	
◇	→	＼

リスト

—	◎	□
—	—	◇
—	○	▽

→

△	×	
△	△	＼
△	+	/

# まほうじん

ねん くみ

なまえ

/ 4

■ まほうじん を つくりましょう。

まほうじんの  
ルール

- ・ 1から9までの かず を すべて 1かいつつ つかう。
- ・ たて、よこ、ななめ にならんだかずを たすと、すべて 15 になる。

①

2	7	6
9	5	1
4	3	8

②

2	9	4
7	5	3
6	1	8

③

6	7	2
1	5	9
8	3	4

④

6	1	8
7	5	3
2	9	4



# まほうじん

ねん くみ

なまえ

/ 4

■ まほうじん を つくりましょう。

まほうじんの  
ルール

- ・ 1から9までの かず を すべて 1かいつつ つかう。
- ・ たて、よこ、ななめ にならんだかずを たすと、すべて 15 になる。

①

6	7	2
1	5	9
8	3	4

②

4	9	2
3	5	7
8	1	6

③

6	1	8
7	5	3
2	9	4

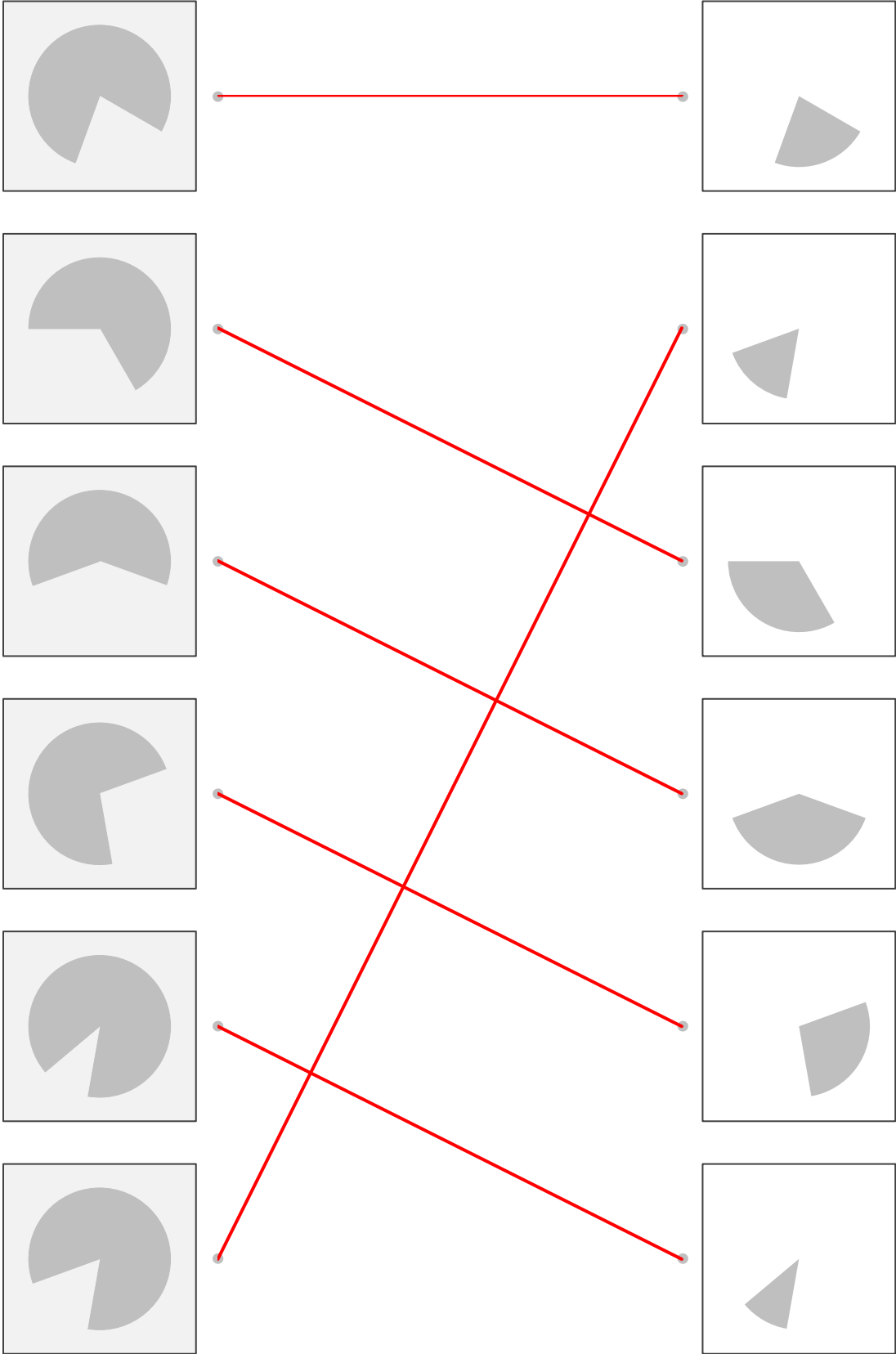
④

4	3	8
9	5	1
2	7	6

# ぴったりあうかたち

ねん くみ  
なまえ

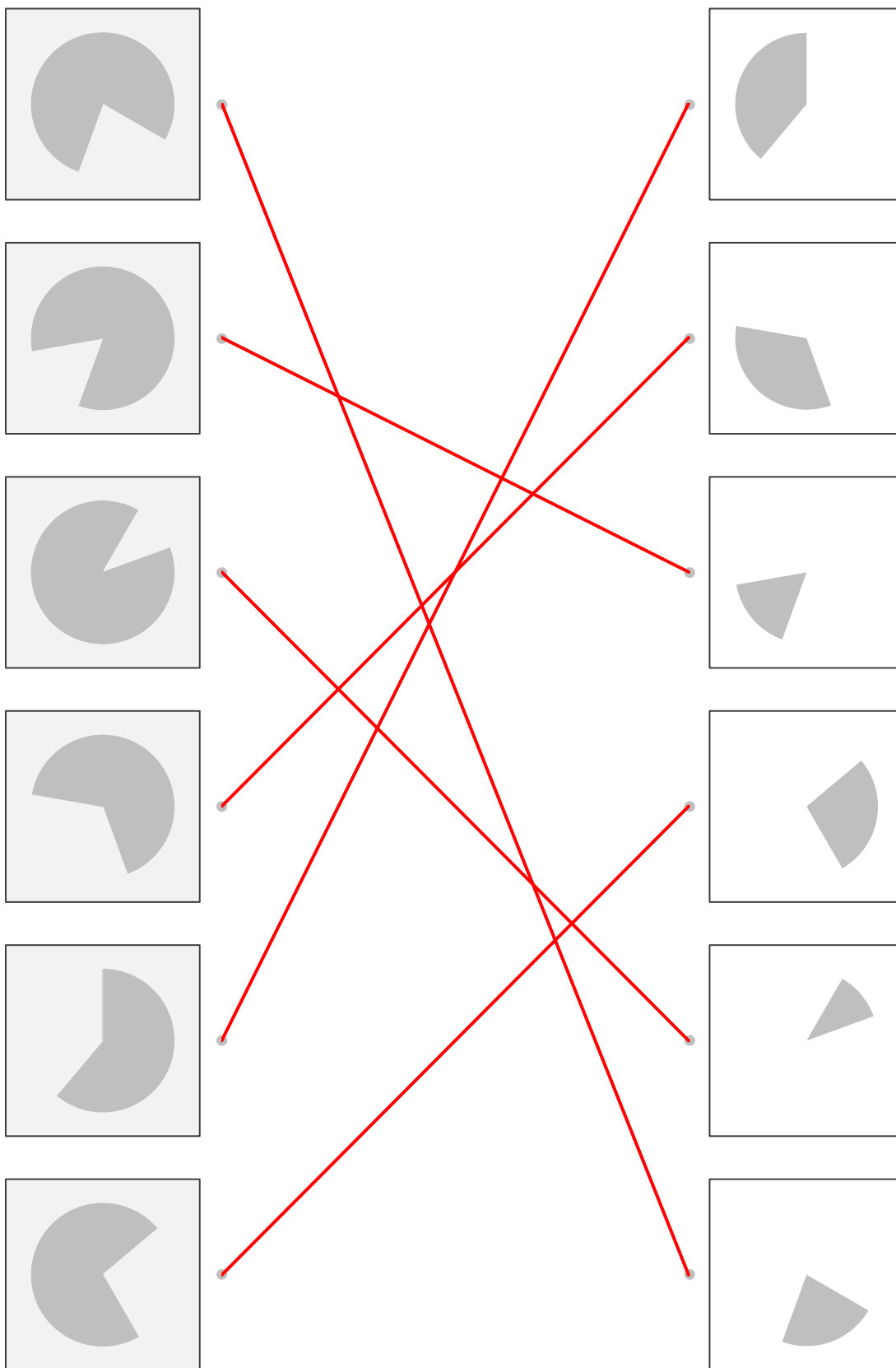
■ ぴったりあうかたちを せんで つなぎましょう。



# ぴったりあうかたち

ねん くみ  
なまえ

■ ぴったりあうかたちを せんで つなぎましょう。










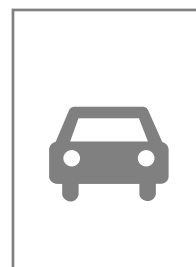




# カードさがし

ねん くみ  
なまえ

/ 3

■ 1まいしかないカードを みつけて、まる(○)をつけましょう。














# カードさがし

ねん くみ  
なまえ

/ 3

■ 1まいしかないカードを みつけて、まる(○)をつけましょう。



■ ?にはいるもの (まわしたときにおなじになるもの) を えらびましょう。

①

なかま

+	◎	◎	●	●	◆	?
◆	●	+	◆	◎	+	

+	◆	◎	◆	◎	●	◆	+
●	◎	●	+	◆	+	●	◎
( )	( )	( )	( )	( )	( )	( )	( )

②

なかま

×	□	□	◆	◇	×	?
◇	◆	×	◇	◆	□	

◆	×	◆	×	□	◇	◆	◇
◇	□	□	◇	◆	×	□	×
( )	( )	( )	( )	( )	( )	( )	( )


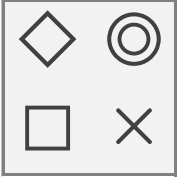
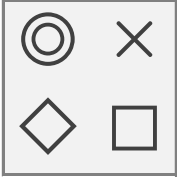

# なかまさがし



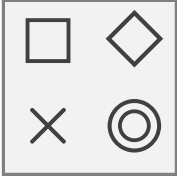
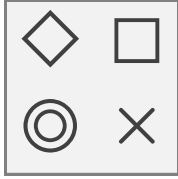
ねん くみ  
なまえ

■ ?にはいるもの (まわしたときにおなじになるもの) を えらびましょう。

①





なかま





			
---	---	--	---

 ( )	 ( )	 ( <span style="color: red;">○</span> )	 ( )
---	---	---	---

②

なかま

			
---	---	--	---

 ( <span style="color: red;">○</span> )	 ( )	 ( )	 ( )
---	--	---	--

# 100ますけいさん

ねん くみ  
なまえ

/99

■ うえとひだりのかずを たした こたえをかきましょう。

たし ざん	1	3	6	8	7	0	2	9	4	5
5	↓ 6	8	11	13	12	5	7	14	9	10
0	1	3	6	8	7	0	2	9	4	5
1	2	4	7	9	8	1	3	10	5	6
7	8	10	13	15	14	7	9	16	11	12
3	4	6	9	11	10	3	5	12	7	8
9	10	12	15	17	16	9	11	18	13	14
8	9	11	14	16	15	8	10	17	12	13
2	3	5	8	10	9	2	4	11	6	7
4	5	7	10	12	11	4	6	13	8	9
6	7	9	12	14	13	6	8	15	10	11



# 100ますけいさん

ねん くみ  
なまえ

/99

■ うえとひだりのかずを たした こたえをかきましょう。

たし ざん	6	5	7	0	1	3	8	9	4	2
0	↓ 6	5	7	0	1	3	8	9	4	2
6	→ 12	11	13	6	7	9	14	15	10	8
3	9	8	10	3	4	6	11	12	7	5
2	8	7	9	2	3	5	10	11	6	4
1	7	6	8	1	2	4	9	10	5	3
7	13	12	14	7	8	10	15	16	11	9
9	15	14	16	9	10	12	17	18	13	11
5	11	10	12	5	6	8	13	14	9	7
8	14	13	15	8	9	11	16	17	12	10
4	10	9	11	4	5	7	12	13	8	6

# 100ますけいさん

ねん くみ  
なまえ

/99

■ うえとひだりのかずを たした こたえをかきましょう。

たし ざん	3	4	2	5	6	0	9	7	8	1
9	↓ 12	13	11	14	15	9	18	16	17	10
7	10	11	9	12	13	7	16	14	15	8
8	11	12	10	13	14	8	17	15	16	9
1	4	5	3	6	7	1	10	8	9	2
6	9	10	8	11	12	6	15	13	14	7
0	3	4	2	5	6	0	9	7	8	1
2	5	6	4	7	8	2	11	9	10	3
4	7	8	6	9	10	4	13	11	12	5
5	8	9	7	10	11	5	14	12	13	6
3	6	7	5	8	9	3	12	10	11	4

なんじなんぶん

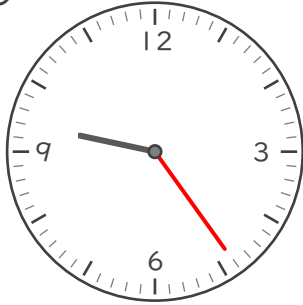
ねん くみ

なまえ


/ 8

■ ながい はりを かきましょう。

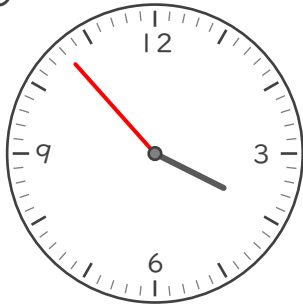
① 9じ 24ぶん



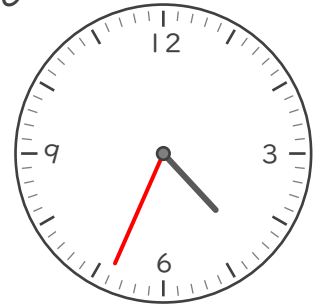
⑤ 12じ 10ぶん



② 3じ 53ぶん



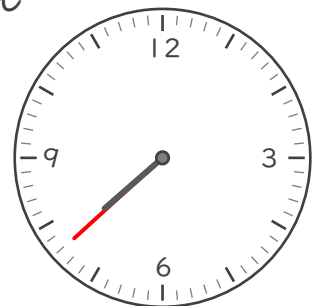
⑥ 4じ 34ぶん



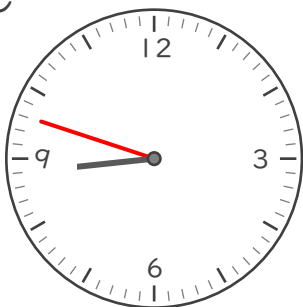
③ 11じ 7ぶん



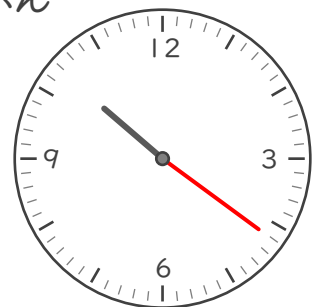
⑦ 7じ 38ぶん



④ 8じ 48ぶん



⑧ 10じ 21ぶん



なんじなんぶん


ねん くみ

なまえ

/ 8

■ ながいはりをかきましょう。

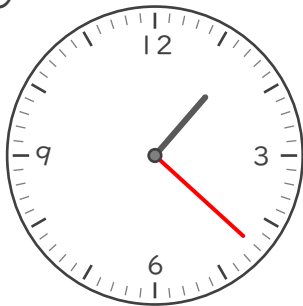
① 9じ 36ぶん



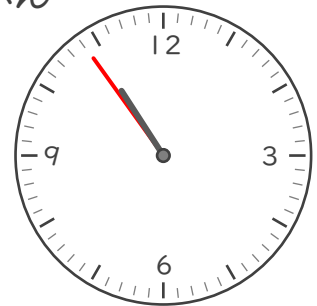
⑤ 2じ 3ぶん




② 1じ 22ぶん



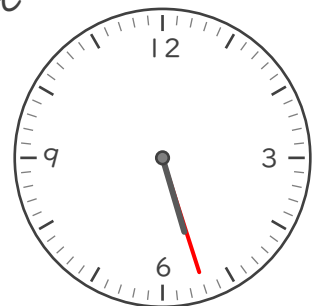
⑥ 10じ 54ぶん



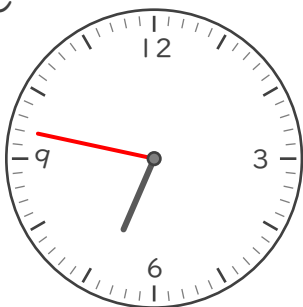
③ 12じ 14ぶん



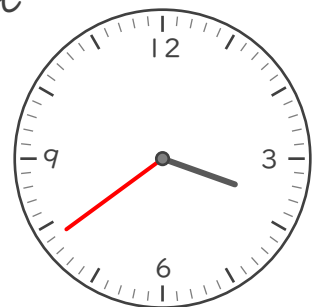
⑦ 5じ 27ぶん



④ 6じ 47ぶん



⑧ 3じ 39ぶん

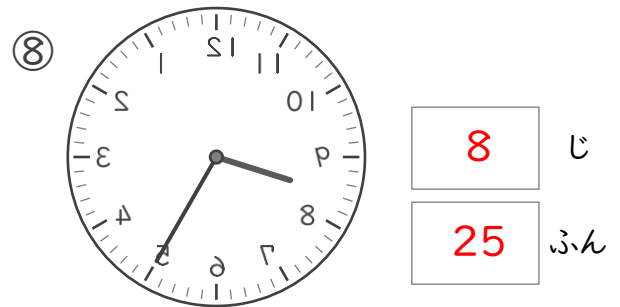
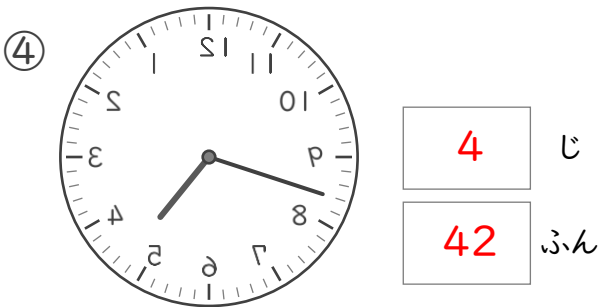
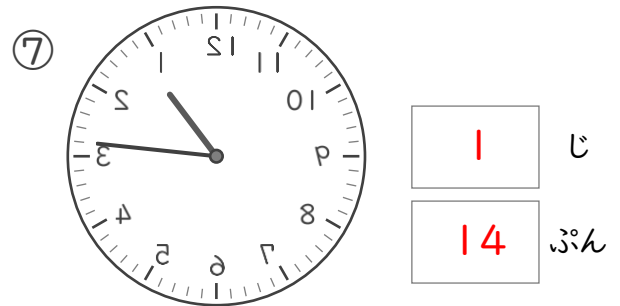
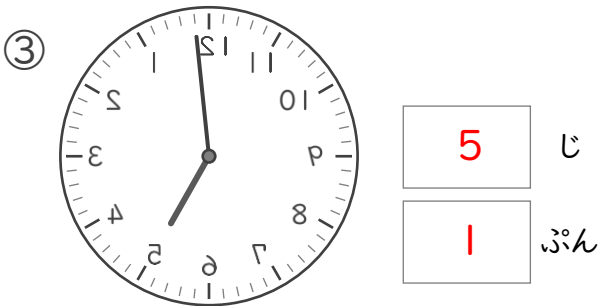
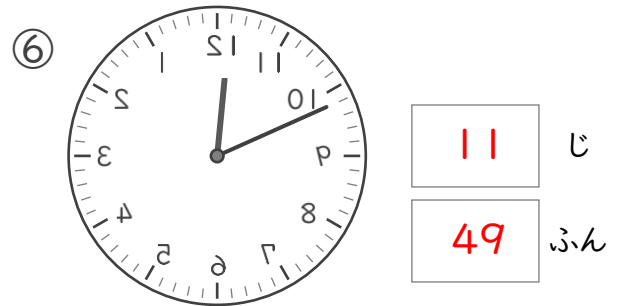
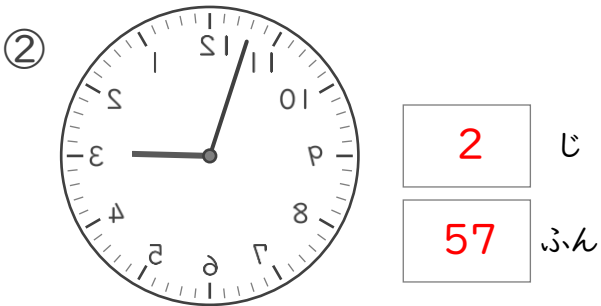
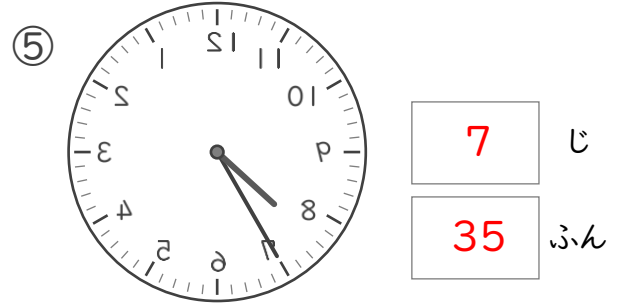
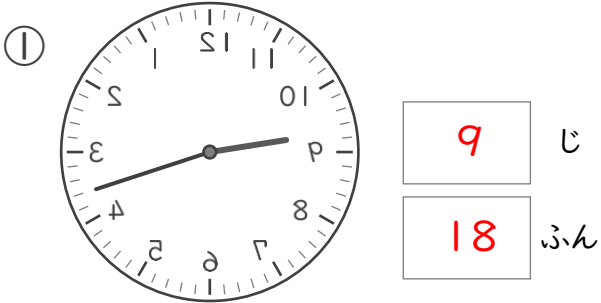


なんじなんぷん

ねん ぐみ  
なまえ

/ 8

■ かがみにうつったとけいがあります。このとけいをよみましょう。



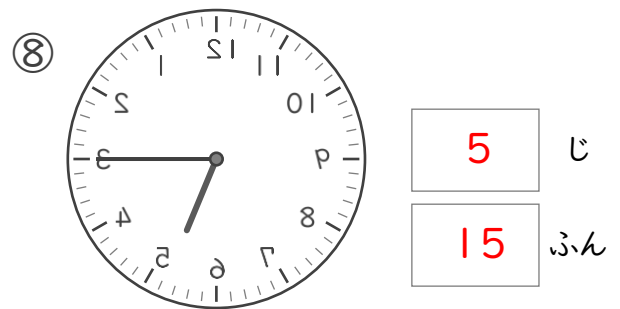
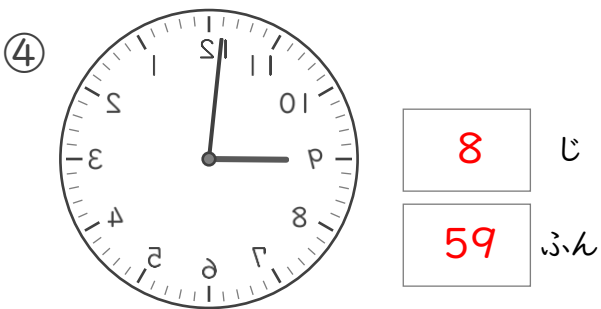
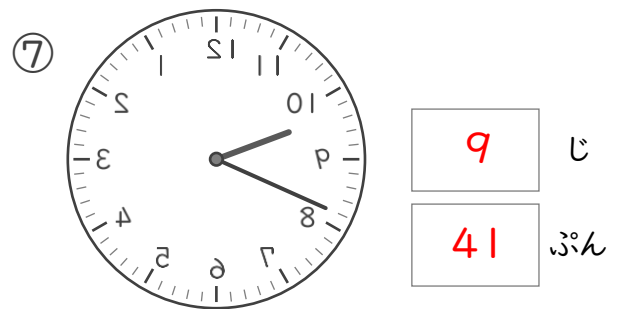
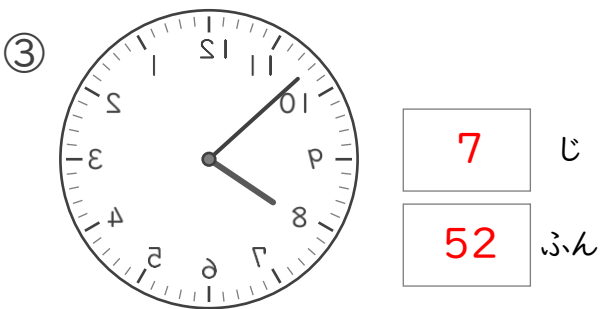
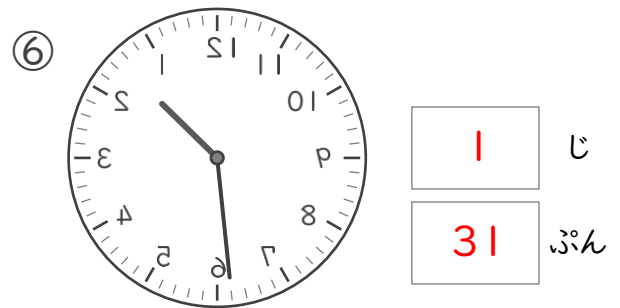
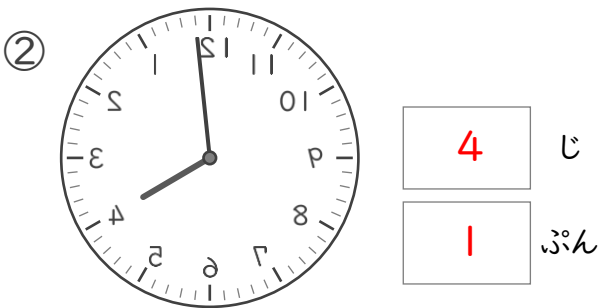
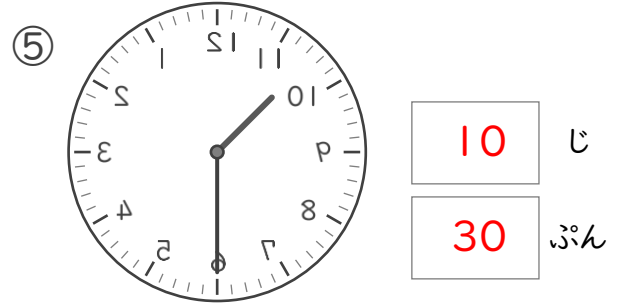
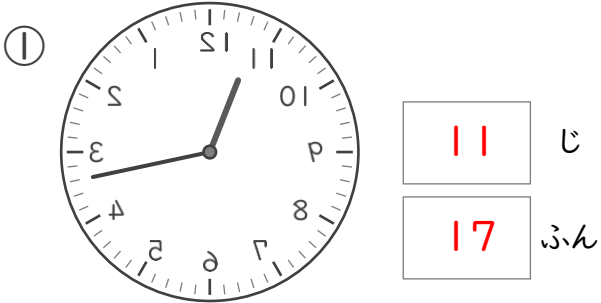
なんじなんぷん

ねん くみ

なまえ

/ 8

■ かがみにうつったとけいがあります。このとけいをよみましょう。





# なんじなんぷん


ねん くみ  
なまえ


/ 8


■ とけいを よみましょう。


①   じ  
 ぷん


⑤   じ  
 ぷん


②   じ  
 ぷん

⑥   じ  
 ぷん

③   じ  
 ぷん

⑦   じ  
 ぷん


④   じ  
 ぷん


⑧   じ  
 ぷん


なんじなんぷん


ねん くみ  
なまえ


■ とけいを よみましょう。


①   じ  
 ぷん


⑤   じ  
 ぷん


②   じ  
 ぷん

⑥   じ  
 ぷん

③   じ  
 ぷん

⑦   じ  
 ぷん

④   じ  
 ぷん

⑧   じ  
 ぷん





# なんじなんぷん


ねん くみ  
なまえ


/ 8


■ とけいを よみましょう。


①   じ  
 ぷん


⑤   じ  
 ぷん


②   じ  
 ぷん

⑥   じ  
 ぷん

③   じ  
 ぷん

⑦   じ  
 ぷん

④   じ  
 ぷん

⑧   じ  
 ぷん

■ つぎのたしざんをしましょう。

①  $70 + 10 = 80$

②  $30 + 30 = 60$

③  $20 + 70 = 90$

④  $40 + 20 = 60$

⑤  $90 + 10 = 100$

⑥  $20 + 20 = 40$

⑦  $40 + 50 = 90$

⑧  $30 + 70 = 100$

⑨  $40 + 40 = 80$

⑩  $30 + 40 = 70$

⑪  $60 + 40 = 100$

⑫  $30 + 20 = 50$

⑬  $30 + 60 = 90$

⑭  $20 + 60 = 80$

■ つぎのたしざんをしましょう。

①  $20 + 20 = 40$

②  $10 + 70 = 80$

③  $70 + 20 = 90$

④  $60 + 30 = 90$

⑤  $60 + 20 = 80$

⑥  $40 + 60 = 100$

⑦  $30 + 50 = 80$

⑧  $70 + 30 = 100$

⑨  $20 + 50 = 70$

⑩  $80 + 10 = 90$

⑪  $10 + 40 = 50$

⑫  $30 + 30 = 60$

⑬  $90 + 10 = 100$

⑭  $10 + 30 = 40$

■ つぎのひきざんをしましょう。

①  $90 - 50 = 40$

⑧  $40 - 10 = 30$

②  $80 - 40 = 40$

⑨  $40 - 20 = 20$

③  $30 - 20 = 10$

⑩  $60 - 20 = 40$

④  $100 - 40 = 60$

⑪  $80 - 20 = 60$

⑤  $80 - 30 = 50$

⑫  $100 - 10 = 90$

⑥  $90 - 70 = 20$

⑬  $100 - 50 = 50$

⑦  $90 - 30 = 60$

⑭  $70 - 60 = 10$

■ つぎのひきざんをしましょう。

①  $90 - 50 = 40$

⑧  $70 - 50 = 20$

②  $80 - 70 = 10$

⑨  $70 - 40 = 30$

③  $80 - 20 = 60$

⑩  $70 - 10 = 60$

④  $90 - 20 = 70$

⑪  $100 - 40 = 60$

⑤  $50 - 10 = 40$

⑫  $100 - 90 = 10$

⑥  $80 - 30 = 50$

⑬  $40 - 30 = 10$

⑦  $100 - 70 = 30$

⑭  $60 - 50 = 10$

(2けた)+(1けた)の  
けいさん

ねん くみ  
なまえ

/18

■ つぎのたしざんをしましょう。

①  $53 + 4 = 57$

②  $82 + 4 = 86$

③  $43 + 2 = 45$

④  $74 + 4 = 78$

⑤  $93 + 6 = 99$

⑥  $64 + 5 = 69$

⑦  $31 + 8 = 39$

⑧  $17 + 2 = 19$

⑨  $25 + 2 = 27$

⑩  $54 + 3 = 57$

⑪  $75 + 4 = 79$

⑫  $22 + 6 = 28$

⑬  $15 + 3 = 18$

⑭  $81 + 6 = 87$

⑮  $36 + 3 = 39$

⑯  $63 + 5 = 68$

⑰  $92 + 2 = 94$

⑱  $43 + 3 = 46$

(2けた)+(1けた)の  
けいさん

ねん くみ  
なまえ

/18

■ つぎのたしざんをしましょう。

①  $81 + 4 = 85$

②  $61 + 2 = 63$

③  $41 + 5 = 46$

④  $73 + 4 = 77$

⑤  $32 + 4 = 36$

⑥  $91 + 3 = 94$

⑦  $14 + 5 = 19$

⑧  $24 + 2 = 26$

⑨  $53 + 2 = 55$

⑩  $83 + 6 = 89$

⑪  $52 + 6 = 58$

⑫  $95 + 2 = 97$

⑬  $25 + 3 = 28$

⑭  $41 + 7 = 48$

⑮  $11 + 8 = 19$

⑯  $62 + 2 = 64$

⑰  $32 + 7 = 39$

⑱  $74 + 4 = 78$

(2けた)-(1けた)の  
けいさん

ねん くみ  
なまえ

/18

■ つぎのひきざんをしましょう。

①  $46 - 2 = 44$

②  $78 - 7 = 71$

③  $35 - 2 = 33$

④  $17 - 3 = 14$

⑤  $29 - 3 = 26$

⑥  $69 - 8 = 61$

⑦  $59 - 6 = 53$

⑧  $95 - 4 = 91$

⑨  $89 - 2 = 87$

⑩  $68 - 3 = 65$

⑪  $78 - 5 = 73$

⑫  $58 - 4 = 54$

⑬  $36 - 5 = 31$

⑭  $24 - 3 = 21$

⑮  $19 - 4 = 15$

⑯  $88 - 6 = 82$

⑰  $99 - 5 = 94$

⑱  $46 - 4 = 42$



(2けた)-(1けた)の  
けいさん

ねん くみ  
なまえ

/18

■ つぎのひきざんをしましょう。

①  $57 - 5 = 52$

②  $17 - 3 = 14$

③  $26 - 5 = 21$

④  $48 - 6 = 42$

⑤  $39 - 6 = 33$

⑥  $69 - 8 = 61$

⑦  $79 - 4 = 75$

⑧  $88 - 7 = 81$

⑨  $98 - 3 = 95$

⑩  $18 - 2 = 16$

⑪  $43 - 2 = 41$

⑫  $54 - 2 = 52$

⑬  $85 - 2 = 83$

⑭  $63 - 1 = 62$

⑮  $27 - 2 = 25$

⑯  $98 - 4 = 94$

⑰  $77 - 6 = 71$

⑱  $35 - 3 = 32$