

きょうざい  
教材おきば の

これだけ、あんしん安心

さんすう  
算数ドリル

2 - 10

Light

小学2年生

もくじ

① 時こく 後の時こく	1 ページ
② 時こく 前の時こく	1 ページ
③ 間の時間	1 ページ
④ 百をこえる数 数字をかんに	1 ページ
⑤ 2けたのたし算とひき算のひっ算	1 ページ
⑥ かけ算の文章問題	1 ページ
⑦ かけ算をつかって 丸をかぞえる	1 ページ
⑧ たし算とかけ算のかんけい 2~5 のだん	1 ページ
⑨ たし算とかけ算のかんけい 6~9 のだん	1 ページ
⑩ 10~13 をかける	1 ページ
⑪ 10~19 のだんを考える	2 ページ
⑫ 図をつかって考えよう(3) ちがいをみて	2 ページ
合計	14 ページ

■ つぎの時こくをこたえましょう。

① 3時40分 の 10分後 の時こく

時	分
---	---

② 1時5分 の 30分後 の時こく

時	分
---	---

③ 11時10分 の 30分後 の時こく

時	分
---	---

④ 7時40分 の 15分後 の時こく

時	分
---	---

⑤ 5時35分 の 5分後 の時こく

時	分
---	---

⑥ 2時25分 の 5分後 の時こく

時	分
---	---

⑦ 6時45分 の 5分後 の時こく

時	分
---	---

⑧ 4時15分 の 20分後 の時こく

時	分
---	---

⑨ 1時20分 の 15分後 の時こく

時	分
---	---

⑩ 9時30分 の 20分後 の時こく

時	分
---	---

⑪ 12時15分 の 25分後 の時こく

時	分
---	---

⑫ 3時10分 の 25分後 の時こく

時	分
---	---

⑬ 8時5分 の 45分後 の時こく

時	分
---	---

⑭ 5時30分 の 15分後 の時こく

時	分
---	---

⑮ 10時20分 の 20分後 の時こく

時	分
---	---

⑯ 6時25分 の 10分後 の時こく

時	分
---	---

⑰ 11時45分 の 10分後 の時こく

時	分
---	---

⑱ 2時35分 の 20分後 の時こく

時	分
---	---

■ つぎの時こくをこたえましょう。

① 10時35分 の 10分前 の時こく

時	分
---	---

② 1時20分 の 15分前 の時こく

時	分
---	---

③ 7時50分 の 35分前 の時こく

時	分
---	---

④ 9時50分 の 20分前 の時こく

時	分
---	---

⑤ 3時30分 の 5分前 の時こく

時	分
---	---

⑥ 8時30分 の 20分前 の時こく

時	分
---	---

⑦ 12時35分 の 15分前 の時こく

時	分
---	---

⑧ 1時25分 の 5分前 の時こく

時	分
---	---

⑨ 2時25分 の 10分前 の時こく

時	分
---	---

⑩ 10時40分 の 15分前 の時こく

時	分
---	---

⑪ 2時40分 の 10分前 の時こく

時	分
---	---

⑫ 4時20分 の 10分前 の時こく

時	分
---	---

⑬ 3時15分 の 10分前 の時こく

時	分
---	---

⑭ 12時45分 の 25分前 の時こく

時	分
---	---

⑮ 7時45分 の 20分前 の時こく

時	分
---	---

⑯ 9時55分 の 30分前 の時こく

時	分
---	---

⑰ 8時55分 の 15分前 の時こく

時	分
---	---

⑱ 5時15分 の 5分前 の時こく

時	分
---	---

# 間の時間

年 組 名前

/18

■ つぎの時間をこたえましょう。

① 5時5分 と 5時15分 の間の時間

 分

② 7時25分 と 7時30分 の間の時間

 分

③ 10時40分 と 10時55分 の間の時間

 分

④ 8時15分 と 8時30分 の間の時間

 分

⑤ 3時15分 と 3時35分 の間の時間

 分

⑥ 1時35分 と 1時40分 の間の時間

 分

⑦ 9時10分 と 9時35分 の間の時間

 分

⑧ 3時25分 と 3時55分 の間の時間

 分

⑨ 2時5分 と 2時20分 の間の時間

 分

⑩ 9時40分 と 9時50分 の間の時間

 分

⑪ 6時30分 と 6時35分 の間の時間

 分

⑫ 4時45分 と 4時50分 の間の時間

 分

⑬ 6時45分 と 6時55分 の間の時間

 分

⑭ 12時20分 と 12時25分 の間の時間

 分

⑮ 11時20分 と 11時40分 の間の時間

 分

⑯ 2時30分 と 2時50分 の間の時間

 分

⑰ 1時10分 と 1時50分 の間の時間

 分

⑱ 12時35分 と 12時55分 の間の時間

 分

# 百をこえる数

ねん くみ  
なまえ

/14

■ 次の数字でかかれた数をかん字でかきましょう。

① 224

② 457

③ 395

④ 311

⑤ 251

⑥ 789

⑦ 144

⑧ 110

⑨ 610

⑩ 934

⑪ 967

⑫ 287

⑬ 473

⑭ 806

# たし算とひき算 のひっ算

ねん くみ  
名まえ

/12

■ つぎのたし算やひき算をしましょう。

①		5	5
	+	1	1

②		7	1
	-	3	4

③		7	7
	+	3	3

④		8	0
	-	5	9

⑤		5	0
	-	1	7

⑥		9	2
	+	5	2

⑦		8	9
	-	1	4

⑧		9	7
	+	5	1

⑨		9	3
	-	1	5

⑩		6	3
	-	4	8

⑪		3	8
	+	3	4

⑫		9	6
	+	5	4

# かけ算をつかって

年 組 名前

/ 7

■ かけ算の式をたててこたえましょう。

① 3人のグループを7くみ 作りしました。

みんなで何人いますか。

(式)

② みかんが8こはいったかごが2こ あります。

みかんはぜんぶで何こ ありますか。

(式)

③ ももが2こ 入ったはこが5こ あります。

ももはぜんぶで何こ ありますか。

(式)

④ 1はこに6こ のたいやきが入ったはこが4こ あります。

たいやきはぜんぶで何こ ありますか。

(式)

⑤ 長いす が9つ あります。

1つ の 長いす に9人 ずつすわるとき、みんなで何人すわれますか。

(式)

⑥ チョコレートを4こ ずつ6人にくばります。

チョコレートはぜんぶで何こ いらいますか。

(式)

⑦ 1人分のパンケーキをつくるのに、たまごを5こ つかいます。

8人分 のパンケーキをつくるには、たまごは何こ いらいますか。

(式)


# かけ算をつかって

年 組 名前

/ 6

■ かけ算をつかって、丸(○)の数をかぞえましょう。

①



(式)

④




(式)

②




(式)

⑤




(式)

③



(式)

⑥



(式)



# たし算とかけ算

年 組 名前

/ 7

■ つぎのたし算の答えをかけ算をつかって考えましょう。

①  $3 + 3 + 3 + 3 + 3 + 3 + 3 + 3$

(式)

答え

②  $4 + 4 + 4 + 4 + 4 + 4 + 4$

(式)

答え

③  $2 + 2 + 2 + 2$

(式)

答え

④  $5 + 5 + 5$

(式)

答え

⑤  $4 + 4 + 4 + 4 + 4 + 4 + 4 + 4 + 4$

(式)

答え

⑥  $5 + 5 + 5 + 5 + 5 + 5$

(式)

答え

⑦  $3 + 3 + 3 + 3 + 3$

(式)

答え

# たし算とかけ算

年 組 名前

/ 7

■ つぎのたし算の答えをかけ算をつかって考えましょう。

①  $7 + 7 + 7 + 7 + 7 + 7 + 7 + 7$

(式)

答え

②  $9 + 9 + 9 + 9 + 9$

(式)

答え

③  $6 + 6 + 6 + 6 + 6 + 6 + 6$

(式)

答え

④  $8 + 8 + 8$

(式)

答え

⑤  $9 + 9 + 9 + 9 + 9 + 9 + 9 + 9 + 9$

(式)

答え

⑥  $7 + 7 + 7 + 7 + 7 + 7$

(式)

答え

⑦  $6 + 6 + 6 + 6$

(式)

答え







# 図をつかって考えよう

年 組 名前

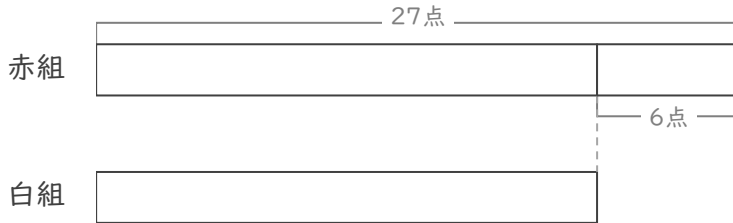
/ 3

■ 図を見て考えましょう。

① 赤組と白組でとく点をきそっています。

赤組は、白組より6点 多いそうです。

赤組は 27点 です。白組は何点ですか。



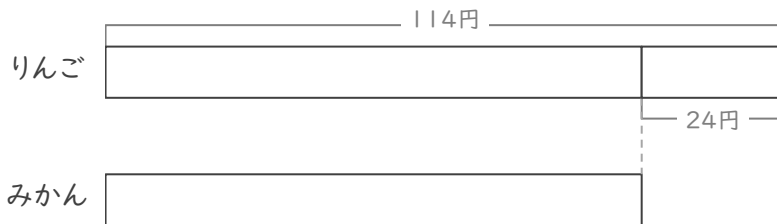
(式)

点

② りんごとみかんを買います。

りんごは、みかんより 24円 高いそうです。

りんごは 114円 です。みかんは何円ですか。



(式)

円

③ 白色のリボンと青色のリボンがあります。

白色のリボンは、青色のリボンより 42cm 長いそうです。

白色のリボンは 109cm です。青色のリボンは何cmですか。



(式)

cm

# 図をつかって考えよう

年 組 名前

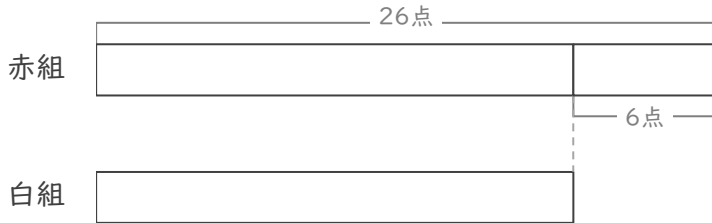
/ 3

■ 図を見て考えましょう。

① 赤組と白組でとく点をきそっています。

赤組は、白組より6点 多いそうです。

赤組は 26点 です。白組は何点ですか。



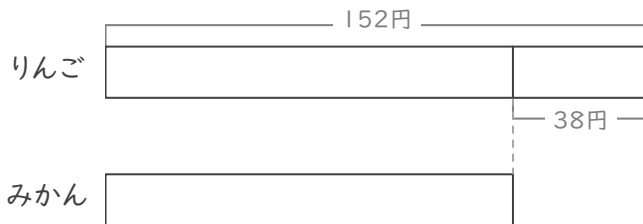
(式)

点

② りんごとみかんを買います。

りんごは、みかんより 38円 高いそうです。

りんごは 152円 です。みかんは何円ですか。



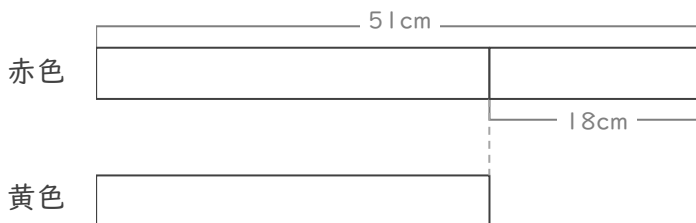
(式)

円

③ 赤色のリボンと黄色のリボンがあります。

赤色のリボンは、黄色のリボンより 18cm 長いそうです。

赤色のリボンは 51cm です。黄色のリボンは何cmですか。



(式)

cm

■ つぎの時こくをこたえましょう。

① 3時40分 の 10分後 の時こく

3 時 50 分

② 1時5分 の 30分後 の時こく

1 時 35 分

③ 11時10分 の 30分後 の時こく

11 時 40 分

④ 7時40分 の 15分後 の時こく

7 時 55 分

⑤ 5時35分 の 5分後 の時こく

5 時 40 分

⑥ 2時25分 の 5分後 の時こく

2 時 30 分

⑦ 6時45分 の 5分後 の時こく

6 時 50 分

⑧ 4時15分 の 20分後 の時こく

4 時 35 分

⑨ 1時20分 の 15分後 の時こく

1 時 35 分

⑩ 9時30分 の 20分後 の時こく

9 時 50 分

⑪ 12時15分 の 25分後 の時こく

12 時 40 分

⑫ 3時10分 の 25分後 の時こく

3 時 35 分

⑬ 8時5分 の 45分後 の時こく

8 時 50 分

⑭ 5時30分 の 15分後 の時こく

5 時 45 分

⑮ 10時20分 の 20分後 の時こく

10 時 40 分

⑯ 6時25分 の 10分後 の時こく

6 時 35 分

⑰ 11時45分 の 10分後 の時こく

11 時 55 分

⑱ 2時35分 の 20分後 の時こく

2 時 55 分



■ つぎの時こくをこたえましょう。

① 10時35分 の 10分前 の時こく

10 時 25 分

② 1時20分 の 15分前 の時こく

1 時 5 分

③ 7時50分 の 35分前 の時こく

7 時 15 分

④ 9時50分 の 20分前 の時こく

9 時 30 分

⑤ 3時30分 の 5分前 の時こく

3 時 25 分

⑥ 8時30分 の 20分前 の時こく

8 時 10 分

⑦ 12時35分 の 15分前 の時こく

12 時 20 分

⑧ 1時25分 の 5分前 の時こく

1 時 20 分

⑨ 2時25分 の 10分前 の時こく

2 時 15 分

⑩ 10時40分 の 15分前 の時こく

10 時 25 分

⑪ 2時40分 の 10分前 の時こく

2 時 30 分

⑫ 4時20分 の 10分前 の時こく

4 時 10 分

⑬ 3時15分 の 10分前 の時こく

3 時 5 分

⑭ 12時45分 の 25分前 の時こく

12 時 20 分

⑮ 7時45分 の 20分前 の時こく

7 時 25 分

⑯ 9時55分 の 30分前 の時こく

9 時 25 分

⑰ 8時55分 の 15分前 の時こく

8 時 40 分

⑱ 5時15分 の 5分前 の時こく

5 時 10 分

# 間の時間

年 組 名前

/18

■ つぎの時間をこたえましょう。

① 5時5分 と 5時15分 の間の時間

10 分

② 7時25分 と 7時30分 の間の時間

5 分

③ 10時40分 と 10時55分 の間の時間

15 分

④ 8時15分 と 8時30分 の間の時間

15 分

⑤ 3時15分 と 3時35分 の間の時間

20 分

⑥ 1時35分 と 1時40分 の間の時間

5 分

⑦ 9時10分 と 9時35分 の間の時間

25 分

⑧ 3時25分 と 3時55分 の間の時間

30 分

⑨ 2時5分 と 2時20分 の間の時間

15 分

⑩ 9時40分 と 9時50分 の間の時間

10 分

⑪ 6時30分 と 6時35分 の間の時間

5 分

⑫ 4時45分 と 4時50分 の間の時間

5 分

⑬ 6時45分 と 6時55分 の間の時間

10 分

⑭ 12時20分 と 12時25分 の間の時間

5 分

⑮ 11時20分 と 11時40分 の間の時間

20 分

⑯ 2時30分 と 2時50分 の間の時間

20 分

⑰ 1時10分 と 1時50分 の間の時間

40 分

⑱ 12時35分 と 12時55分 の間の時間

20 分

# 百をこえる数

ねん くみ  
なまえ

/14

■ 次の数字でかかれた数をかん字でかきましょう。

① 224

二百二十四

② 457

四百五十七

③ 395

三百九十五

④ 311

三百十一

⑤ 251

二百五十一

⑥ 789

七百八十九

⑦ 144

百四十四

⑧ 110

百十

⑨ 610

六百十

⑩ 934

九百三十四

⑪ 967

九百六十七

⑫ 287

二百八十七

⑬ 473

四百七十三

⑭ 806

八百六

# たし算とひき算 のひっ算

ねん くみ  
名まえ

/12

■ つぎのたし算やひき算をしましょう。

①		5	5
	+	1	1
		6	6

②		7	1
	-	3	4
		3	7

③		7	7
	+	3	3
		1	1
		0	

④		8	0
	-	5	9
		2	1

⑤		5	0
	-	1	7
		3	3

⑥		9	2
	+	5	2
		1	4
		4	

⑦		8	9
	-	1	4
		7	5

⑧		9	7
	+	5	1
		1	4
		8	

⑨		9	3
	-	1	5
		7	8

⑩		6	3
	-	4	8
		1	5

⑪		3	8
	+	3	4
		7	2

⑫		9	6
	+	5	4
		1	5
		0	

# かけ算をつかって

年 組 名前

/7

■ かけ算の式をたててこたえましょう。

- ① 3人のグループを7くみ つけました。

みんなで何人いますか。

(式)

$$3 \times 7 = 21$$

21人

- ② みかんが8こはいった かごが2こ あります。

みかんはぜんぶで何こ ありますか。

(式)

$$8 \times 2 = 16$$

16こ

- ③ ももが2こ 入ったはこが5こ あります。

ももはぜんぶで何こ ありますか。

(式)

$$2 \times 5 = 10$$

10こ

- ④ 1はこに6こ のたいやきが入ったはこが4こ あります。

たいやきはぜんぶで何こ ありますか。

(式)

$$6 \times 4 = 24$$

24こ

- ⑤ 長いす が9つ あります。

1つの 長いす に9人 ずつすわるとき、みんなで何人すわれますか。

(式)

$$9 \times 9 = 81$$

81人

- ⑥ チョコレートを4こ ずつ6人にくばります。

チョコレートはぜんぶで何こ いらいますか。

(式)

$$4 \times 6 = 24$$

24こ

- ⑦ 1人分のパンケーキをつくるのに、たまごを5こ つかいます。

8人分 のパンケーキをつくるには、たまごは何こ いらいますか。

(式)

$$5 \times 8 = 40$$

40こ


# かけ算をつかって

年 組 名前

/ 6

■ かけ算をつかって、丸(○)の数をかぞえましょう。

①




(式)

$$7 \times 2 = 14$$

14 こ

④




(式)

$$9 \times 3 = 27$$

27 こ

②




(式)

$$3 \times 5 = 15$$

15 こ

⑤




(式)

$$6 \times 7 = 42$$

42 こ

③




(式)

$$5 \times 4 = 20$$

20 こ

⑥



(式)

$$8 \times 9 = 72$$

72 こ

■ つぎの たし算の答えを かけ算をつかって考えましょう。

①  $3 + 3 + 3 + 3 + 3 + 3 + 3 + 3$

(式)

$$3 \times 8 = 24$$

答え

24

②  $4 + 4 + 4 + 4 + 4 + 4 + 4$

(式)

$$4 \times 7 = 28$$

答え

28

③  $2 + 2 + 2 + 2$

(式)

$$2 \times 4 = 8$$

答え

8

④  $5 + 5 + 5$

(式)

$$5 \times 3 = 15$$

答え

15

⑤  $4 + 4 + 4 + 4 + 4 + 4 + 4 + 4 + 4$

(式)

$$4 \times 9 = 36$$

答え

36

⑥  $5 + 5 + 5 + 5 + 5 + 5$

(式)

$$5 \times 6 = 30$$

答え

30

⑦  $3 + 3 + 3 + 3 + 3$

(式)

$$3 \times 5 = 15$$

答え

15

■ つぎのたし算の答えをかけ算をつかって考えましょう。

①  $7 + 7 + 7 + 7 + 7 + 7 + 7 + 7$

(式)

$$7 \times 8 = 56$$

答え

56

②  $9 + 9 + 9 + 9 + 9$

(式)

$$9 \times 5 = 45$$

答え

45

③  $6 + 6 + 6 + 6 + 6 + 6 + 6$

(式)

$$6 \times 7 = 42$$

答え

42

④  $8 + 8 + 8$

(式)

$$8 \times 3 = 24$$

答え

24

⑤  $9 + 9 + 9 + 9 + 9 + 9 + 9 + 9 + 9$

(式)

$$9 \times 9 = 81$$

答え

81

⑥  $7 + 7 + 7 + 7 + 7 + 7$

(式)

$$7 \times 6 = 42$$

答え

42

⑦  $6 + 6 + 6 + 6$

(式)

$$6 \times 4 = 24$$

答え

24



# 九九を広げて

年 組 名前

/ 36

■ 下のひょうにあてはまる数をかきましょう。

## ① 3 のだん

	かける数									
	5	6	7	8	9	10	11	12	13	
かけられる数	3	15	18	21	24	27	30	33	36	39

3をたす

## ② 4 のだん

	かける数									
	5	6	7	8	9	10	11	12	13	
かけられる数	4	20	24	28	32	36	40	44	48	52

4をたす

## ③ 5 のだん

	かける数									
	5	6	7	8	9	10	11	12	13	
かけられる数	5	25	30	35	40	45	50	55	60	65

5をたす

## ④ 8 のだん

	かける数									
	5	6	7	8	9	10	11	12	13	
かけられる数	8	40	48	56	64	72	80	88	96	104

8をたす

# 九九を広げて

年 組 名前

/ 36

■ 下のひょうにあてはまる数をかきましょう。

## ① 10 のだん

	かける数									
	1	2	3	4	5	6	7	8	9	
かけられる数	10	10	20	30	40	50	60	70	80	90

10をたす

## ② 11 のだん

	かける数									
	1	2	3	4	5	6	7	8	9	
かけられる数	11	11	22	33	44	55	66	77	88	99

11をたす

## ③ 16 のだん

	かける数									
	1	2	3	4	5	6	7	8	9	
かけられる数	16	16	32	48	64	80	96	112	128	144

16をたす

## ④ 18 のだん

	かける数									
	1	2	3	4	5	6	7	8	9	
かけられる数	18	18	36	54	72	90	108	126	144	162

18をたす

# 九九を広げて

年 組 名前

/ 36

■ 下のひょうにあてはまる数をかきましょう。

## ① 13 のだん

	かける数									
	1	2	3	4	5	6	7	8	9	
かけられる数	13	13	26	39	52	65	78	91	104	117

13をたす

## ② 14 のだん

	かける数									
	1	2	3	4	5	6	7	8	9	
かけられる数	14	14	28	42	56	70	84	98	112	126

14をたす

## ③ 15 のだん

	かける数									
	1	2	3	4	5	6	7	8	9	
かけられる数	15	15	30	45	60	75	90	105	120	135

15をたす

## ④ 18 のだん

	かける数									
	1	2	3	4	5	6	7	8	9	
かけられる数	18	18	36	54	72	90	108	126	144	162

18をたす

# 図をつかって考えよう

年 組 名前

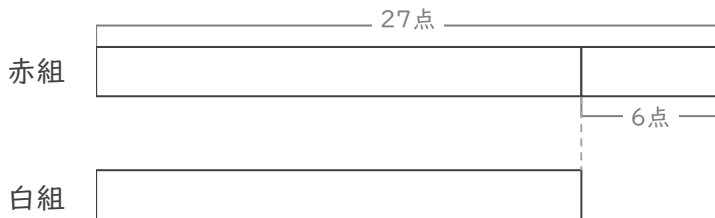
/ 3

■ 図を見て考えましょう。

① 赤組と白組でとく点をきそっています。

赤組は、白組より6点 多いそうです。

赤組は27点 です。白組は何点ですか。



(式)

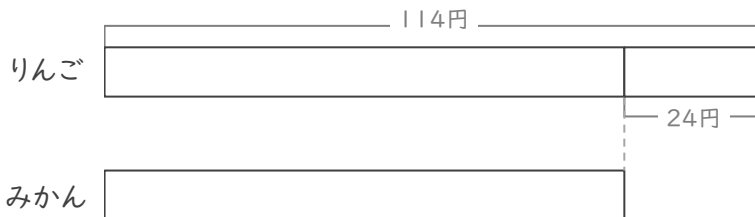
$$27 - 6 = 21$$

21 点

② りんごとみかんを買います。

りんごは、みかんより24円 高いそうです。

りんごは114円 です。みかんは何円ですか。



(式)

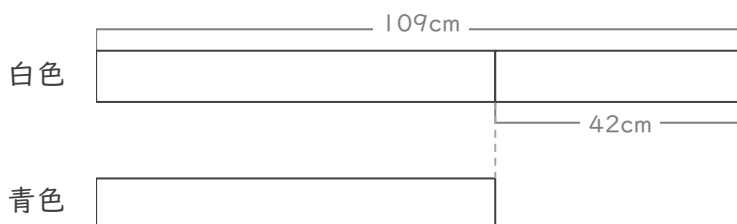
$$114 - 24 = 90$$

90 円

③ 白色のリボンと青色のリボンがあります。

白色のリボンは、青色のリボンより42cm 長いそうです。

白色のリボンは109cm です。青色のリボンは何cmですか。



(式)

$$109 - 42 = 67$$

67 cm

# 図をつかって考えよう

年 組 名前

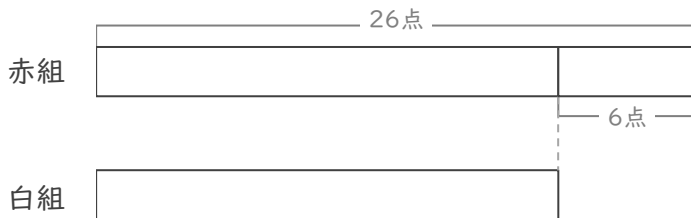
/ 3

■ 図を見て考えましょう。

① 赤組と白組でとく点をきそっています。

赤組は、白組より6点 多いそうです。

赤組は 26点 です。白組は何点ですか。



(式)

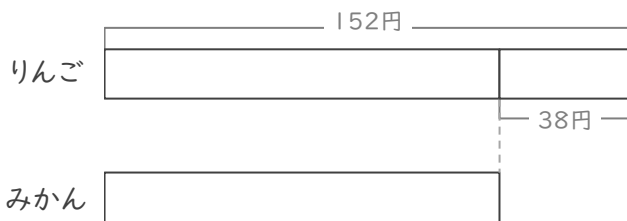
$$26 - 6 = 20$$

20 点

② りんごとみかんを買います。

りんごは、みかんより 38円 高いそうです。

りんごは 152円 です。みかんは何円ですか。



(式)

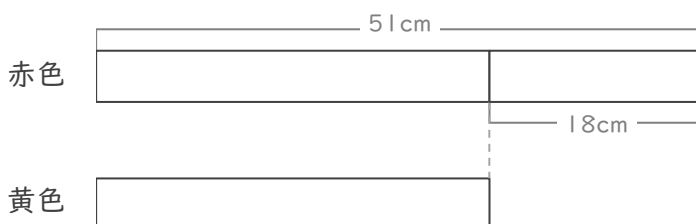
$$152 - 38 = 114$$

114 円

③ 赤色のリボンと黄色のリボンがあります。

赤色のリボンは、黄色のリボンより 18cm 長いそうです。

赤色のリボンは 51cm です。黄色のリボンは何cmですか。



(式)

$$51 - 18 = 33$$

33 cm