

きょうざい
教材おきば の

これだけ、あんしん安心

さんすう
算数ドリル

2 - 1 3

Light

小学2年生

もくじ

① 時こく	1 ページ
② 間の時間 時計のはりをよんで	1 ページ
③ (2けた)+(1けた)のけい算 十の位が変わる	1 ページ
④ (2けた)-(1けた)のけい算 十の位が変わる	1 ページ
⑤ 長さのひき算 センチメートルとミリメートル	1 ページ
⑥ 3つの数のたし算のひっ算	1 ページ
⑦ 81ます計算 かけ算	1 ページ
⑧ 九九の表をうめよう	1 ページ
⑨ 三角形と四角形	1 ページ
⑩ 図をつかって考えよう(3) ちがいをみて	1 ページ
⑪ 10~13 をかける	2 ページ
⑫ 10~19 のだんを考える	2 ページ
合計	14 ページ

時こく

年 組 名前

/18

■ つぎの時こくをこたえましょう。

① 9時5分 の 45分後 の時こく

時	分
---	---

② 12時40分 の 20分前 の時こく

時	分
---	---

③ 2時5分 の 30分後 の時こく

時	分
---	---

④ 4時15分 の 5分前 の時こく

時	分
---	---

⑤ 2時30分 の 10分後 の時こく

時	分
---	---

⑥ 11時30分 の 10分前 の時こく

時	分
---	---

⑦ 7時30分 の 5分後 の時こく

時	分
---	---

⑧ 9時50分 の 15分前 の時こく

時	分
---	---

⑨ 5時20分 の 10分前 の時こく

時	分
---	---

⑩ 3時25分 の 10分後 の時こく

時	分
---	---

⑪ 8時35分 の 20分後 の時こく

時	分
---	---

⑫ 5時45分 の 5分後 の時こく

時	分
---	---

⑬ 5時55分 の 10分前 の時こく

時	分
---	---

⑭ 10時20分 の 25分後 の時こく

時	分
---	---

⑮ 3時40分 の 25分前 の時こく

時	分
---	---

⑯ 12時40分 の 10分後 の時こく

時	分
---	---

⑰ 11時45分 の 5分前 の時こく

時	分
---	---

⑱ 6時35分 の 20分前 の時こく

時	分
---	---

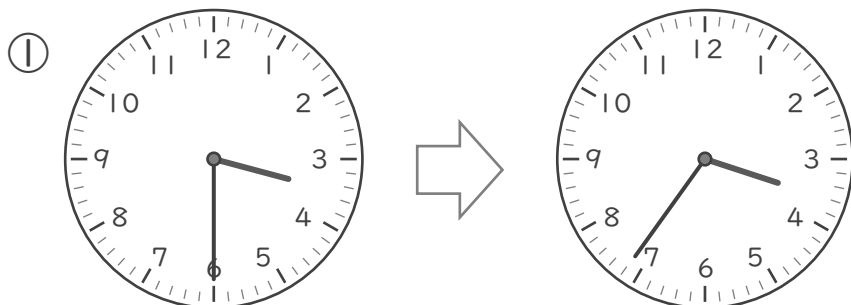
間の時間

ねん くみ

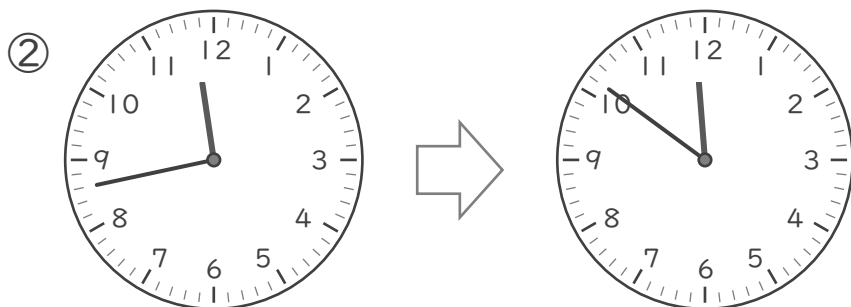
名まえ

/ 4

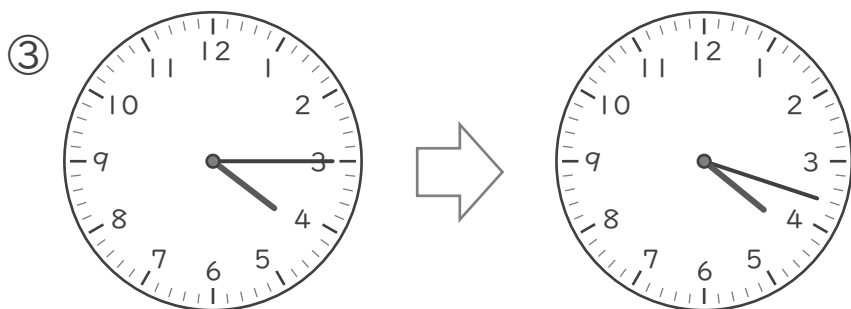
■ 何分(なんぷん)たちましたか。



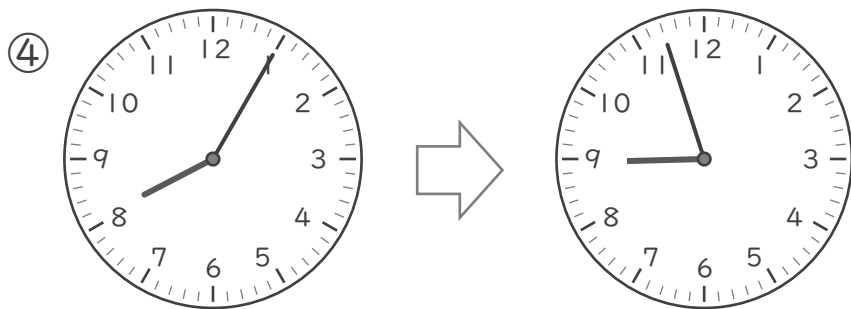
3分



3分



3分



3分

(2けた)+(1けた)の
けい算

ねん くみ
名まえ

/18

■ つぎのたし算をしましょう。

① $24 + 9 =$

② $69 + 1 =$

③ $39 + 8 =$

④ $47 + 4 =$

⑤ $79 + 7 =$

⑥ $17 + 7 =$

⑦ $88 + 8 =$

⑧ $55 + 9 =$

⑨ $55 + 5 =$

⑩ $66 + 5 =$

⑪ $27 + 5 =$

⑫ $58 + 6 =$

⑬ $85 + 8 =$

⑭ $74 + 6 =$

⑮ $43 + 8 =$

⑯ $38 + 4 =$

⑰ $19 + 3 =$

⑱ $78 + 2 =$

(2けた)-(1けた)の
けい算

ねん くみ
名まえ

/18

■ つぎのひき算をしましょう。

① $31 - 4 =$

② $90 - 5 =$

③ $52 - 9 =$

④ $61 - 3 =$

⑤ $20 - 3 =$

⑥ $85 - 9 =$

⑦ $41 - 6 =$

⑧ $73 - 7 =$

⑨ $92 - 7 =$

⑩ $30 - 6 =$

⑪ $87 - 9 =$

⑫ $66 - 9 =$

⑬ $42 - 4 =$

⑭ $74 - 8 =$

⑮ $53 - 4 =$

⑯ $28 - 9 =$

⑰ $94 - 7 =$

⑱ $41 - 9 =$

長さのひき算

年 組 名前

/10

■ 次の長さのひき算をしましょう。

① 1cm 4mm - 1cm 3mm =

② 8cm 2mm - 2cm 8mm =

③ 7cm 5mm - 1cm 7mm =

④ 4cm 2mm - 2cm 3mm =

⑤ 4cm 9mm - 4cm 6mm =

⑥ 5cm 2mm - 1cm 9mm =

⑦ 4cm - 8mm =

⑧ 9cm - 3cm 4mm =

⑨ 6cm - 2cm 9mm =

⑩ 9cm 8mm - 4cm 9mm =

3つの数のたし算

年 組 名前

/12

■ 次のたし算をしましょう。

①

	9	6
	3	8
+	5	2

②

	1	7
	6	8
+	8	7

③

	5	6
	4	3
+	1	6

④

	4	0
	4	8
+	5	8

⑤

	3	8
	3	8
+	1	3

⑥

	3	7
	6	9
+	1	2

⑦

	4	8
	7	5
+	4	1

⑧

	9	7
	3	9
+	4	4

⑨

	8	5
	2	4
+	7	1

⑩

	4	1
	4	2
+	4	6

⑪

	4	1
	6	5
+	6	4

⑫

	3	5
	8	1
+	3	9

九九の表

年 組 名前

/ 27

■ 九九の表を かんせいさせましょう。

かける数

かけられる数

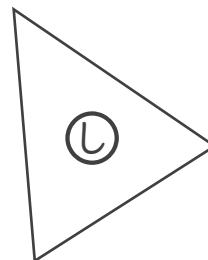
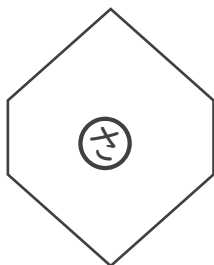
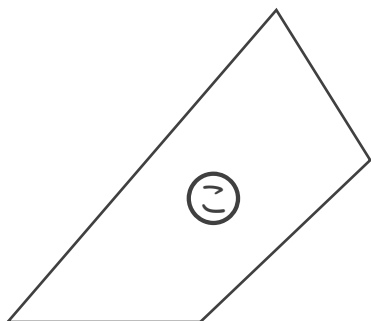
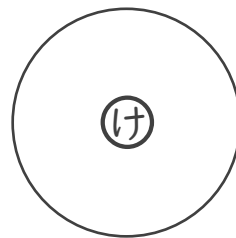
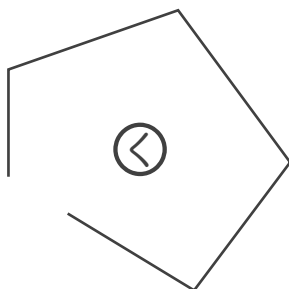
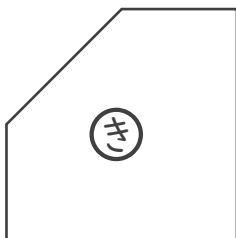
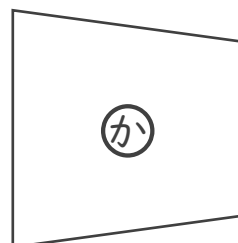
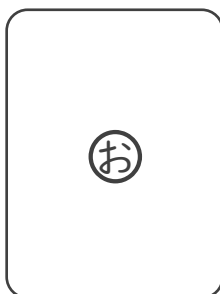
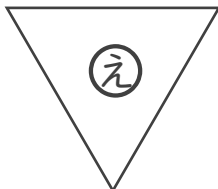
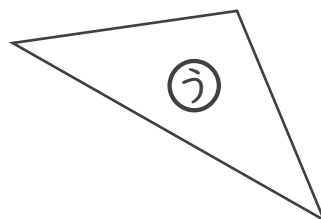
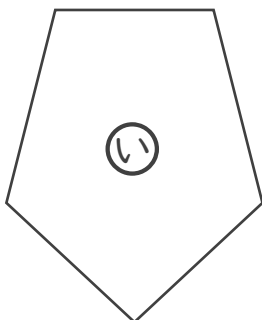
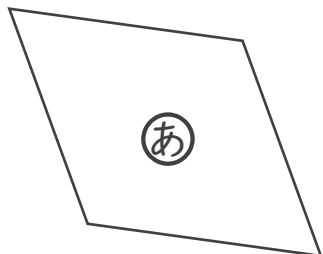
	1	2	3	4	5	6	7	8	9
1	1				5	6	7	8	9
2	2	4	6	8				16	18
3		6	9	12	15	18	21		
4	4	8		16	20		28		36
5	5		15	20	25		35	40	
6	6	12		24		36	42		54
7	7		21	28		42	49	56	
8		16	24		40	48		64	72
9		18	27		45	54		72	81

三角形 と 四角形

年 組 名前

/ 2

■ 三角形 や 四角形 をすべてみつけましょう。



三角形

四角形

図をつかって考えよう

年 組 名前

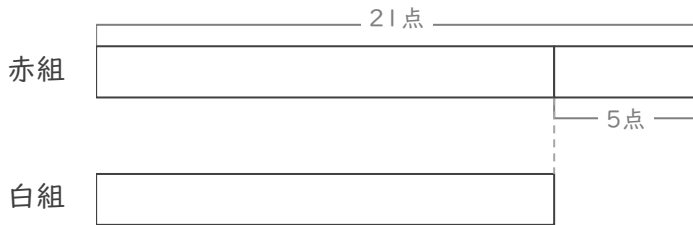
/ 3

■ 図を見て考えましょう。

① 赤組と白組でとく点をきそっています。

赤組は、白組より5点 多いそうです。

赤組は21点 です。白組は何点ですか。



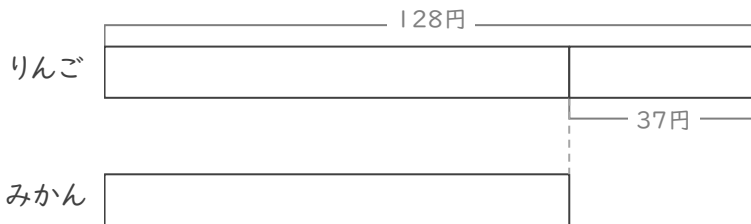
(式)

点

② りんごとみかんを買います。

りんごは、みかんより37円 高いそうです。

りんごは128円 です。みかんは何円ですか。



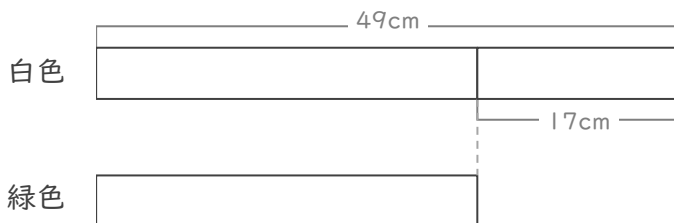
(式)

円

③ 白色のリボンと緑色のリボンがあります。

白色のリボンは、緑色のリボンより17cm 長いそうです。

白色のリボンは49cm です。緑色のリボンは何cmですか。



(式)

cm

九九を広げて

年 組 名前

/ 36

■ 下のひょうにあてはまる数をかきましょう。

① 4 のだん

		かける数								
		5	6	7	8	9	10	11	12	13
かけられる数	4									

4をたす

② 6 のだん

		かける数								
		5	6	7	8	9	10	11	12	13
かけられる数	6									

6をたす

③ 7 のだん

		かける数								
		5	6	7	8	9	10	11	12	13
かけられる数	7									

7をたす

④ 8 のだん

		かける数								
		5	6	7	8	9	10	11	12	13
かけられる数	8									

8をたす

九九を広げて

年 組 名前

/ 36

■ 下のひょうにあてはまる数をかきましょう。

① 2 のだん

		かける数								
		5	6	7	8	9	10	11	12	13
かけられる数	2									

2をたす

② 4 のだん

		かける数								
		5	6	7	8	9	10	11	12	13
かけられる数	4									

4をたす

③ 6 のだん

		かける数								
		5	6	7	8	9	10	11	12	13
かけられる数	6									

6をたす

④ 9 のだん

		かける数								
		5	6	7	8	9	10	11	12	13
かけられる数	9									

9をたす

■ つぎの時こくをこたえましょう。

① 9時5分 の 45分後 の時こく

9 時 50 分

② 12時40分 の 20分前 の時こく

12 時 20 分

③ 2時5分 の 30分後 の時こく

2 時 35 分

④ 4時15分 の 5分前 の時こく

4 時 10 分

⑤ 2時30分 の 10分後 の時こく

2 時 40 分

⑥ 11時30分 の 10分前 の時こく

11 時 20 分

⑦ 7時30分 の 5分後 の時こく

7 時 35 分

⑧ 9時50分 の 15分前 の時こく

9 時 35 分

⑨ 5時20分 の 10分前 の時こく

5 時 10 分

⑩ 3時25分 の 10分後 の時こく

3 時 35 分

⑪ 8時35分 の 20分後 の時こく

8 時 55 分

⑫ 5時45分 の 5分後 の時こく

5 時 50 分

⑬ 5時55分 の 10分前 の時こく

5 時 45 分

⑭ 10時20分 の 25分後 の時こく

10 時 45 分

⑮ 3時40分 の 25分前 の時こく

3 時 15 分

⑯ 12時40分 の 10分後 の時こく

12 時 50 分

⑰ 11時45分 の 5分前 の時こく

11 時 40 分

⑱ 6時35分 の 20分前 の時こく

6 時 15 分

間の時間


ねん くみ

名まえ



/ 4

■ 何分(なんぷん)たちましたか。

①




3じ 30ぶん





3じ 36ぶん

6 ぶん

②




11じ 43ぶん





11じ 51ぶん

8 ぶん

③




4じ 15ぶん





4じ 18ぶん

3 ぶん

④



8じ 5ぶん



8じ 57ぶん

52 ぶん

(2けた)+(1けた)の
けい算

ねん くみ
名まえ

/18

■ つぎのたし算をしましょう。

① $24 + 9 =$

② $69 + 1 =$

③ $39 + 8 =$

④ $47 + 4 =$

⑤ $79 + 7 =$

⑥ $17 + 7 =$

⑦ $88 + 8 =$

⑧ $55 + 9 =$

⑨ $55 + 5 =$

⑩ $66 + 5 =$

⑪ $27 + 5 =$

⑫ $58 + 6 =$

⑬ $85 + 8 =$

⑭ $74 + 6 =$

⑮ $43 + 8 =$

⑯ $38 + 4 =$

⑰ $19 + 3 =$

⑱ $78 + 2 =$

(2けた)-(1けた)の
けい算

ねん くみ
名まえ

/18

■ つぎのひき算をしましょう。

① $31 - 4 = 27$

② $90 - 5 = 85$

③ $52 - 9 = 43$

④ $61 - 3 = 58$

⑤ $20 - 3 = 17$

⑥ $85 - 9 = 76$

⑦ $41 - 6 = 35$

⑧ $73 - 7 = 66$

⑨ $92 - 7 = 85$

⑩ $30 - 6 = 24$

⑪ $87 - 9 = 78$

⑫ $66 - 9 = 57$

⑬ $42 - 4 = 38$

⑭ $74 - 8 = 66$

⑮ $53 - 4 = 49$

⑯ $28 - 9 = 19$

⑰ $94 - 7 = 87$

⑱ $41 - 9 = 32$

長さのひき算

年 組 名前

/10

■ 次の長さのひき算をしましょう。

① 1cm 4mm - 1cm 3mm =

1mm

② 8cm 2mm - 2cm 8mm =

5cm 4mm

③ 7cm 5mm - 1cm 7mm =

5cm 8mm

④ 4cm 2mm - 2cm 3mm =

1cm 9mm

⑤ 4cm 9mm - 4cm 6mm =

3mm

⑥ 5cm 2mm - 1cm 9mm =

3cm 3mm

⑦ 4cm - 8mm =

3cm 2mm

⑧ 9cm - 3cm 4mm =

5cm 6mm

⑨ 6cm - 2cm 9mm =

3cm 1mm

⑩ 9cm 8mm - 4cm 9mm =

4cm 9mm

3つの数のたし算

年 組 名前

/12

■ 次のたし算をしましょう。

①

	9	6
	3	8
+	5	2
1	8	6

②

	1	7
	6	8
+	8	7
1	7	2

③

	5	6
	4	3
+	1	6
1	1	5

④

	4	0
	4	8
+	5	8
1	4	6

⑤

	3	8
	3	8
+	1	3
	8	9

⑥

	3	7
	6	9
+	1	2
1	1	8

⑦

	4	8
	7	5
+	4	1
1	6	4

⑧

	9	7
	3	9
+	4	4
1	8	0

⑨

	8	5
	2	4
+	7	1
1	8	0

⑩

	4	1
	4	2
+	4	6
1	2	9

⑪

	4	1
	6	5
+	6	4
1	7	0

⑫

	3	5
	8	1
+	3	9
1	5	5

81ます計算

ねん くみ

名まえ

/80

■ 上と左の数をかけた答えを書きましょう。

かけ算	6	2	4	9	1	7	3	8	5
8	↓ 48	16	32	72	8	56	24	64	40
3	18	6	12	27	3	21	9	24	15
9	54	18	36	81	9	63	27	72	45
4	24	8	16	36	4	28	12	32	20
1	6	2	4	9	1	7	3	8	5
5	30	10	20	45	5	35	15	40	25
6	36	12	24	54	6	42	18	48	30
2	12	4	8	18	2	14	6	16	10
7	42	14	28	63	7	49	21	56	35

九九の表

年 組 名前

/ 27

■ 九九の表を かんせいさせましょう。

かける数

かけられる数

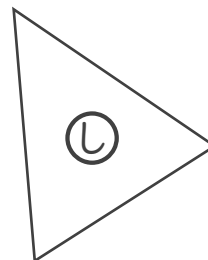
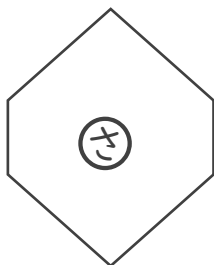
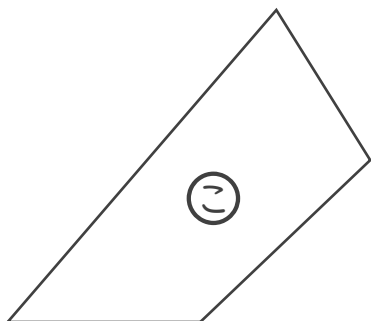
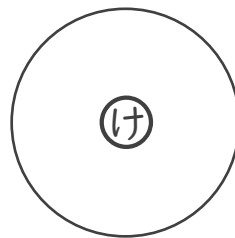
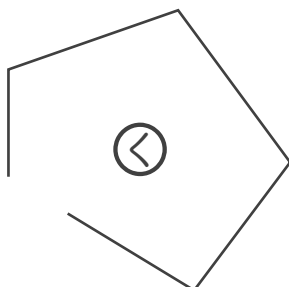
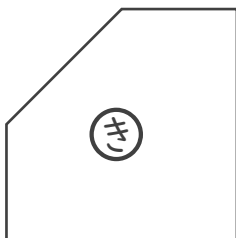
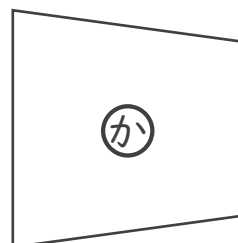
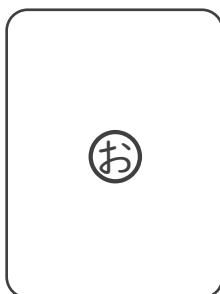
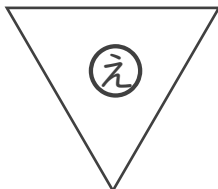
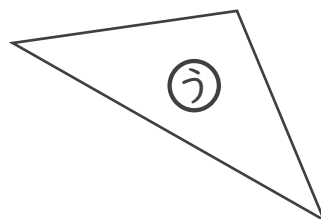
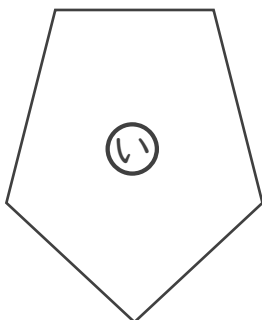
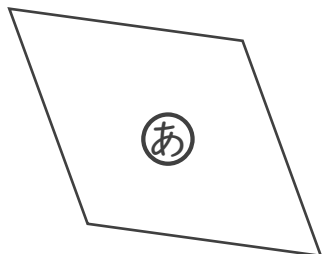
	1	2	3	4	5	6	7	8	9
1	1	2	3	4	5	6	7	8	9
2	2	4	6	8	10	12	14	16	18
3	3	6	9	12	15	18	21	24	27
4	4	8	12	16	20	24	28	32	36
5	5	10	15	20	25	30	35	40	45
6	6	12	18	24	30	36	42	48	54
7	7	14	21	28	35	42	49	56	63
8	8	16	24	32	40	48	56	64	72
9	9	18	27	36	45	54	63	72	81

三角形 と 四角形

年 組 名前

/ 2

■ 三角形 や 四角形 をすべてみつけましょう。



三角形

う え し

四角形

あ か こ

図をつかって考えよう

年 組 名前

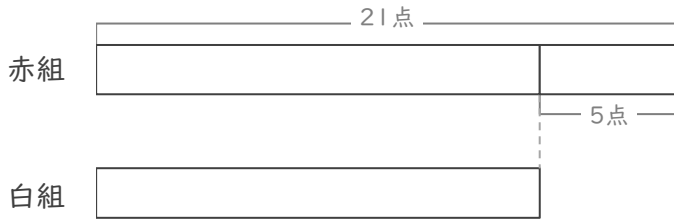
/ 3

■ 図を見て考えましょう。

① 赤組と白組でとく点をきそっています。

赤組は、白組より5点 多いそうです。

赤組は21点 です。白組は何点ですか。



(式)

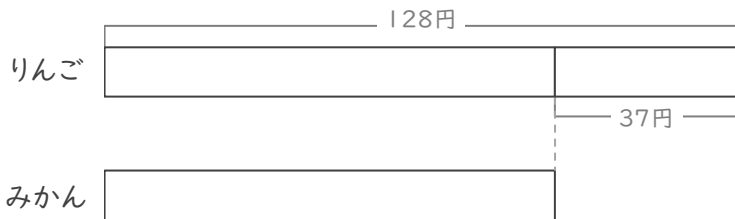
$$21 - 5 = 16$$

16 点

② りんごとみかんを買います。

りんごは、みかんより37円 高いそうです。

りんごは128円 です。みかんは何円ですか。



(式)

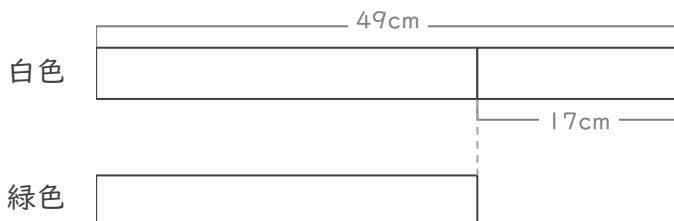
$$128 - 37 = 91$$

91 円

③ 白色のリボンと緑色のリボンがあります。

白色のリボンは、緑色のリボンより17cm 長いそうです。

白色のリボンは49cm です。緑色のリボンは何cmですか。



(式)

$$49 - 17 = 32$$

32 cm

九九を広げて

年 組 名前

/ 36

■ 下のひょうにあてはまる数をかきましょう。

① 4 のだん

	かける数									
	5	6	7	8	9	10	11	12	13	
かけられる数	4	20	24	28	32	36	40	44	48	52

4をたす

② 6 のだん

	かける数									
	5	6	7	8	9	10	11	12	13	
かけられる数	6	30	36	42	48	54	60	66	72	78

6をたす

③ 7 のだん

	かける数									
	5	6	7	8	9	10	11	12	13	
かけられる数	7	35	42	49	56	63	70	77	84	91

7をたす

④ 8 のだん

	かける数									
	5	6	7	8	9	10	11	12	13	
かけられる数	8	40	48	56	64	72	80	88	96	104

8をたす

九九を広げて

年 組 名前

/ 36

■ 下のひょうにあてはまる数をかきましょう。

① 2 のだん

	かける数									
	5	6	7	8	9	10	11	12	13	
かけられる数	2	10	12	14	16	18	20	22	24	26

2をたす

② 4 のだん

	かける数									
	5	6	7	8	9	10	11	12	13	
かけられる数	4	20	24	28	32	36	40	44	48	52

4をたす

③ 6 のだん

	かける数									
	5	6	7	8	9	10	11	12	13	
かけられる数	6	30	36	42	48	54	60	66	72	78

6をたす

④ 9 のだん

	かける数									
	5	6	7	8	9	10	11	12	13	
かけられる数	9	45	54	63	72	81	90	99	108	117

9をたす

九九を広げて

年 組 名前

/ 36

■ 下のひょうにあてはまる数をかきましょう。

① 10 のだん

	かける数									
	1	2	3	4	5	6	7	8	9	
かけられる数	10	10	20	30	40	50	60	70	80	90

10をたす

② 12 のだん

	かける数									
	1	2	3	4	5	6	7	8	9	
かけられる数	12	12	24	36	48	60	72	84	96	108

12をたす

③ 16 のだん

	かける数									
	1	2	3	4	5	6	7	8	9	
かけられる数	16	16	32	48	64	80	96	112	128	144

16をたす

④ 19 のだん

	かける数									
	1	2	3	4	5	6	7	8	9	
かけられる数	19	19	38	57	76	95	114	133	152	171

19をたす

九九を広げて

年 組 名前

/ 36

■ 下のひょうにあてはまる数をかきましょう。

① 11 のだん

	かける数									
	1	2	3	4	5	6	7	8	9	
かけられる数	11	11	22	33	44	55	66	77	88	99

11をたす

② 12 のだん

	かける数									
	1	2	3	4	5	6	7	8	9	
かけられる数	12	12	24	36	48	60	72	84	96	108

12をたす

③ 15 のだん

	かける数									
	1	2	3	4	5	6	7	8	9	
かけられる数	15	15	30	45	60	75	90	105	120	135

15をたす

④ 19 のだん

	かける数									
	1	2	3	4	5	6	7	8	9	
かけられる数	19	19	38	57	76	95	114	133	152	171

19をたす