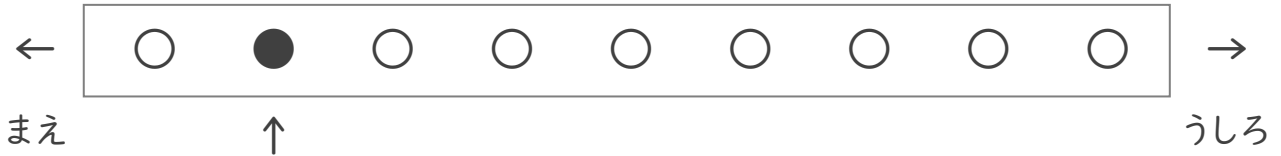


なんばんめ

ねん くみ
なまえ

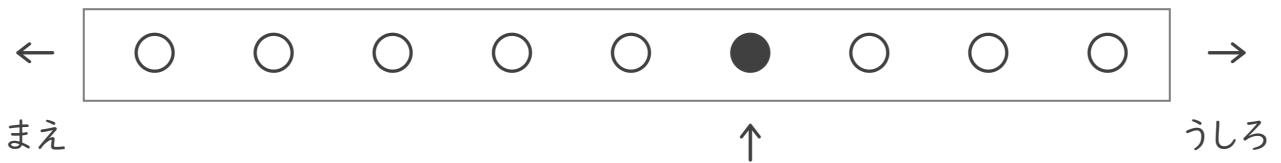
/ 4

① くろいまる(●)は まえから なんばんめですか。



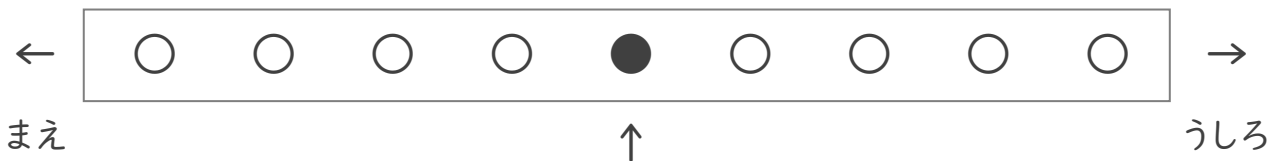
ばんめ

② くろいまる(●)は うしろから なんばんめですか。



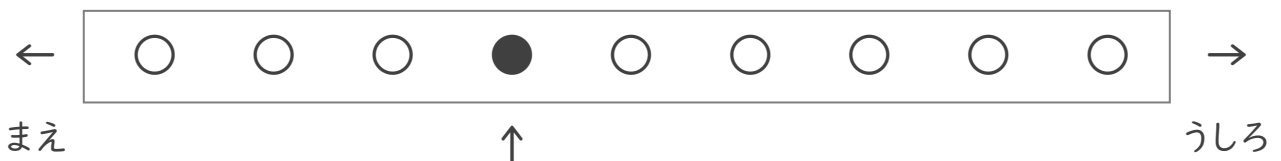
ばんめ

③ くろいまる(●)は うしろから なんばんめですか。



ばんめ

④ くろいまる(●)は まえから なんばんめですか。



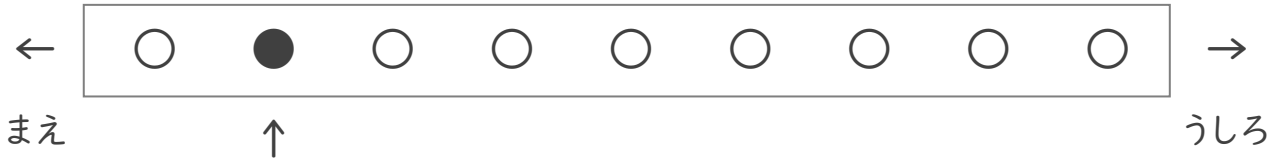
ばんめ

なんばんめ

ねん くみ
なまえ

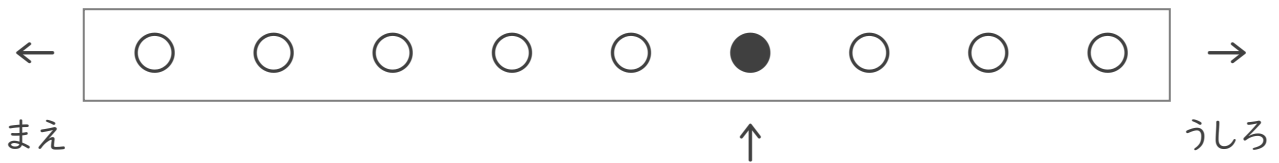
/ 4

① くろいまる(●)は まえから なんばんめですか。



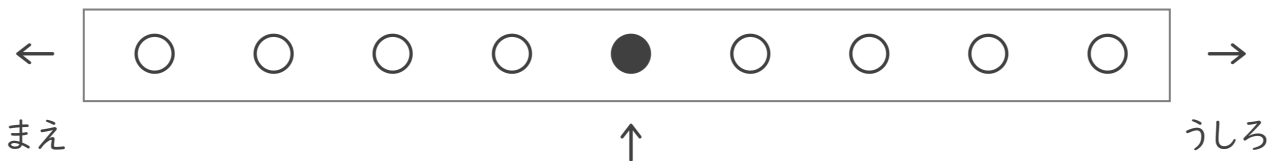
2 ばんめ

② くろいまる(●)は うしろから なんばんめですか。



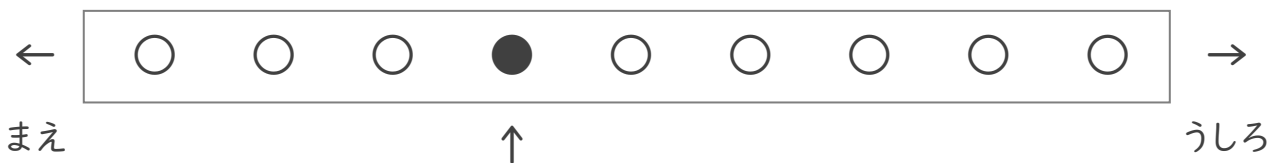
4 ばんめ

③ くろいまる(●)は うしろから なんばんめですか。



5 ばんめ

④ くろいまる(●)は まえから なんばんめですか。



4 ばんめ