

なんばんめ

ねん くみ
なまえ

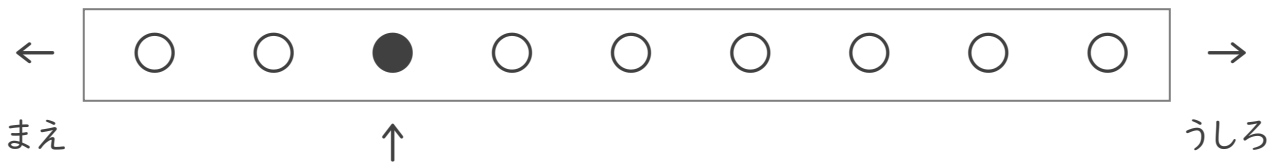
/ 4

① くろいまる(●)はうしろからなんばんめですか。



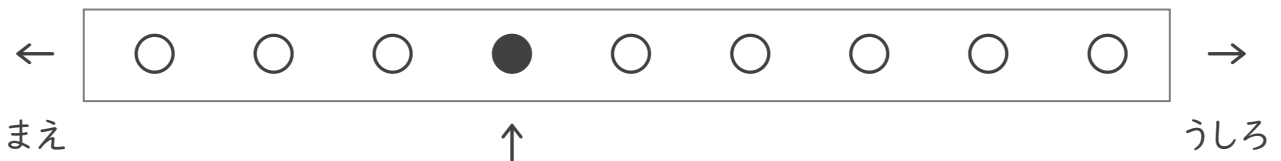
ばんめ

② くろいまる(●)はまえからなんばんめですか。



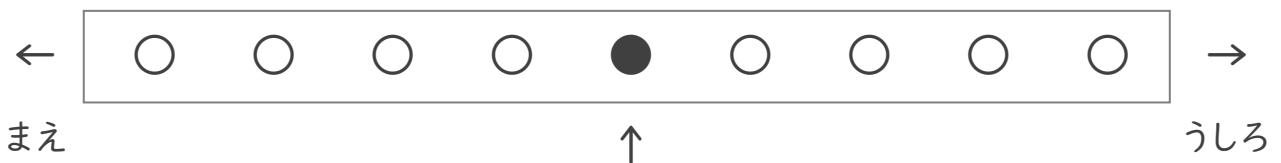
ばんめ

③ くろいまる(●)はうしろからなんばんめですか。



ばんめ

④ くろいまる(●)はまえからなんばんめですか。



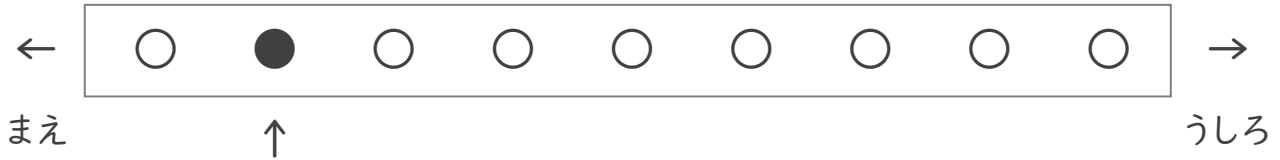
ばんめ

なんばんめ

ねん くみ
なまえ

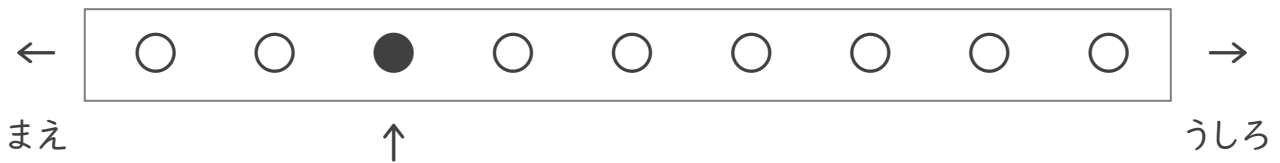
/ 4

① くろいまる(●)はうしろから なんばんめですか。



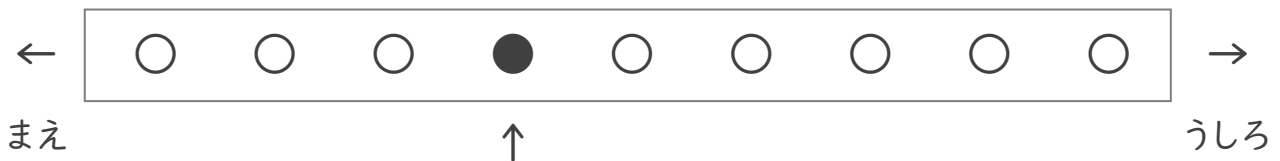
8 ばんめ

② くろいまる(●)はまえから なんばんめですか。



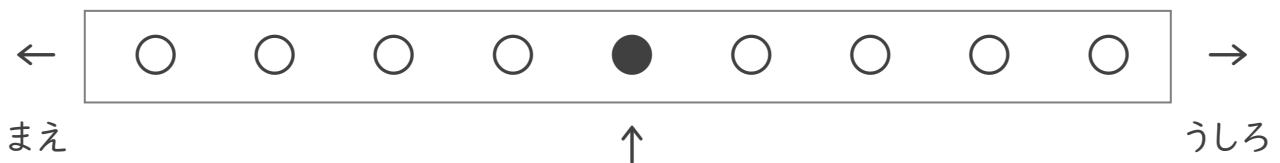
3 ばんめ

③ くろいまる(●)はうしろから なんばんめですか。



6 ばんめ

④ くろいまる(●)はまえから なんばんめですか。



5 ばんめ