

なんばんめ

ねん くみ
なまえ

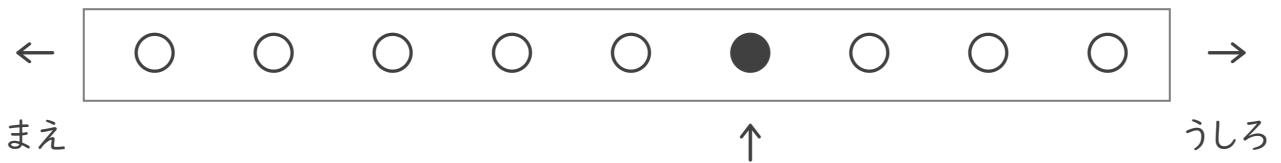
/ 4

① くろいまる(●)はうしろからなんばんめですか。



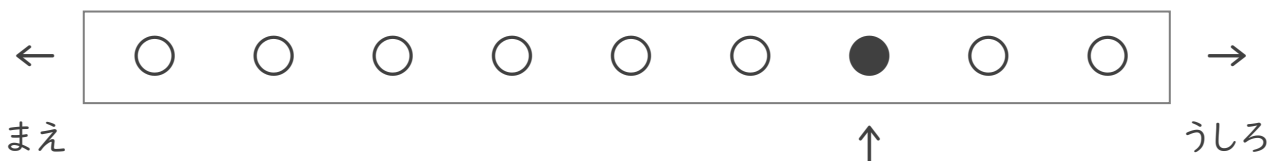
ばんめ

② くろいまる(●)はまえからなんばんめですか。



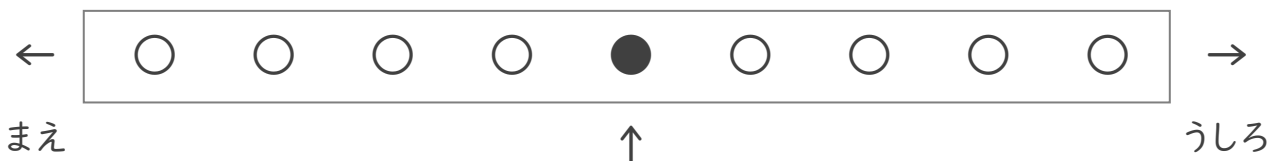
ばんめ

③ くろいまる(●)はうしろからなんばんめですか。



ばんめ

④ くろいまる(●)はまえからなんばんめですか。



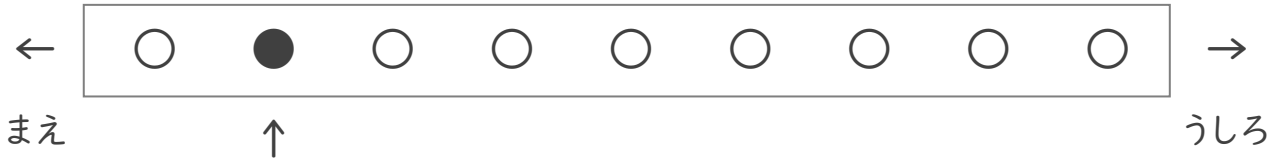
ばんめ

なんばんめ

ねん くみ
なまえ

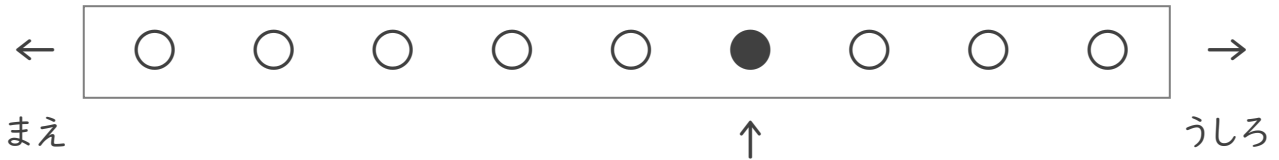
/ 4

① くろいまる(●)はうしろからなんばんめですか。



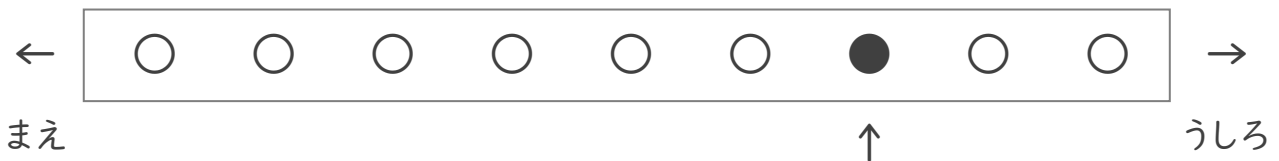
8 ばんめ

② くろいまる(●)はまえからなんばんめですか。



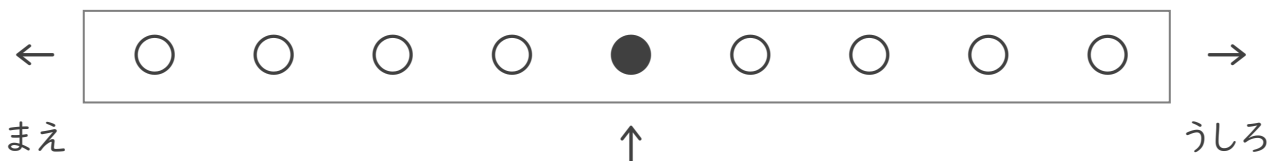
6 ばんめ

③ くろいまる(●)はうしろからなんばんめですか。



3 ばんめ

④ くろいまる(●)はまえからなんばんめですか。



5 ばんめ