

# はかりの使い方

年 組 名前

/ 8

■ はかりは 何g をさしていますか。

①



g

⑤



g

②




g

⑥



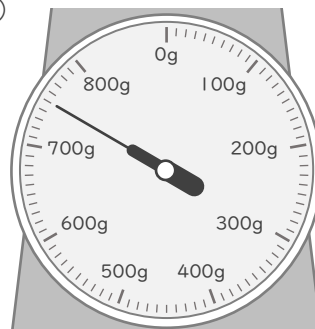
g

③



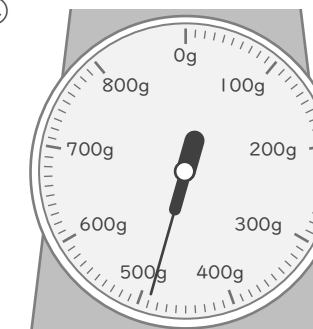
g

⑦



g

④



g

⑧



g

# はかりの使い方

年 組 名前

/ 8

■ はかりは 何g をさしていますか。

①



600 g

⑤



120 g

②



270 g

⑥



340 g

③



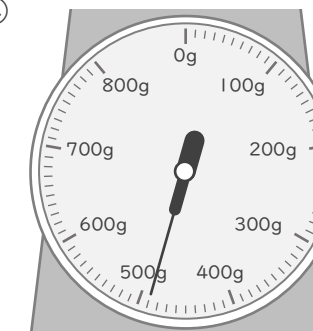
60 g

⑦



750 g

④



490 g

⑧



510 g