

分度器の使い方

____年 ____組 名前

/ 4

■ 黒色の丸に分度器の中心をあわせて、やじるしの向きに次の大きさの角をかきましょう。

① 65°

② 45°



③ 70°

④ 30°



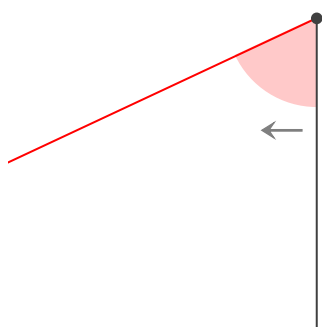
分度器の使い方

____年 ____組 名前

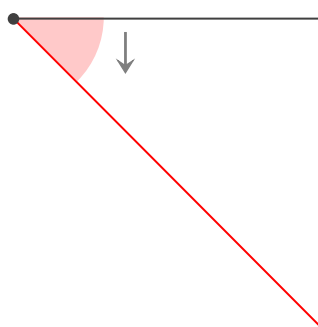
/ 4

■ 黒色の丸に分度器の中心をあわせて、やじるしの向きに次の大きさの角をかきましょう。

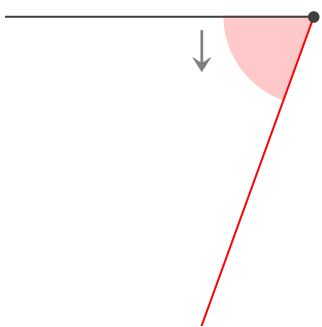
① 65°



② 45°



③ 70°



④ 30°

