

分度器の使い方

____年 ____組 名前

____ / 4

■ 黒色の丸に分度器の中心をあわせて、やじるしの向きに次の大きさの角をかきましょう。

① 115°

② 100°



③ 130°

④ 155°



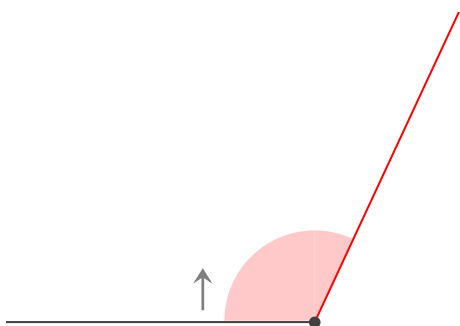
分度器の使い方

年 組 名前

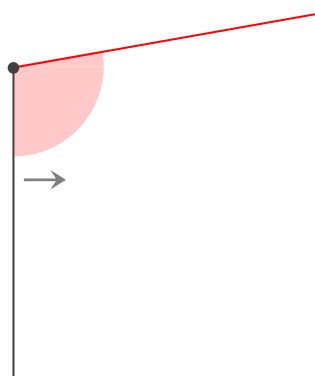
/ 4

■ 黒色の丸に分度器の中心をあわせて、やじるしの向きに次の大きさの角をかきましょう。

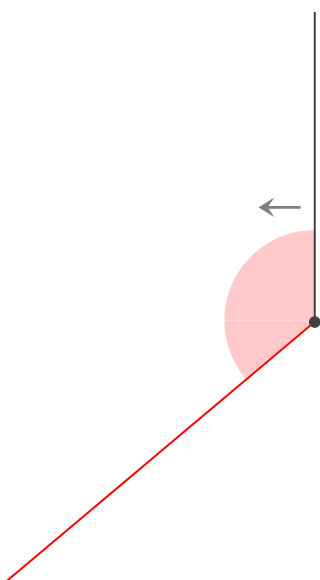
① 115°



② 100°



③ 130°



④ 155°

