

# 分度器の使い方

\_\_\_\_年 \_\_\_\_組 名前

/ 4

■ 黒色の丸に分度器の中心をあわせて、やじるしの向きに次の大きさの角をかきましょう。

①  $175^\circ$

②  $120^\circ$



③  $130^\circ$

④  $105^\circ$



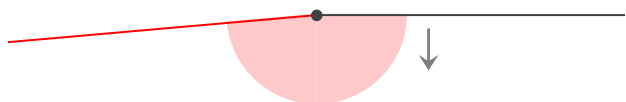
# 分度器の使い方

\_\_\_\_年 \_\_\_\_組 名前

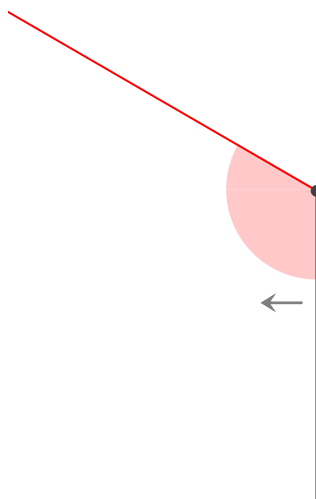
/ 4

■ 黒色の丸に分度器の中心をあわせて、やじるしの向きに次の大きさの角をかきましょう。

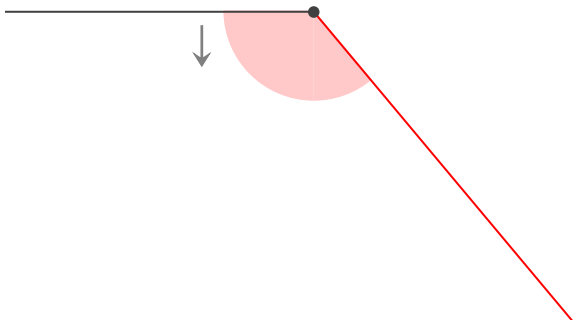
①  $175^\circ$



②  $120^\circ$



③  $130^\circ$



④  $105^\circ$

