

# 分度器の使い方

\_\_\_\_年 \_\_\_\_組 \_\_\_\_名前

\_\_\_\_ / 4

■ 黒色の丸に分度器の中心をあわせて、やじるしの向きに次の大きさの角をかきましょう。

①  $115^\circ$

②  $140^\circ$



③  $120^\circ$

④  $175^\circ$



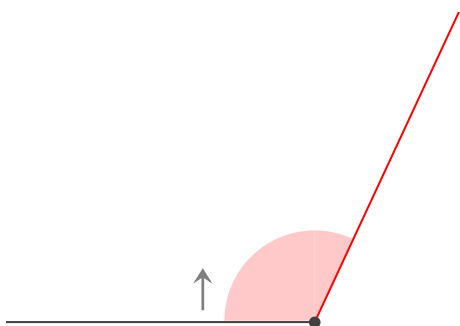
# 分度器の使い方

年 組 名前

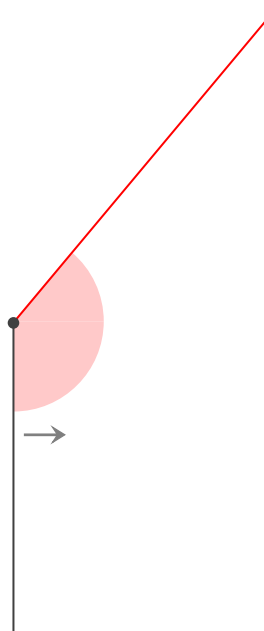
/ 4

■ 黒色の丸に分度器の中心をあわせて、やじるしの向きに次の大きさの角をかきましょう。

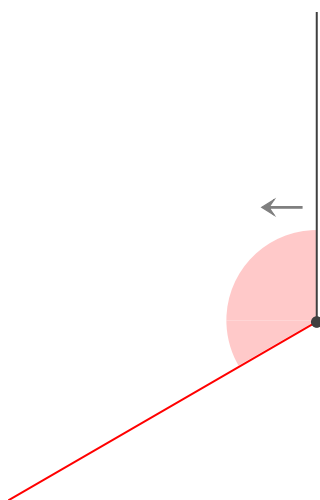
①  $115^\circ$



②  $140^\circ$



③  $120^\circ$



④  $175^\circ$

