

分度器の使い方

____年 ____組 ____名前

____ / 4

■ 黒色の丸に分度器の中心をあわせて、やじるしの向きに次の大きさの角をかきましょう。


① 155°

② 70°



③ 140°

④ 55°



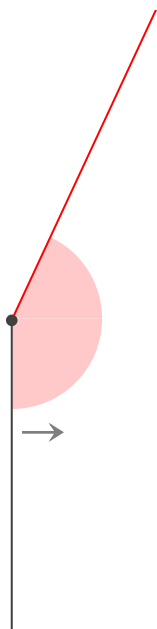
分度器の使い方

____年 ____組 ____名前

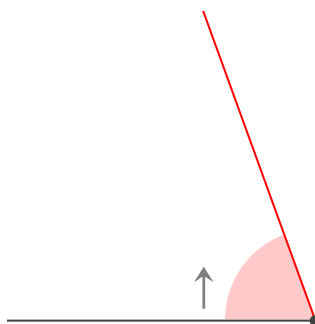
/ 4

■ 黒色の丸に分度器の中心をあわせて、やじるしの向きに次の大きさの角をかきましょう。

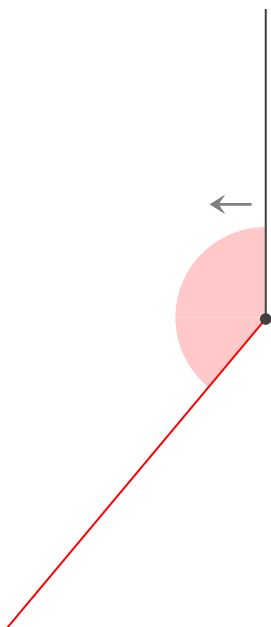
① 155°



② 70°



③ 140°



④ 55°

