

# 分度器の使い方

\_\_\_\_年 \_\_\_\_組 名前

\_\_\_\_ / 4

■ 黒色の丸に分度器の中心をあわせて、やじるしの向きに次の大きさの角をかきましょう。

①  $115^\circ$



②  $50^\circ$



③  $45^\circ$



④  $160^\circ$



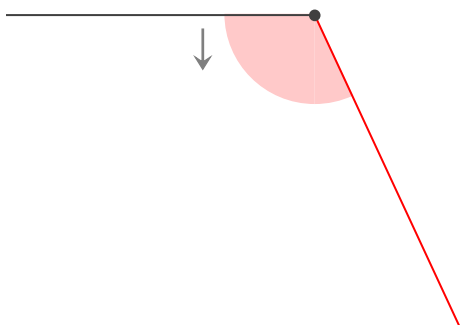
# 分度器の使い方

年 組 名前

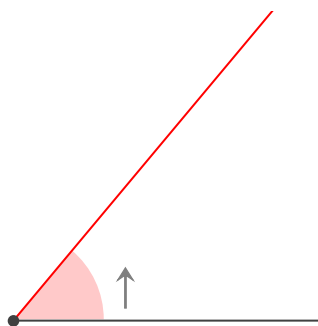
/ 4

■ 黒色の丸に分度器の中心をあわせて、やじるしの向きに次の大きさの角をかきましょう。

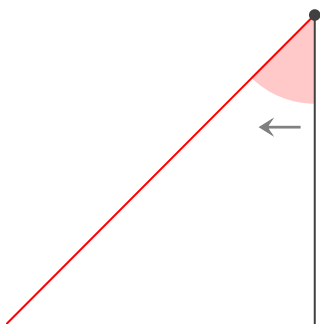
①  $115^\circ$



②  $50^\circ$



③  $45^\circ$



④  $160^\circ$

