

分度器の使い方

____年 ____組 名前


/ 4

■ 黒色の丸に分度器の中心をあわせて、やじるしの向きに次の大きさの角をかきましょう。

① 125°



② 140°



③ 35°



④ 70°



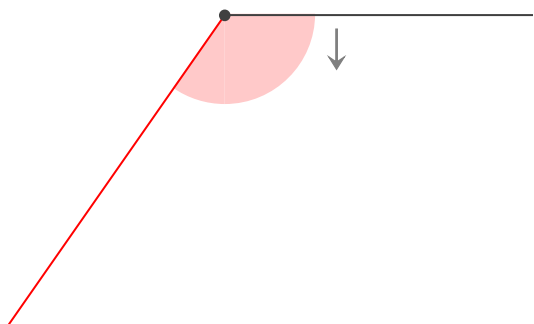
分度器の使い方

年 組 名前

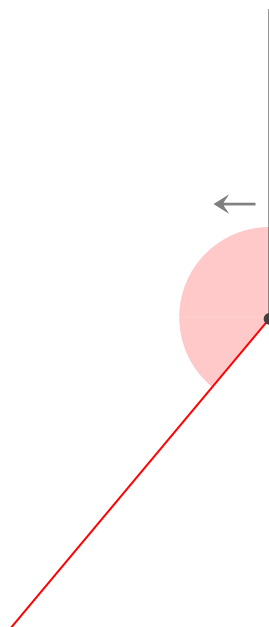
/ 4

■ 黒色の丸に分度器の中心をあわせて、やじるしの向きに次の大きさの角をかきましょう。

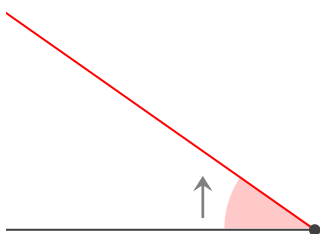
① 125°



② 140°



③ 35°



④ 70°

