

# 分度器の使い方

\_\_\_\_年 \_\_\_\_組 名前

/ 4

■ 黒色の丸に分度器の中心をあわせて、やじるしの向きに次の大きさの角をかきましょう。

①  $240^\circ$




②  $325^\circ$



③  $205^\circ$



④  $330^\circ$



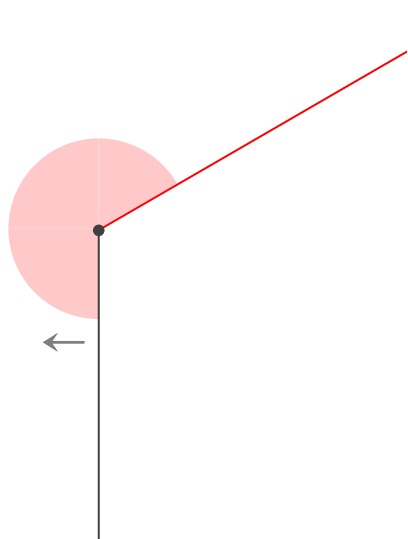
# 分度器の使い方

年 組 名前

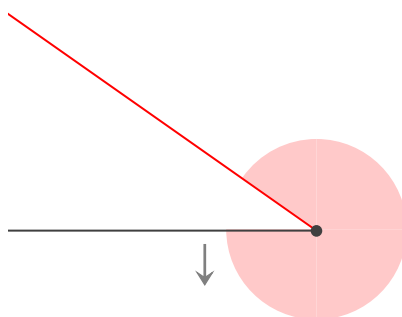
/ 4

■ 黒色の丸に分度器の中心をあわせて、やじるしの向きに次の大きさの角をかきましょう。

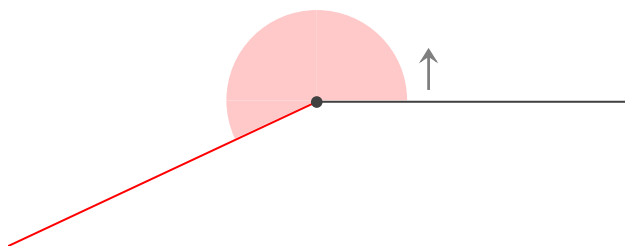
①  $240^\circ$



②  $325^\circ$



③  $205^\circ$



④  $330^\circ$

