

分度器の使い方

____年 ____組 名前

/ 4

■ 黒色の丸に分度器の中心をあわせて、やじるしの向きに次の大きさの角をかきましょう。

① 200°

② 335°



③ 195°

④ 310°



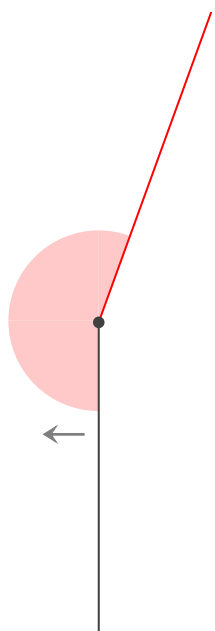
分度器の使い方

____年 ____組 ____名前

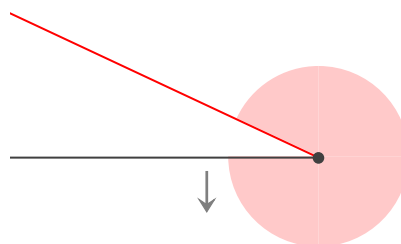
____ / 4

■ 黒色の丸に分度器の中心をあわせて、やじるしの向きに次の大きさの角をかきましょう。

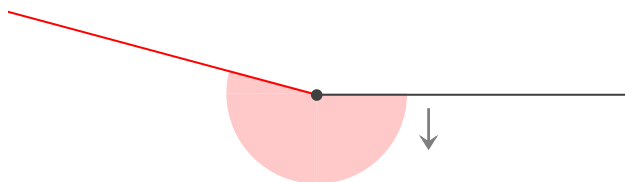
① 200°



② 335°



③ 195°



④ 310°

