


分度器の使い方

____年 ____組 名前

/ 4

■ 黒色の丸に分度器の中心をあわせて、やじるしの向きに次の大きさの角をかきましょう。

① 205°



② 320°



③ 305°



④ 210°



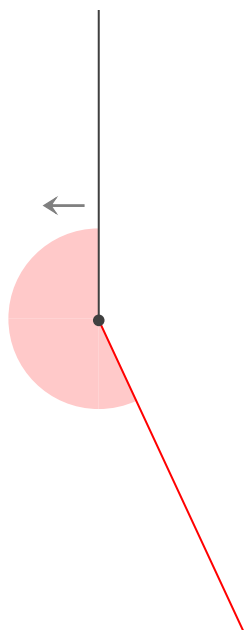
分度器の使い方

____年 ____組 ____名前

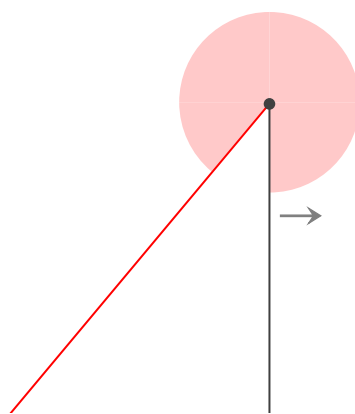
/ 4

■ 黒色の丸に分度器の中心をあわせて、やじるしの向きに次の大きさの角をかきましょう。

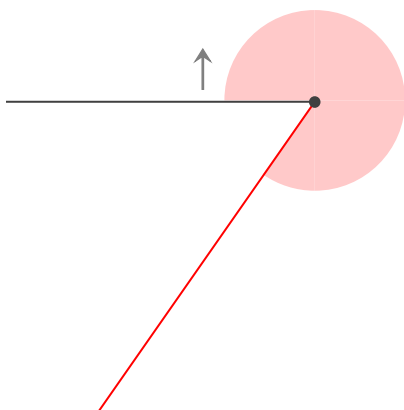
① 205°



② 320°



③ 305°



④ 210°

