

分度器の使い方

____年 ____組 名前 _____

/ 4

■ 黒色の丸に分度器の中心をあわせて、やじるしの向きに次の大きさの角をかきましょう。

① 240°



② 300°



③ 225°



④ 285°



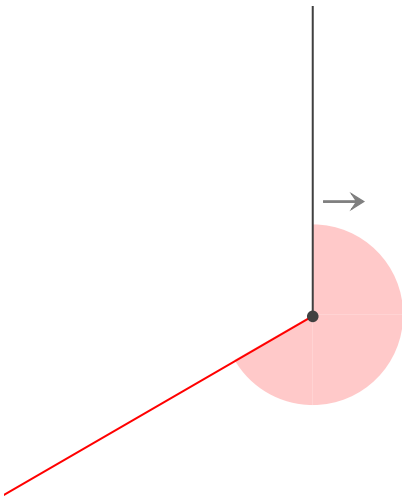
分度器の使い方

____年 ____組 名前 _____

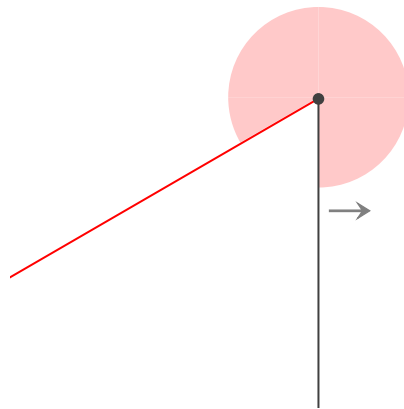
/ 4

■ 黒色の丸に分度器の中心をあわせて、やじるしの向きに次の大きさの角をかきましょう。

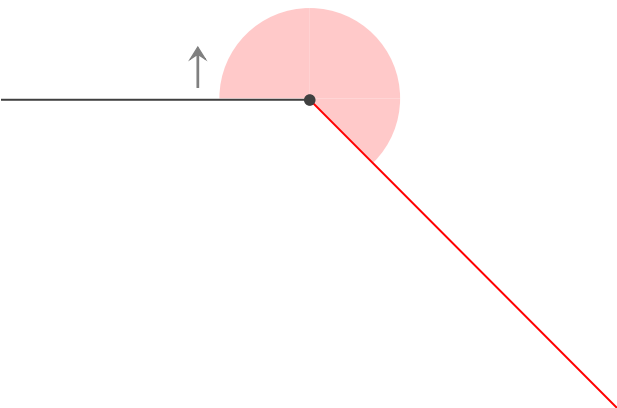
① 240°



② 300°



③ 225°



④ 285°

