

分度器の使い方

____年 ____組 名前

____ / 4

■ 黒色の丸に分度器の中心をあわせて、やじるしの向きに次の大きさの角をかきましょう。

① 190°

② 325°



③ 230°

④ 315°



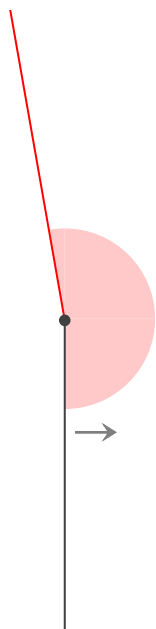
分度器の使い方

____年 ____組 名前

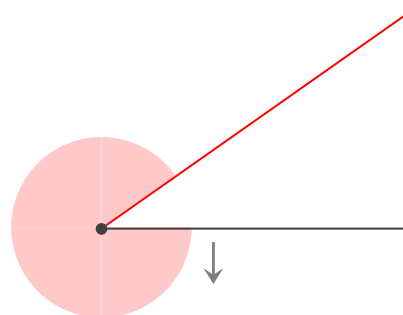
/ 4

■ 黒色の丸に分度器の中心をあわせて、やじるしの向きに次の大きさの角をかきましょう。

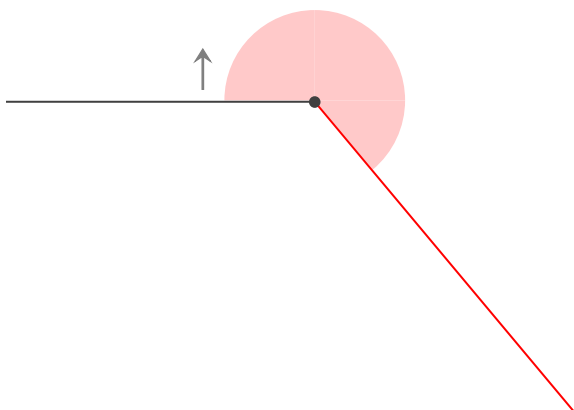
① 190°



② 325°



③ 230°



④ 315°

