

分度器の使い方

____年 ____組 名前

/ 4

■ 黒色の丸に分度器の中心をあわせて、やじるしの向きに次の大きさの角をかきましょう。

① 335°



② 150°



③ 55°



④ 240°



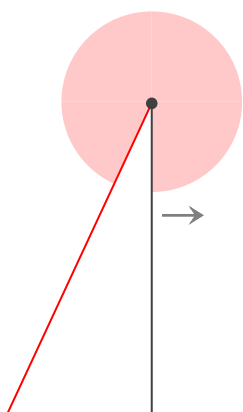
分度器の使い方

____年 ____組 名前

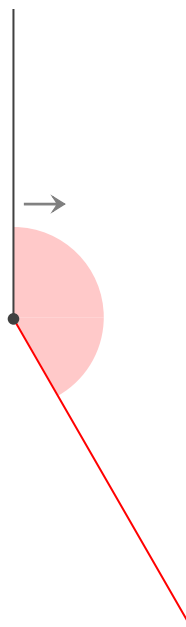
/ 4

■ 黒色の丸に分度器の中心をあわせて、やじるしの向きに次の大きさの角をかきましょう。

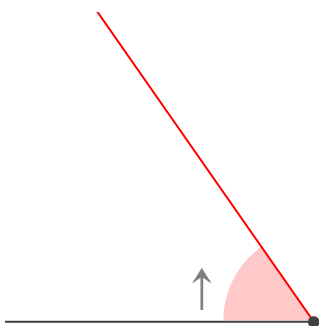
① 335°



② 150°



③ 55°



④ 240°

