

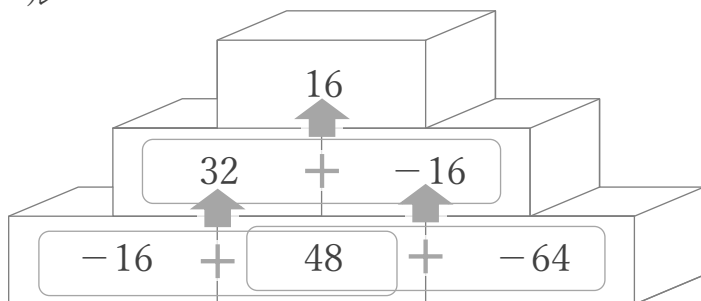
正負の数

年 組 名前

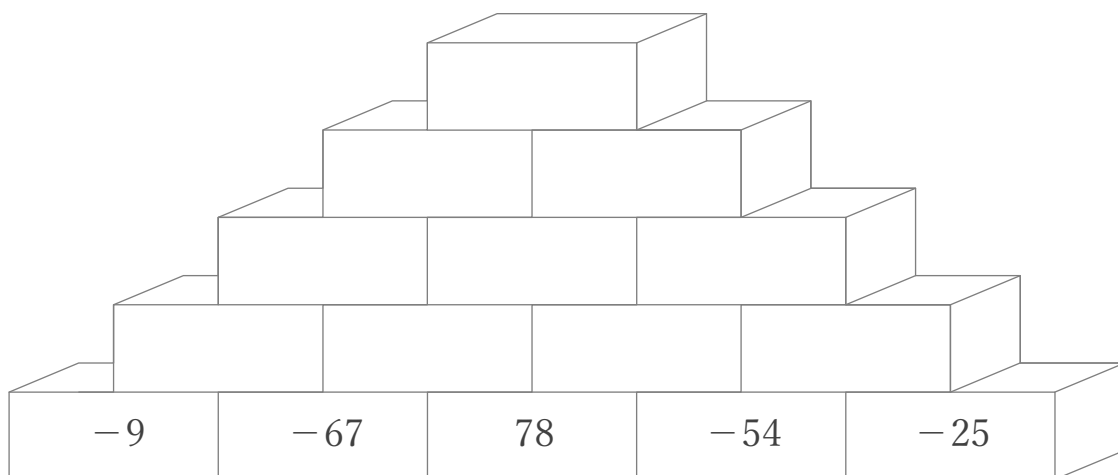
/10

■ ルールの通りに、つみきに数字をかきましょう。

ルール



2つのつみきに書かれた数の和を
その2つの上のつみきを書く



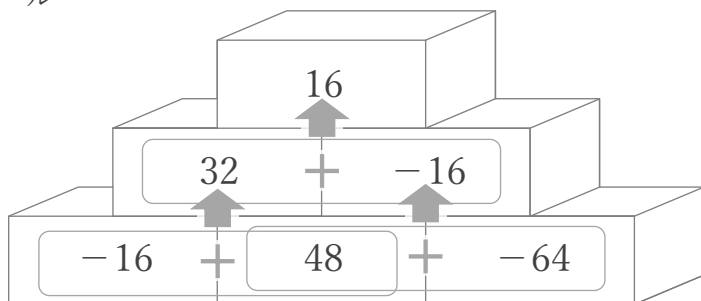
正負の数

年 組 名前

/10

■ ルールの通りに、つみきに数字をかきましょう。

ルール



2つのつみきに書かれた数の和を
その2つの上のつみきを書く

