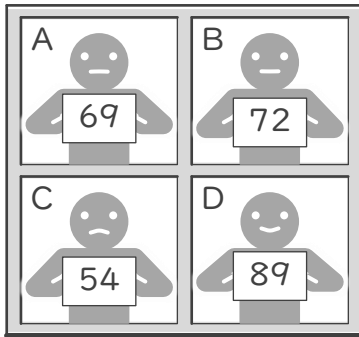


■ A~Dの4人がテストの得点を書かれた紙を持っています。これを見て答えましょう。

① 平均が 65 になるように



ヒント

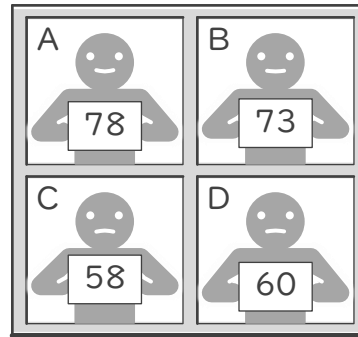
$$65 \times 2 = 130$$

$$65 \times 3 = 195$$

$$65 \times 4 = 260$$

2~4人に○をしましょう

④ 平均が 59 になるように



ヒント

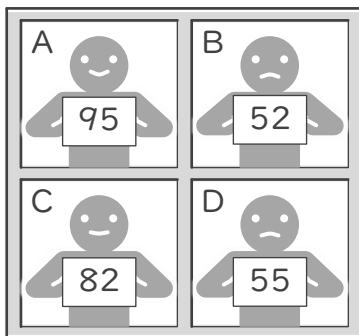
$$59 \times 2 = 118$$

$$59 \times 3 = 177$$

$$59 \times 4 = 236$$

2~4人に○をしましょう

② 平均が 63 になるように



ヒント

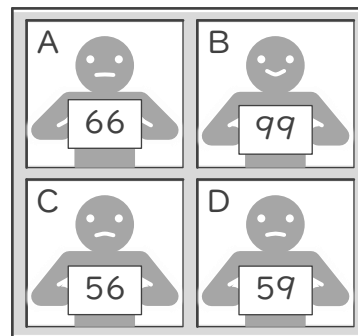
$$63 \times 2 = 126$$

$$63 \times 3 = 189$$

$$63 \times 4 = 252$$

2~4人に○をしましょう

⑤ 平均が 70 になるように



ヒント

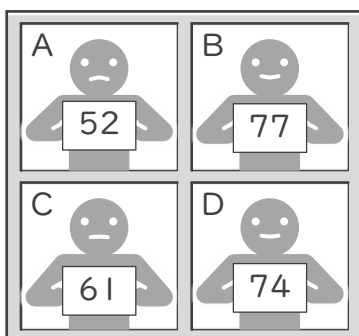
$$70 \times 2 = 140$$

$$70 \times 3 = 210$$

$$70 \times 4 = 280$$

2~4人に○をしましょう

③ 平均が 66 になるように



ヒント

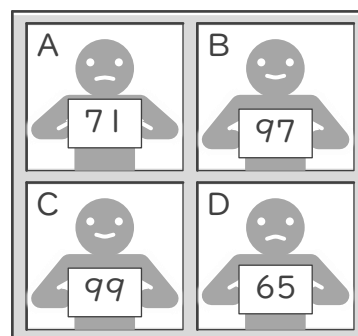
$$66 \times 2 = 132$$

$$66 \times 3 = 198$$

$$66 \times 4 = 264$$

2~4人に○をしましょう

⑥ 平均が 89 になるように



ヒント

$$89 \times 2 = 178$$

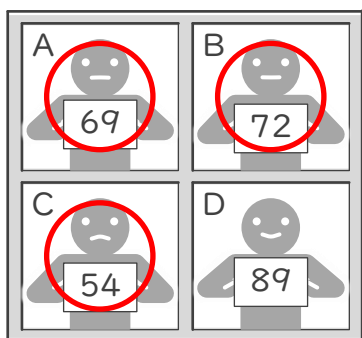
$$89 \times 3 = 267$$

$$89 \times 4 = 356$$

2~4人に○をしましょう

■ A~Dの4人がテストの得点を書かれた紙を持っています。これを見て答えましょう。

① 平均が 65 になるように



ヒント

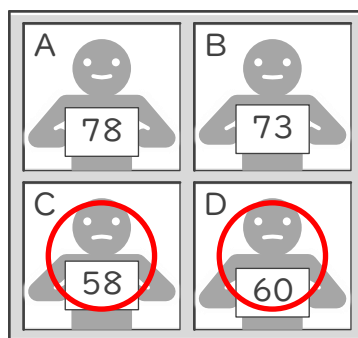
$$65 \times 2 = 130$$

$$65 \times 3 = 195$$

$$65 \times 4 = 260$$

2~4人に○をしましょう

④ 平均が 59 になるように



ヒント

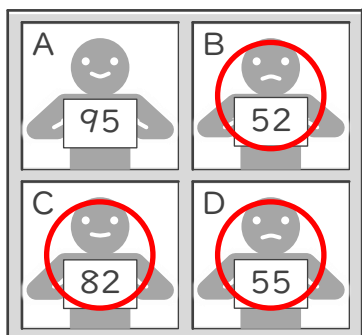
$$59 \times 2 = 118$$

$$59 \times 3 = 177$$

$$59 \times 4 = 236$$

2~4人に○をしましょう

② 平均が 63 になるように



ヒント

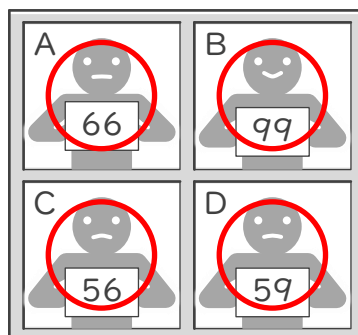
$$63 \times 2 = 126$$

$$63 \times 3 = 189$$

$$63 \times 4 = 252$$

2~4人に○をしましょう

⑤ 平均が 70 になるように



ヒント

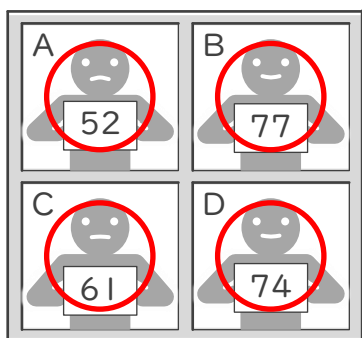
$$70 \times 2 = 140$$

$$70 \times 3 = 210$$

$$70 \times 4 = 280$$

2~4人に○をしましょう

③ 平均が 66 になるように



ヒント

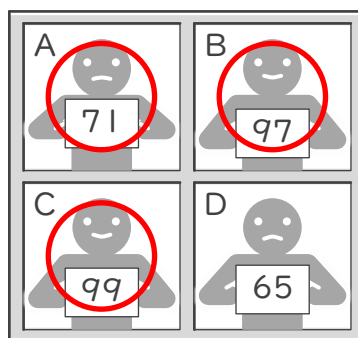
$$66 \times 2 = 132$$

$$66 \times 3 = 198$$

$$66 \times 4 = 264$$

2~4人に○をしましょう

⑥ 平均が 89 になるように



ヒント

$$89 \times 2 = 178$$

$$89 \times 3 = 267$$

$$89 \times 4 = 356$$

2~4人に○をしましょう