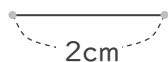
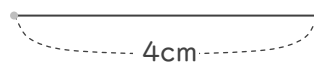


■ コンパスを使って、次のような三角形を作図しましょう。

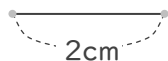
① 2cm, 4cm, 4cmの二等辺三角形



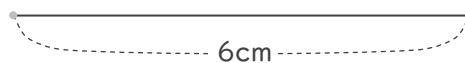
④ 4cm, 3cm, 3cmの二等辺三角形



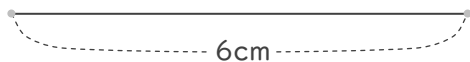
② 2cm, 5cm, 5cmの二等辺三角形



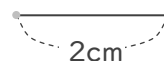
⑤ 6cm, 5cm, 5cmの二等辺三角形



③ 6cm, 6cm, 6cmの正三角形

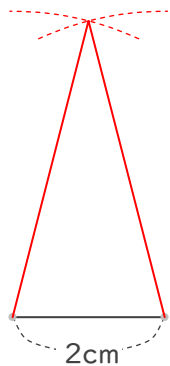


⑥ 2cm, 2cm, 2cmの正三角形

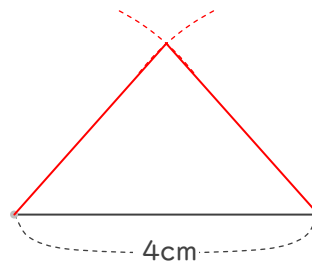


■ コンパスを使って、次のような三角形を作図しましょう。

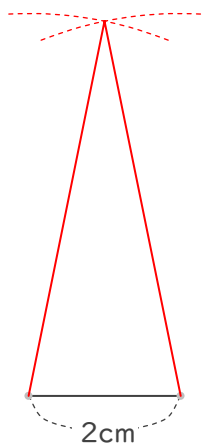
① 2cm, 4cm, 4cmの二等辺三角形



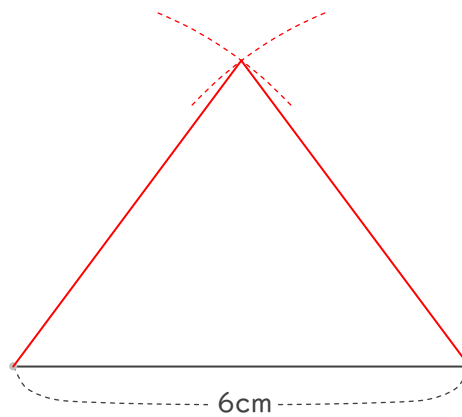
④ 4cm, 3cm, 3cmの二等辺三角形



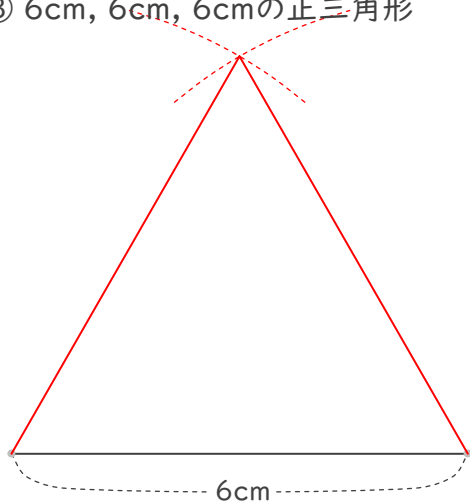
② 2cm, 5cm, 5cmの二等辺三角形



⑤ 6cm, 5cm, 5cmの二等辺三角形



③ 6cm, 6cm, 6cmの正三角形



⑥ 2cm, 2cm, 2cmの正三角形

