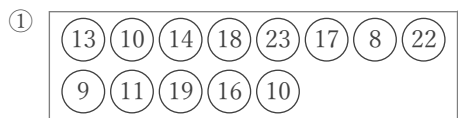


# 四分位数と箱ひげ図

年 組 名前

/18

■ 玉に書かれた数の第1四分位数、中央値、第3四分位数をそれぞれ答え、箱ひげ図をかきなさい。

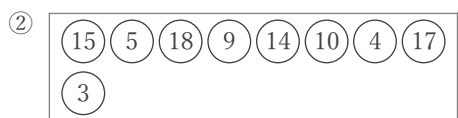
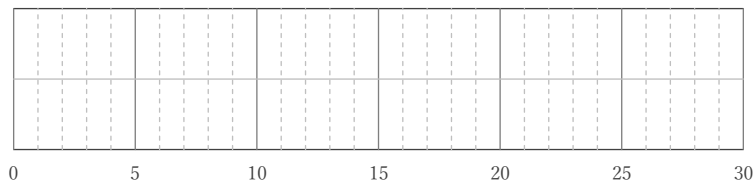


第1四分位数

中央値

第3四分位数



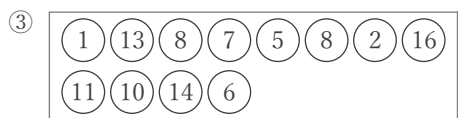
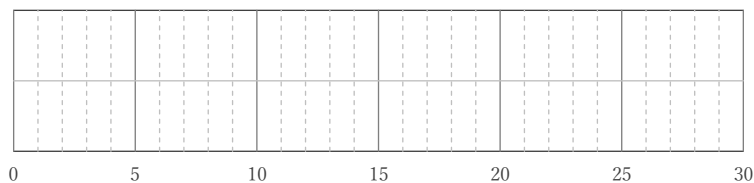


第1四分位数

中央値

第3四分位数



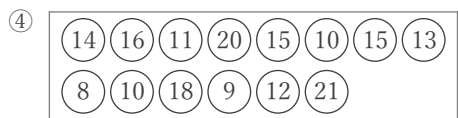
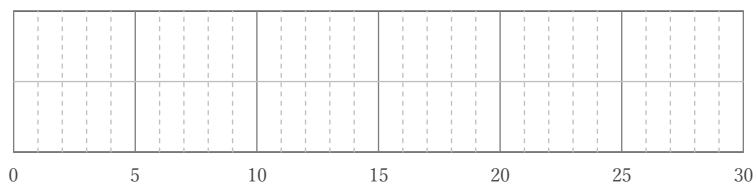


第1四分位数

中央値

第3四分位数



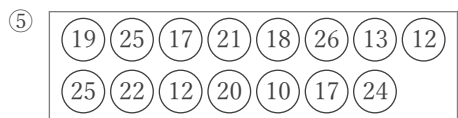
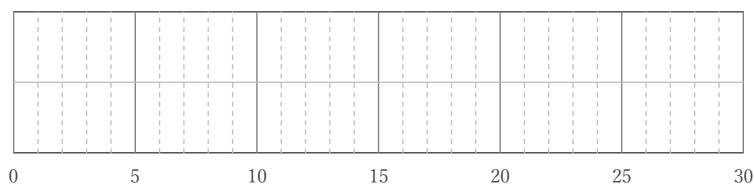


第1四分位数

中央値

第3四分位数



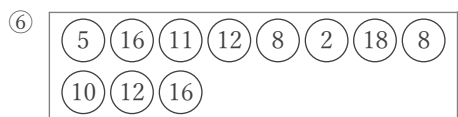
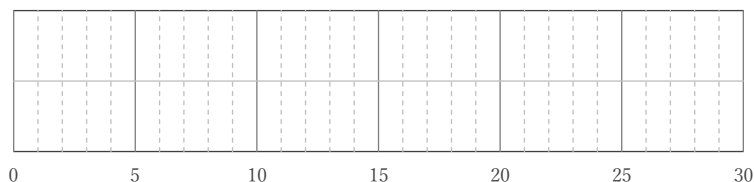


第1四分位数

中央値

第3四分位数



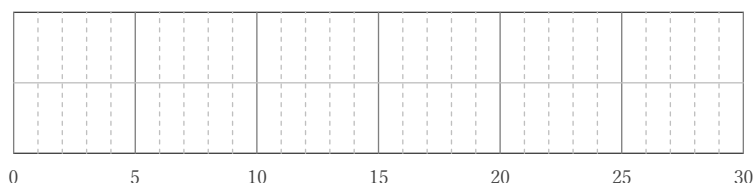


第1四分位数

中央値

第3四分位数





# 四分位数と箱ひげ図

年 組 名前

/18

■ 玉に書かれた数の第1四分位数、中央値、第3四分位数をそれぞれ答え、箱ひげ図をかきなさい。

