


# 四分位数と箱ひげ図

年 組 名前

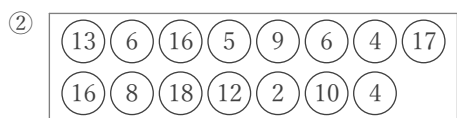
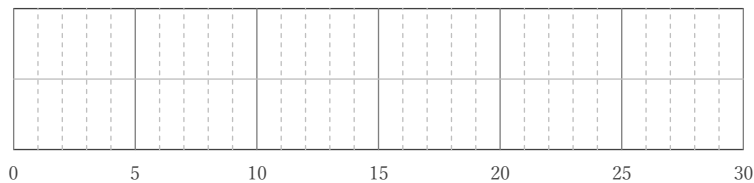
/18

■ 玉に書かれた数の第1四分位数、中央値、第3四分位数をそれぞれ答え、箱ひげ図をかきなさい。



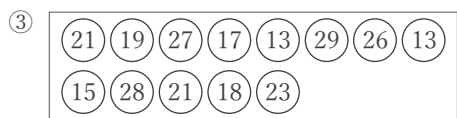
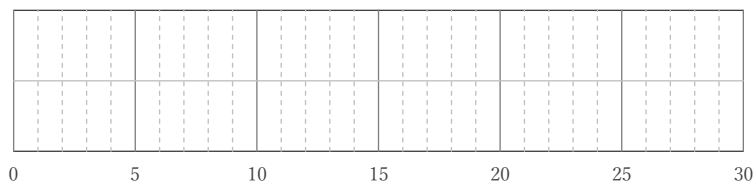
第1四分位数      中央値      第3四分位数

|  |  |  |
|--|--|--|
|  |  |  |
|--|--|--|



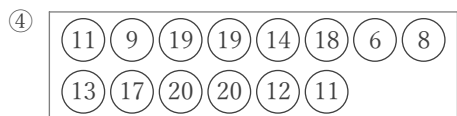
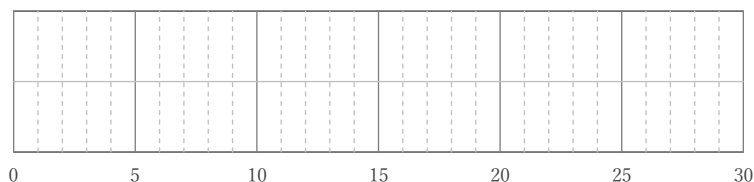
第1四分位数      中央値      第3四分位数

|  |  |  |
|--|--|--|
|  |  |  |
|--|--|--|




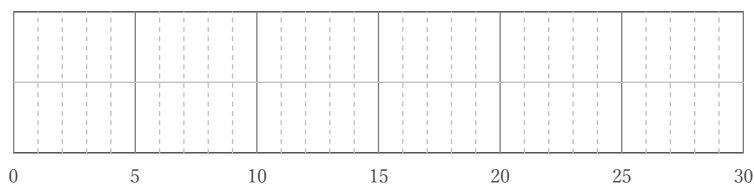
第1四分位数      中央値      第3四分位数

|  |  |  |
|--|--|--|
|  |  |  |
|--|--|--|



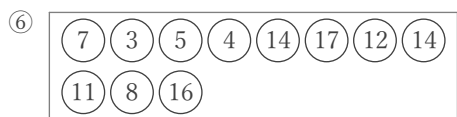
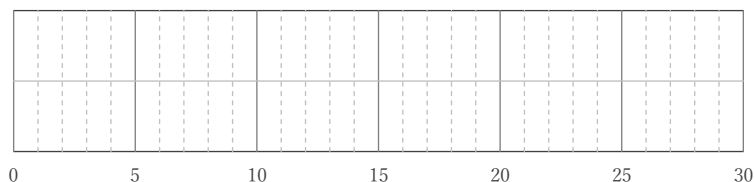
第1四分位数      中央値      第3四分位数

|  |  |  |
|--|--|--|
|  |  |  |
|--|--|--|



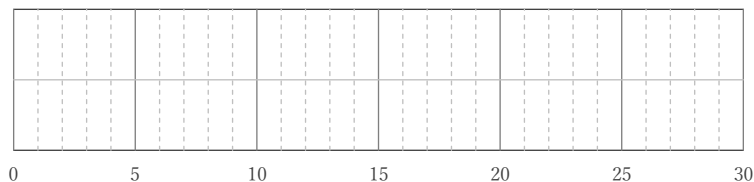
第1四分位数      中央値      第3四分位数

|  |  |  |
|--|--|--|
|  |  |  |
|--|--|--|



第1四分位数      中央値      第3四分位数

|  |  |  |
|--|--|--|
|  |  |  |
|--|--|--|



# 四分位数と箱ひげ図

年 組 名前

/18

■ 玉に書かれた数の第1四分位数、中央値、第3四分位数をそれぞれ答え、箱ひげ図をかきなさい。

