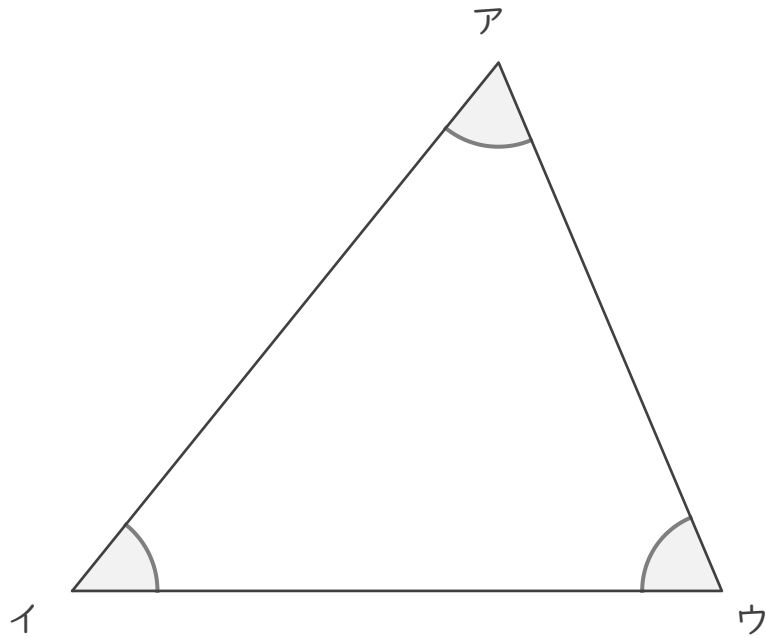


分度器の使い方

____年 ____組 名前 _____

____ / 6

■ 分度器を使って、下の三角形の角の大きさをはかりましょう。



ア

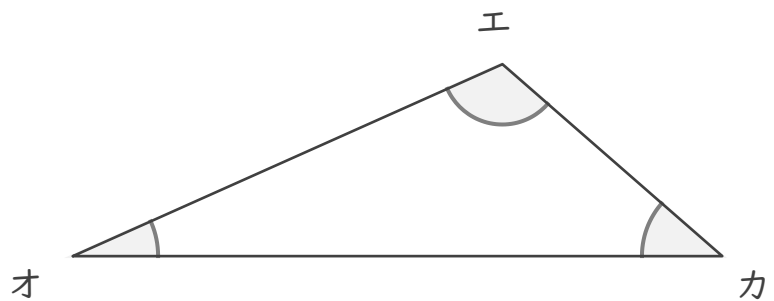
イ

ウ

エ

オ

カ

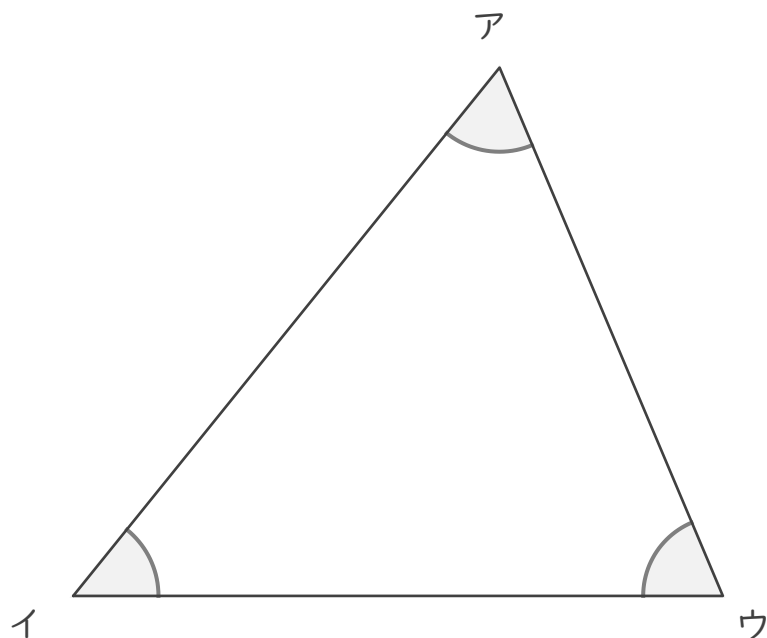


分度器の使い方

年 組 名前

/6

■ 分度器を使って、下の三角形の角の大きさをはかりましょう。



ア 62°

イ 51°

ウ 67°

エ 115°

オ 24°

カ 41°

