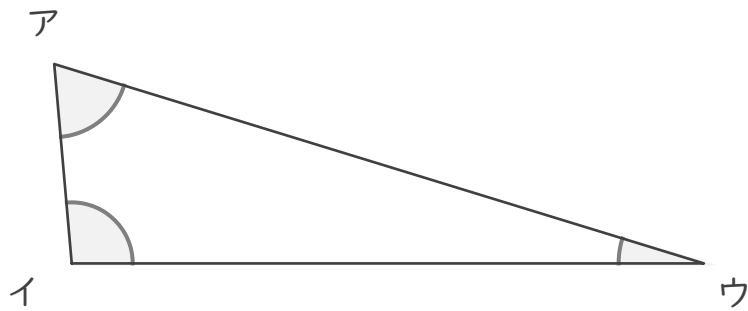


# 分度器の使い方

\_\_\_\_年 \_\_\_\_組 名前

\_\_\_\_ / 6

■ 分度器を使って、下の三角形の角の大きさをはかりましょう。



ア

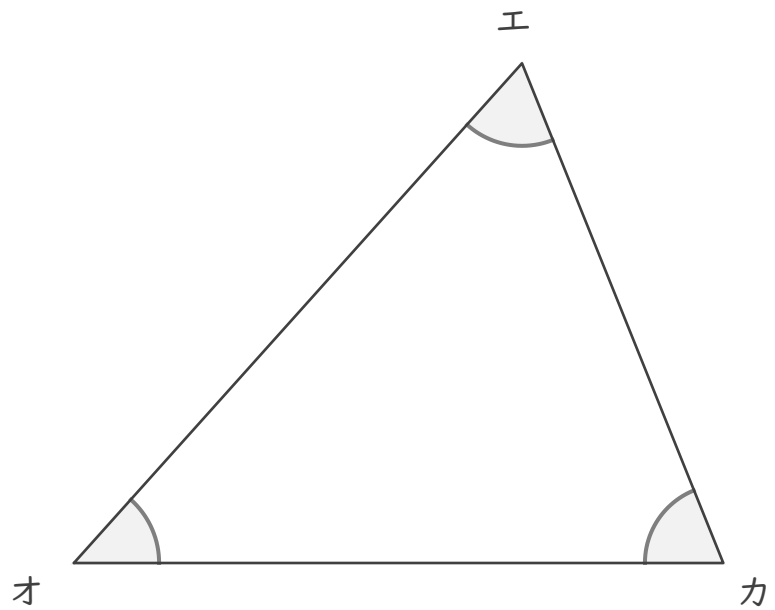
イ

ウ

エ

オ

カ

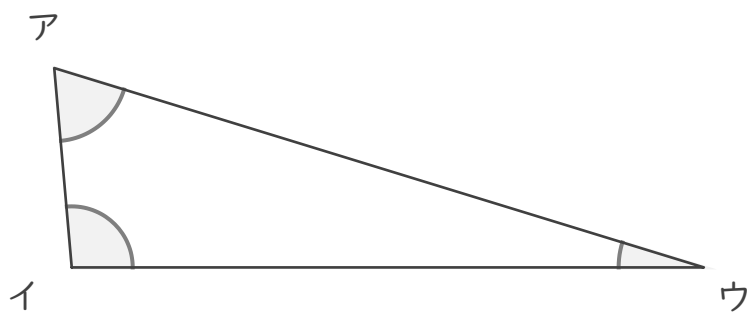


# 分度器の使い方

年 組 名前

/6

■ 分度器を使って、下の三角形の角の大きさをはかりましょう。



ア

68°

イ

95°

ウ

17°

エ

64°

オ

48°

カ

68°

