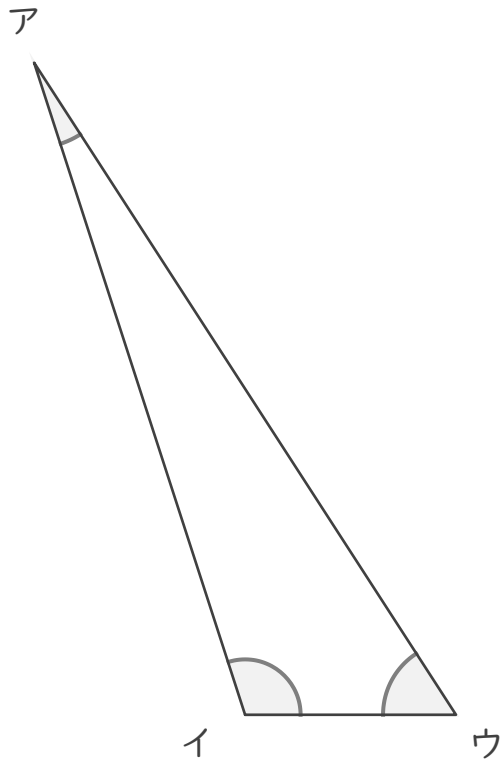


分度器の使い方

____年 ____組 名前

____ / 6

■ 分度器を使って、下の三角形の角の大きさをはかりましょう。



ア

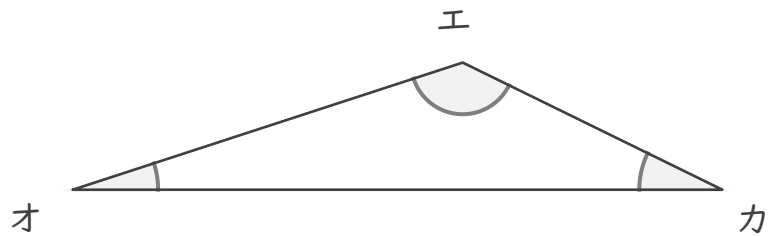
イ

ウ

エ

オ

カ

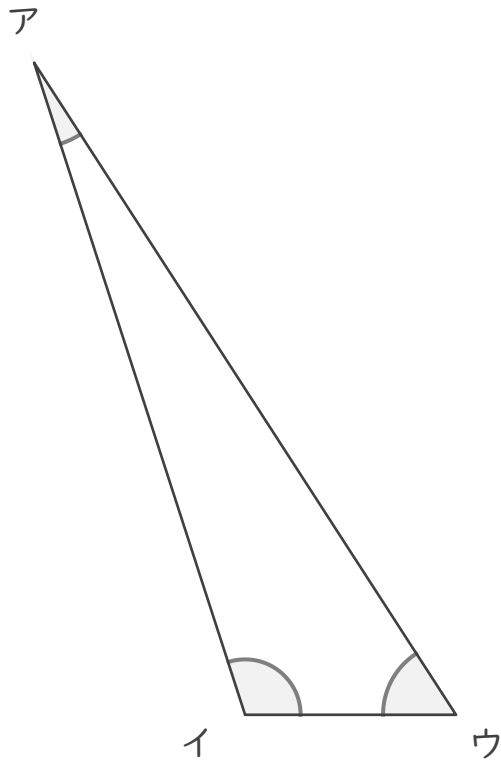


分度器の使い方

年 組 名前

/6

■ 分度器を使って、下の三角形の角の大きさをはかりましょう。



ア 15°

イ 108°

ウ 57°

エ 136°

オ 18°

カ 26°

