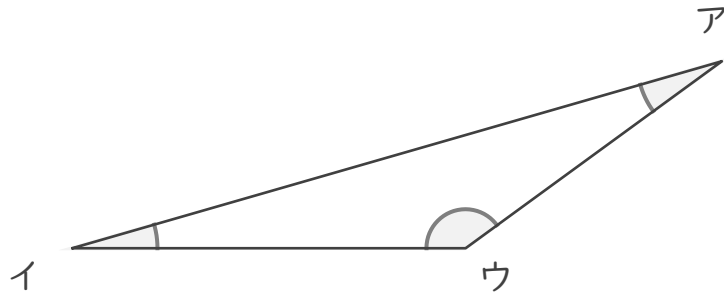


分度器の使い方

____年 ____組 名前

____ / 6

■ 分度器を使って、下の三角形の角の大きさをはかりましょう。



ア

イ

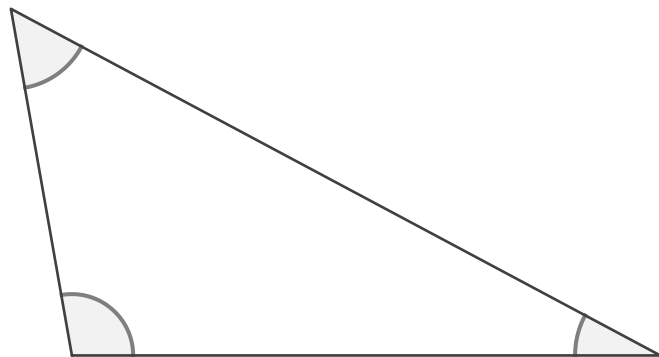
ウ

エ

オ

カ

エ



オ

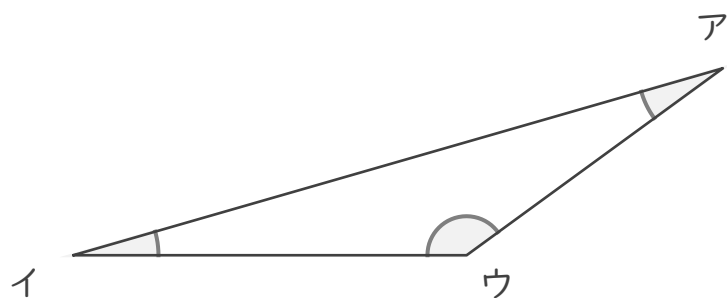
カ

分度器の使い方

年 組 名前

/6

■ 分度器を使って、下の三角形の角の大きさをはかりましょう。



ア

20°

イ

16°

ウ

144°

エ

52°

オ

100°

カ

28°

エ

