

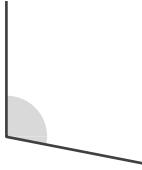
角のおよその大きさ

年 組 名前

/ 5

■ 次の①～⑤の角の大きさは、それぞれア～エのどれかです。どれかを記号で答えましょう。

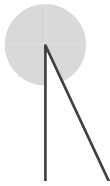
①



- ア. 83°
- イ. 101°
- ウ. 262°
- エ. 280°

答え

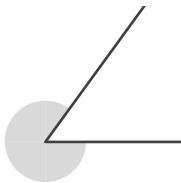
②



- ア. 22°
- イ. 148°
- ウ. 210°
- エ. 335°

答え

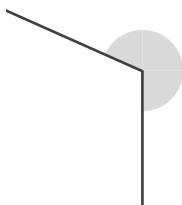
③



- ア. 48°
- イ. 133°
- ウ. 237°
- エ. 306°

答え

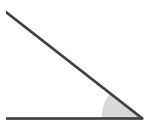
④



- ア. 60°
- イ. 105°
- ウ. 246°
- エ. 286°

答え

⑤



- ア. 38°
- イ. 138°
- ウ. 211°
- エ. 323°

答え

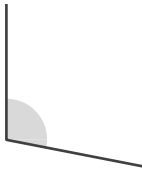
角のおよその大きさ

年 組 名前

/ 5

■ 次の①～⑤の角の大きさは、それぞれア～エのどれかです。どれかを記号で答えましょう。

①

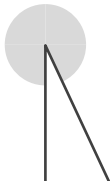


- ア. 83°
- イ. 101°
- ウ. 262°
- エ. 280°

答え

イ

②

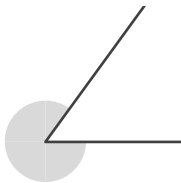


- ア. 22°
- イ. 148°
- ウ. 210°
- エ. 335°

答え

エ

③

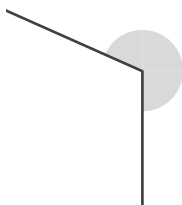


- ア. 48°
- イ. 133°
- ウ. 237°
- エ. 306°

答え

エ

④

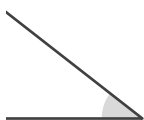


- ア. 60°
- イ. 105°
- ウ. 246°
- エ. 286°

答え

ウ

⑤



- ア. 38°
- イ. 138°
- ウ. 211°
- エ. 323°

答え

ア