

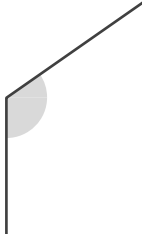
# 角のおよその大きさ

年 組 名前

/ 5

■ 次の①～⑤の角の大きさは、それぞれア～エのどれかです。どれかを記号で答えましょう。

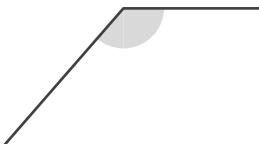
①



- ア.  $62^\circ$
- イ.  $125^\circ$
- ウ.  $242^\circ$
- エ.  $297^\circ$

答え

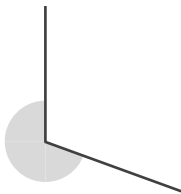
②



- ア.  $56^\circ$
- イ.  $131^\circ$
- ウ.  $228^\circ$
- エ.  $310^\circ$

答え

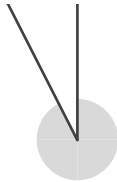
③



- ア.  $75^\circ$
- イ.  $106^\circ$
- ウ.  $250^\circ$
- エ.  $283^\circ$

答え

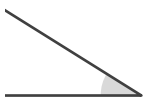
④



- ア.  $24^\circ$
- イ.  $160^\circ$
- ウ.  $197^\circ$
- エ.  $333^\circ$

答え

⑤



- ア.  $32^\circ$
- イ.  $153^\circ$
- ウ.  $222^\circ$
- エ.  $338^\circ$

答え

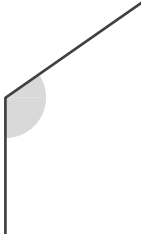
# 角のおよその大きさ

年 組 名前

/ 5

■ 次の①～⑤の角の大きさは、それぞれア～エのどれかです。どれかを記号で答えましょう。

①

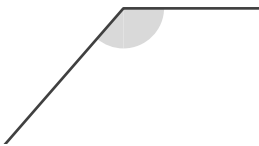


- ア.  $62^\circ$
- イ.  $125^\circ$
- ウ.  $242^\circ$
- エ.  $297^\circ$

答え

イ

②

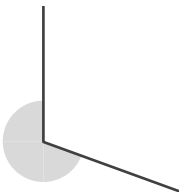


- ア.  $56^\circ$
- イ.  $131^\circ$
- ウ.  $228^\circ$
- エ.  $310^\circ$

答え

イ

③



- ア.  $75^\circ$
- イ.  $106^\circ$
- ウ.  $250^\circ$
- エ.  $283^\circ$

答え

ウ

④



- ア.  $24^\circ$
- イ.  $160^\circ$
- ウ.  $197^\circ$
- エ.  $333^\circ$

答え

エ

⑤



- ア.  $32^\circ$
- イ.  $153^\circ$
- ウ.  $222^\circ$
- エ.  $338^\circ$

答え

ア