

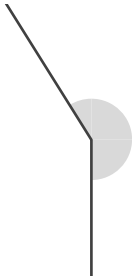
角のおよその大きさ

年 組 名前

/ 5

■ 次の①～⑤の角の大きさは、それぞれア～エのどれかです。どれかを記号で答えましょう。

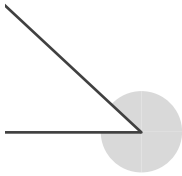
①



- ア. 28°
- イ. 151°
- ウ. 212°
- エ. 333°

答え

②



- ア. 33°
- イ. 144°
- ウ. 230°
- エ. 317°

答え

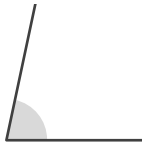
③



- ア. 24°
- イ. 154°
- ウ. 215°
- エ. 335°

答え

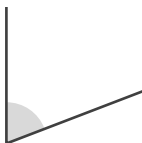
④



- ア. 78°
- イ. 112°
- ウ. 267°
- エ. 276°

答え

⑤



- ア. 69°
- イ. 115°
- ウ. 246°
- エ. 294°

答え

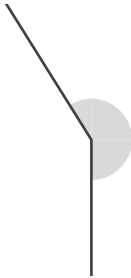
角のおよその大きさ

年 組 名前

/ 5

■ 次の①～⑤の角の大きさは、それぞれア～エのどれかです。どれかを記号で答えましょう。

①

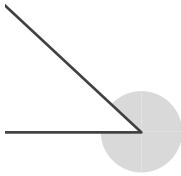


- ア. 28°
- イ. 151°
- ウ. 212°
- エ. 333°

答え

ウ

②



- ア. 33°
- イ. 144°
- ウ. 230°
- エ. 317°

答え

エ

③

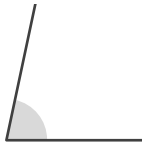


- ア. 24°
- イ. 154°
- ウ. 215°
- エ. 335°

答え

イ

④

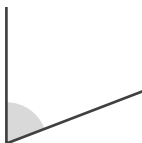


- ア. 78°
- イ. 112°
- ウ. 267°
- エ. 276°

答え

ア

⑤



- ア. 69°
- イ. 115°
- ウ. 246°
- エ. 294°

答え

ア