

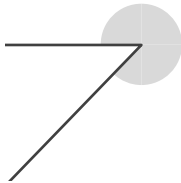
# 角のおよその大きさ

\_\_\_\_年 \_\_\_\_組 名前

/ 5

■ 次の①～⑤の角の大きさは、それぞれア～エのどれかです。どれかを記号で答えましょう。

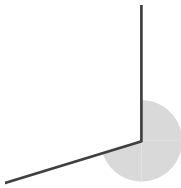
①



- ア.  $55^\circ$
- イ.  $132^\circ$
- ウ.  $217^\circ$
- エ.  $314^\circ$

答え

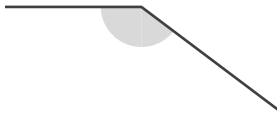
②



- ア.  $81^\circ$
- イ.  $111^\circ$
- ウ.  $253^\circ$
- エ.  $281^\circ$

答え

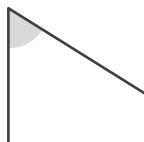
③



- ア.  $34^\circ$
- イ.  $143^\circ$
- ウ.  $207^\circ$
- エ.  $313^\circ$

答え

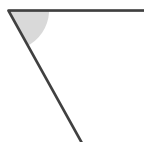
④



- ア.  $58^\circ$
- イ.  $130^\circ$
- ウ.  $228^\circ$
- エ.  $293^\circ$

答え

⑤



- ア.  $61^\circ$
- イ.  $110^\circ$
- ウ.  $236^\circ$
- エ.  $296^\circ$

答え

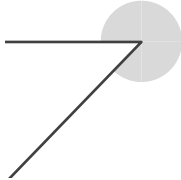
# 角のおよその大きさ

年 組 名前

/ 5

■ 次の①～⑤の角の大きさは、それぞれア～エのどれかです。どれかを記号で答えましょう。

①

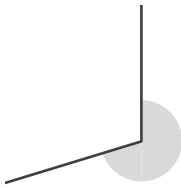


- ア.  $55^\circ$
- イ.  $132^\circ$
- ウ.  $217^\circ$
- エ.  $314^\circ$

答え

エ

②

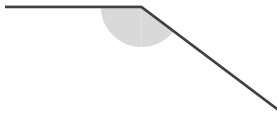


- ア.  $81^\circ$
- イ.  $111^\circ$
- ウ.  $253^\circ$
- エ.  $281^\circ$

答え

ウ

③

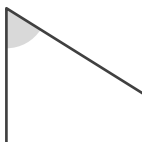


- ア.  $34^\circ$
- イ.  $143^\circ$
- ウ.  $207^\circ$
- エ.  $313^\circ$

答え

イ

④

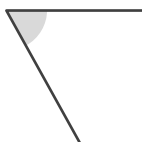


- ア.  $58^\circ$
- イ.  $130^\circ$
- ウ.  $228^\circ$
- エ.  $293^\circ$

答え

ア

⑤



- ア.  $61^\circ$
- イ.  $110^\circ$
- ウ.  $236^\circ$
- エ.  $296^\circ$

答え

ア