

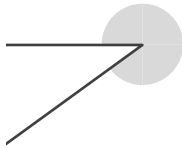
角のおよその大きさ

年 組 名前

/ 5

■ 次の①～⑤の角の大きさは、それぞれア～エのどれかです。どれかを記号で答えましょう。

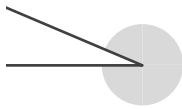
①



- ア. 46°
- イ. 153°
- ウ. 212°
- エ. 324°

答え

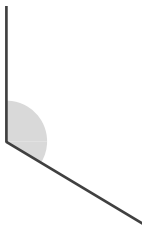
②



- ア. 33°
- イ. 154°
- ウ. 208°
- エ. 337°

答え

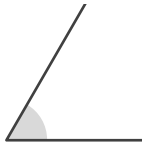
③



- ア. 54°
- イ. 121°
- ウ. 242°
- エ. 296°

答え

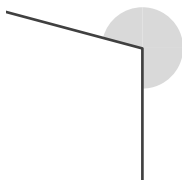
④



- ア. 60°
- イ. 129°
- ウ. 237°
- エ. 294°

答え

⑤



- ア. 71°
- イ. 99°
- ウ. 255°
- エ. 279°

答え

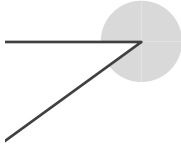
角のおよその大きさ

年 組 名前

/ 5

■ 次の①～⑤の角の大きさは、それぞれア～エのどれかです。どれかを記号で答えましょう。

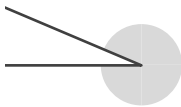
①



- ア. 46°
- イ. 153°
- ウ. 212°
- エ. 324°

答え **エ**

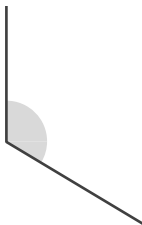
②



- ア. 33°
- イ. 154°
- ウ. 208°
- エ. 337°

答え **エ**

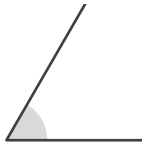
③



- ア. 54°
- イ. 121°
- ウ. 242°
- エ. 296°

答え **イ**

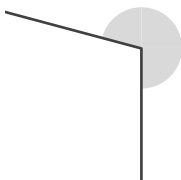
④



- ア. 60°
- イ. 129°
- ウ. 237°
- エ. 294°

答え **ア**

⑤



- ア. 71°
- イ. 99°
- ウ. 255°
- エ. 279°

答え **ウ**