

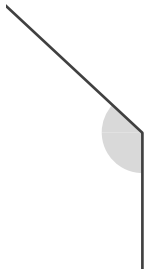
角のおよその大きさ

年 組 名前

/ 5

■ 次の①～⑤の角の大きさは、それぞれア～エのどれかです。どれかを記号で答えましょう。

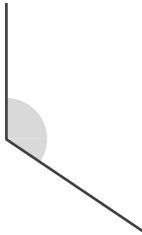
①



- ア. 57°
- イ. 133°
- ウ. 217°
- エ. 315°

答え

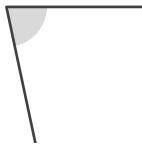
②



- ア. 58°
- イ. 124°
- ウ. 239°
- エ. 313°

答え

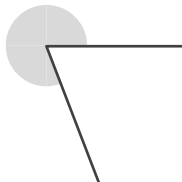
③



- ア. 78°
- イ. 101°
- ウ. 266°
- エ. 272°

答え

④



- ア. 67°
- イ. 101°
- ウ. 245°
- エ. 291°

答え

⑤



- ア. 17°
- イ. 167°
- ウ. 200°
- エ. 349°

答え

角のおよその大きさ

年 組 名前

/ 5

■ 次の①～⑤の角の大きさは、それぞれア～エのどれかです。どれかを記号で答えましょう。

①

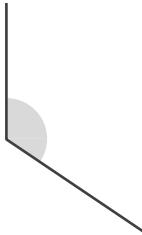


- ア. 57°
- イ. 133°
- ウ. 217°
- エ. 315°

答え

イ

②

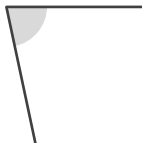


- ア. 58°
- イ. 124°
- ウ. 239°
- エ. 313°

答え

イ

③

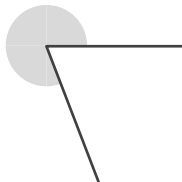


- ア. 78°
- イ. 101°
- ウ. 266°
- エ. 272°

答え

ア

④



- ア. 67°
- イ. 101°
- ウ. 245°
- エ. 291°

答え

エ

⑤



- ア. 17°
- イ. 167°
- ウ. 200°
- エ. 349°

答え

ウ