

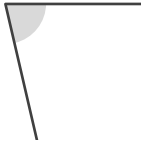
角のおよその大きさ

年 組 名前

/ 5

■ 次の①～⑤の角の大きさは、それぞれア～エのどれかです。どれかを記号で答えましょう。

①



- ア. 77°
- イ. 109°
- ウ. 252°
- エ. 288°

答え

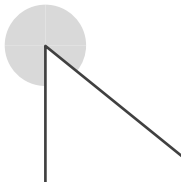
②



- ア. 14°
- イ. 160°
- ウ. 196°
- エ. 331°

答え

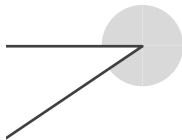
③



- ア. 60°
- イ. 126°
- ウ. 224°
- エ. 309°

答え

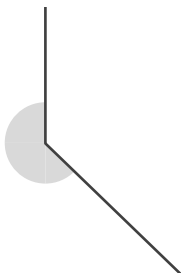
④



- ア. 31°
- イ. 141°
- ウ. 220°
- エ. 326°

答え

⑤



- ア. 41°
- イ. 132°
- ウ. 226°
- エ. 311°

答え

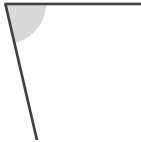
角のおよその大きさ

年 組 名前

/ 5

■ 次の①～⑤の角の大きさは、それぞれア～エのどれかです。どれかを記号で答えましょう。

①



- ア. 77°
- イ. 109°
- ウ. 252°
- エ. 288°

答え

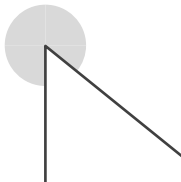
②



- ア. 14°
- イ. 160°
- ウ. 196°
- エ. 331°

答え

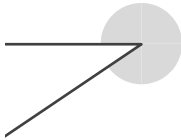
③



- ア. 60°
- イ. 126°
- ウ. 224°
- エ. 309°

答え

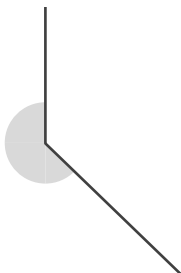
④



- ア. 31°
- イ. 141°
- ウ. 220°
- エ. 326°

答え

⑤



- ア. 41°
- イ. 132°
- ウ. 226°
- エ. 311°

答え