

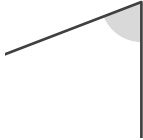
角のおよその大きさ

年 組 名前

/ 5

■ 次の①～⑤の角の大きさは、それぞれア～エのどれかです。どれかを記号で答えましょう。

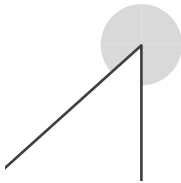
①



- ア. 69°
- イ. 103°
- ウ. 257°
- エ. 289°

答え

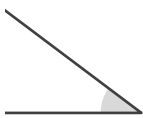
②



- ア. 53°
- イ. 134°
- ウ. 237°
- エ. 312°

答え

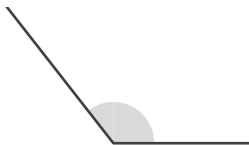
③



- ア. 37°
- イ. 138°
- ウ. 225°
- エ. 315°

答え

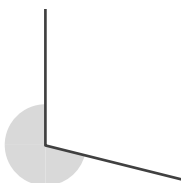
④



- ア. 57°
- イ. 128°
- ウ. 240°
- エ. 307°

答え

⑤



- ア. 86°
- イ. 95°
- ウ. 256°
- エ. 283°

答え

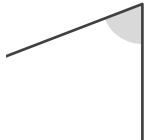
角のおよその大きさ

____年 ____組 名前

/ 5

■ 次の①～⑤の角の大きさは、それぞれア～エのどれかです。どれかを記号で答えましょう。

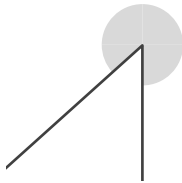
①



- ア. 69°
- イ. 103°
- ウ. 257°
- エ. 289°

答え

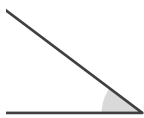
②



- ア. 53°
- イ. 134°
- ウ. 237°
- エ. 312°

答え

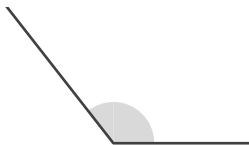
③



- ア. 37°
- イ. 138°
- ウ. 225°
- エ. 315°

答え

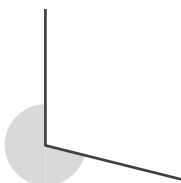
④



- ア. 57°
- イ. 128°
- ウ. 240°
- エ. 307°

答え

⑤



- ア. 86°
- イ. 95°
- ウ. 256°
- エ. 283°

答え