

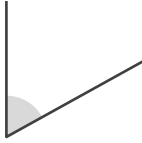
角のおよその大きさ

年 組 名前

/ 5

■ 次の①～⑤の角の大きさは、それぞれア～エのどれかです。どれかを記号で答えましょう。

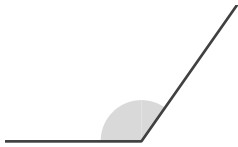
①



- ア. 61°
- イ. 122°
- ウ. 240°
- エ. 307°

答え

②



- ア. 54°
- イ. 125°
- ウ. 239°
- エ. 301°

答え

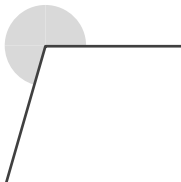
③



- ア. 22°
- イ. 154°
- ウ. 208°
- エ. 339°

答え

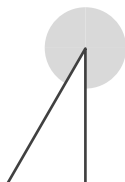
④



- ア. 78°
- イ. 100°
- ウ. 254°
- エ. 276°

答え

⑤



- ア. 34°
- イ. 147°
- ウ. 203°
- エ. 330°

答え

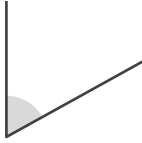
角のおよその大きさ

____年 ____組 名前

/ 5

■ 次の①～⑤の角の大きさは、それぞれア～エのどれかです。どれかを記号で答えましょう。

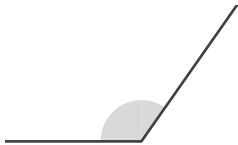
①



- ア. 61°
- イ. 122°
- ウ. 240°
- エ. 307°

答え

②



- ア. 54°
- イ. 125°
- ウ. 239°
- エ. 301°

答え

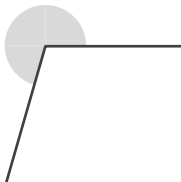
③



- ア. 22°
- イ. 154°
- ウ. 208°
- エ. 339°

答え

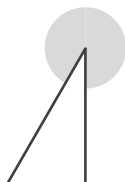
④



- ア. 78°
- イ. 100°
- ウ. 254°
- エ. 276°

答え

⑤



- ア. 34°
- イ. 147°
- ウ. 203°
- エ. 330°

答え