

# 角のおよその大きさ

\_\_\_\_年 \_\_\_\_組 名前

/ 5

■ 次の①～⑤の角の大きさは、それぞれア～エのどれかです。どれかを記号で答えましょう。

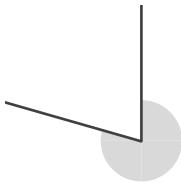
①



- ア.  $61^\circ$
- イ.  $109^\circ$
- ウ.  $233^\circ$
- エ.  $289^\circ$

答え

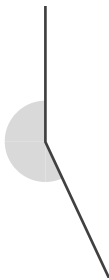
②



- ア.  $67^\circ$
- イ.  $109^\circ$
- ウ.  $245^\circ$
- エ.  $286^\circ$

答え

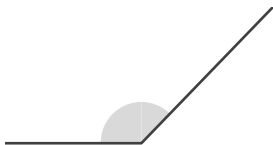
③



- ア.  $20^\circ$
- イ.  $152^\circ$
- ウ.  $205^\circ$
- エ.  $325^\circ$

答え

④



- ア.  $56^\circ$
- イ.  $134^\circ$
- ウ.  $232^\circ$
- エ.  $304^\circ$

答え

⑤



- ア.  $30^\circ$
- イ.  $144^\circ$
- ウ.  $212^\circ$
- エ.  $322^\circ$

答え

# 角のおよその大きさ

\_\_\_\_年 \_\_\_\_組 名前

/ 5

■ 次の①～⑤の角の大きさは、それぞれア～エのどれかです。どれかを記号で答えましょう。

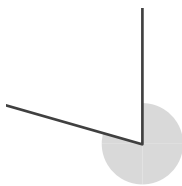
①



- ア.  $61^\circ$
- イ.  $109^\circ$
- ウ.  $233^\circ$
- エ.  $289^\circ$

答え

②



- ア.  $67^\circ$
- イ.  $109^\circ$
- ウ.  $245^\circ$
- エ.  $286^\circ$

答え

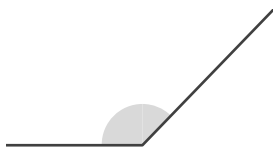
③



- ア.  $20^\circ$
- イ.  $152^\circ$
- ウ.  $205^\circ$
- エ.  $325^\circ$

答え

④



- ア.  $56^\circ$
- イ.  $134^\circ$
- ウ.  $232^\circ$
- エ.  $304^\circ$

答え

⑤



- ア.  $30^\circ$
- イ.  $144^\circ$
- ウ.  $212^\circ$
- エ.  $322^\circ$

答え