
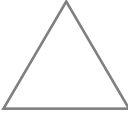
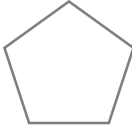

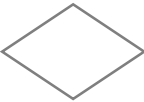




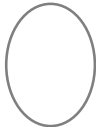




■ 次の図形が線対称、点対称な図形であるかをそれぞれ考え、そうであれば「○」、違っていれば「×」を書きこみましょう。

図形	 平行四辺形	 正三角形	 正五角形	
線対称				
点対称				

図形	 ひし形	 正六角形		
線対称				
点対称				


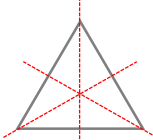
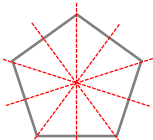
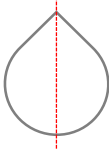
図形	 円	 だ円	 正八角形	 長方形
線対称				
点対称				

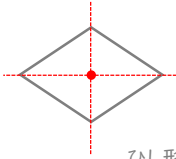
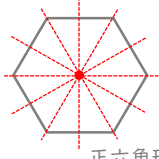
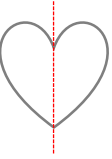
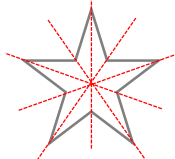
線対称・点対称


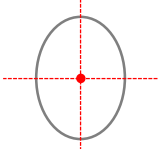
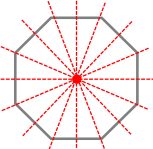
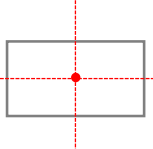
年 組 名前

/24

■ 次の図形が線対称、点対称な図形であるかをそれぞれ考え、そうであれば「○」、違っていれば「×」を書きこみましょう。

図形	 平行四辺形	 正三角形	 正五角形	
線対称	×	○	○	○
点対称	○	×	×	×

図形	 ひし形	 正六角形		
線対称	○	○	○	○
点対称	○	○	×	×

図形	 円	 だ円	 正八角形	 長方形
線対称	○	○	○	○
点対称	○	○	○	○