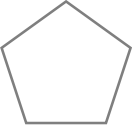


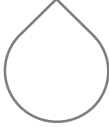



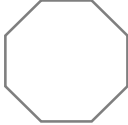


線対称・点対称

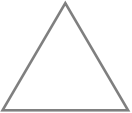



____年 ____組 名前 _____

/24

■ 次の図形が線対称、点対称な図形であるかをそれぞれ考え、そうであれば「○」、違っていれば「×」を書きこみましょう。

図形	 正五角形		 平行四辺形	
線対称				
点対称				

図形	 長方形	 正八角形		 正方形
線対称				
点対称				

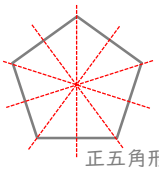
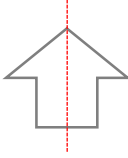

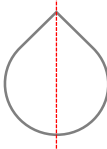
図形	 正三角形	 円		 だ円
線対称				
点対称				

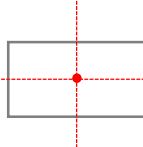
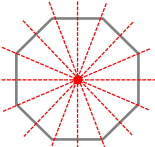
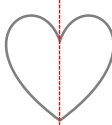
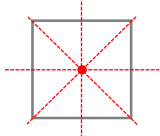
線対称・点対称

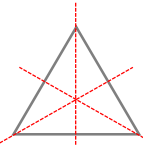

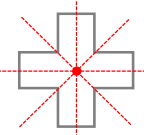
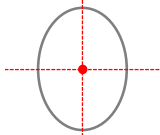
____年 ____組 名前 _____

/24

■ 次の図形が線対称、点対称な図形であるかをそれぞれ考え、そうであれば「○」、違っていれば「×」を書きこみましょう。

図形	 正五角形		 平行四辺形	
線対称	○	○	×	○
点対称	×	×	○	×

図形	 長方形	 正八角形		 正方形
線対称	○	○	○	○
点対称	○	○	×	○

図形	 正三角形	 円		 だ円
線対称	○	○	○	○
点対称	×	○	○	○